

透明な紙に書かれている左の形を点線の所で矢印の方に折るとどのような形になりますか。
鉛筆で書きなさい。

45秒 □ 1分30秒 □ 2分30秒

ハイハイレベル



透明な紙に書かれている左の形を点線の所で矢印の方に折るとどのような形になりますか。
右から1つ選んで○を付けなさい。

45秒 □ 1分30秒 □ 2分30秒

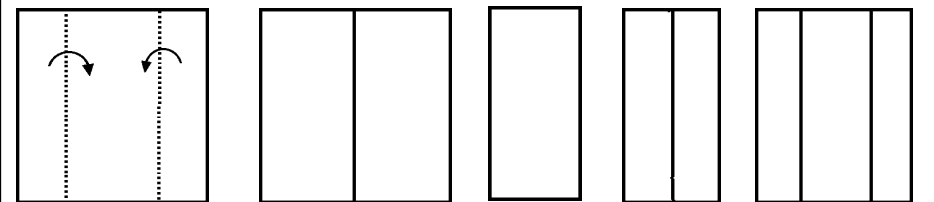
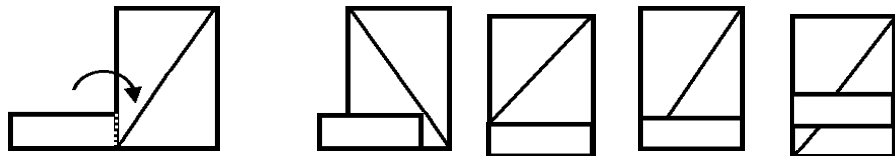

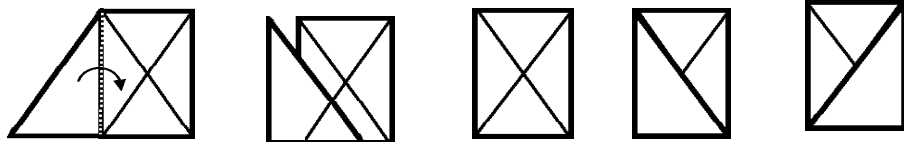
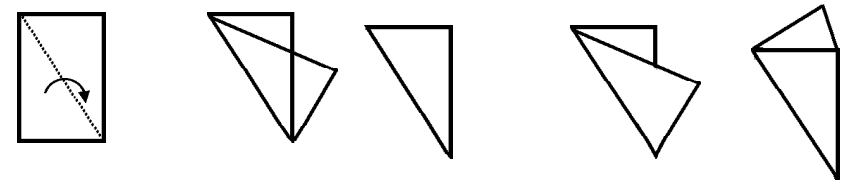
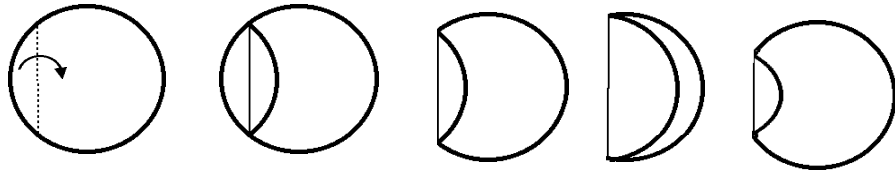
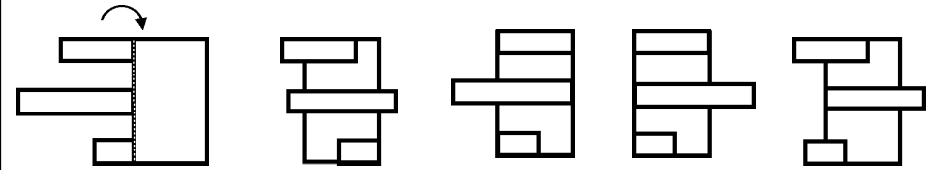
左はしの透明な紙の点線の所を折りました。どのような形になったでしょうか。○を付けなさい。

1分～1分45秒～2分45秒

左はしの透明でない普通の紙の点線の所を折りました。どのような形になったでしょうか。○を付けなさい。

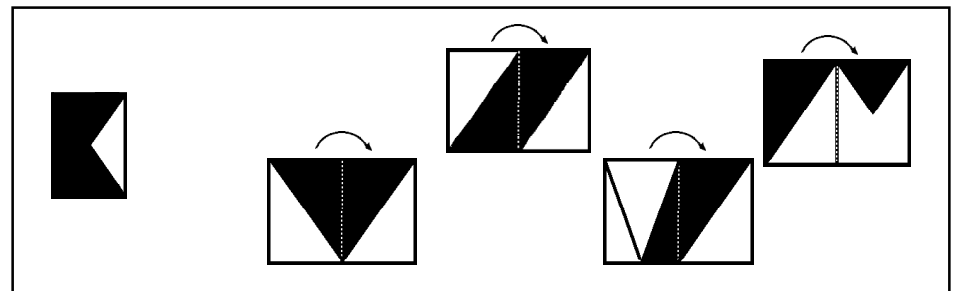
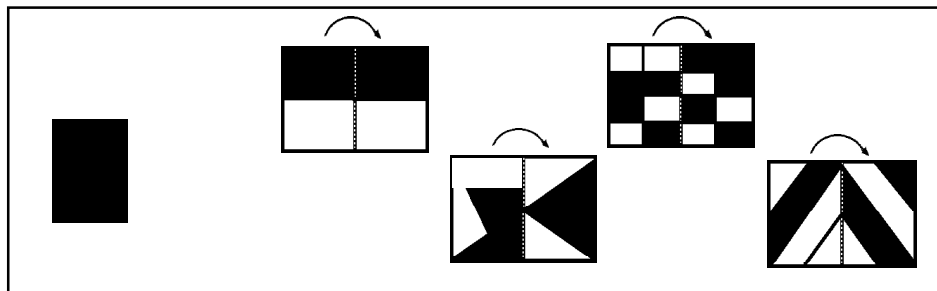
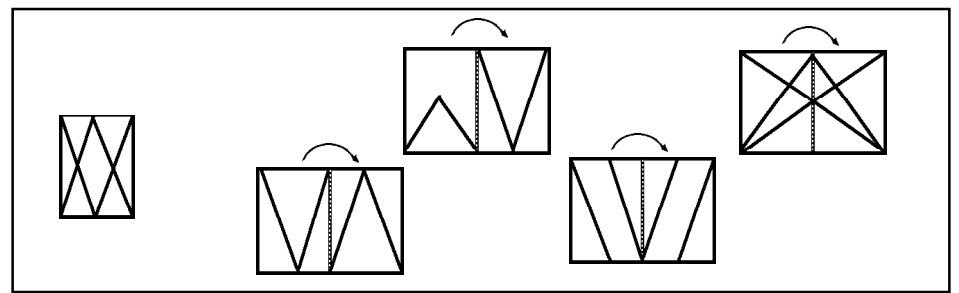
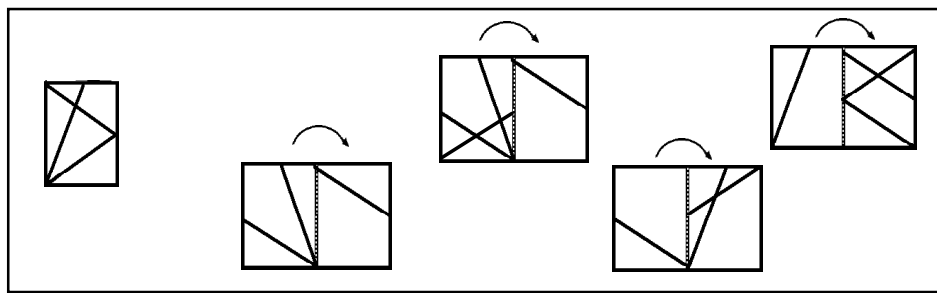
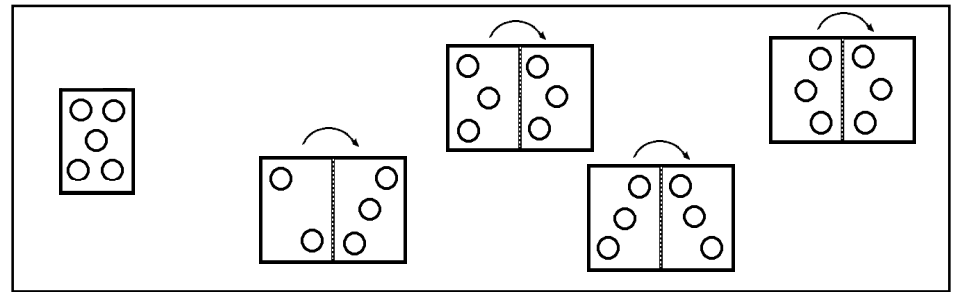
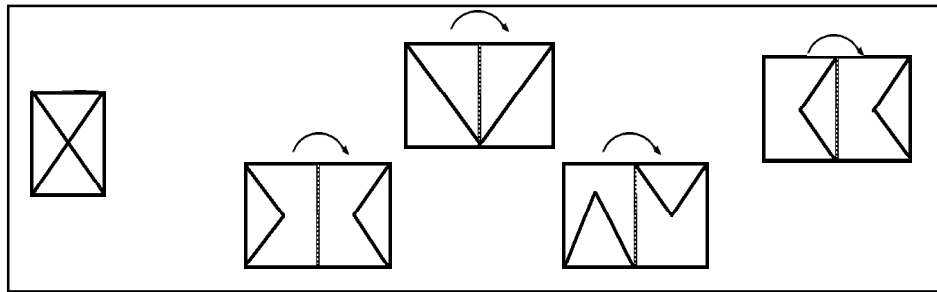
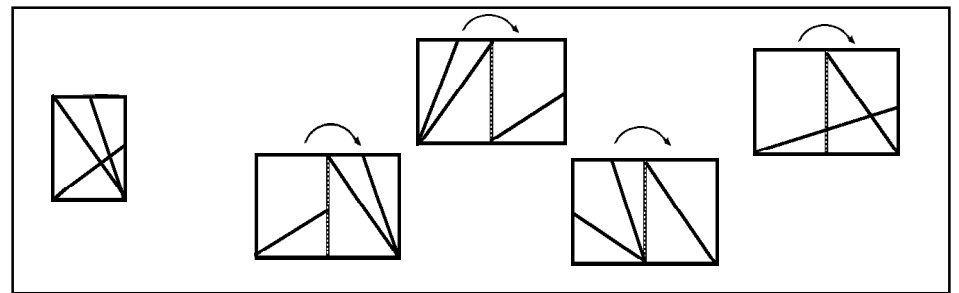
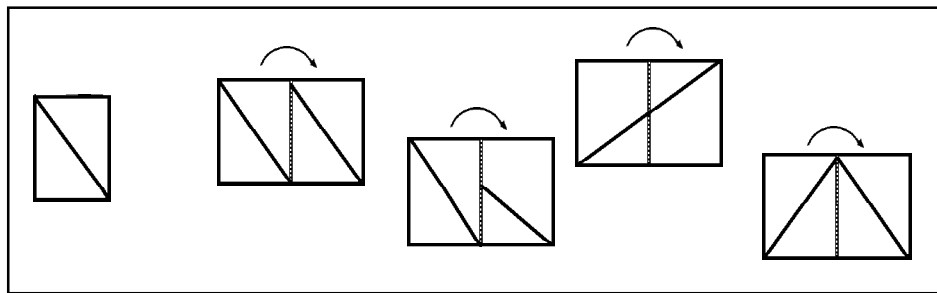
1分～1分45秒～2分45秒

こんどは
とうめいではない
かみだよ。
ちゅういしてね。


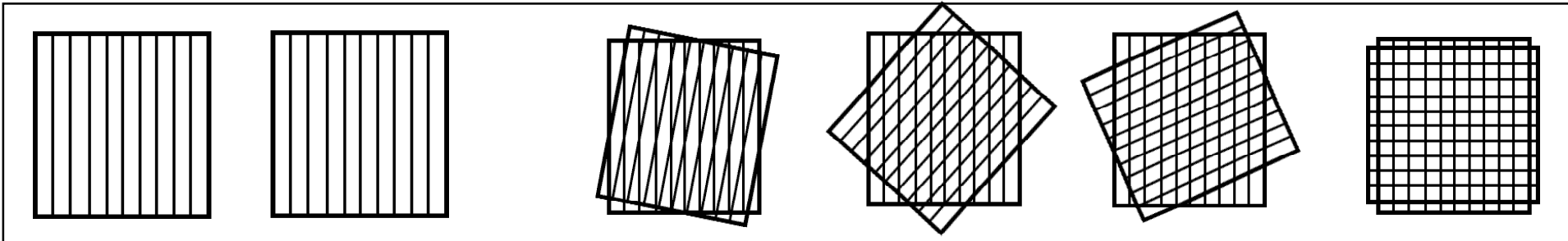


左はしの形は右のどの形の点線の所を矢印の方へ折ったものですか。○を付けなさい。

1分～1分45秒～2分45秒



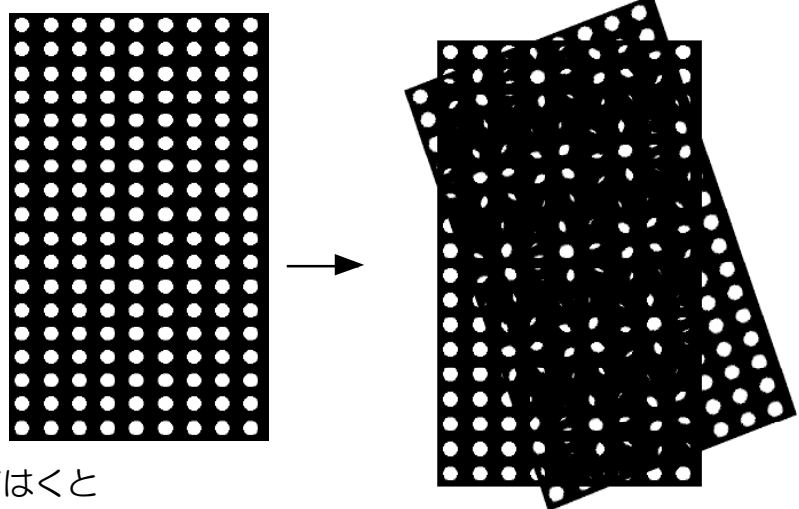
モアシ (きそくただしいかたちが かさなってできる ふしぎな もよう)



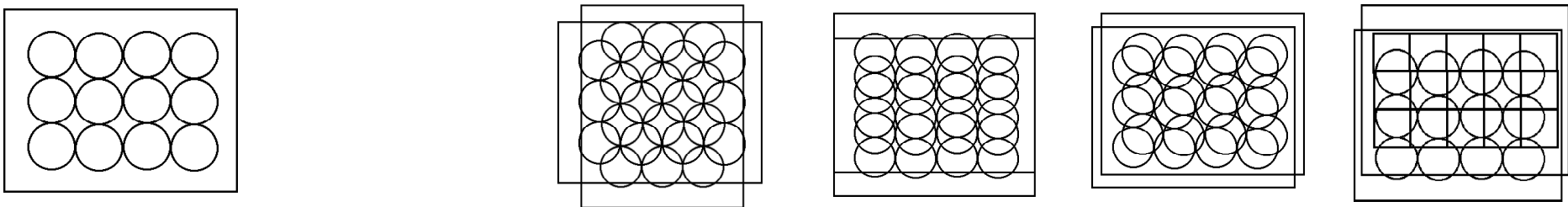
かさなった
すだれにできたもよう



おかあさんが ストッキングをかさねてはくと
ふしぎな もようができるぞ～



下の左はしの透明な形を2枚重ねて出来ないのはどれですか。○を付けなさい。



左はしの透明な紙に書かれている形を点線の所で順番に折ります。最後はどのような形になるでしょうか。○を付けなさい。

2分～2分15秒～3分

左はしの透明な紙に書かれている形を点線の所で折ります。どのような形になるでしょうか。○を付けなさい。

1分～1分15秒～2分

左はしの透明な紙に書かれている形を点線の所を谷折りします。どのような形になるでしょうか。○を付けなさい。


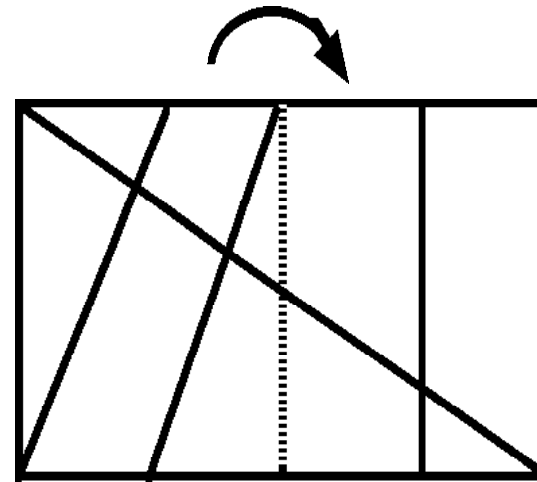

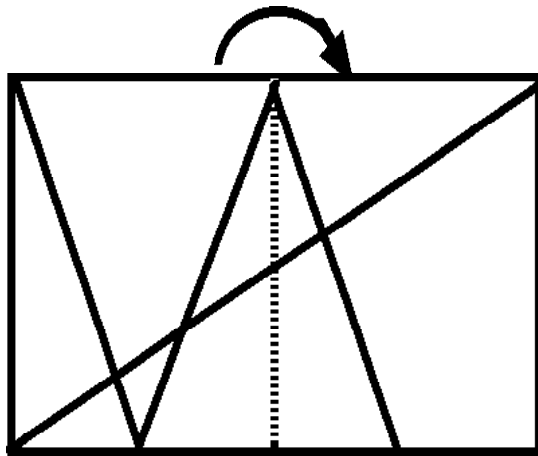
1分～1分15秒～2分

左はしの透明な紙に書かれている形を点線の所を折りました。どのような形になるでしょうか。○を付けなさい。

1分～1分15秒～2分

左はしの透明な紙に書かれている形を点線の所を折りました。どのような形になるでしょうか鉛筆で丁寧に線を引きなさい。


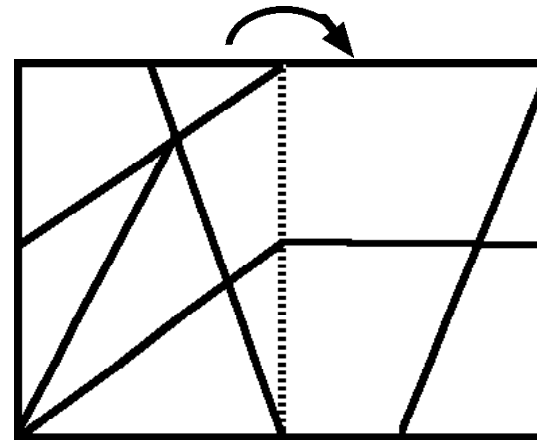

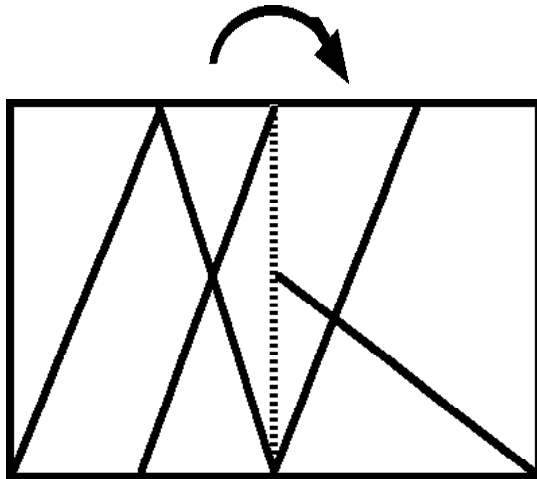
1分30秒～2分15秒～3分



がんばってね～



このもんだいが
きれいに
ただしく かけたら
きみはてんさい！！



25

26

27

28

29

30

31

32

33

34

35

36