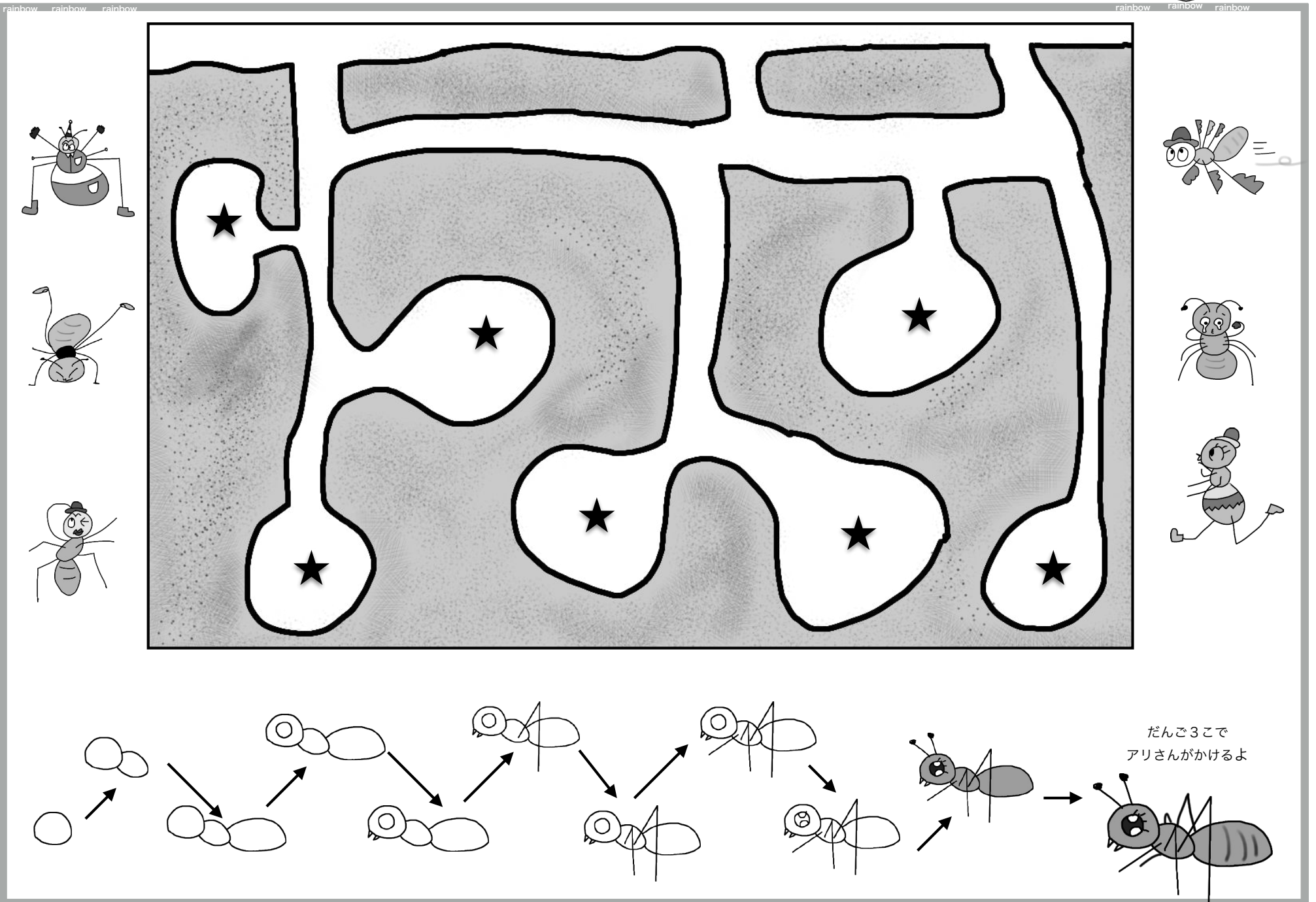


部屋にいるアリの数を覚えましょう。









アリさんが部屋にいましたね。1匹から7匹まで順番に★印を緑色の線でつなぎましょう。



rainbow rainbow rainbow

rainbow rainbow rainbow



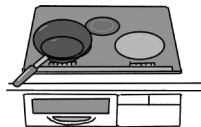





一問一問プリントを裏返して問題をしましょう。今からお話する物と合うところに小さく赤色で○をつけましょう。

- パイナップルの問題 ジュースの入ったコップのストロー、ドーナツがのっていないお皿、自動車の後のタイヤ。
- バナナの問題 カレーライスのスプーン、カンガルーのこども、キツネのしっぽ。
- リンゴの問題 テーブルのあし、バケツにかけてある雑巾、サンタクロースの袋。
- レモンの問題 ベットの上的枕、背広のえり、馬のたてがみ。

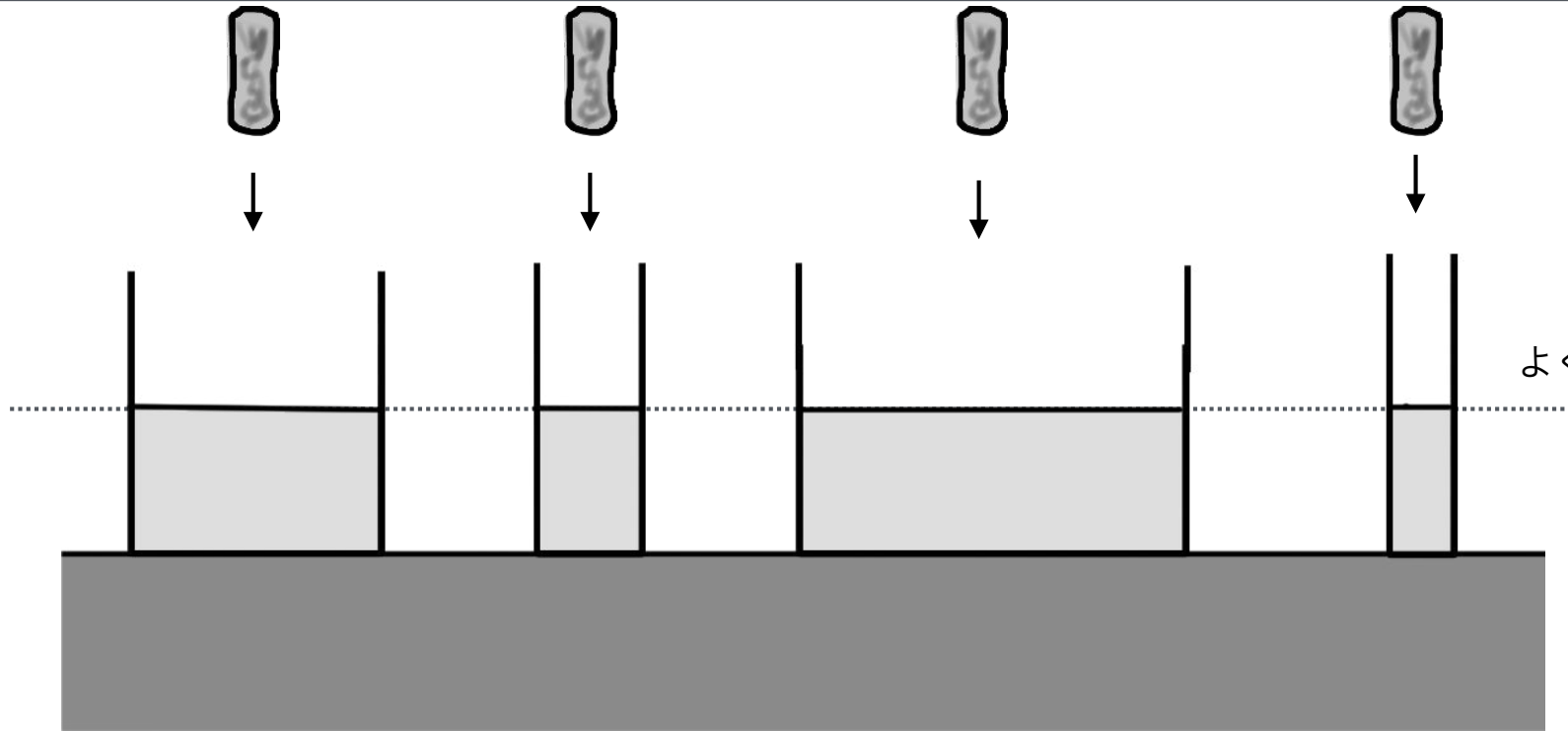
rainbow rainbow rainbow





rainbow rainbow rainbow

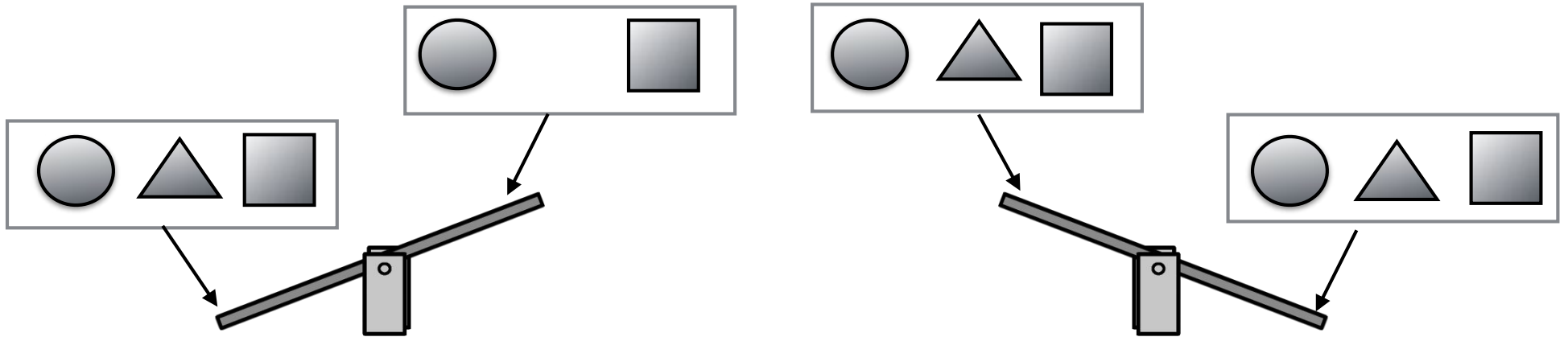
rainbow rainbow rainbow



よくかんがえてね









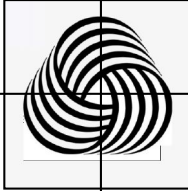


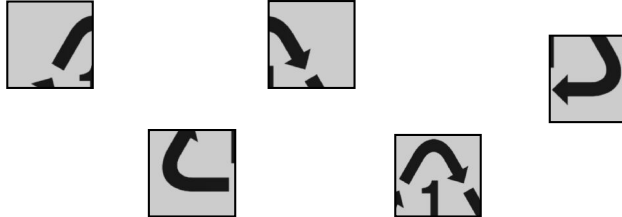
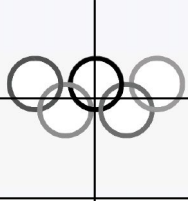
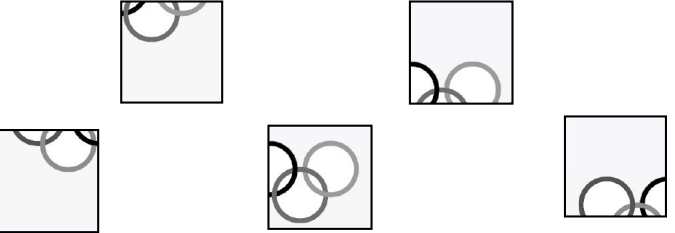

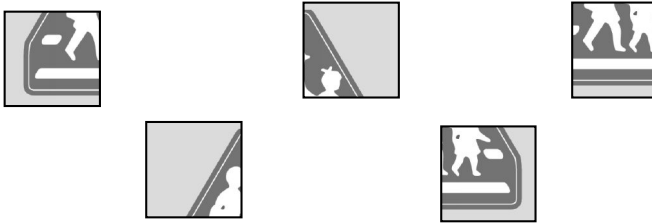
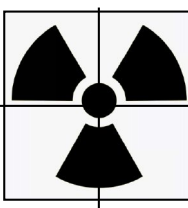
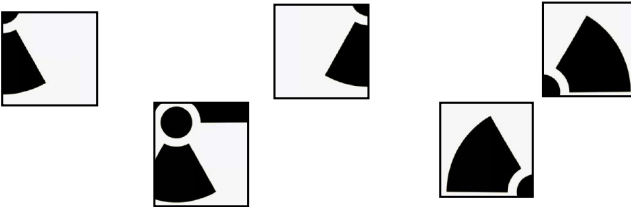


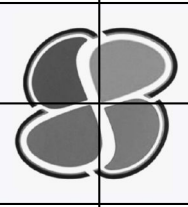
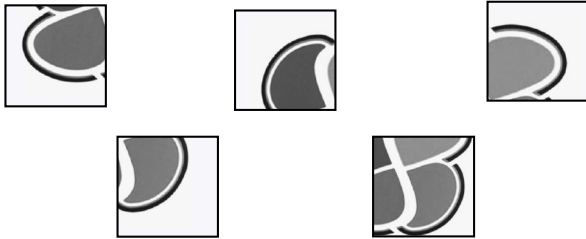
水が入っている水槽に同じ石を入れました。水の高さはどうなると思いますか。想像して青色で線を引きましょう。(線を引く場所よりお互いの比較による位置関係があてればOK)



●が1番重たくて2番目に重たいのが■、1番軽いものが▲になるようにするにはどこにどれをのせたらよいですか、青色でをつけましょう。

rainbow rainbow rainbow




| | | | |
|--|--|---|---|
|  |  | <p>グットデザインマーク</p>  |  |
| <p>ベルマーク</p>  |  | <p>ウールマーク</p>  |  |
|  |  |  |  |
|  |  | <p>放射性標識</p>  |  |
|  |  | <p>高齢者マーク</p>  |  |

左のマークをつくるのに使わないものを1つ見つけて緑色で○をつけましょう。



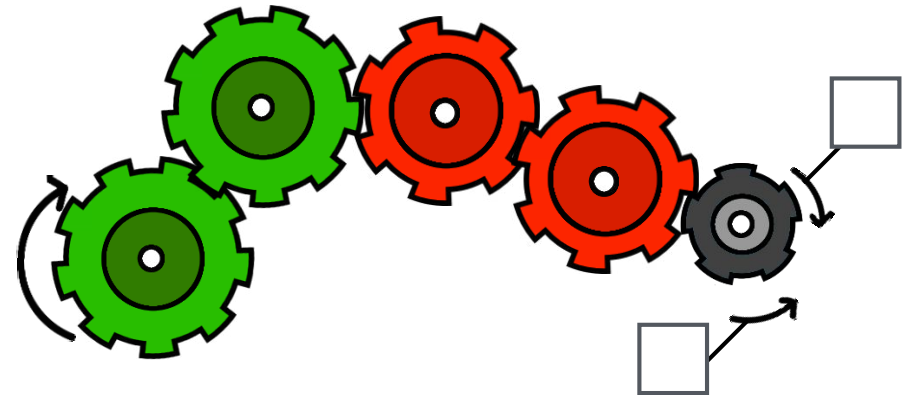
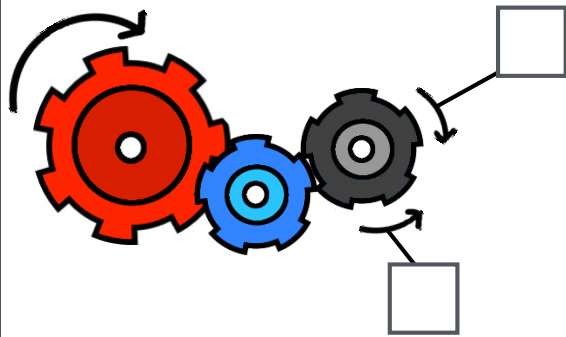

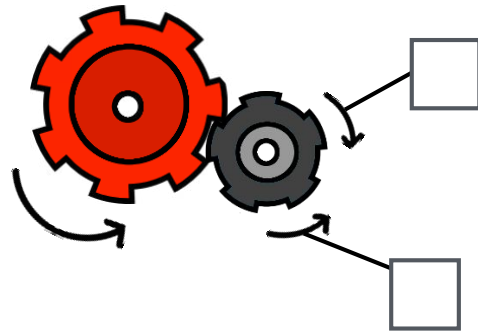


rainbow rainbow rainbow

rainbow rainbow rainbow



ビック・ベンのはぐるま



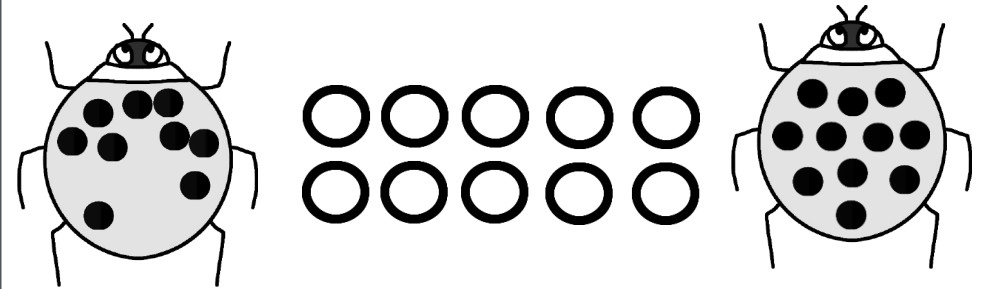


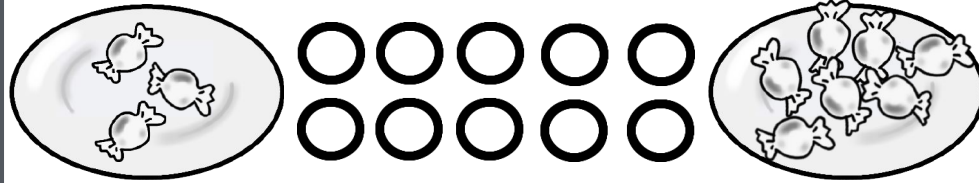
rainbow rainbow rainbow

左端の歯車を矢印の方に回すと最後の黒い歯車はどちらの矢印の方に回りますか。回る方の四角の中に赤色で○をかきましょう。







rainbow rainbow rainbow

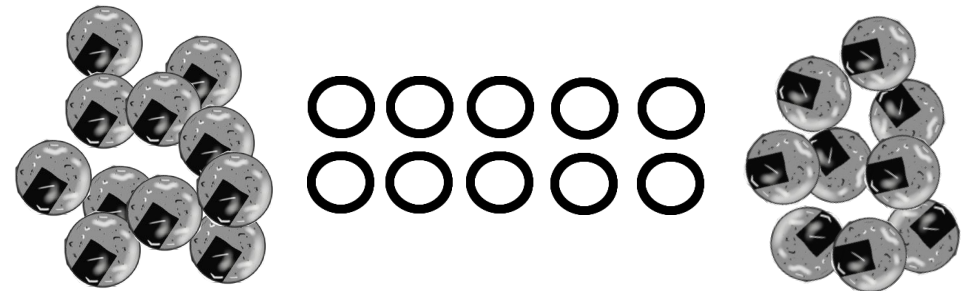
rainbow rainbow rainbow



明石焼



ミーヤキヤット



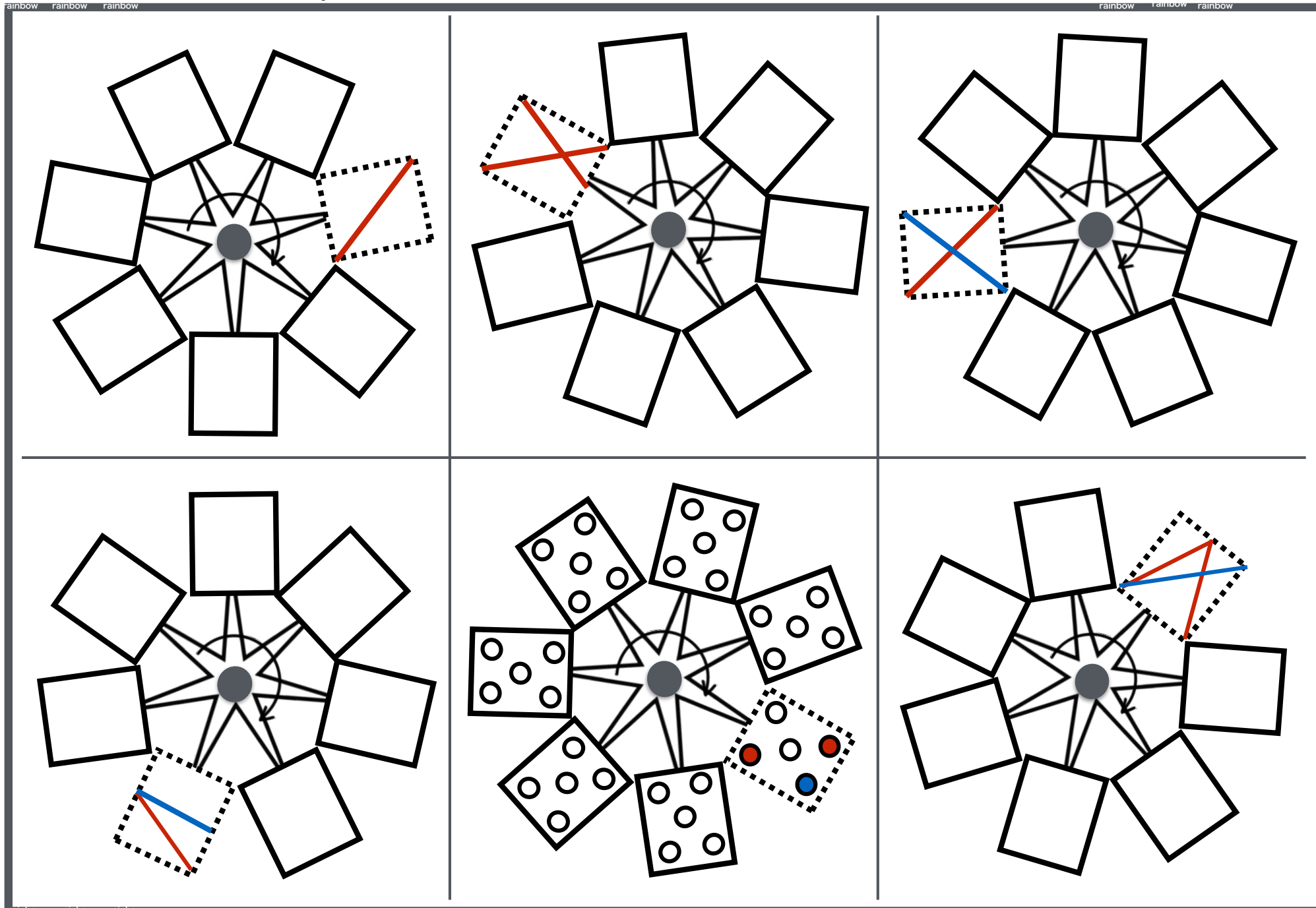
rainbow rainbow rainbow

数の違いを調べ、その数だけ白丸を赤色で塗りましょう。



rainbow rainbow rainbow

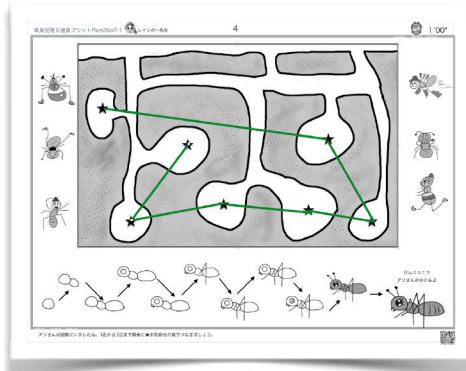
rainbow rainbow rainbow




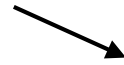
rainbow rainbow rainbow

点線の中にある線や○は回転していくとどうなりますか。6個の何もかいていない箱の中にかいていきましょう。





問われている箇所に小さく○ね



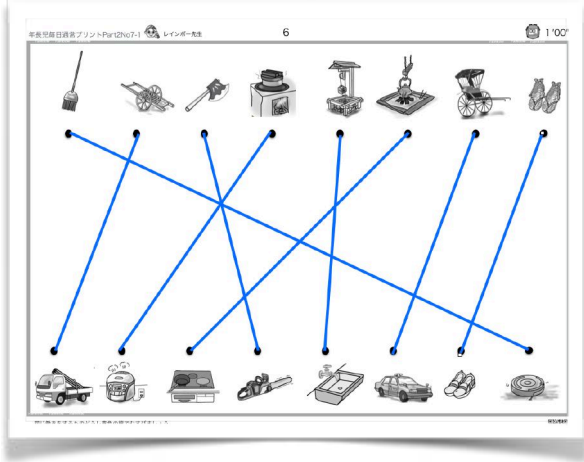
年長児毎日通常プリントPart2No7-1 レインボー先生 6 4:00'

よくかんがえてね

水が入っている水槽に同じ石を入れました。水の高さはどうなると思いますか。想像して黄色で線を引きましょう。(線を引く場所よりお互いの比較による位置関係が違っていてもOK)

●が1番重たくて2番目に重たいのが□。1番軽いものが△になるようにするにはどこにこれをのせたらよいですか。黄色でつまみましょう。

これ難しいですね。お母さんいっしょに考えてあげてください



こんな問題の時は
掃除機
掃除機
なんだけど
の絵にしました。

- 掃除道具 箒とお掃除ロボット (ルンバ)
- 運搬道具 大八車とトラック
- 伐採道具 斧・まさかりとチェーンソー
- 炊飯道具 釜・かまどと電気炊飯器
- 水利用 井戸と水道・蛇口
- 調理道具 囲炉裏 コンロ
- 移動手段 人力車 (かごもそうだね) タクシー
- 履物 草履と靴

囲炉裏は料理ができ
なんととっても
暖房に使うね



「チェーンソー」と言うんだよ
レインボー先生は森林の中に住んでいるので
必需品なんだ。3台もあるよー





年長児毎日通常プリントPart2No7-1 レインボー先生 8 2:30

下のマークを同じものに変えたいものを1つずつつけて順番で完成させよう。

**管理区域
(使用施設)**

許可なくして
立入りを禁ず

**放射線
管理区域**

指示あるまで入室
しないで下さい。
院長

放射能標識

放射線を使って検査や治療を行う部屋であることを示している。
このような標識が貼られている部屋では、放射線を管理しているので、
入る時には病院の人の指示に従う必要がある。



年長児毎日通常プリントPart2No7-1 レインボー先生 9 2:00

左隣の歯車を矢印の方向に回すと最後の黒い歯車はどちらの方向に回りますか。回る方向の円の中に赤色で○をきましょう。



歯車の動きは
ニヨロニヨロへび動き



年長児毎日通常プリントPart2No7-1 レインボー先生 9 2:40

下の白い丸で、その数に同じ丸を赤で塗りましょう。

1 対応 1 の考えで
どちらかなくなるまで
チェック
残りが数の違いね

年長児毎日通常プリントPart2No7-1 レインボー先生 10 3:45

左側の星にある色が右側には隠れていくところがあります。隠れた色がない星の中から正しい星をきましょう。

