


	+	≡	△	□	○	∨	◎	⊠	⊙
+	≡	△	□	○	∨	◎	⊠	⊙	∨
≡	△	□	○	∨	◎	⊠	⊙	∨	○
△	□	○	∨	◎	⊠	⊙	∨	○	□
□	○	∨	◎	⊠	⊙	∨	○	□	△
○	∨	◎	⊠	⊙	∨	○	□	△	≡
∨	◎	⊠	⊙	∨	○	□	△	≡	+
◎	⊠	⊙	∨	○	□	△	≡	+	

印はある決まりごとで並んでいます。覚えましょう。



	+	≡	△	□	○	∨	◎		◎
+		△	□		∨	◎	⊠		∨
≡			○	∨	◎	⊠	◎		
		○		◎		◎	∨	○	□
□		∨	◎	⊠	◎	∨	○		△
○	∨	◎		◎	∨	○	□	△	
∨	◎	⊠	◎	∨				≡	+
◎	⊠	◎	∨	○	□	△	≡		

空いているところに今覚えた形や印をかきましょう。



rainbow rainbow rainbow

rainbow rainbow rainbow


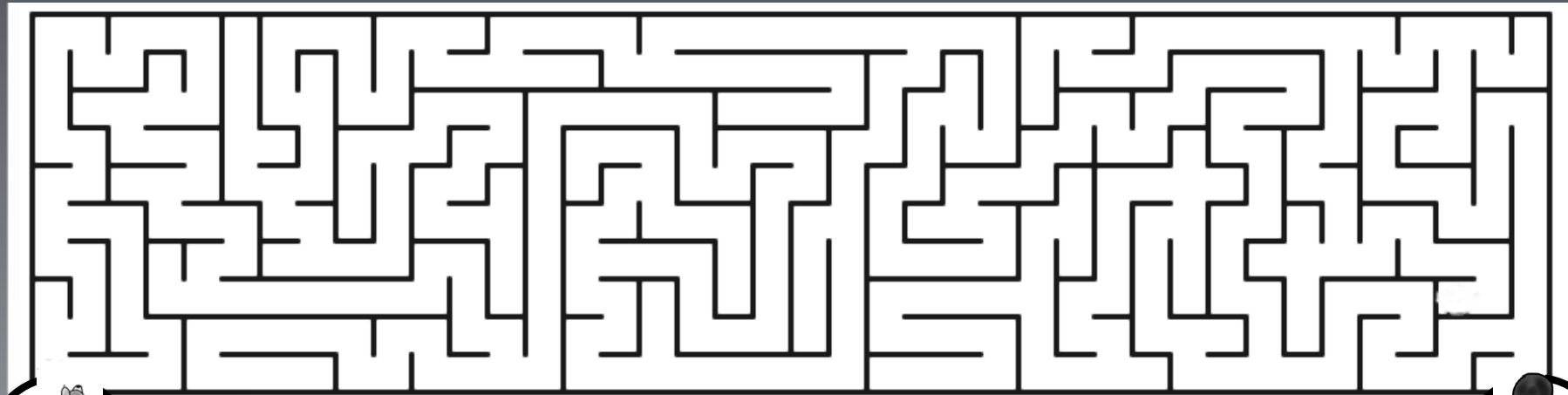
rainbow rainbow rainbow

げたからトマトまでしりとりをしながら点線を赤色でなぞりましょう。

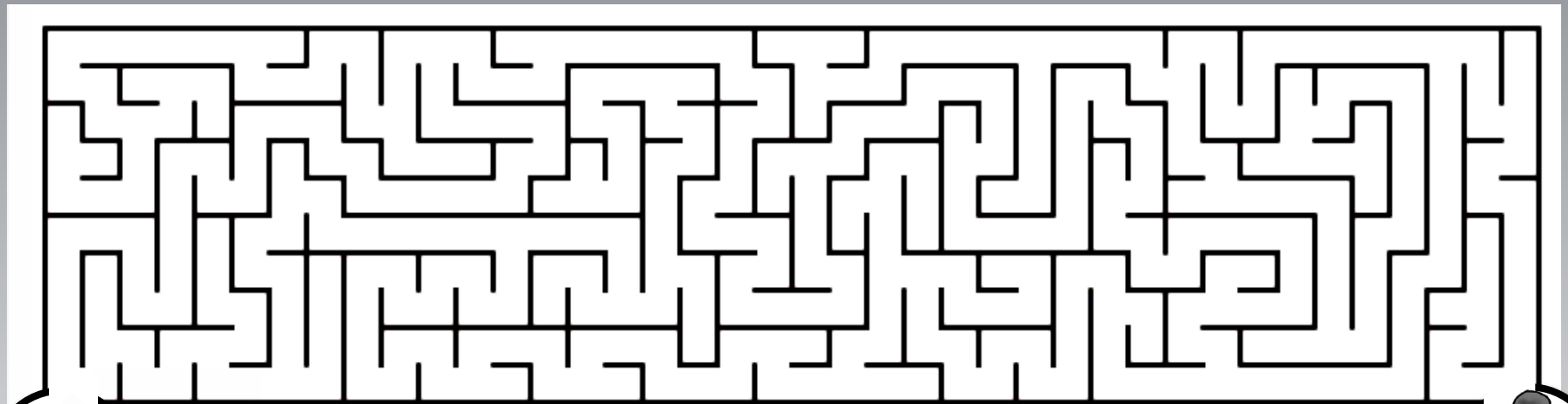


おなじみずのりょうね

1 上のお手本の絵を見ましょう。大きなカップ1つと小さなカップ2つは同じ水の量です。左の容器の水を右の容器に全部移しました。右の容器の水の量は○か×か!!パンダさんが持っているパネルに赤色で○をつけます。 2 左のシルエットは右のどの昆虫と関係がありますか。赤色の線でむすびましょう。



ポチ
どこにいったの



ミケ
はやくかえってきて

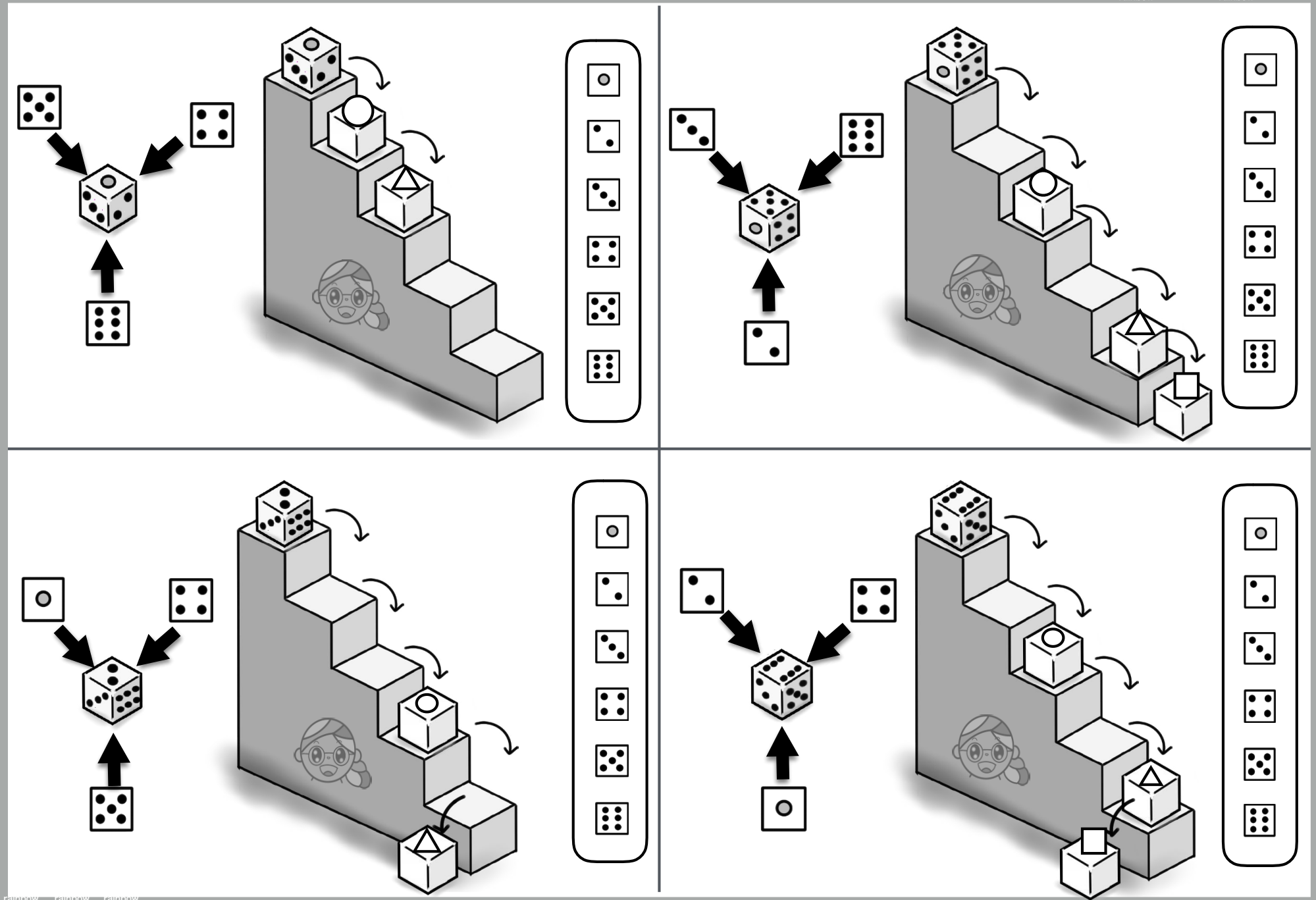


			<div data-bbox="1702 829 1836 1005"> </div> <p data-bbox="1881 837 2105 925">信楽焼 (しがらきやき) のためぎ 滋賀県甲賀市</p> <div data-bbox="1702 1029 1904 1173"> </div> <p data-bbox="1904 1029 2105 1117">シーサー 沖縄県などにみられる 魔除けの獣像</p> <div data-bbox="1702 1197 1859 1364"> </div> <p data-bbox="1904 1228 2105 1316">招き猫 (まねきねこ) 商売繁盛の 縁起物</p>



絵のあいているところにはどの絵がちょうどよくなりますか。選んで緑色の○をつけましょう。

左の形が下に回転して止まりました。その形に茶色の○をつけましょう。

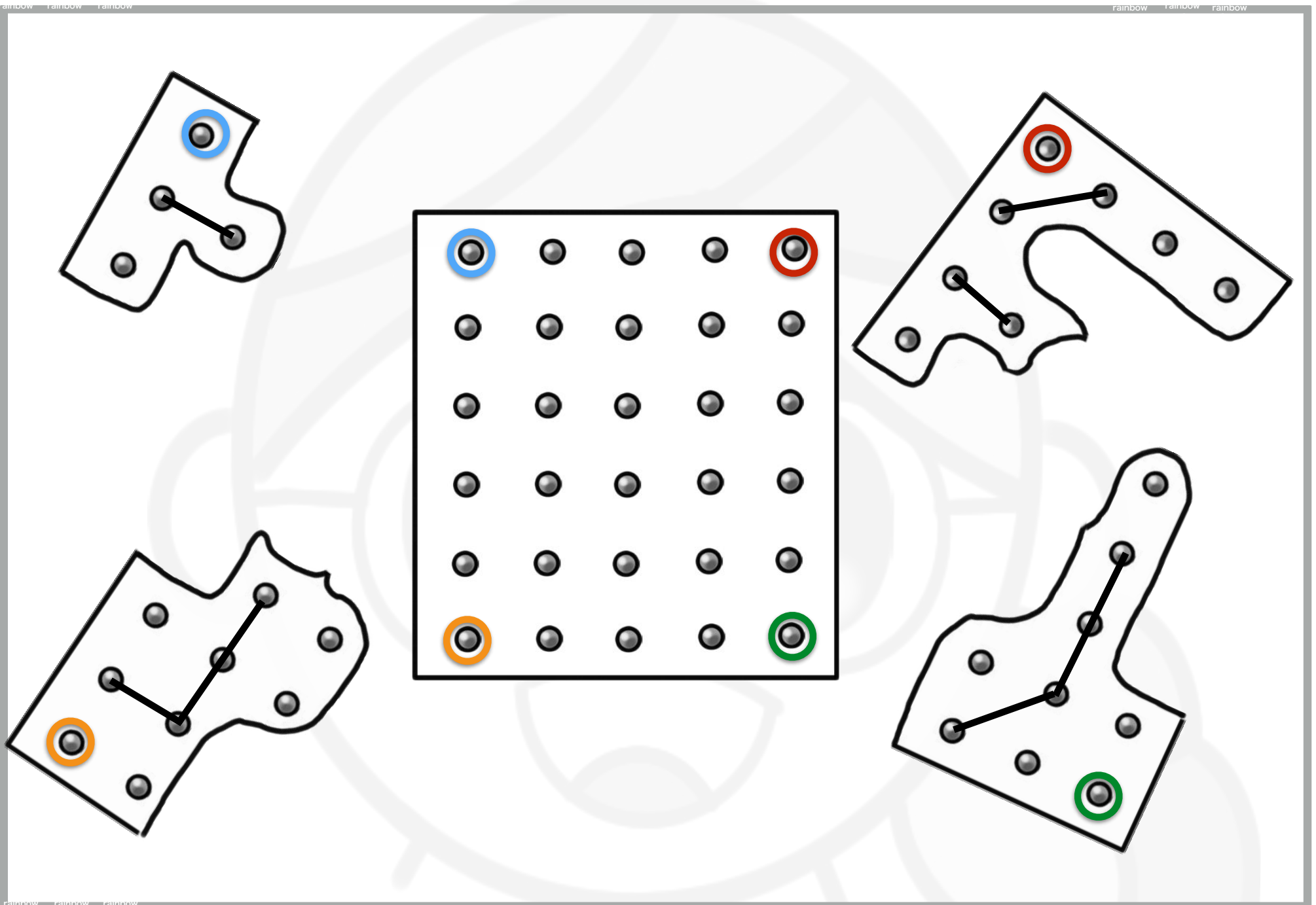


The activity consists of four panels arranged in a 2x2 grid. Each panel shows a staircase with a die on top. To the left, a die is shown being rolled, with arrows indicating the direction of the roll. To the right, a vertical list of six dice faces is shown, representing the possible outcomes of the roll. The panels show different combinations of dice faces being rolled onto the staircase steps.

階段の上のサイコロを転がしたとき、○や△や□にはどの目(サイコロの数)がくるでしょうか。右の中からちょうどよいものを見つけて、その印を赤色でつけましょう。



ブタ吉が持っている鏡に映っている絵にオレンジ色の○をつけましょう。



紙が破れてしまったのが周りに4枚あります。真ん中の四角の形に鉛筆で線を書き足しましょう。

年長児毎日通常プリントPart2No5-1 レンボーマスク 4 2'30"

斜めに同じ形が並んでいま～す

年長児毎日通常プリントPart2No5-1 レンボーマスク 5 2'45"



年長児毎日通常プリントPart2No5-1 レンボーマスク 6 各3'00"

おなじみのようね

年長児毎日通常プリントPart2No5-1 レンボーマスク 6 迷路が! 迷路にゆくり

年長児毎日通常プリントPart2No5-1 レンボーマスク 7 2'00"

年長児毎日通常プリントPart2No5-1 レンボーマスク 9 2'30"

年長児毎日通常プリントPart2No5-1 レンボーマスク 9 5'00"

年長児毎日通常プリントPart2No5-1 レンボーマスク 11 2'45"

年長児毎日通常プリントPart2No5-1 レンボーマスク 12 3'00"

ていねいに
きれいにね



とても難しいね
サイコロキャラメルを転がして
学習しよう



上の面が5324の繰り返しで移動します



上の面が1562の繰り返しで移動します



上の面が2156の繰り返しで移動します

年長児毎日通常プリントPart2No5-1 レインボー先生 9 5'00"

○や△や□にはどの目(サイコロの数)がくるでしょうか。右の中からちょうどよいものを選んで、その印を赤色でつけましょう。



上の面が6215の繰り返しで移動します

数字を記憶するか、数字が書けるので書き留めておく お子さんもいます。

横移動が一番下の上の面がわかればサイコロをみて考えましょう。

サイコロが目(数)ではなく絵のとき、たとえばタヌキ・キツネ・イヌ・ネコなどの場合、タ・キ・イ・ネのように覚えるおこさんもいます。