



PET

ペットボトルは
ペットボトルになったり
繊維（せんい）になって
服（ふく）になったりします



新聞（しんぶん）
になったり箱（はこ）
になったりします。



ダンボールです。
ダンボール箱になったり
トイレットペーパーになりま
す。



てつ（鉄）製品に
なります。
鉄って何？
磁石につく金属ね



バックとは小型紙箱みたいな
意味です。
もう一度同じような食料に関
わる製品バックに変わります。




ビールやジュースの缶です「お
父さんがカッコよくバキバキ
とつぶしてカッコつける缶で
す。磁石につきません。




ビニール袋とか
ケチャップの入れ物とか
卵のバックとかペットボトル
の蓋など。




rainbow rainbow rainbow





福岡







栃木産







くまもと







くまもと






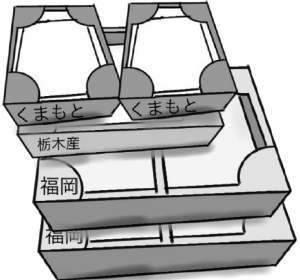
栃木産






福岡

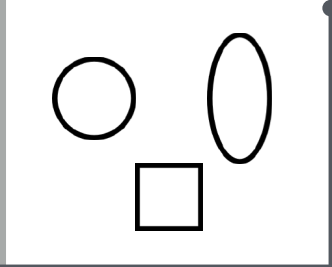



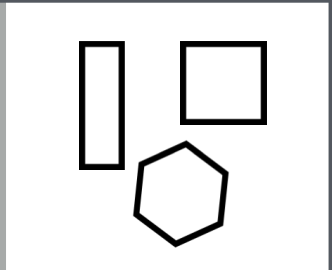



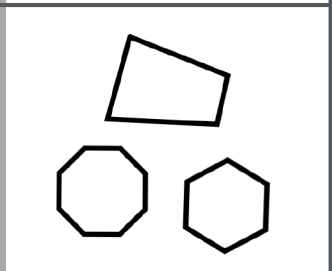
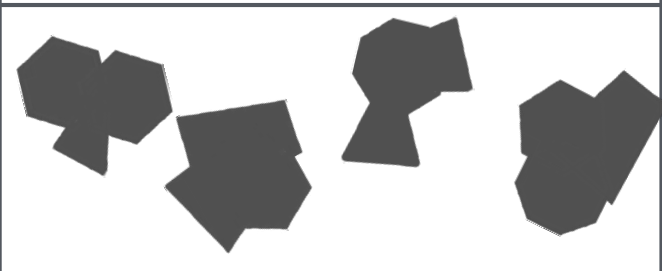

























rainbow rainbow rainbow




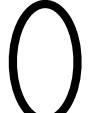










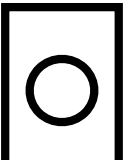

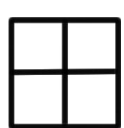


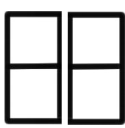



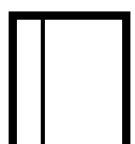










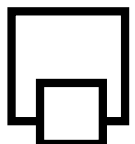




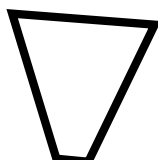
- 1 3種類の箱にそれぞれ6個 4個 2個のイチゴが入ります。では右のイチゴを全部箱に入れるには箱は何箱いりますか。その数だけマス目に○を赤色でかきましょう。
- 2 左に積まれた箱にイチゴを入れます。イチゴは何個必要ですか。その数だけイチゴに○を赤色でつけましょう。

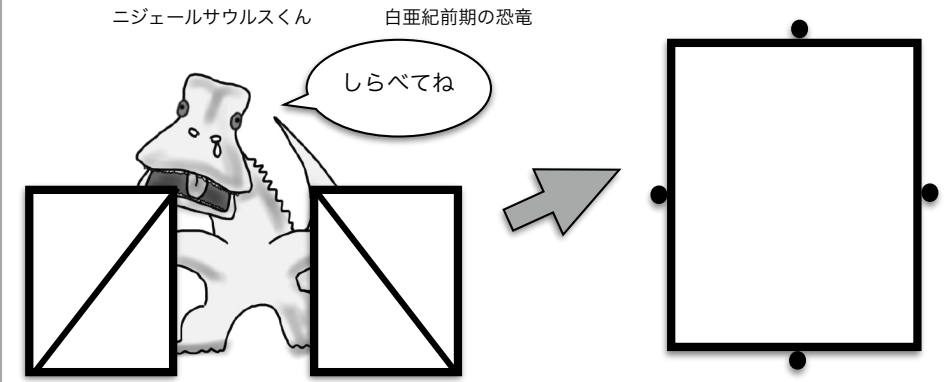
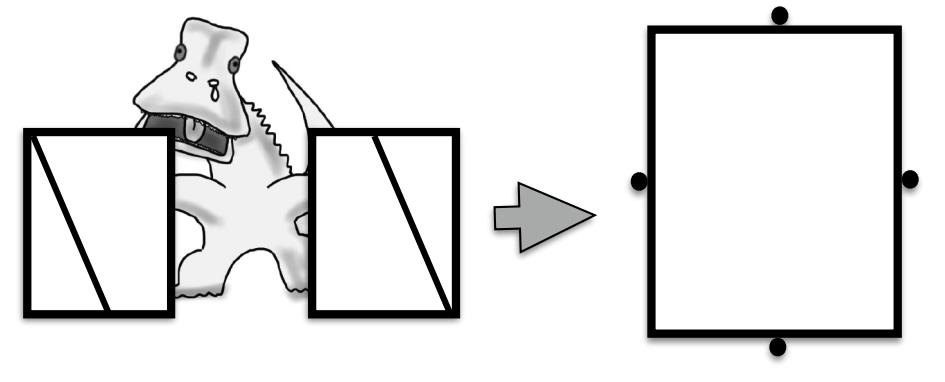
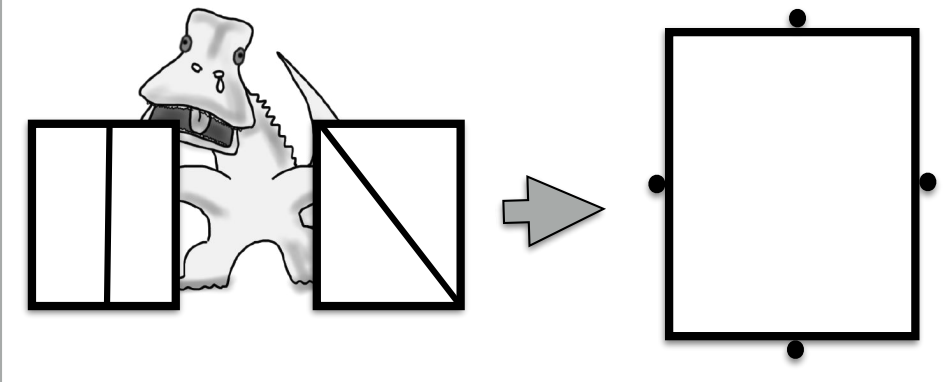
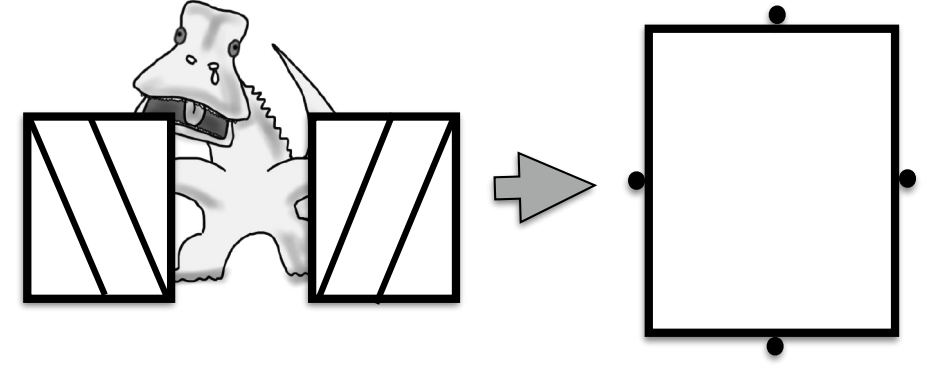
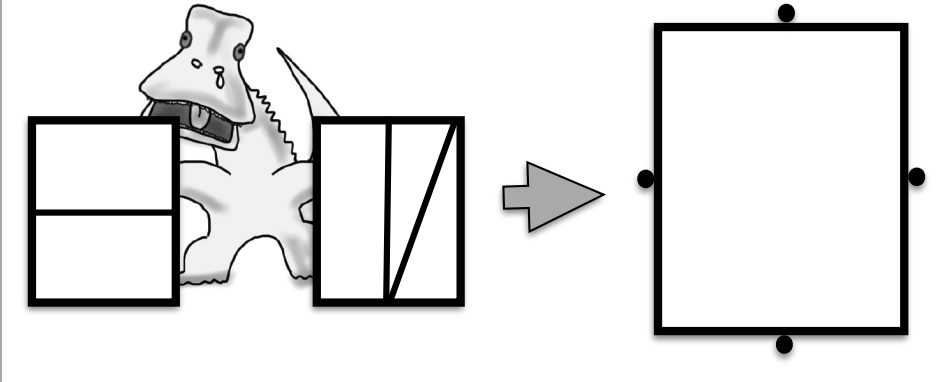
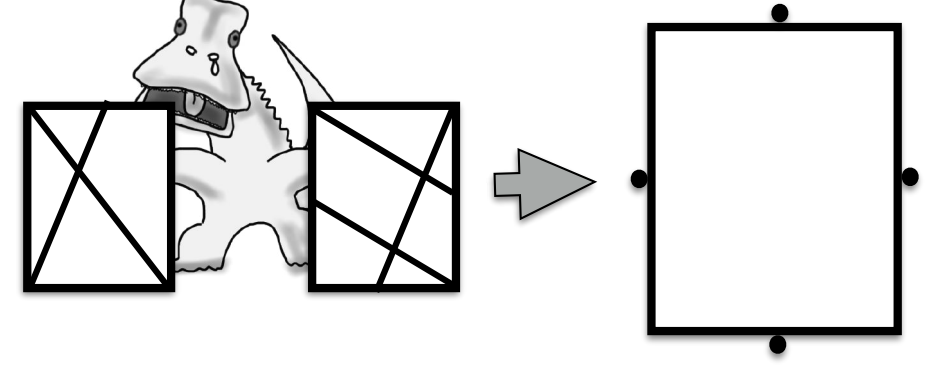
左の3つの形が重なってできた影を見つけて青色で○をつけましょう。

<p>rainbow rainbow rainbow</p> 		<p>rainbow rainbow rainbow</p> 
 <p>つばき</p>	 <p>ハイエナ</p>	
<p>うどん (めんるい)</p> 	 <p>ステゴサウルス</p>	 <p>おこのみやき</p>

仲良しニワトリ夫婦が持っている絵と仲良しのものを1つ選んで緑色の○をつけましょう。

仲良しニワトリ夫婦が持っている絵と仲良しのを1つ選んで緑色の○をつけましょう。

<p>ひょうきんな顔 (かお) の ニジェールサウルスくん</p> <p>白亜紀前期の恐竜</p> <p>しらべてね</p> 	
	
	

透明な紙にかかれた形をニジェールサウルスくんが持っています。その2枚をそのまま重ねるとどのような形になりますか。鉛筆でかきましょう。

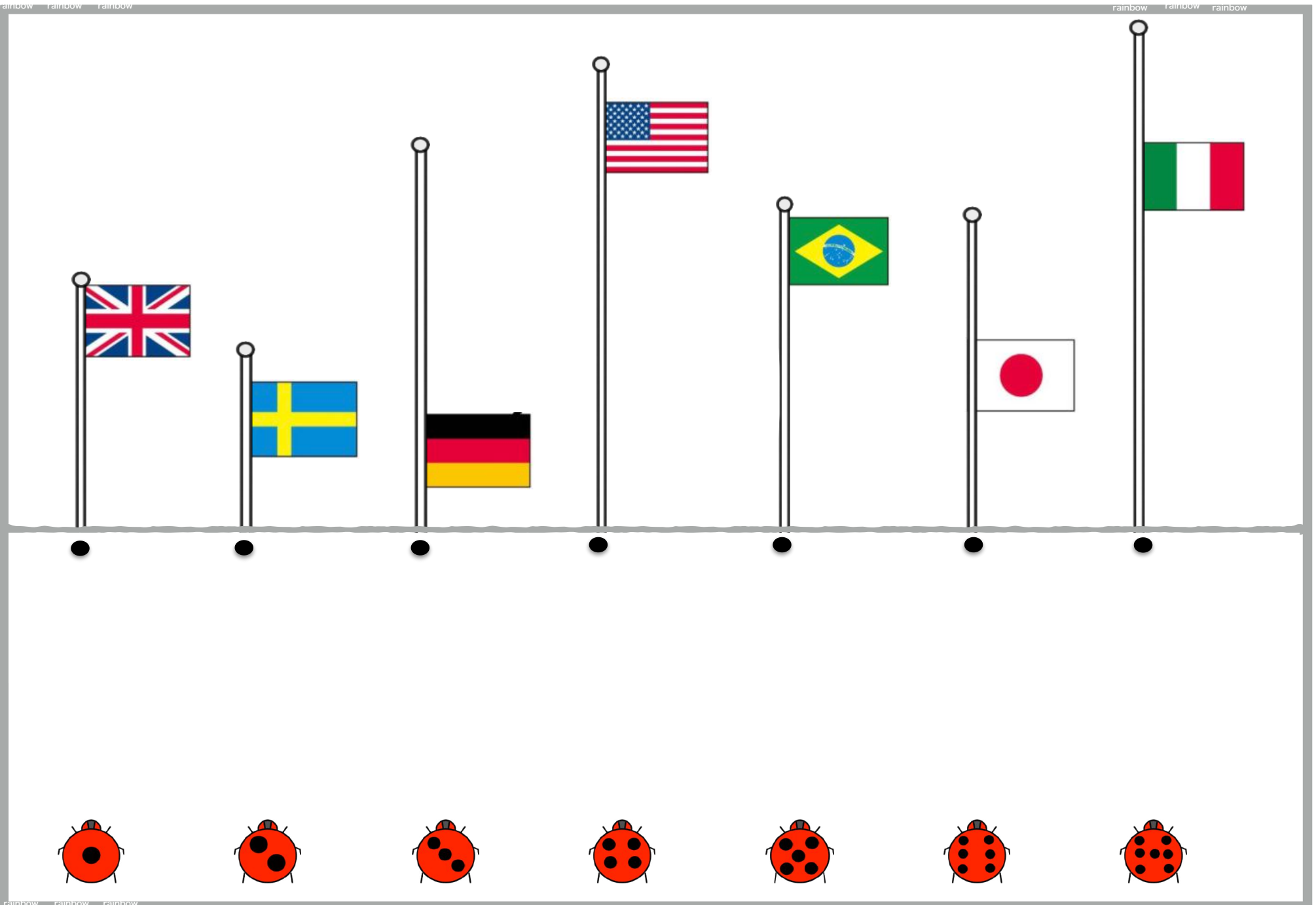
rainbow rainbow rainbow

rainbow rainbow rainbow

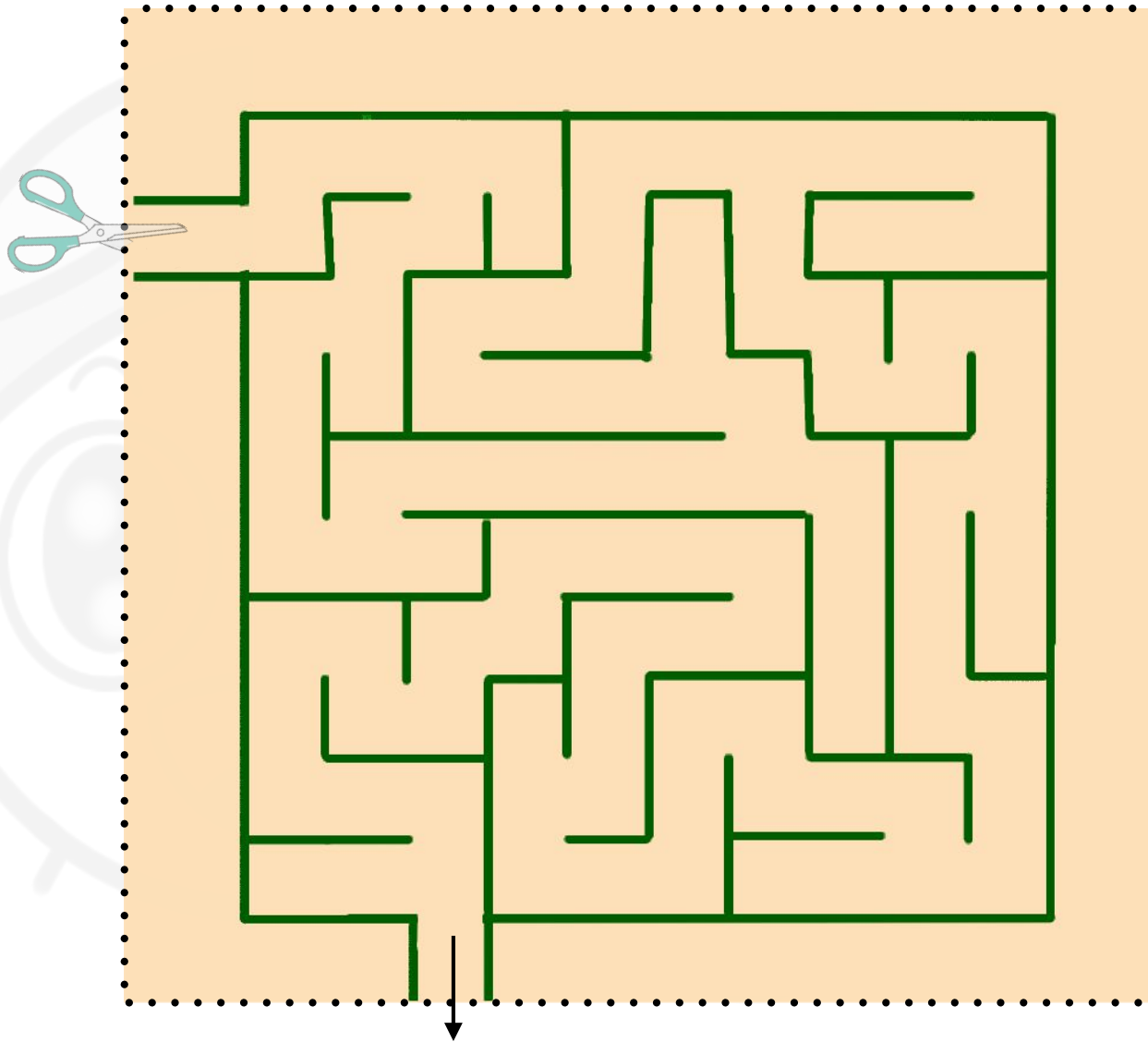
せつめい

rainbow rainbow rainbow

左上の説明のところを見ましょう。ボールが入れ物に落ちて入っていきます。横1列同じものが並ぶと魔法使いが消してしまいます。ではそれぞれの入れ物のボールはどうなりますか。赤色で○をつけましょう。



国旗が並んでいます。ポールではなく国旗の高さで一番高いところにある国旗は黒○1個のてんとう虫と2番目に高いところにある国旗は黒丸2個のてんとう虫のように順番にてんとう虫と国旗を緑色の線でつなぎましょう。



点線のところをハサミで切り取りましょう。切り取ったら迷路をします。ただしハサミで切りながら迷路をしてください。（最初に鉛筆で迷路をしてからでもいいですよ）

rainbow rainbow rainbow

rainbow rainbow rainbow

年長児毎日通常プリントPart2No4-1 レインボー先生 3 1'00"

1 PET
ペットボトルは、プラスチック製のものが多いです。リサイクルマークには「PET」と表示されています。

2 紙
紙は、木から作られています。リサイクルマークには「紙」と表示されています。

3 プラスチック
プラスチックは、石油から作られています。リサイクルマークには「プラ」と表示されています。

4 ガラス
ガラスは、砂から作られています。リサイクルマークには「ガラス」と表示されています。

5 金属
金属は、鉄やアルミニウムなどから作られています。リサイクルマークには「缶」と表示されています。

下のリサイクルマークの上の丸の中に数字が書かれています。数字が等しくなると、線が伸びてくれます。

年長児毎日通常プリントPart2No4-1 レインボー先生 4 3'00"
1'00"

1 車の数と丸の数を数え、同じ数になるように丸を貼ります。
2 下の車の数と丸の数を数え、同じ数になるように丸を貼ります。

年長児毎日通常プリントPart2No4-1 レインボー先生 4 3'00"

下の3つの形が重なってできる形を下のほうで探してください。

年長児毎日通常プリントPart2No4-1 レインボー先生 6 1'30"

真ん中のカードと裏面が合っている品と種類しれものを1つ選んでお名前をください。

おこのみずき

年長児毎日通常プリントPart2No4-1 レインボー先生 7 1'00"

真ん中のカードと裏面が合っている品と種類しれものを1つ選んでお名前をください。

年長児毎日通常プリントPart2No4-1 レインボー先生 8 3'00"

真ん中のカードと裏面が合っている品と種類しれものを1つ選んでお名前をください。

年長児毎日通常プリントPart2No4-1 レインボー先生 9 3'30"

左の図案のこまを見ましょう。ボールが入る数に合っています。横1列用いしれ品も縦並びが合っています。ではそれ以外の入る数とボールの数があわない品を1つ選んでお名前をください。

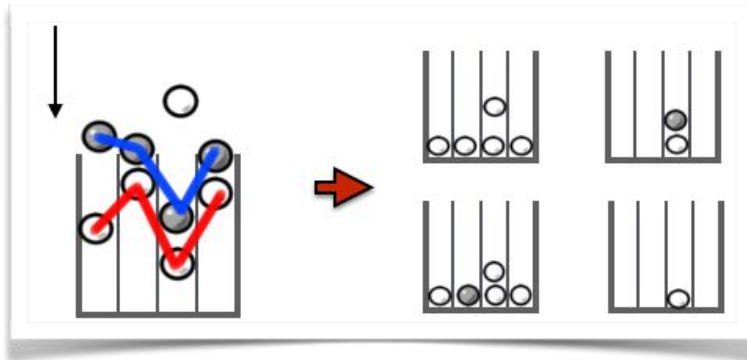
年長児毎日通常プリントPart2No4-1 レインボー先生 10 1'00"

真ん中のカードと裏面が合っている品と種類しれものを1つ選んでお名前をください。



年長児毎日通常プリントPart2No4-1 レインボー先生 10 3'00"

真ん中のカードと裏面が合っている品と種類しれものを1つ選んでお名前をください。

rainbow rainbow rainbow

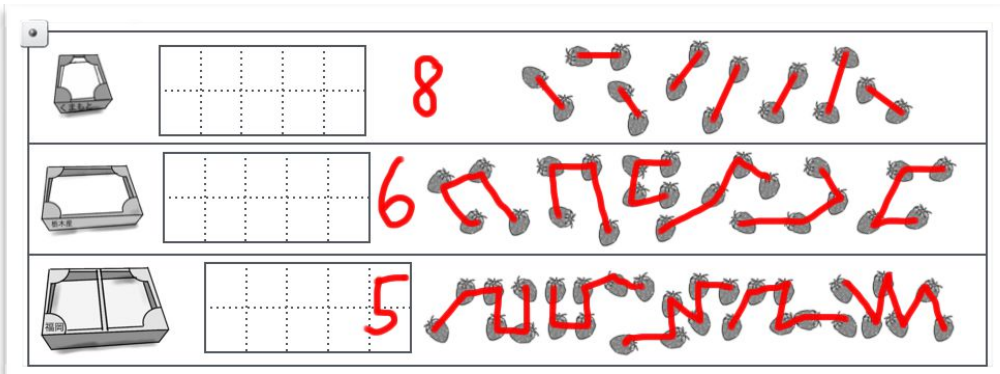


1列目、2列目というように
線を引くとわかりやすいよ



*角がない丸の仲間
*同じ形の2重
*きれいに半分
*同じ形が重なり不透明
*黒塗りの形
*同じ形の四分分割で離れている
*○が内角の中にある
*三角の仲間

*野菜
*夏の花
*麺類
*船
*草食動物
*昆虫
*哺乳類
*履く衣類
*果物



線でつないだり
袋に入れて考えよう