



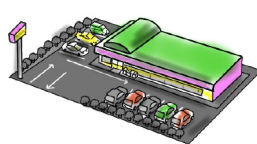



rainbow rainbow rainbow

rainbow rainbow rainbow



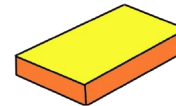
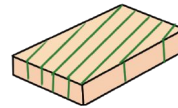

今日はあさひちゃんのお母さんの誕生日です。あさひちゃんはお母さんに内緒で、お父さんと一緒にデパートにプレゼント買いに行くことにしました。スーパーマーケットに行く途中、コスモスが咲く公園でお父さんと少し遊ぶことにしました。はじめにブランコで遊びました。次に大好きな滑り台で遊びました。最後に鉄棒でできるようになったばかりの逆上がりを、お父さんに見てもらいました。デパートまでは、公園の近くの駅から電車に乗り4つ目の駅でおります。お父さんといろいろ考えて、もうすぐ冬になるのでマフラーと手袋をお母さんにプレゼントをすることにしました。プレゼントはバラの花の模様の箱に入れてもらいました。あさひちゃんは、お母さんの喜ぶ顔を考えるとワクワクしてきました。その後、お母さんの大好きなマンゴーとメロンを買いました。買い物が終わって外に出ると雨が降っていました。あさひちゃんは水玉模様の傘をお父さんは茶色の傘をさしてお家に帰りました。

- 1 お話に出てくる女の子の名前と関係がある絵に青色で○をつけましょう。
- 2 お父さんとどこに買い物に行きましたか。青色の○をつけましょう。
- 3 公園に咲いていたお花に赤色で○をつけましょう。
- 4 鉄棒でお父さんに何を見せましたか。赤色の○をつけましょう。
- 5 お母さんに買ってあげたプレゼントに赤色の○をつけましょう。
- 6 お母さんの好きな果物に赤色で○をつけましょう。
- 7 プレゼントはどんな箱に入れてもらいましたか。赤色の○をつけましょう。
- 8 お父さんの傘に赤色の○をつけなさい。



rainbow rainbow rainbow

rainbow rainbow rainbow



rainbow rainbow rainbow

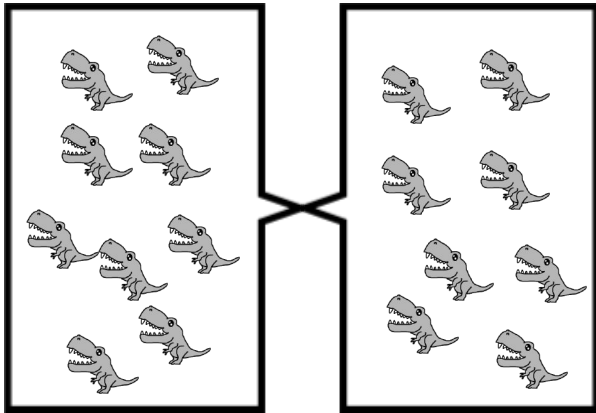
rainbow rainbow rainbow



rainbow rainbow rainbow

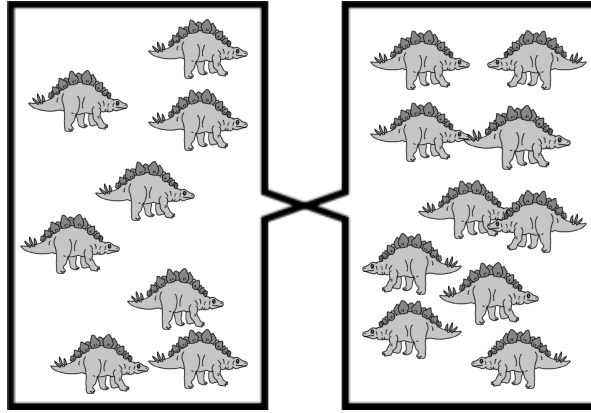
rainbow rainbow rainbow

ていらのさうるす




Blank box with four vertical dashed lines for writing.

すてごさうるす



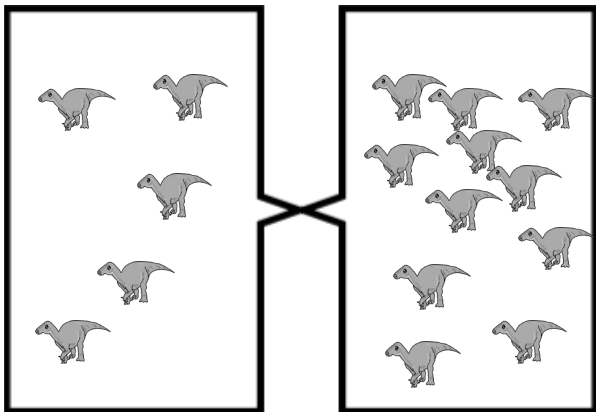
Blank box with four vertical dashed lines for writing.

とりけらとぶす



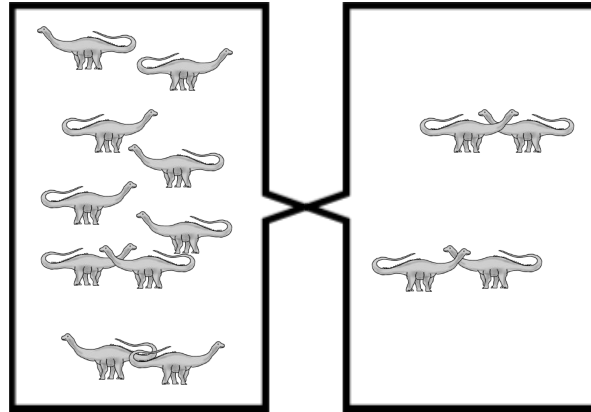
Blank box with four vertical dashed lines for writing.

いぐあのどん

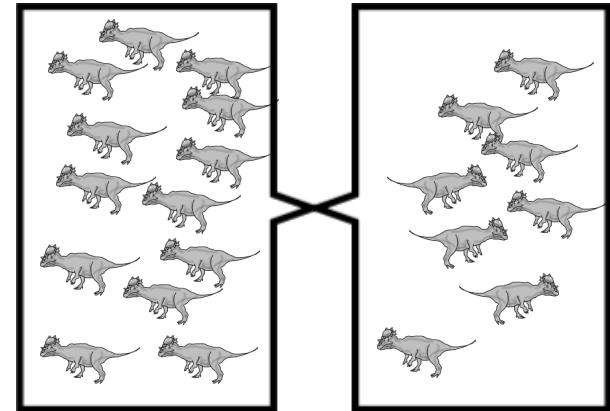


Blank box with four vertical dashed lines for writing.

でいぷろどくす



Blank box with four vertical dashed lines for writing.



Blank box with four vertical dashed lines for writing.

ぱきけふあるさうるす

恐竜は絶滅した？  
そうとは言えないんだよ。  
鳥の先祖は恐竜なんだよ



rainbow rainbow rainbow

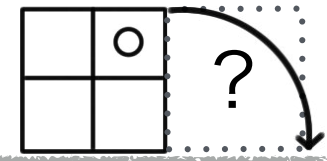
rainbow rainbow rainbow

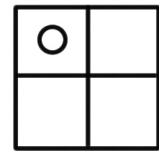
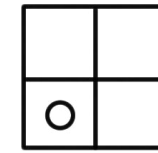
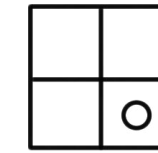
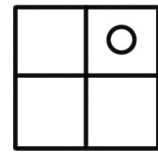
右の箱と左の箱に入っている恐竜の数を調べてその違いの数を下のマス目に赤色でかきましょう。



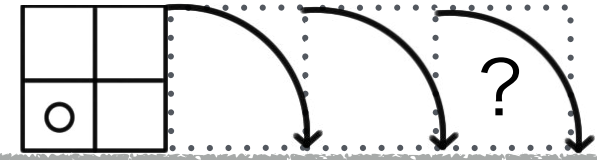
rainbow rainbow rainbow

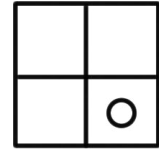
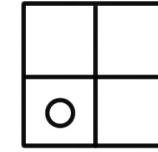
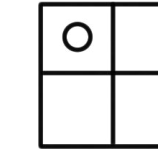
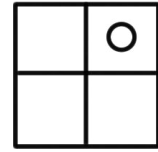
---



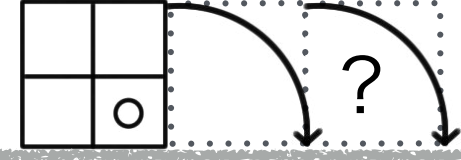





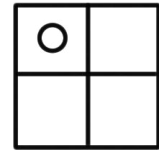
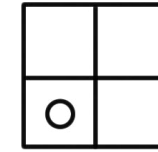
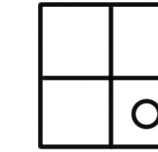
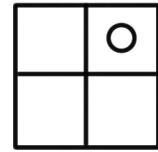
---



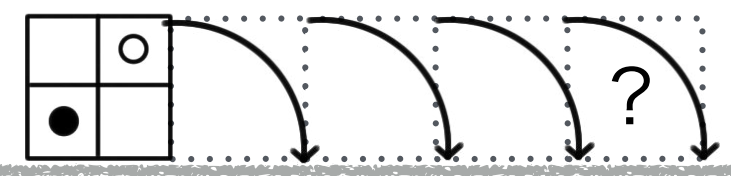





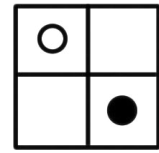
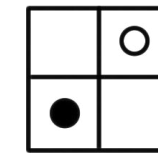
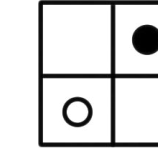
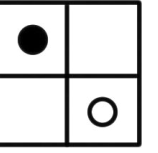
---



---


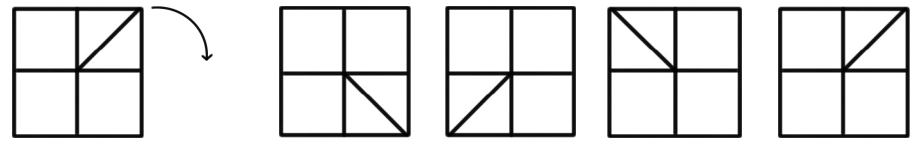

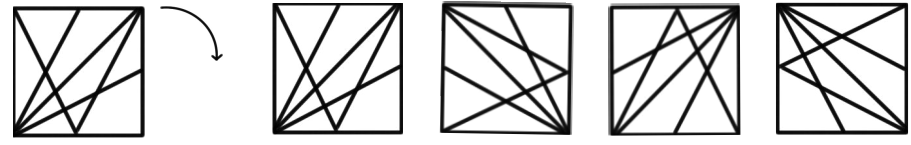



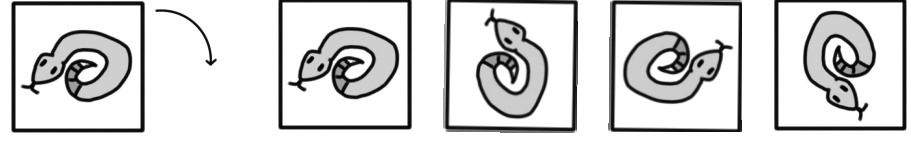










rainbow rainbow rainbow


左の形がカタンと矢印の数だけ回転しました。最後の？も所ではどのような形にまりましたか。緑色で○をつけましょう。



左端の形をサイコロの目の数だけと転がしました。形の向きはどうなりますか。緑色の○をつけましょう。








ブタさんが階段の上の形を転がしました。矢印のところでは形はどの向きになっていますか。赤色で○をつけましょう。




上の絵の名前の2つ目の音を使ってつないだ時にできる絵を下から選んで青色の○をつけましょう。



左の絵と同じ季節の絵に赤色で○をつけましょう。  
 しりとりをした時1つだけ続かない絵があります。見つけて赤色の○をつけましょう。  
 左端の四角の中の絵と関係がある昔話に出てくる絵を見つけて赤色の○をつけましょう。  
 磁石につくものに赤色の○をつけましょう。  
 左端の絵と同じ数え方をする絵を見つけて赤色の○をつけましょう。




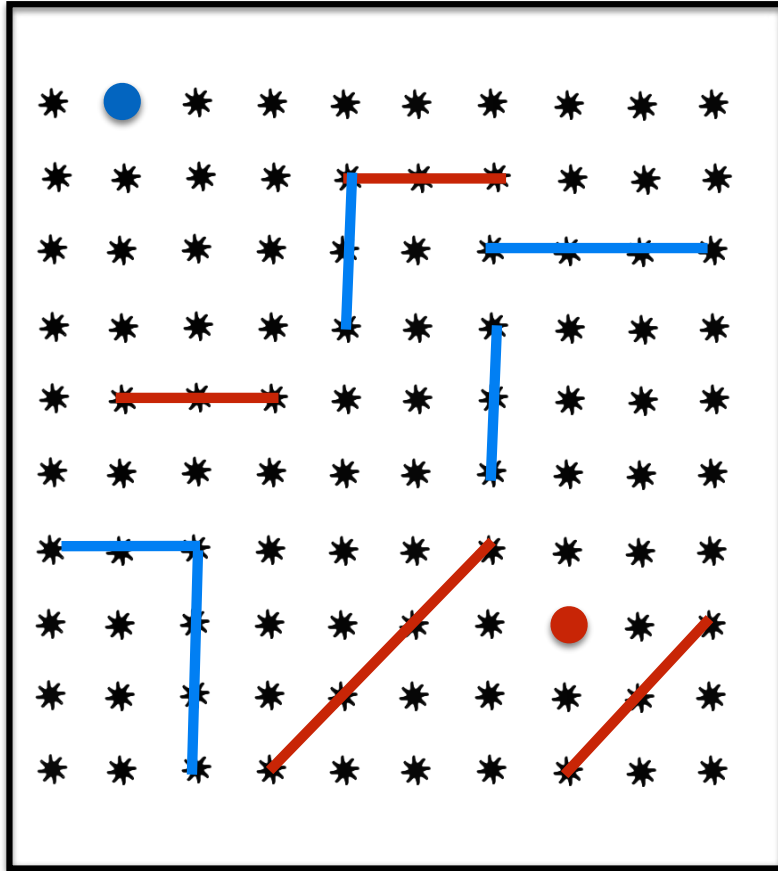
タヌキさんの右手に1番近い机に赤色で○をかきましよう。  
 ウサギさんから見て1番前の列の左端の机に赤色で×をかきましよう。  
 パンダさんの左手が触れている机に赤色で△をかきましよう。  
 ライオン先生から見て1番後ろの席の右から2つ目の机に赤色で◎をかきましよう。





rainbow rainbow rainbow

rainbow rainbow rainbow



かがみ

お手本を鏡に映しました。どのように見えているでしょうか。青色と赤色の鉛筆でかきましょう。

年長児毎日通常プリントPart2No3-2 レインボー先生 3 3'00"

1. 用意したくまの数の子猫が居る部屋までつなげよう。  
 2. 用意したくまの数のお茶をのめよう。  
 3. 用意したくまの数のお菓子をたべよう。  
 4. 用意したくまの数のお風呂をたべよう。  
 5. 用意したくまの数のお風呂をたべよう。  
 6. 用意したくまの数のお風呂をたべよう。  
 7. 用意したくまの数のお風呂をたべよう。  
 8. 用意したくまの数のお風呂をたべよう。

年長児毎日通常プリントPart2No3-2 レインボー先生 4 3'00"

ていのさうず      ずてのさうず      とのけるさうず

いであのどん      であのどん      ばあじあさうず

お母は絶頂した？  
 そうとは書かないんだよ、  
 俺の先っぽは登るんだよ

年長児毎日通常プリントPart2No3-2 レインボー先生 5 1'00"

1対1対応で解いてもいいし、あきらかに少ない方がわかるときは  
 そちらの数を調べて、多い方にその数のぶんだけチェック、  
 残りの数が正解

年長児毎日通常プリントPart2No3-2 レインボー先生 6 2'30"

年長児毎日通常プリントPart2No3-2 レインボー先生 7 1'30"

年長児毎日通常プリントPart2No3-2 レインボー先生 8 2'30"

ひらがなが書けると便利です

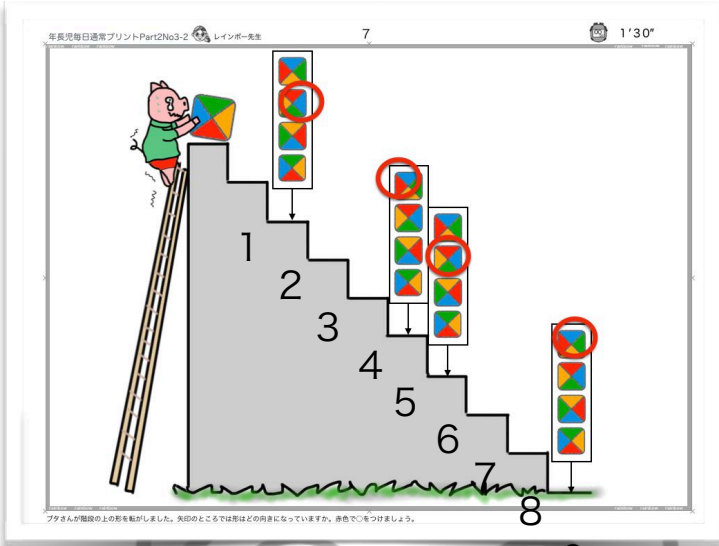
年長児毎日通常プリントPart2No3-2 レインボー先生 9 5'10"

〇〇さんから見てとか〇〇さんの右手とか  
 日本語が難しいので園児には難問です

年長児毎日通常プリントPart2No3-2 レインボー先生 10 3'00"

かがみ

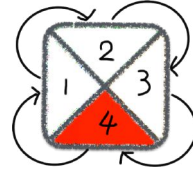
とにかく慌てず確実にね



いろんなところを見ないで  
見るところを決める例えば赤色なら



こんな感じね



1  
回  
右  
回  
り  
は



2  
回  
右  
回  
り  
は

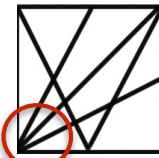
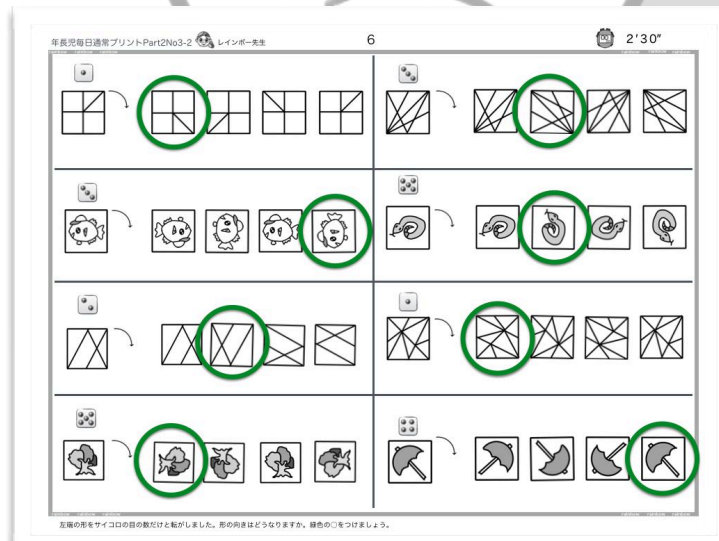


3  
回  
右  
回  
り  
は




4  
回  
右  
回  
り  
は

も  
と  
に  
戻  
り  
ま  
す



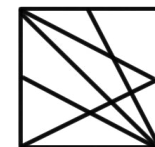


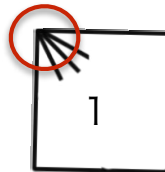
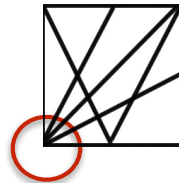
いろんなところを見ないで  
見るところを決める例えばここか



こんな感じね



サイコロの目が3だから3回カタンカタンカタンね



だからこれが正解