






















	<div style="border: 1px solid black; height: 60px; width: 100%; position: relative;"> <div style="position: absolute; left: 5%; top: 50%; transform: translate(-50%, -50%); border-left: 1px dashed black; width: 100%;"></div> </div>
	    		      
	  		   

みかちゃんは、お母さんからクマの絵の描いてあるバックを借りて森へキノコを採りに出かけました。森に向かって歩いていると、「エ〜ン」と下の方から泣き声が聞こえます。なんと、いたずらタヌキが穴を掘ってその中にウサギさんが落ちてしまったのです。ウサギさんは怪我をして泣いています。みかちゃんは「たいへん！すぐに助けなくちゃ」と急いでウサギさんを穴から助けてあげました。みかちゃんは森の奥の黄色い実を1個食べると怪我や病気が治ると聞いたことを思い出しました。「今黄色い実を採ってくるから待っていてね」とウサギさんに言って森の奥へ向かいました。途中おサルさんがやってきて「この道を行くと、ヒガンバナが並んで咲いているよ。そのまままっすぐ行くと黄色い実のなる木があるよ」と教えてくれました。黄色い実がなる木に着くと、とんがり三角帽子をかぶったネコの魔法使いが立っていました。みかちゃんは勇気を出して「こんにちは、怪我をしたウサギさんに黄色い実を持って行ってあげたいの」と言うとネコの魔法使いは8枚のカードを出して、「私の好きな食べ物をこの中から当ててごらん。2つの同じ文字が入っている食べ物がヒントだよ」とクイズを出しました。みかちゃんは、「わかったわ」と言ってトマトとバナナとモモのカードを取りました。ネコの魔法使いは、「正解！早く黄色い実を持って行ってあげなさい」と言って黄色い実をくれました。みかちゃんにはっこり笑ってお礼を言って帰りました。

リンゴ*みかちゃんは何を採りに森に行きましたか。青色の○をつけなさい。

ミカン*みかちゃんのバックに青色の○をつけなさい。

トマト*いたずら動物に青色の○をつけなさい。

メロン*怪我をした動物に青色の○をつけなさい。

スイカ*並んで咲いていた花に青色の○をつけなさい。

イチゴ*途中であった動物に青色の○をつけなさい。


パイナップル*木の実をくれた魔法使いに青色の○をつけなさい。


カキ*魔法使いが出したカードは何枚ですか。その数だけ青色の○を書きなさい。


バナナ*魔法使いが好きな食べ物に青色の○をつけなさい。


サクランボ*このお話の季節の次にくる季節の絵に青色の○をつけなさい。


れんしゅう














ミツバチがお花を仲良く分けます。お花はいくつ余りますか。その数だけマス目に○を赤色でかきましょう。

3 dumplings, 1 spoon. Grid: 1 dumpling, 1 spoon.

2 puddings, 8 spoons. Grid: 1 pudding, 1 spoon.

4 bowls of soup, 6 chopsticks. Grid: 1 bowl, 1 chopstick.

6 cups, 6 straws. Grid: 1 cup, 1 straw.

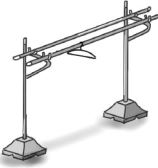




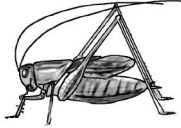














6 plates of food, 5 spoons. Grid: 1 plate, 1 spoon.

3 plates of food, 10 forks, 10 knives. Grid: 1 plate, 1 fork, 1 knife.


6 bowls of soup, 7 chopsticks, 2 bowls of soup. Grid: 1 bowl, 1 chopstick.


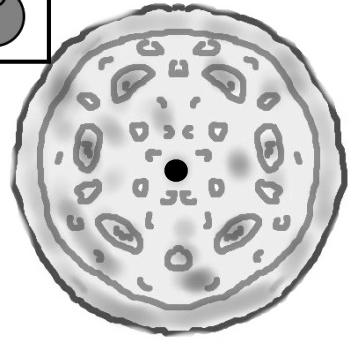

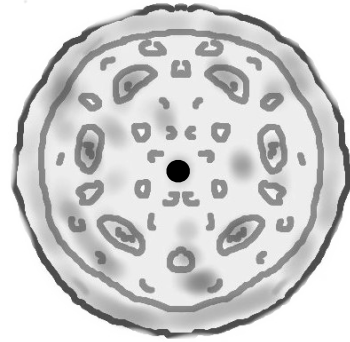

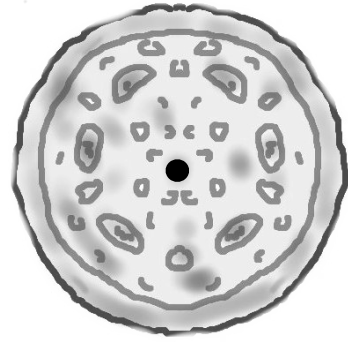

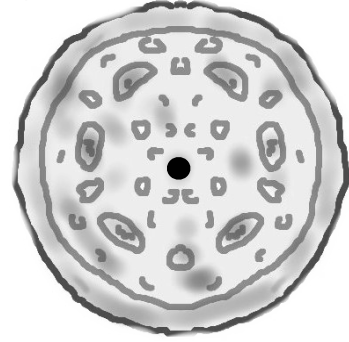

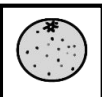
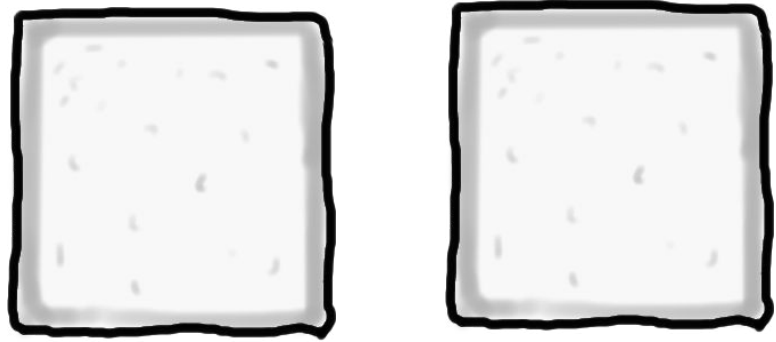






10 cups of yogurt, 10 spoons. Grid: 1 cup, 1 spoon.

食べ物と道具を同じ数にします。でも、どちらかが足りません。四角の中の足りない方の絵に青色で○をつけましょう。そして足りない数だけマス目に○を青色でかきましょう。





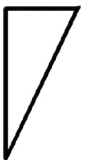


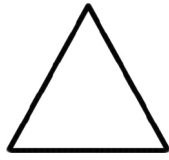

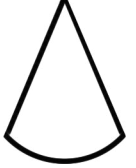

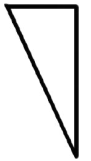





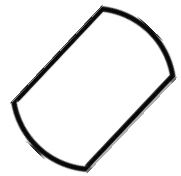




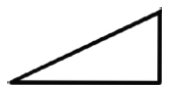







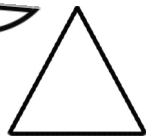








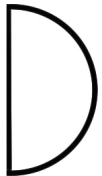


									
●	●	●	●	●	●	●	●	●	●
●	●	●	●	●	●	●	●	●	●
									

上の絵と下の絵はある関係があります。考えて緑色の線でむすびましょう。



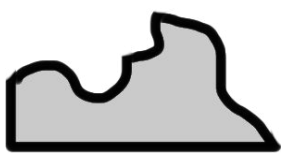

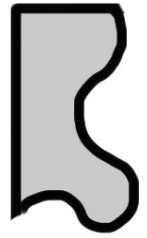


ヒント：名前 

  	 	 	 
    0'20"	    1'45"		



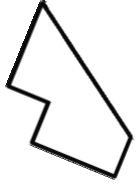
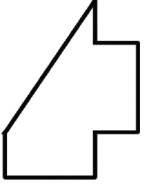


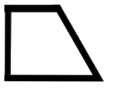











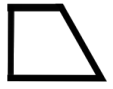




















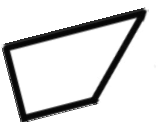
りんご 上のピザをお友達の数で同じ大きさに切るにはどこを切ったらよいですか。鉛筆で線を引きましょう。みかん 四角いパンを2匹で分けます。同じ大きさ同じ形になる切り方2通りを鉛筆で引きましょう。イチゴ 四角いパンを4匹で分けます。同じ大きさ同じ形になる切り方4通りを鉛筆で引きましょう。


ハイレベル



イヌくんが持っている形を作るのに使わない形を見つけて緑色の○をつけましょう


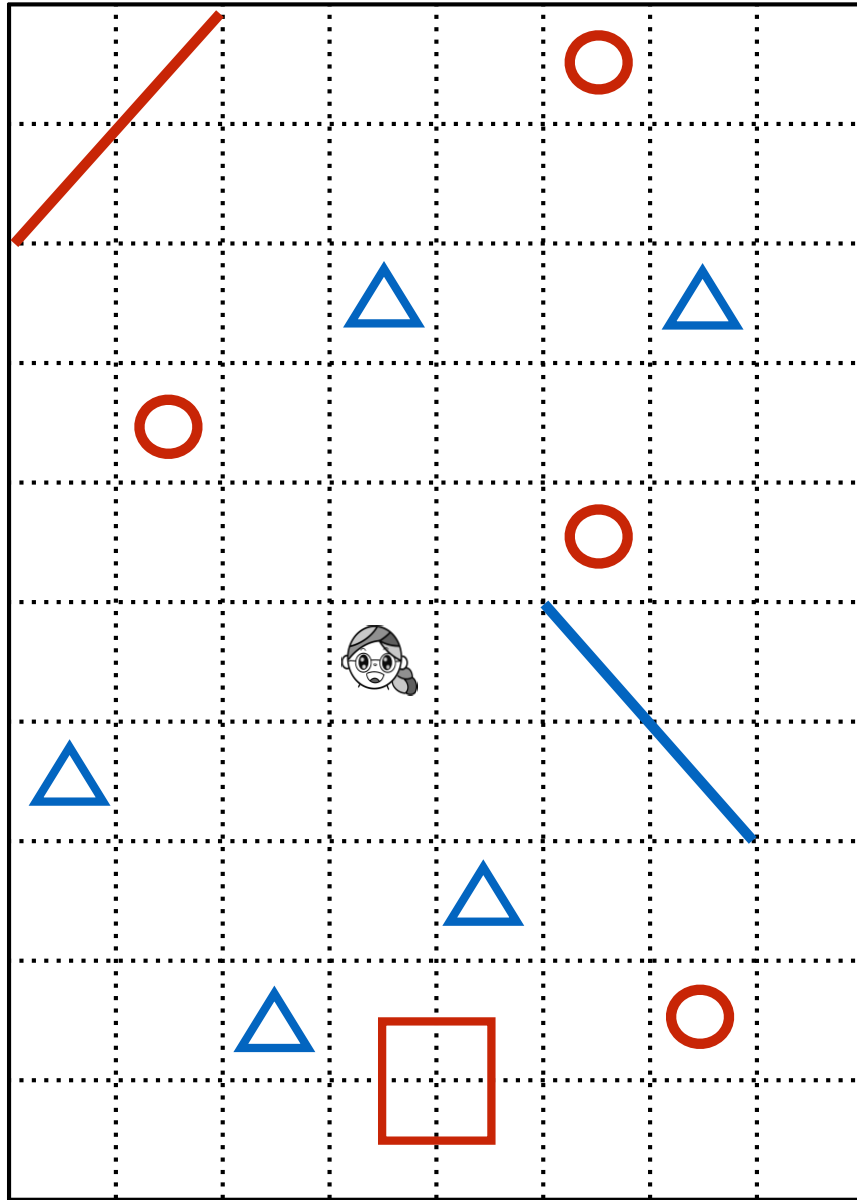
   	    
      	    
   	    
    	    

ハイレベル

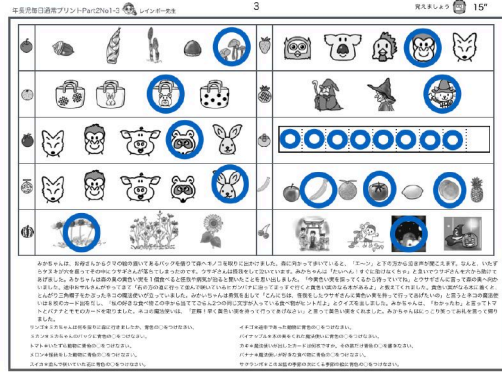
 0'30"



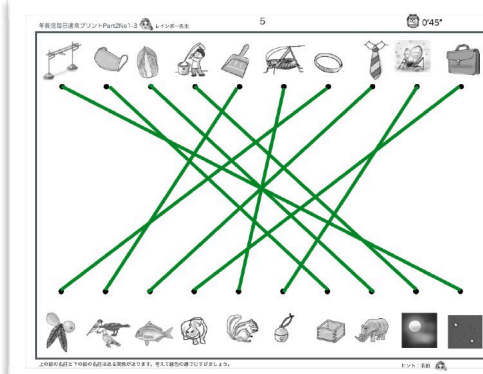
イヌくんが持っている形を作るのに使わない形を見つけて緑色の○をつけましょう



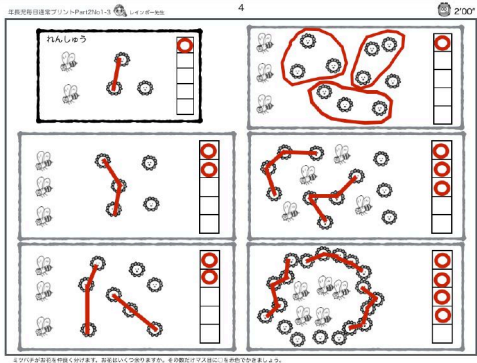
左のお手本通り鉛筆でうつしなさい。



ヒガンバナ知っていましたか。

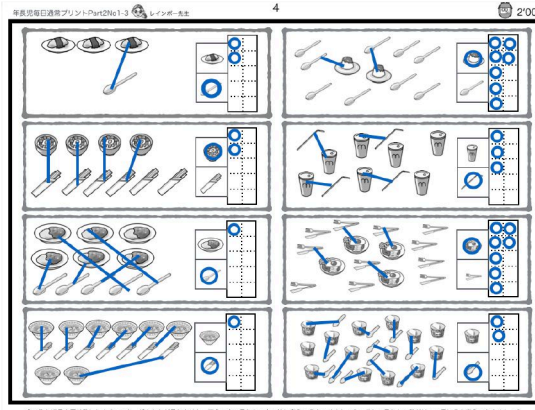


- 物干し (物干し場) ほし
- マスク 升
- ハクサイ サイ
- 餅つき 月
- ちりとり 鳥
- キリギリス スリス
- 指輪 ビワ
- ネクタイ 鯛
- スズムシ すず
- カバン カバ

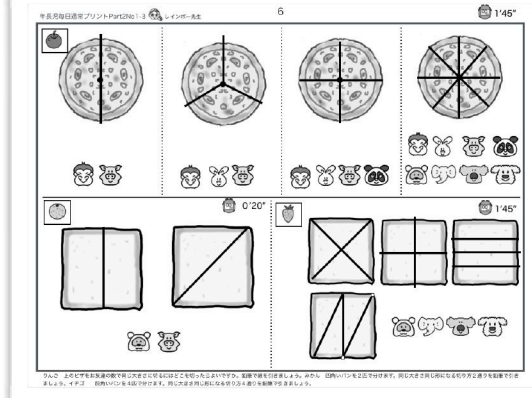


分ける数ずつ線で繋いだり袋に入れたりして余る数を見つけます。

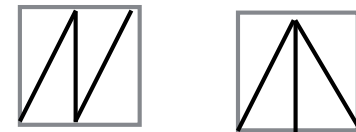
1対1対応で足りないものと数を見つけます。



食卓とお箸も同じ数にします。でも、どもどかが足りません。四角の紙に足りないお箸の数で○をつけましょう。そして足りない紙だけマス目に○を数えてみましょう。



わかっても綺麗に線を引くことが難しいですね。四角のパンの切り方は他にもあります。



年長児毎日通常プリントPart2No1-3 レインボー先生 1'30"

ハイレベル 0'30"

イヌくんが持っている形を作るのに使わない形を見つけて緑色の○をつけましょう

年長児毎日通常プリントPart2No1-3 レインボー先生 1'30"

ハイレベル 0'30"

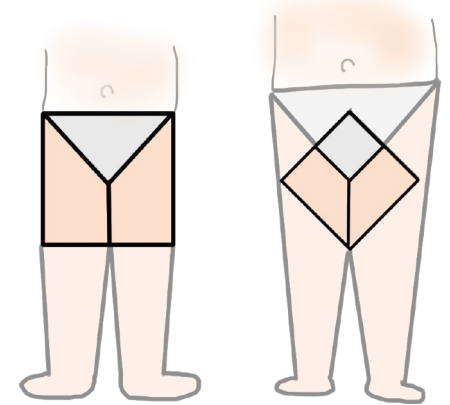
イヌくんが持っている形を作るのに使わない形を見つけて緑色の○をつけましょう

年長児毎日通常プリントPart2No1-3 レインボー先生 1'30"

解答省略

左のお手本通り順番でうつつしなさい。

書き忘れはダメだよ



三角パンツと
四角パンツはよく出てくるぞ

