

# 表紙

## 年長児（5～6歳）毎日通常プリント No8-2

べんきょうはあせらずコツコツ  
まいにち コツコツ  
ふくしゅう コツコツ  
コツコツすればダイジョウブ



ご縁がありますように

願書（がんしょ）は「ねがいしょ」  
記載例を写すのではなく心をこめ  
願って楷書で書きましょう。

Q 願書に書く住所はどのように書けばよいのですか？

A ご質問の意味がよく分かりませんが、「住所は住民  
票記載とおり」に書きましょう。

なまえ

--	--	--	--	--	--	--	--	--	--

## おはなし

動物村のマラソン大会です。

ウマちゃん ヒツジくん タヌキくん ソウちゃんが出場しました。

スタートは海の近くにある郵便局です。

たくさんの動物達が集まってスタートを待っていました。

「いちについて、よいー ドーン」

キリンさんがピストルを撃ちました。

ウマちゃんがみんなをどんどん引き離し、ウマ タヌキ ヒツジ ソウの順番で走っていました。

途中、橋をソウちゃんが渡っている時、橋は大きく揺れ壊れてしまいました。

ソウちゃんは、壊れた橋にぶらさがりいまにも川に落ちそうになりました。

前を走っていたヒツジくんが、「たいへんだ～ ソウちゃんが落ちそうだよ～」

と大きな声で叫びました。

みんなは急いで橋まで戻りました。

でもどうすることもできません。

そこに大きなヘビが8匹やってきて

「ぼくたちがロープになってソウくんの所まで行くから、みんなで引っ張って下さい。」

ヘビ達はお互いのシッポに噛み付き長いロープになりました。

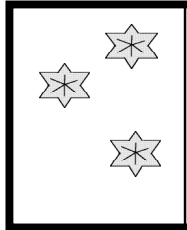
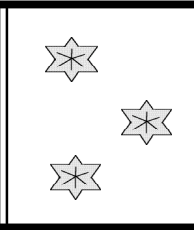
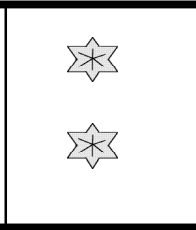
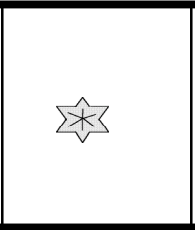

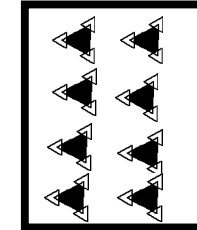
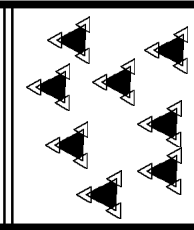
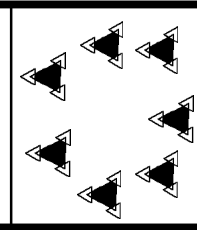
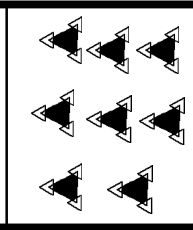
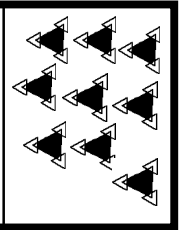
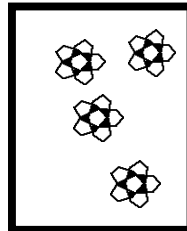
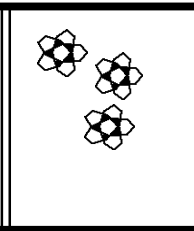
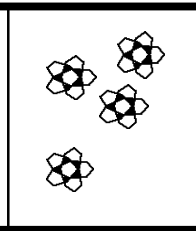
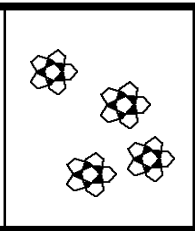
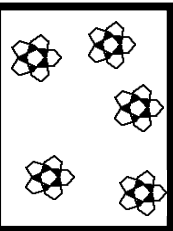





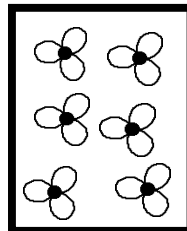
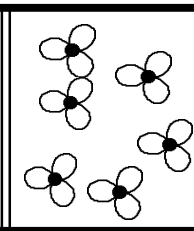
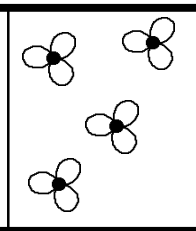
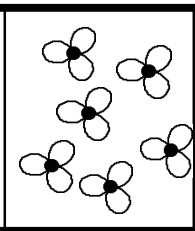
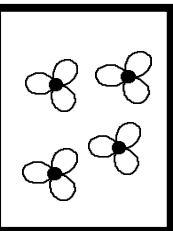





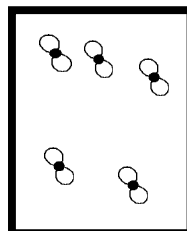
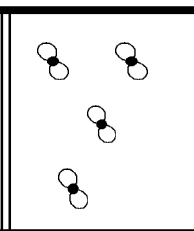
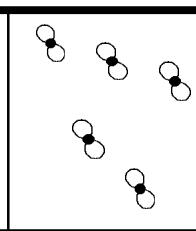
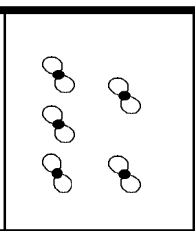
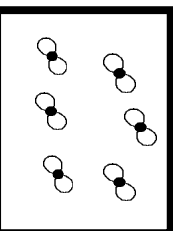
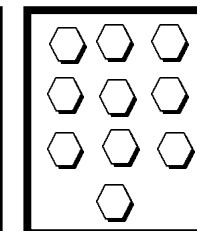
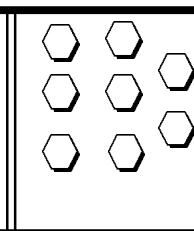
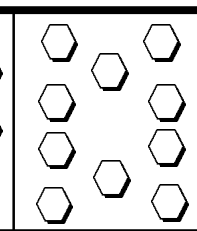
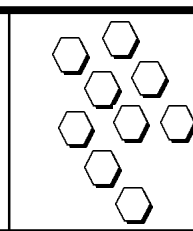
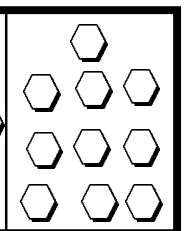
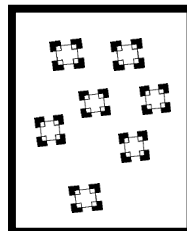
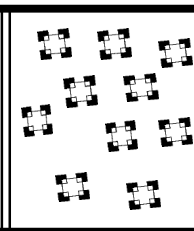
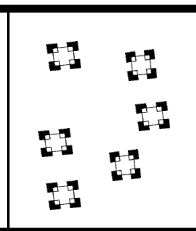




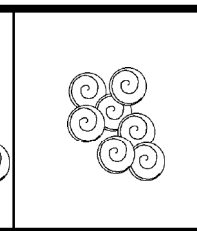
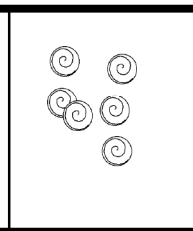

ニョロニョロとソウちゃんの所まで行ったヘビ達はソウちゃんの体に巻き付きました。

「さあ、引っ張って下さい」とヘビ達は言いました。

ウマちゃん、ヒツジくん、タヌキくんは力をあわせて引っ張り、ソウちゃんは助かりました。

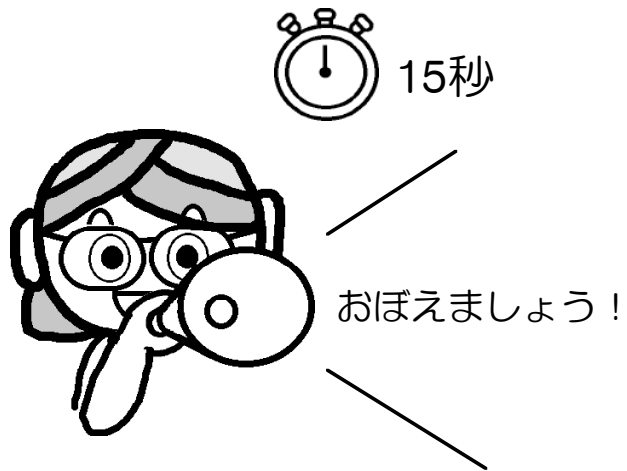
競争をやめてヘビ達のロープで電車ごっこみたいにしてゴールまで行くと大勢の動物達が拍手で迎えました。


お話の順序が正しいものを選んで鉛筆で○を書きなさい。

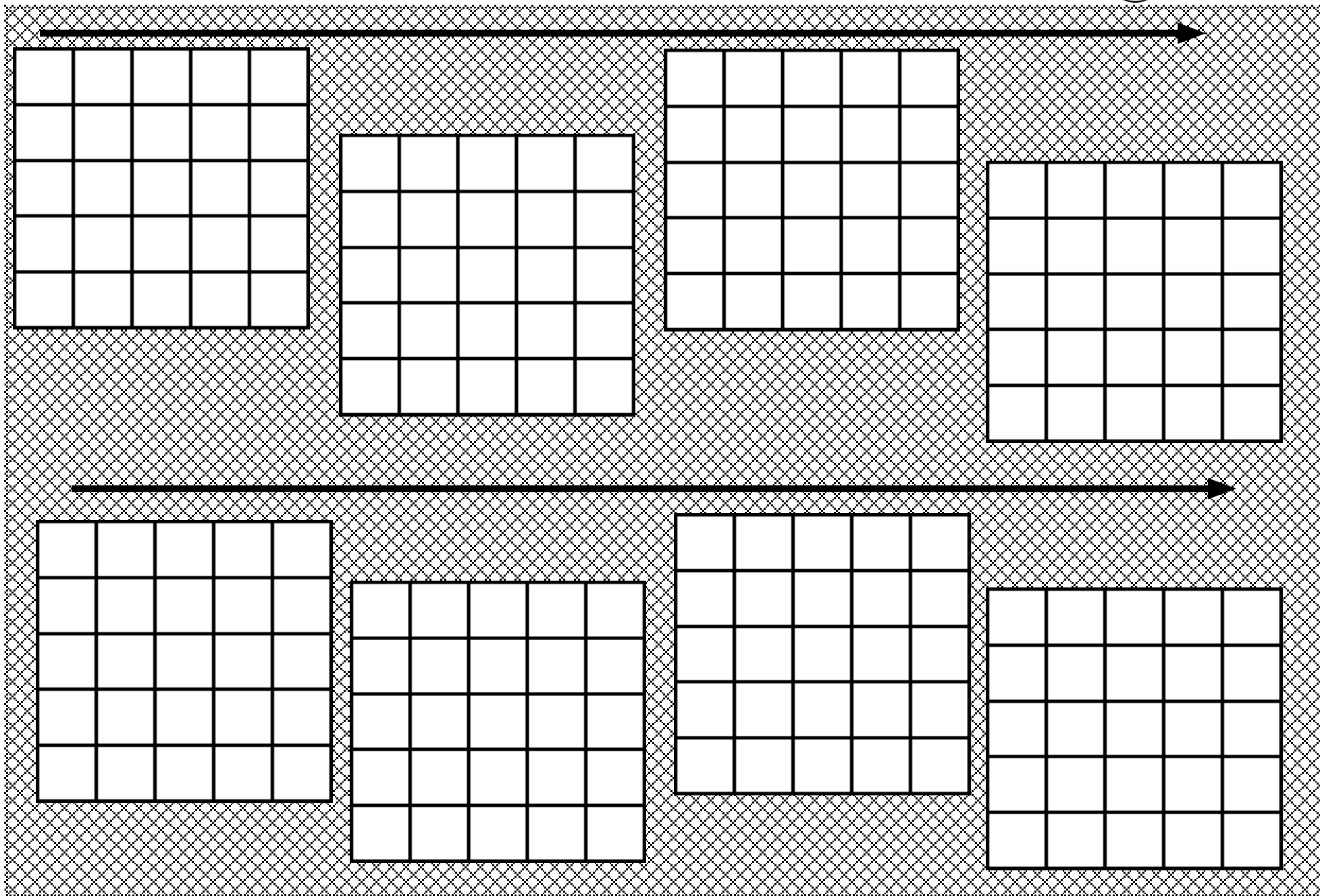
									
									
									
									
									

左端と同じ数のものが2つあります。見つけて茶色で○を付けなさい。

年長




おはじきやマグネットを使ってお母さんが問題を作りましょう。  
最初は2個ぐらいでスタートね



The worksheet features a background of a fine grid pattern. Two horizontal arrows point from left to right, one at the top and one at the bottom. Between these arrows, there are two rows of four 5x5 grids each, for a total of eight grids. Each grid is intended for a drawing activity.




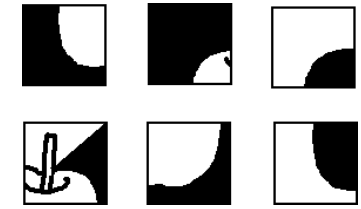
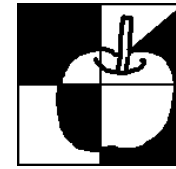
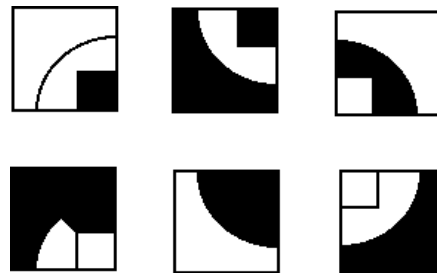
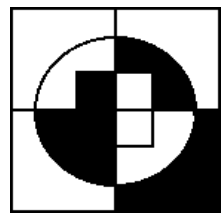
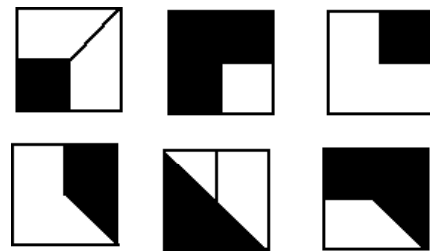

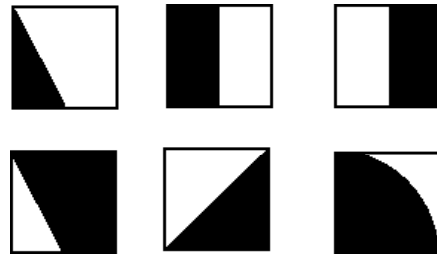
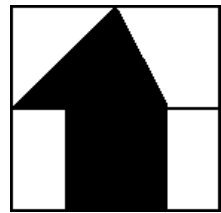

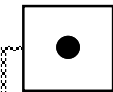
今覚えた所に○を書きましょう。


左の形を矢印の方に回転すると右のどの形になりますか。鉛筆で○を付けなさい。


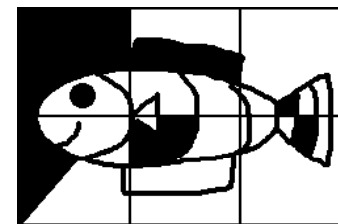
年長

1' 45"



0' 15"



0' 30"



- 1 左の形を作るのに使わないものを2つ選んで赤色で○を付けなさい。
- 2 上の形を作るのに使わないパズルを見つけて赤色で○を付けなさい。



時間一杯捜そう

右の絵は左の見本と違うところがあります。見つけて右の絵の違うところに青色で○を付けなさい。



クマくんはドングリが食べたいけれど、黒丸のところは通ることができません。  
どの点線を通るとドングリにいけますか。四角に青色で○を書きなさい。

クマくんはドングリが食べたいけれど、黒丸のところは通ることができません。  
どの点線を通るとドングリにいけますか。四角に青色で○を書きなさい。





それぞれのお話の順序が最初にくる絵に●が付いています。では最後になる絵を見つけて赤色で○を付けなさい。

年長

 10' 00''

模写 追求心



左の写真をがんばってそっくりになるようにクーピーで仕上げましょう。

