


表紙

年長児（5～6歳）毎日通常プリント No1—3

継続は力なり

べんきょうはあせらずコツコツ
まいにち コツコツ
ふくしゅう コツコツ
コツコツすればダイジョウブ



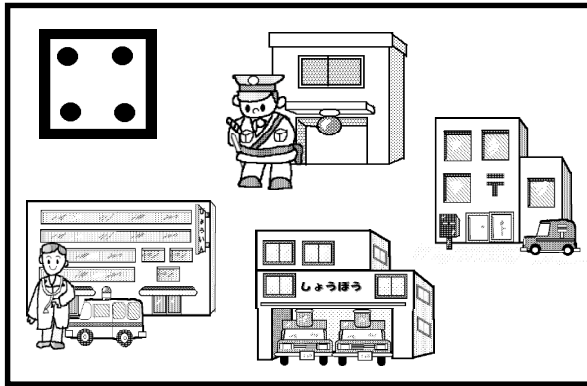


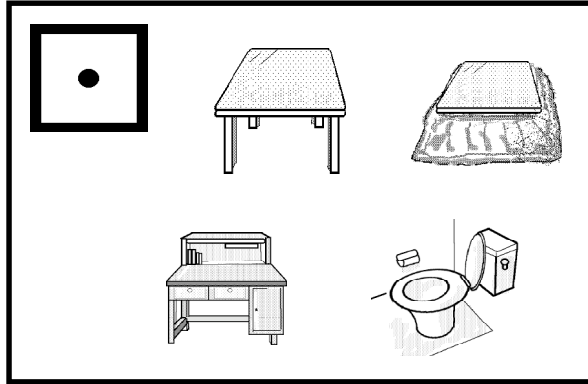


なわとび とべますか
ボールつきできますか

これも学力

なまえ

--



あすかちゃんが学校から帰ると家にはだれもいませんでした。テーブルの上にお母さんからの手紙といちごが1つあったケーキが2個置いてありました。手紙に（あすかちゃんへ、お父さんが入院したので病院に行ってきます。すぐ帰ってくるからね。けんちゃんが幼稚園から帰ってきたら二人で仲良くケーキを食べてください。冷蔵庫にはプリンもあります。おかあさんより）と書いてありました。夕方にお母さんが帰ってきました。お父さんはビルを作るお仕事です。ころんで手の骨にひびがはいたそうです。でもたいしたこともなく元気だそうです。あすかちゃんはほっとしました。

- 1 手紙とケーキはどこにのっていましたか。緑色で○をつけなさい。
- 2 どんなケーキでしたか。緑色の○をつけなさい。
- 3 冷蔵庫にはいつているおやつはなんですか。緑色の○をつけなさい。
- 4 お母さんはどこに行きましたか。その絵に緑色の○をつけなさい。
- 5 お父さんがけがをした所は体のどこですか。その絵に緑色の○をつけなさい。
- 6 いちごの実はどのようにできるとおもいますか。正しい絵に緑色の○をつけなさい。

あまりの数

れんしゅう




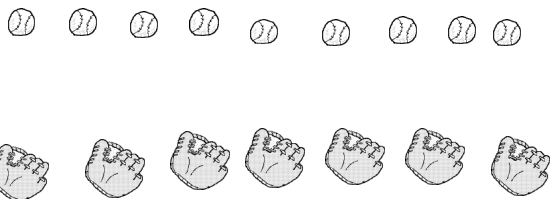

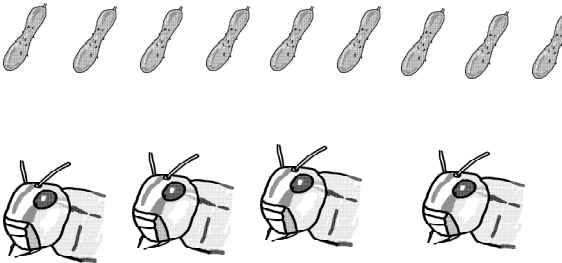
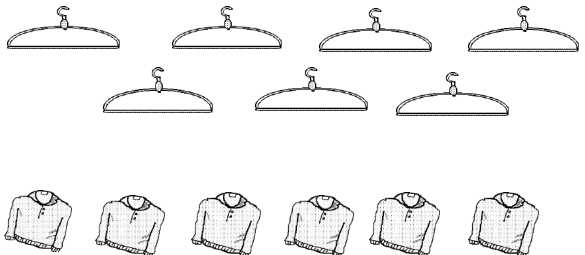

--	--	--	--	--

--	--	--	--	--

--	--	--	--	--

--	--	--	--	--

それぞれの数のかたつむりが仲良く葉っぱを分けます。葉っぱは幾つ余りますか。その数だけ箱の中に青色の○を書きなさい。

<p>れんしゅう</p>  <table border="1" data-bbox="324 414 985 502"> <tr> <td></td><td></td><td></td><td></td><td></td><td></td><td></td><td></td> </tr> </table>									 <table border="1" data-bbox="1232 422 1904 510"> <tr> <td></td><td></td><td></td><td></td><td></td><td></td><td></td><td></td> </tr> </table>																	
 <table border="1" data-bbox="174 861 757 933"> <tr> <td></td><td></td><td></td><td></td><td></td><td></td><td></td><td></td> </tr> </table>									 <table border="1" data-bbox="817 861 1400 933"> <tr> <td></td><td></td><td></td><td></td><td></td><td></td><td></td><td></td> </tr> </table>									 <table border="1" data-bbox="1456 861 2038 933"> <tr> <td></td><td></td><td></td><td></td><td></td><td></td><td></td><td></td> </tr> </table>								
 <table border="1" data-bbox="174 1276 757 1348"> <tr> <td></td><td></td><td></td><td></td><td></td><td></td><td></td><td></td> </tr> </table>									 <table border="1" data-bbox="817 1276 1400 1348"> <tr> <td></td><td></td><td></td><td></td><td></td><td></td><td></td><td></td> </tr> </table>									 <table border="1" data-bbox="1456 1276 2038 1348"> <tr> <td></td><td></td><td></td><td></td><td></td><td></td><td></td><td></td> </tr> </table>								

それぞれ関係がある絵が書いてあります。組合わせて足りない数はいくつですか。その数だけ青色で○を書きなさい。

●

*1個2個見つけても安心させないことが注意力を育てます。

● ●

□ □ □ □ □

□ □ □ □

□ □ □ □

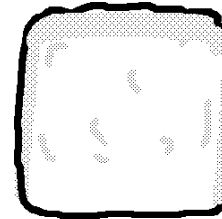
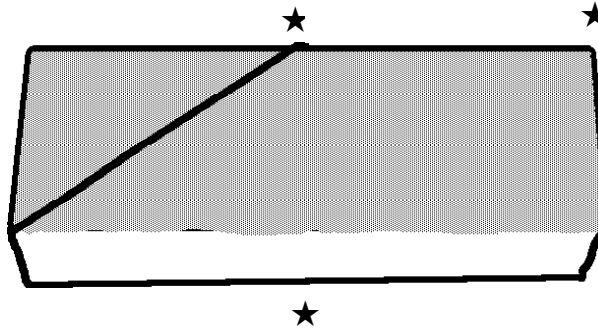

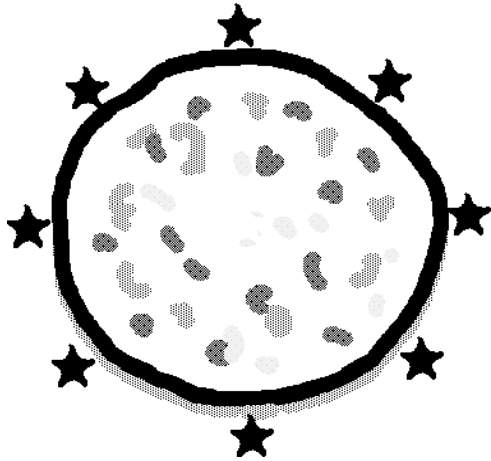
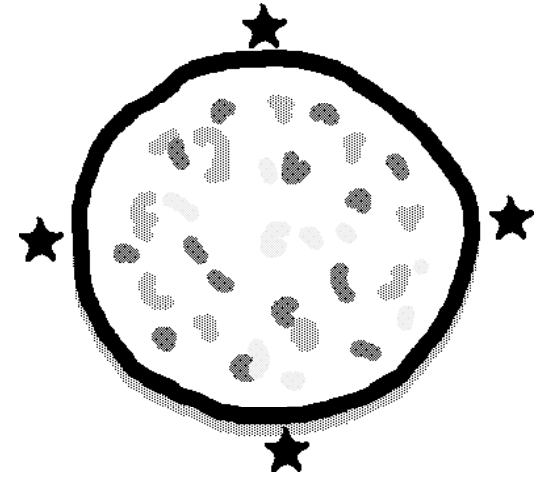

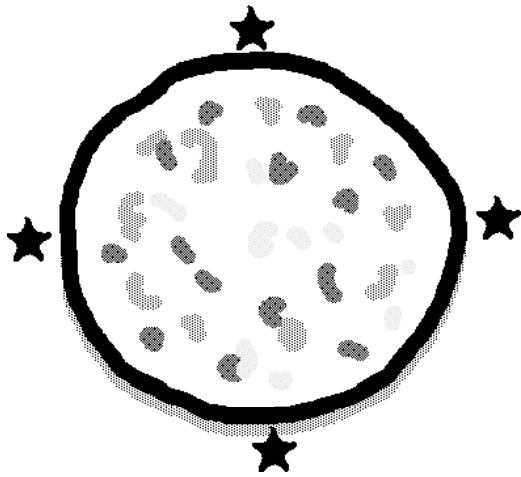
□ □ □ □ □

□ □ □ □

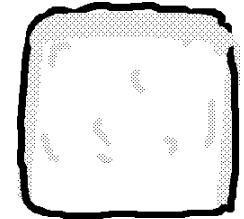
1名前の最後の言葉が「ん」の絵を見つけてオレンジ色の○をつけなさい。

2それぞれ名前の数だけ箱が並んでいます。「ん」が入る所の箱はどこですか。その中にオレンジ色の○を書きなさい。

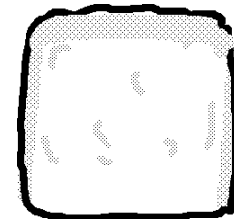
レインボー先生




さんかく4つ



ましかく4つ

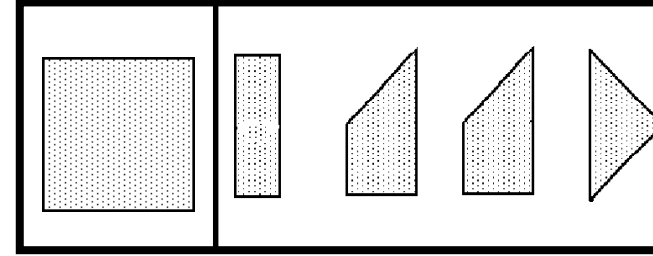
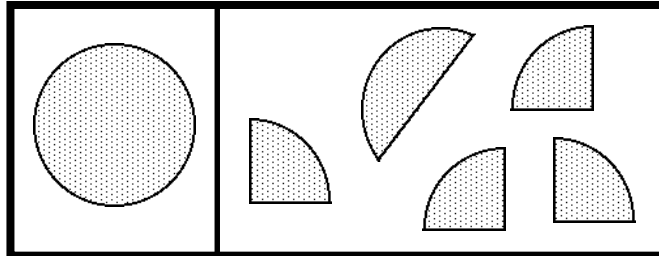
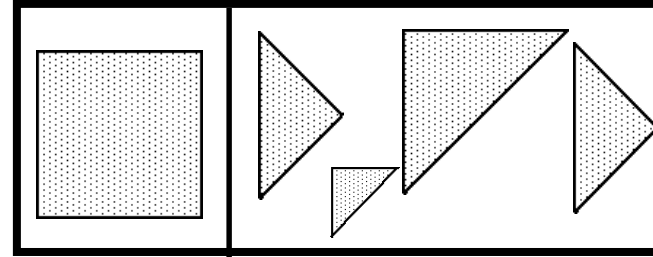
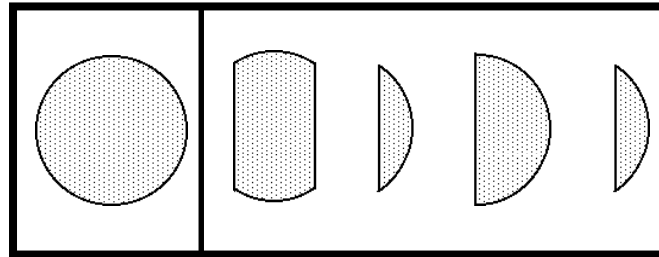
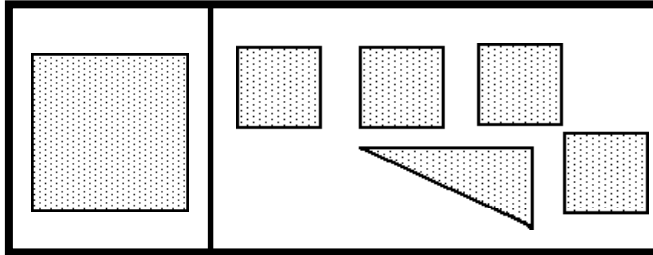
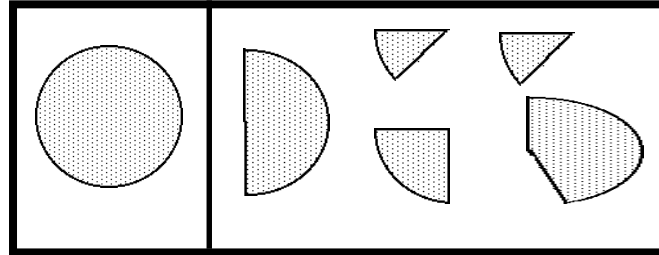
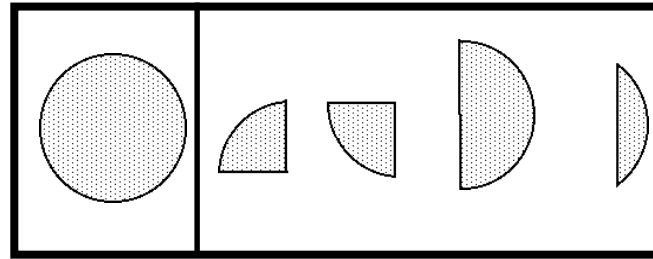
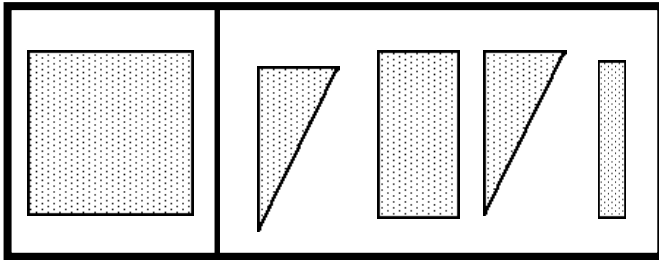


ながしかく4つ


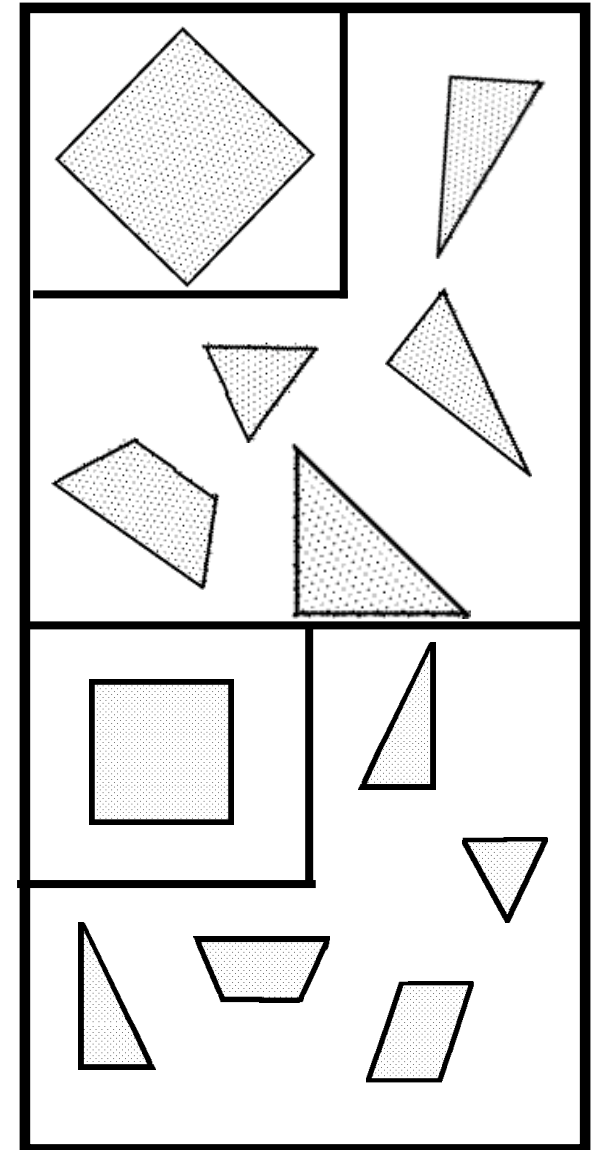


おともだちの数だけおなじ大きさにピザやカステラを切るにはどこを切ったらよいでしょうか。
鉛筆で線を引きなさい。

レインボー先生



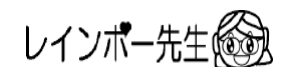
ハイレベル

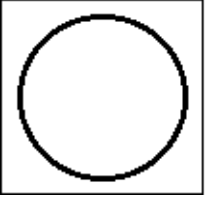



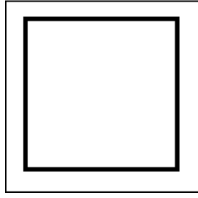

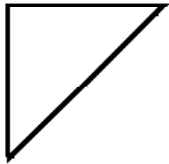


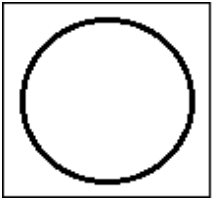







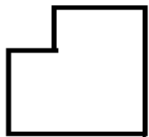











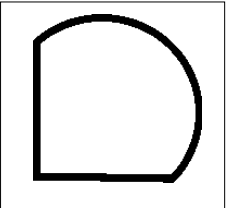
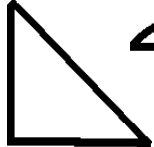



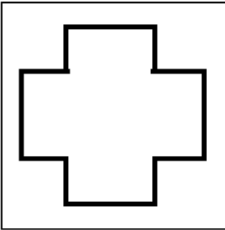









ハリセンボン

図形パズルの問題は入試によく出題されます。

右の形を組み合わせて左の図形を作りました。1つ足りないものがあります。それに青色の×を付けなさい。

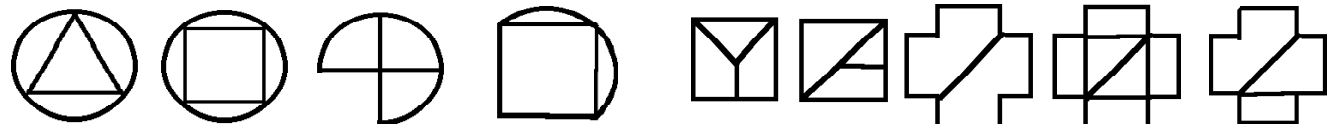





ヒントだよ～


マンボウ




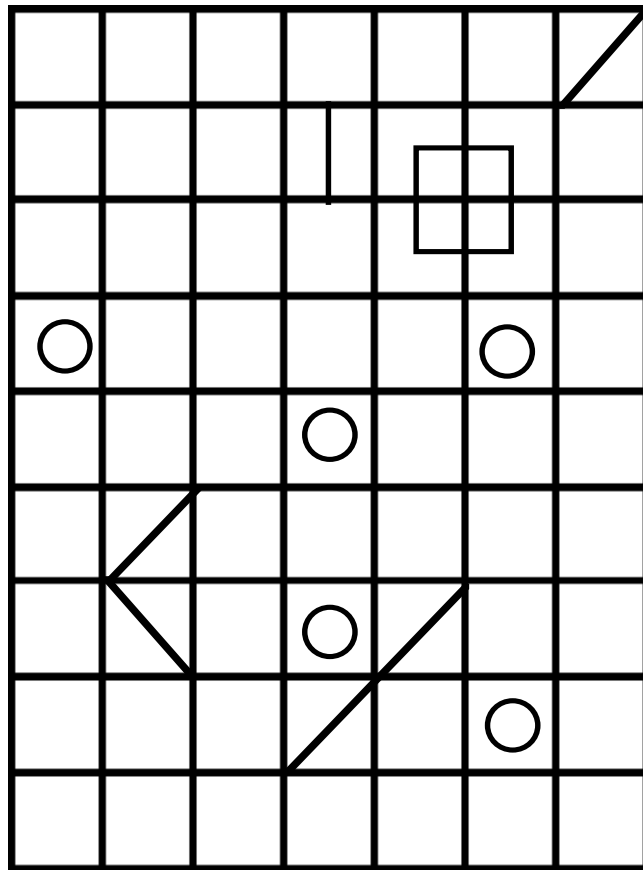
左の形を作るのに使わない形を1つ見つけて茶色の○を付けなさい。

レインボー先生 

つづけてきれいに鉛筆で書きましょう。



お手本通りに鉛筆で丁寧に書きましょう。



年長 各0' 10"

1 手紙にカーキ色でこのまゝに色を塗ってください。黄色で目を塗ってください。
 2 どのカードでも同じ色で塗りつぶしてください。緑色の色を塗ってください。
 3 水輪にはいろいろな色があります。緑色の色を塗ってください。
 4 お花の色はいろいろあります。お花の色を塗ってください。
 5 お花の色はいろいろあります。お花の色を塗ってください。
 6 お花の色はいろいろあります。お花の色を塗ってください。

レインボー先生

年長 1' 30"

あまりの数

それぞれの数だけつむじが長く黒く塗ってください。黒く塗ったつむじは、その数だけ輪の色の数を塗ってください。

レインボー先生

年長 1' 45"

それぞれの数がある色が書いてあります。組み合わせで足りない数はいくつですか。その数だけ黄色で目を塗ってください。

レインボー先生

年長 1' 30" 0' 30"

1 色を塗ってあげてもめもさもないことが注意が必要です。
 2 それぞれの動物の顔に色を塗ってください。「」が顔の場所の場所です。その場所にオレンジ色の色を塗ってください。

レインボー先生

年長 各0' 20"

それぞれの数だけ色を塗ってください。色が塗られたところは、お花の色を塗ってください。

レインボー先生

年長 2' 45"

図形パズルの問題は入試によく出題されます。
 ハリセンボン
 石の形を組み合わせて左の図形を作りました。1つは長いものがありません。それに黄色の×を塗ってください。

レインボー先生

年長 2' 45"

ヒントだよー
 マンボウ
 左の形を作るのに使わない形を1つつけて黄色の×を塗ってください。

レインボー先生

つなげてきれいに影で書きましょう。
 お手本通りに鉛筆で丁寧に書きましょう。

解答省略

レインボー先生