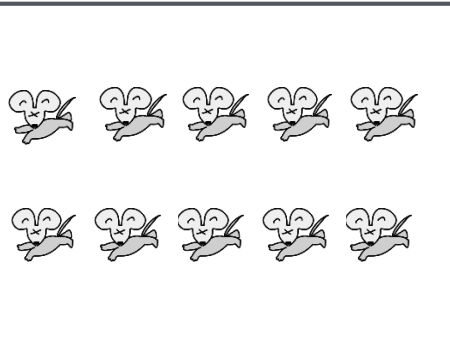











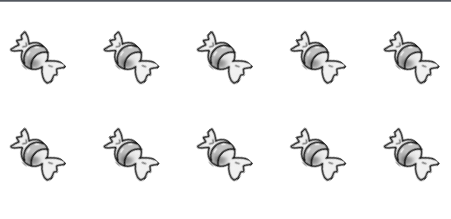






rainbow

rainbow



rainbow

rainbow

左の絵の数をしらべてその数だけ右の絵に斜め線「/」を青色でつけましょう。



こんなかんじね



rainbow

だい (台)



ぼん (本)



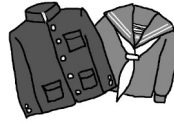
こ (個)



とう (頭)



ちゃく (着)



ひき (匹)



そく (足)



まい (枚)



だい (台)

ぼん (本)

こ (個)

とう (頭)

ちゃく (着)

ひき (匹)

そく (足)

まい (枚)

匹と頭の違い？

ゾウを1匹といっても
間違いではありません。
匹のほうがたくさん動物を
カバーする数え方

境界は抱きかかえそうなのは
匹かな？

イヌやオオカミは微妙だね
大きな犬は頭でもいいよね
トイプードルは匹かな

電気製品は

台というんだよ

お茶やコーヒーは
ばい (杯)

お茶はぶく (服) ともいうよ

ズボン

まい (枚)

ぼん (本)


ちゃく (着)

Tシャツは枚でもいいよね

数え方は難しいね



rainbow



rainbow

同じ数えかたをするものどうし緑色の線でむすびましょう。



おおいほうから
すくないほうに
あげようね

まずは
1こ けて
すくないほうの
おさらに
まる

4こと2こ
になりました

3こと3こ
おなじになったね

まだおおいの
でもう1こけて
すくないほうの
おさらに
まる

○	○		

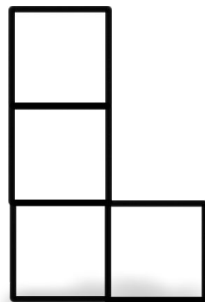

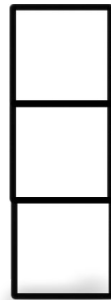


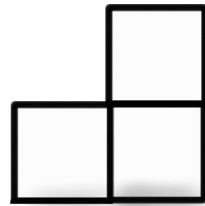

タヌキさんとウサギさんが持っているドングリを仲良くわけます。多い方のドングリをいくつ少ない方にあげたらいいですか。その数だけマス目に○を赤色でかきましょう。



rainbow


rainbow

rainbow



rainbow

右のように見えているクマさんは4匹の中でどのクマさんですか。そのクマさんに茶色の○をつけましょう。



カビバラ



アルマジロ



--	--	--	--	--	--	--	--	--	--




--	--	--	--	--	--	--	--	--	--



--	--	--	--	--	--	--	--	--	--




--	--	--	--	--	--	--	--	--	--




--	--	--	--	--	--	--	--	--	--



--	--	--	--	--	--	--	--	--	--

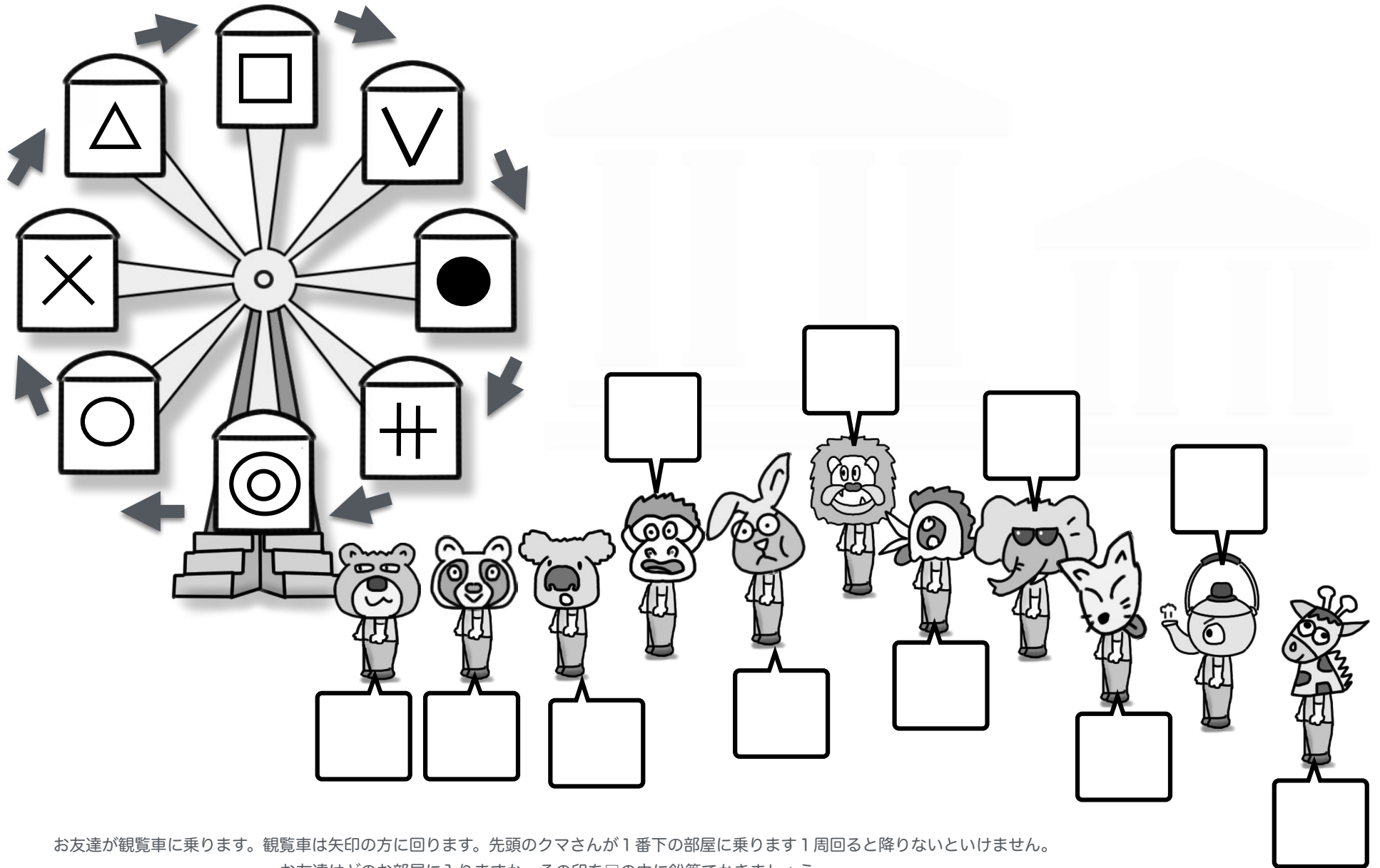


--	--	--	--	--	--	--	--	--	--

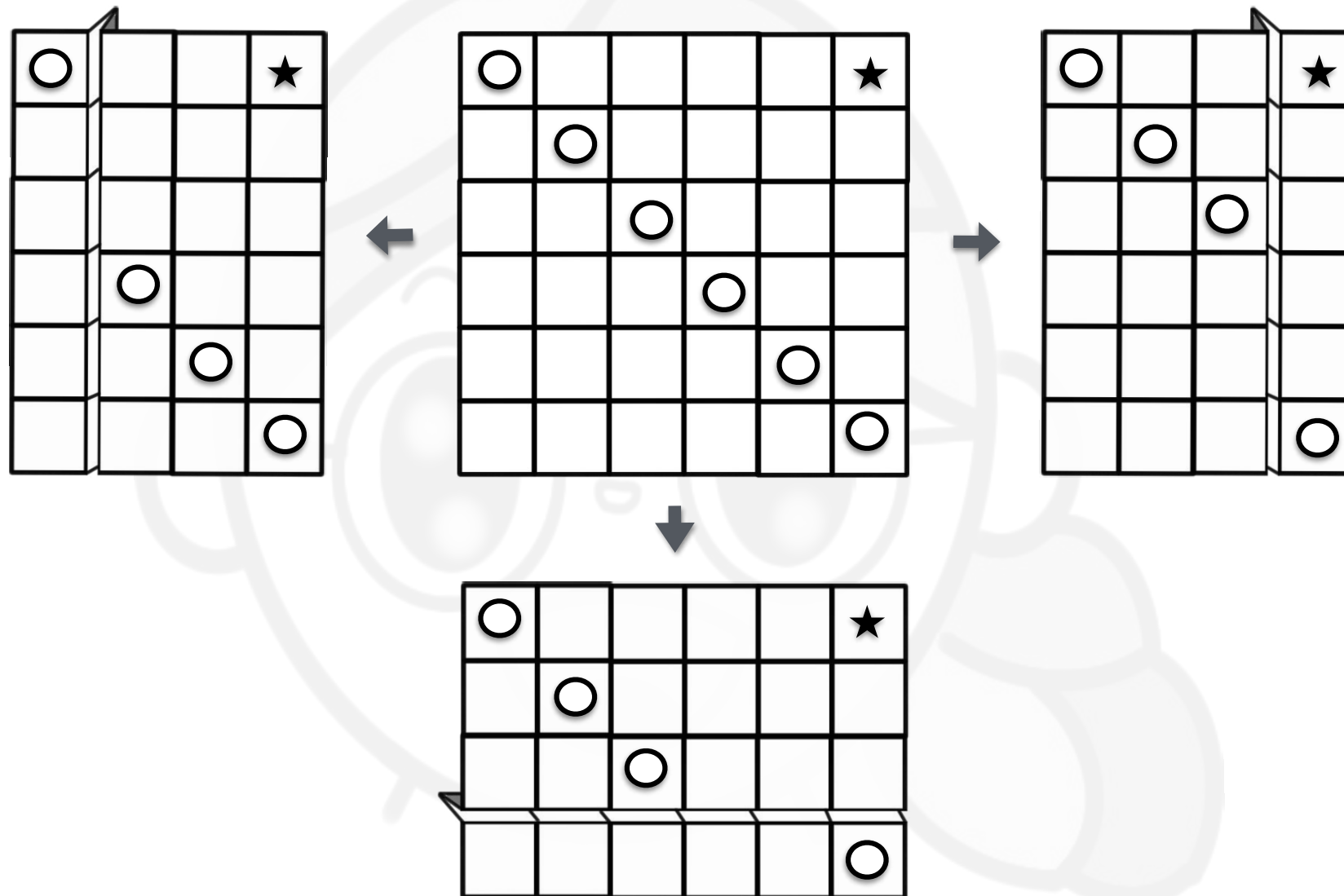


--	--	--	--	--	--	--	--	--	--

カビバラさんが左上のおむすびを持ってアルマジロさんのところに行きます。途中おじいさんに出会うとおむすび1個貰えますがカニさんに会うと1個あげないといけません。おむすびは最後は幾つになりましたか。その数を下のマス目に青色でかきましょう。



お友達が観覧車に乗ります。観覧車は矢印の方に回ります。先頭のクマさんが1番下の部屋に乗ります1周回ると降りないといけません。
お友達はどのお部屋に入りますか。その印を□の中に鉛筆でかきましょう。



2 上のお手本のマス目が折れています。○はどこにきますか。鉛筆でかきましょう。

