

ぼくは
おへやに
なんびき
いましたか

ミーアキャット




ミーアキャットはお部屋に何匹いましたか。その数だけ箱に赤色で○をかきましょう。



rainbow

rainbow

ら



ぱ

●

●

*



り



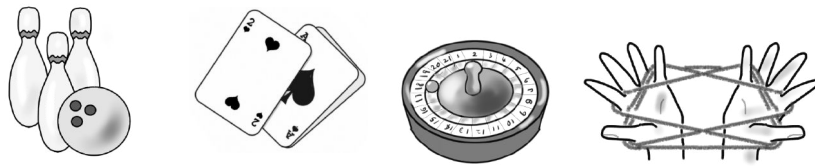
ぴ

●

●



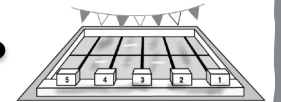
る




ぷ

●

●



れ



ぺ


●

●



*

ろ



ぽ

●

●





rainbow

rainbow

左端のひらがなで始まる絵に赤色の○をつけましょう。

左端のひらがなで始まる絵を見つけて赤色の線でむすびましょう。

*ポップコーン・ピエロ


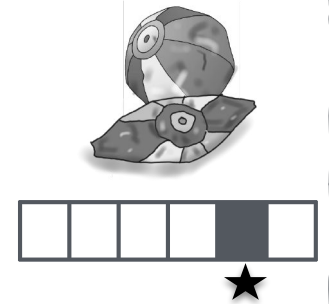
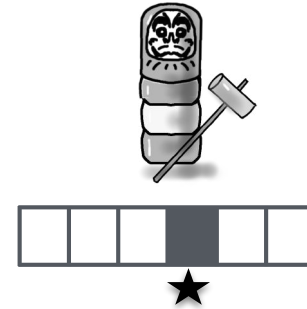

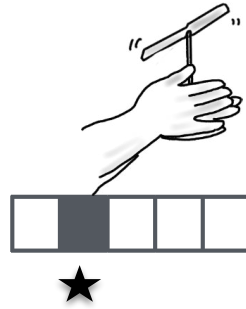
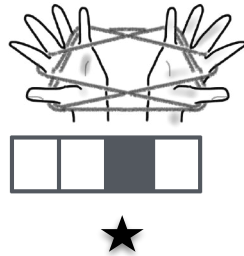
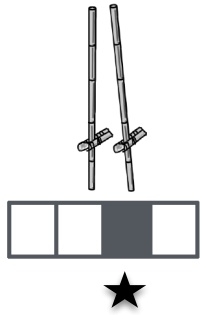


- サイコロ1 タヌキさんはキツネさんより走るのが遅いです。走るのが速いのはどちらですか。赤色で○をつけましょう。
- サイコロ2 ブタさんはパンダさんよりよく食べます。あまり食べないのはどちらですか。赤色で○をつけましょう。
- サイコロ3 タヌキさんはひとりっ子です。パンダさんは3人兄弟です。キツネさんは2人兄弟です。1番兄弟が多いお友達に赤色の○をつけましょう。
- サイコロ4 キツネさんはニンジンが嫌いです。ブタさんはピーマンが嫌いです。パンダさんはトマトが嫌いです。ニンジンが嫌いなお友達に赤色の○をつけましょう。
- サイコロ5 ブタさんはイヌくんより速く走れます。イヌくんはパンダさんより速く走れます。1番速く走るお友達に赤色の○をつけましょう。
- サイコロ6 みんなで鉄棒にぶら下がり数をかぞえました。ネコさん8まで数えて落ちました。キツネさんは6まで数えて落ちました。イヌさんは7まで数えて落ちました。1番長くぶら下がったお友達に赤色で○をつけましょう。



rainbow

rainbow













rainbow



rainbow



上の絵の名前の音の数だけ（名前の言葉の数）箱があります。★のところの言葉（音）で始まる絵を下から見つけてオレンジ色の線でむすびましょう。



たけうま・あやとり・たけとんぼ・かたぐるま・だるまおとし・かみふうせん























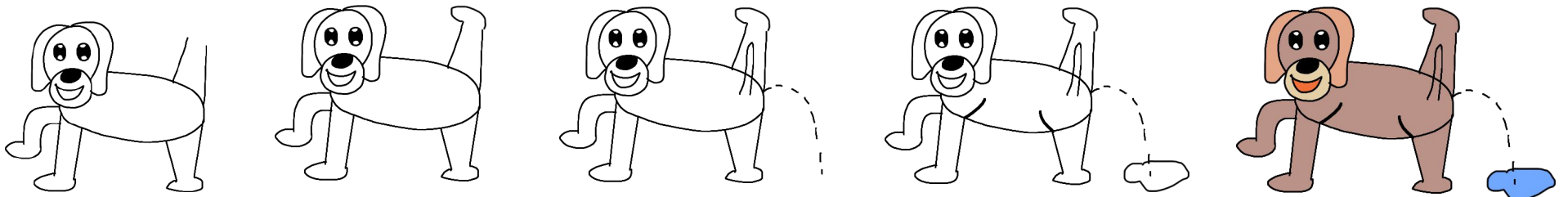





積み木くんが遊んでいます。途中、右の数だけ家に帰りました。残った積み木の数だけ右の箱に緑色で○をかきましょう。




おえかき・いろぬり

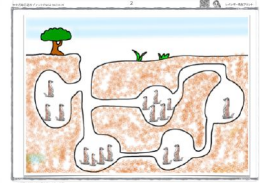


いぬ

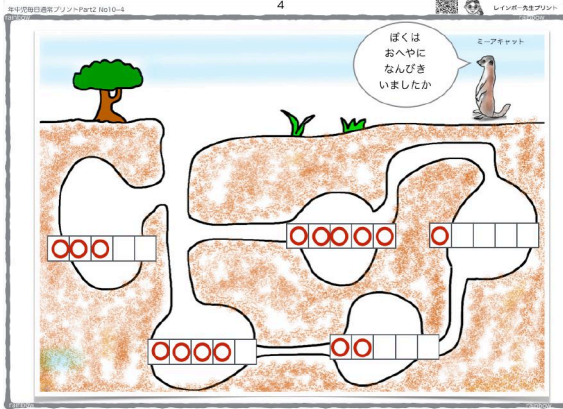


たのしく
ていねいに
かいてね





ミーアキャット



年中児毎日通常プリントPart2 No10-4

サイコロ1 犬やネコはウツクヤさんよりの足跡が通ります。足跡が通らぬところは、動物で「あつた」です。
 サイコロ2 犬やネコはウツクヤさんよりの足跡が通ります。足跡が通らぬところは、動物で「あつた」です。
 サイコロ3 犬やネコはウツクヤさんよりの足跡が通ります。足跡が通らぬところは、動物で「あつた」です。
 サイコロ4 犬やネコはウツクヤさんよりの足跡が通ります。足跡が通らぬところは、動物で「あつた」です。
 サイコロ5 犬やネコはウツクヤさんよりの足跡が通ります。足跡が通らぬところは、動物で「あつた」です。
 サイコロ6 犬やネコはウツクヤさんよりの足跡が通ります。足跡が通らぬところは、動物で「あつた」です。

年中児毎日通常プリントPart2 No10-4

1. 最も高い動物(2)と1. 最も低い動物(1)を赤線でつなぐ。

年中児毎日通常プリントPart2 No10-4

みんな持っているおもちゃの数を数えよう。おもちゃの数を数えよう。おもちゃの数を数えよう。

一度も上がったことがないお友達が1番重い
一度も下がったことがないお友達が1番軽い

年中児毎日通常プリントPart2 No10-4

ら		は	
り		び	
る		ぶ	
れ		べ	
ろ		ほ	

年中児毎日通常プリントPart2 No10-4

積み木を数えよう。積み木を数えよう。積み木を数えよう。

答えは1つとは
かぎらないよ



年中児毎日通常プリントPart2 No10-4

おえかき - いろぬり

いぬ

たのしくていねいにかいてね

解答省略

たのしくていねいにかいてね



だるま落とし

伊勢伝統工芸保存協会

伊勢玩具より