


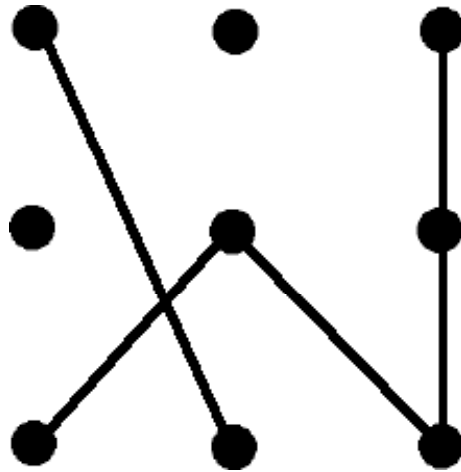
表紙

年中児（4～5歳）毎日通常プリント No1-2



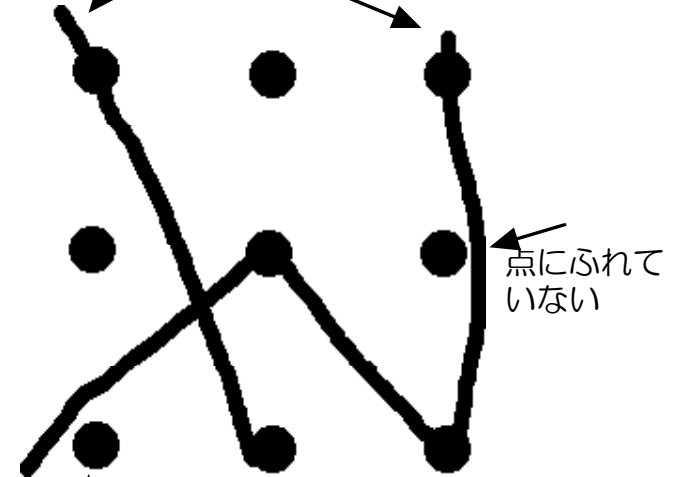
鉛筆は正しく持てますか
姿勢は正しいですか
年中児さんとはとにかく
きれいに書くことを大切にね

お手本




これはダメですよ
きびしくね。

はみだし

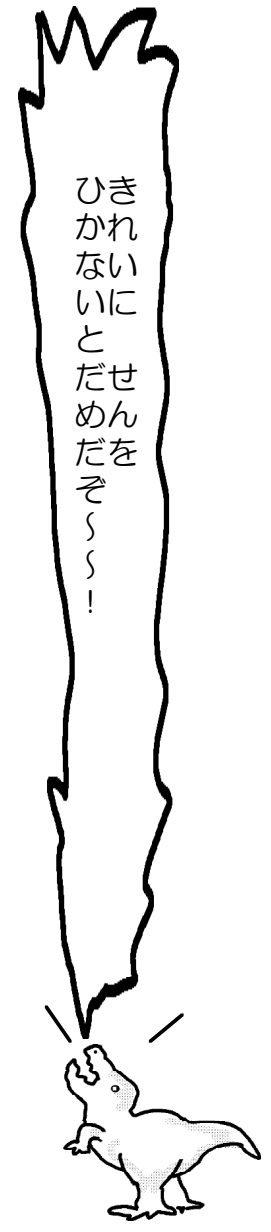


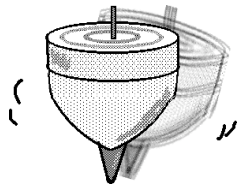


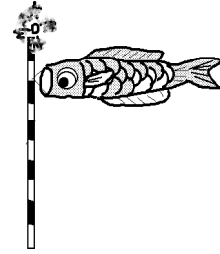



なまえ

















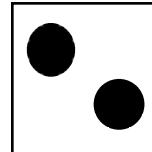




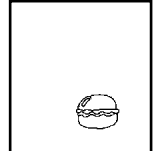
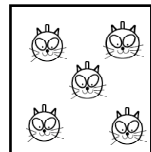

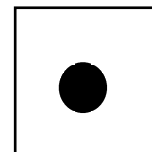

ウルトラニャンの場所をしっかりと覚えましょう。20"

ウルトラマンのいた場所はどこでしたか。黒のクーピーで○を書きましょう。20"

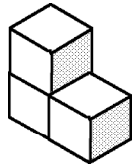
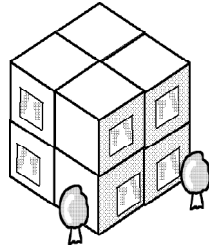



ひき
か
な
い
に
と
だ
せ
ん
だ
を
ぞ
ろ
ろ
!

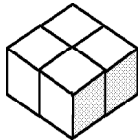
それぞれの絵の名前の最初のことは（音）が同じものを見つけて青色で結びなさい。

	☆		☆		☆		☆
	☆		☆		☆		☆
	☆		☆		☆		☆
	☆		☆		☆		☆
	☆		☆		☆		☆
	☆		☆		☆		☆

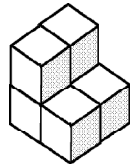
同じ数のものどうし鉛筆で結びなさい。



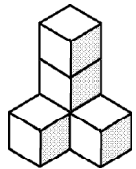
--	--	--	--	--	--	--	--	--	--



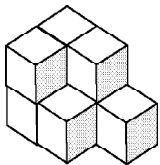
--	--	--	--	--	--	--	--	--	--



--	--	--	--	--	--	--	--	--	--



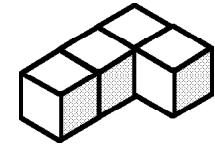
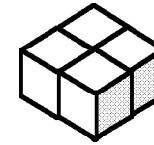
--	--	--	--	--	--	--	--	--	--



--	--	--	--	--	--	--	--	--	--

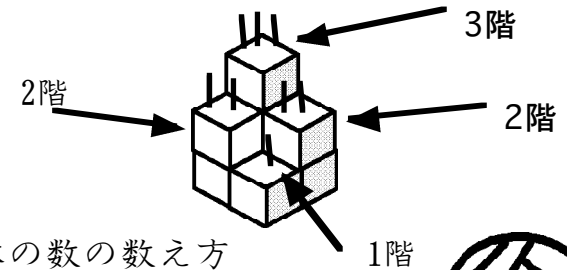
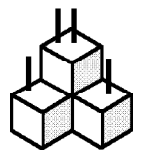
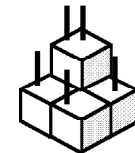
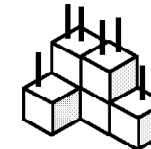
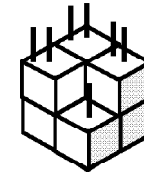
お母さんへ

すぐ数が分かる積み木



そのまま数えましょう

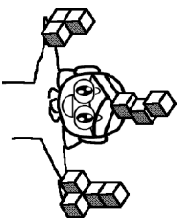
隠れている積み木の数え方




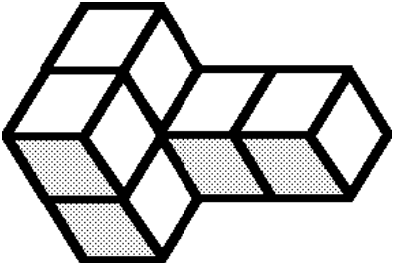

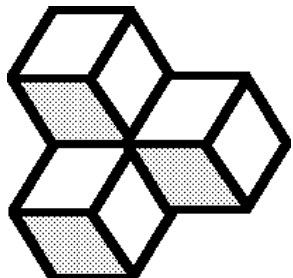

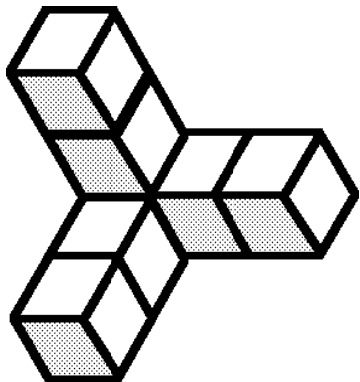

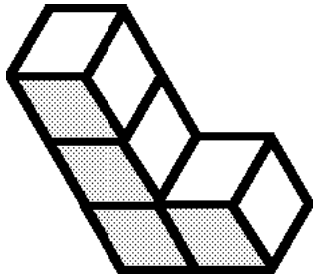

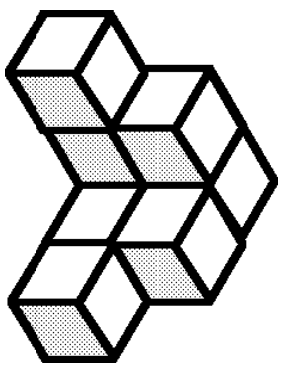

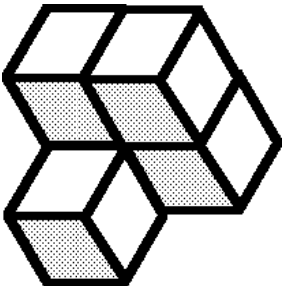

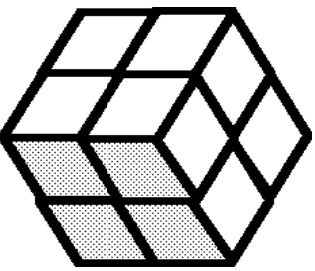


積み木の数の数え方
上記のようにマンションにたとえて
積み木の天板で数えると理解できます。
積み木は受験の基礎
できるだけ早く理解させてあげてください。



積み木の数をかぞえてその数だけ右の枠に茶色で○を書きなさい。



正方体の積み木は ホームセンター 東急ハンズ等で見かけたことがあります。
サイコロキヤラメルでもかまいません。購入して色々な形を実際に積ませて下さい。

○をきれいに鉛筆で書きましょう

--	--	--	--	--	--	--	--	--	--

×をきれいに鉛筆で書きましょう

--	--	--	--	--	--	--	--	--	--

△をきれいに鉛筆で書きましょう

--	--	--	--	--	--	--	--	--	--

見本どおりに鉛筆で書きなさい。

● ● ● ● ●		● ● ● ● ●
● ● ● ● ●		● ● ● ● ●
● ● ● ● ●		● ● ● ● ●
● ● ● ● ●	→	● ● ● ● ●
● ● ● ● ●		● ● ● ● ●
● ● ● ● ●		● ● ● ● ●

The diagram shows a 6x5 grid of dots. On the left, a path is drawn from the top-left dot to the bottom-right dot, consisting of a vertical line, a horizontal line, and a diagonal line. An arrow points to the right, where the same 6x5 grid of dots is shown without any lines drawn.

お母さん
きれいに書けていないのに
花まるつけたらダメダメ！



年中No1-2の解答

年中

レインランド

ワルトヘンツのいた場所はここでしたら、黒のフリーデーで○を書きましょう。20*

年中

レインランド

お母さんへ
下の数の分だけ積み木
そのまゝ積ましよう
積まれている積み木の数を数えよう

積み木の数の数え方
上段の上からブロックを
積み木の天板で数える
と理解できます。
積み木は全体の基礎
であるだけ早く理解さ
せてあげてください。

各200円

年中

レインランド

お母さんへ
ワルトヘンツのいた場所はここでしたら、黒のフリーデーで○を書きましょう。20*

積み木 (年中)

図例にでかい積み木をつくれ

各200円

解答省略

正解例の積み木は、ホーレンセンズー、集島ハイブで書かされたことがありません。
年中ワルトヘンツも子どもが描かなくても、購入して遊ぶお楽しみを準備して頂きたい。

レインランド

年中

レインランド

お母さんへ
ワルトヘンツのいた場所はここでしたら、黒のフリーデーで○を書きましょう。20*

年中

レインランド

お母さんへ
下の数の分だけ積み木
そのまゝ積ましよう
積まれている積み木の数を数えよう

積み木の数の数え方
上段の上からブロックを
積み木の天板で数える
と理解できます。
積み木は全体の基礎
であるだけ早く理解さ
せてあげてください。

各200円

解答省略

見本ブロックに照準で書かさない。
お母さんへ
ワルトヘンツのいた場所はここでしたら、黒のフリーデーで○を書きましょう。20*