





年長の秋の講習

# Study6



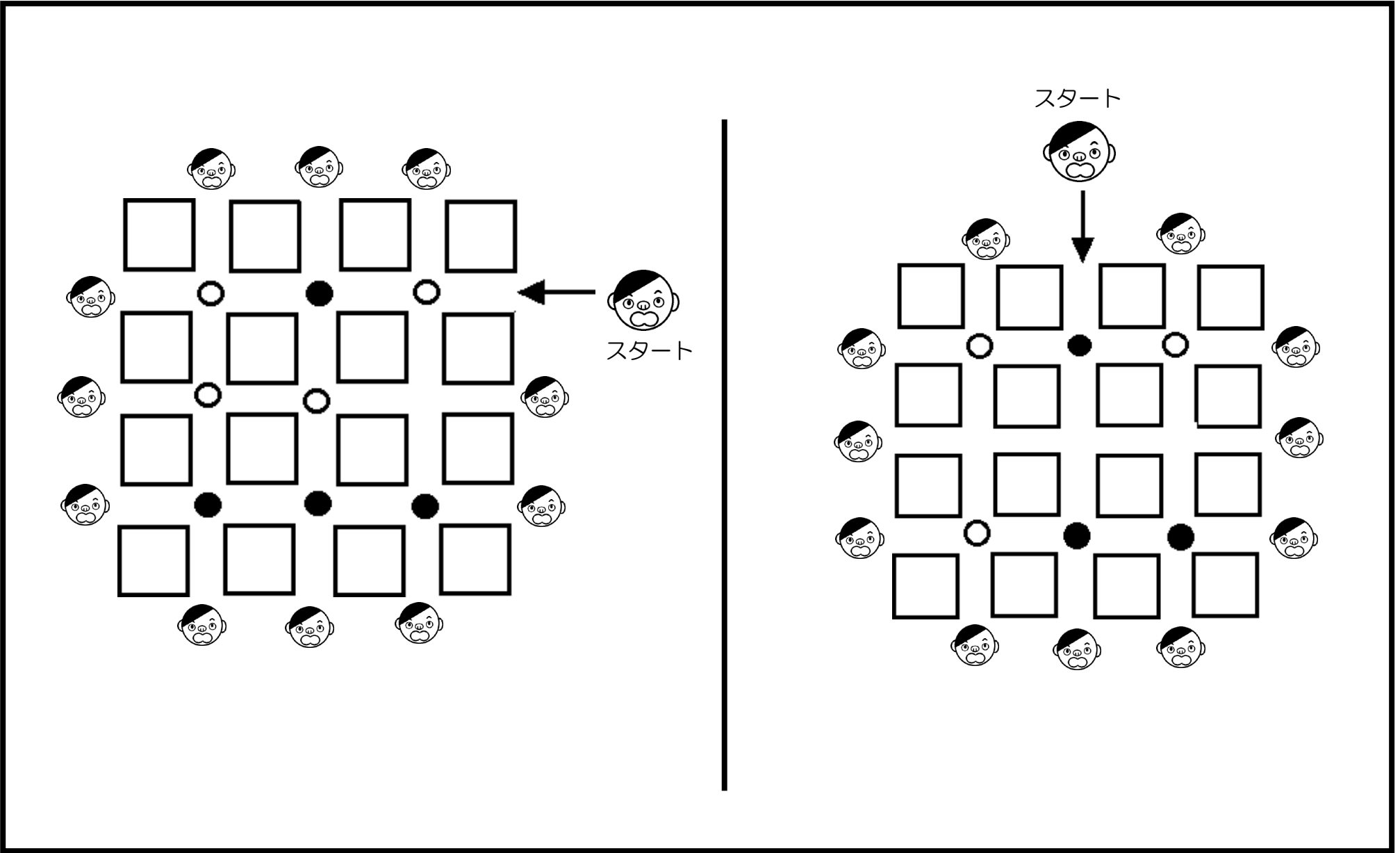
なまえ




地図と犬と骨の絵が書いてありますね。犬は骨が置いてある方へ角を曲がります。でも両方に並んで骨が置いてある時と両方に骨が無い時は真直ぐ進みます。その事をしっかりと覚えましょう。

The image shows two 7x3 grids of squares on the left and a 7x4 grid of squares on the right. Each square contains either a bone or a flower. A dog icon with an arrow points to the bottom-left square of the left grid. A dog icon with an arrow points to the bottom-left square of the right grid.


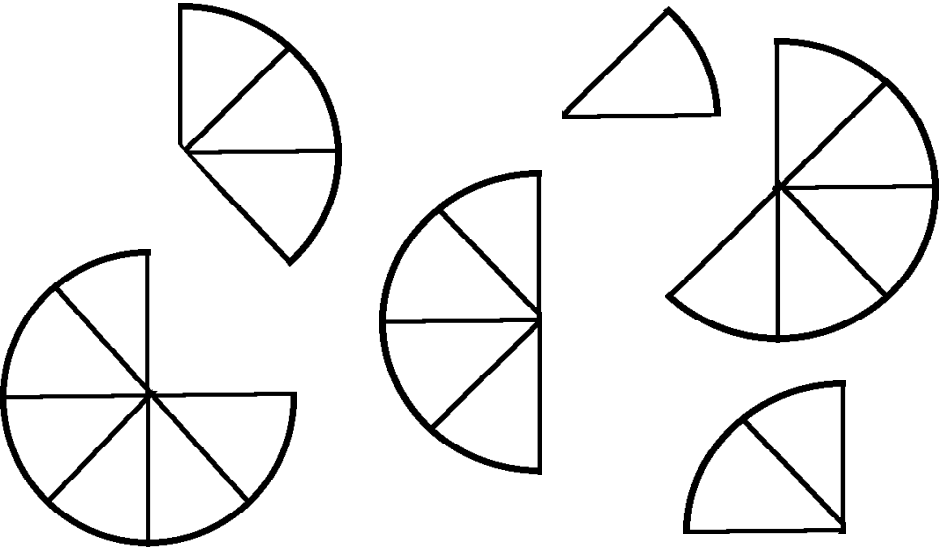
では、今覚えた決まり事で矢印の所から犬は歩きだしました。犬が歩いた道を赤色で線を引きなさい。





男の子が矢印の所から入って歩きます。ただし、●の所に来たら右に曲がらないといけません。  
○の所に来たら左に曲がらないといけません。何も無い所では真直ぐ歩きます。  
では男の子はどこまで行けたでしょうか。赤色で線を引き出てきた男の子の顔に○を付けなさい。








お友達とピザの絵です。太ったお友達、普通のお友達、細いお友達はそれぞれピザの黒い所だけ食べます。その事を覚えましょう。




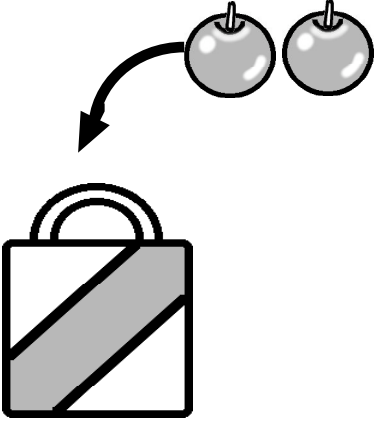


	
---	---

	
---	--

では、上のお友達が下のピザを食べました。ピザはどれくらい残りましたか。  
その大きさのピザに青色で○を付けなさい。

	  <table border="1" style="width: 100%; height: 30px; border-collapse: collapse;"> <tr> <td style="width: 12.5%;"></td> <td style="width: 12.5%;"></td> <td style="width: 12.5%;"></td> <td style="width: 12.5%;"></td> <td style="width: 12.5%;"></td> <td style="width: 12.5%;"></td> <td style="width: 12.5%;"></td> <td style="width: 12.5%;"></td> <td style="width: 12.5%;"></td> <td style="width: 12.5%;"></td> <td style="width: 12.5%;"></td> <td style="width: 12.5%;"></td> </tr> </table>												
	  <table border="1" style="width: 100%; height: 30px; border-collapse: collapse;"> <tr> <td style="width: 12.5%;"></td> <td style="width: 12.5%;"></td> <td style="width: 12.5%;"></td> <td style="width: 12.5%;"></td> <td style="width: 12.5%;"></td> <td style="width: 12.5%;"></td> <td style="width: 12.5%;"></td> <td style="width: 12.5%;"></td> <td style="width: 12.5%;"></td> <td style="width: 12.5%;"></td> <td style="width: 12.5%;"></td> <td style="width: 12.5%;"></td> </tr> </table>												

おサルのお引越しです。トラックにおサル3匹絶対に乗せないといけません。でも集まっているおサルさんの数が足りません。何匹足りませんか。その数だけ下の箱の中に鉛筆で書きなさい。


		
		

左の2つのカバンにはそれぞれリンゴが1個と2個は入ります。たくさんのリンゴ全部を買うために、男の子と女の子がスーパーに行きました。何回スーパーに行かないといけませんか。その数だけ枠の中に赤色で○を書きなさい。







さかだちすると  
男の子は女の子に  
女の子は男の子に  
なれ~~~~



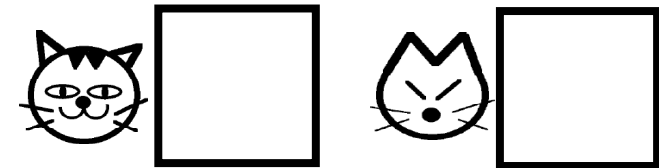

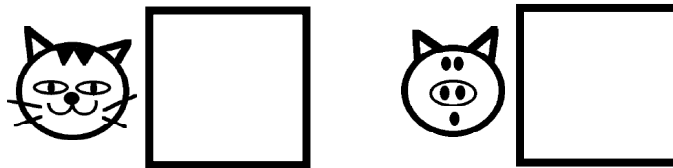
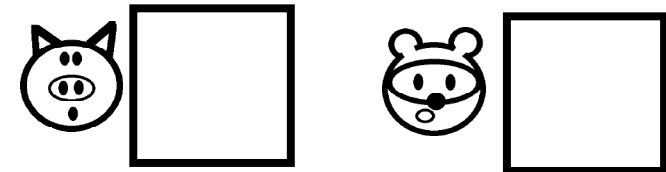



--	--	--	--	--	--	--	--	--	--	--	--	--	--	--	--	--	--	--	--	--



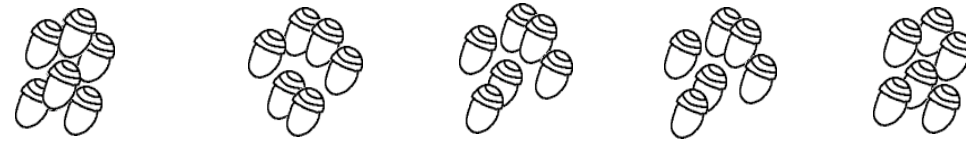



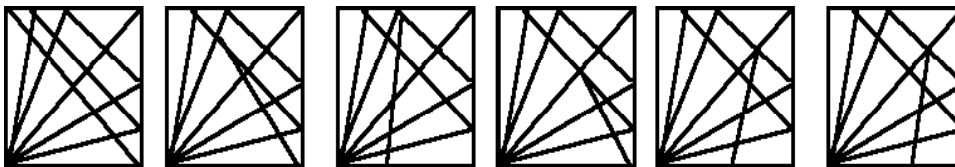

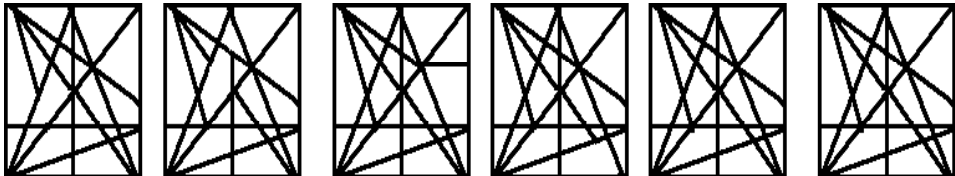
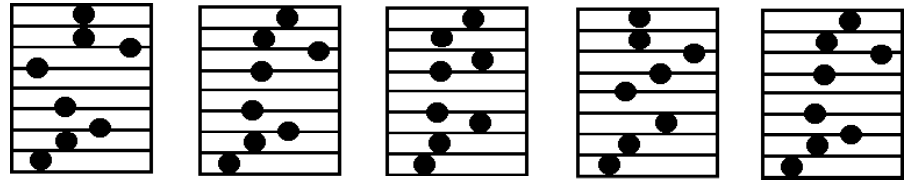
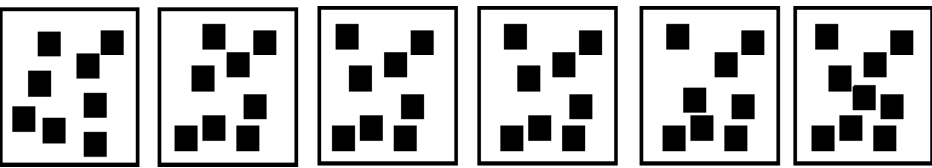
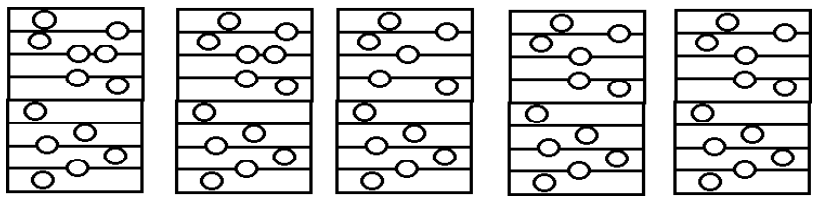
--	--	--	--	--	--	--	--	--	--	--	--	--	--	--	--	--	--	--	--	--

魔法使いが面白い魔法をお友達にかけました。逆立ちすると男の子は女の子に、女の子は男の子に変身します。  
本当の男の子の数は何人ですか。下の枠に○を鉛筆で書きなさい。

お腹がいっぱいのハムスターがお家の穴に帰ります。黒い穴には1匹 白い穴には2匹 四角の穴に3匹入れます。  
お家に入れなかったハムスターは何匹ですか。その数だけ下の箱に○を鉛筆で書きなさい。



ブタ・キツネ・ネコ・タヌキの絵が書いてある積木をサイコロを転がして出た数だけ印が書いてある下の長い台の上をずらします。(理解させて下さい)ではそれぞれ出たサイコロの数だけずれると下の動物達はどの印のところにきますか。その印を箱の中に青色で書きなさい。

同じ形が2つあります。見つけて緑色の○を付けなさい。

# 年長 秋の講習 Study6 解答

年長 秋の講習 Study6 1' 20"

では、今考えた決まり事で矢印の所から式は歩きだしました。式がゆいし道をおまわりして線を引きなさい。

レインボー先生

年長 秋の講習 Study6 2' 00"

男の子が矢印の所から入って歩きます。ただし、黒い線に当たらないで歩かないといけません。心の前に書いてある数字に歩かないといけません。正しい道を探して歩きます。では男の子はどこまで行けたでしょうか。青色で線を引き出た女の子の所に○を付けなさい。

レインボー先生

年長 秋の講習 Study4 1' 00"

では、上のお友達の下のお友達を探してください。ピザはどれくらい残りましたか。その入るサイズのピザに青色で○を付けなさい。

レインボー先生

年長 秋の講習 Study6 1' 00"

お友達の数を数えます。トラックにお友達を乗せたいといけません。でも乗せているお友達の数が増えます。何匹も乗せたい。その数だけ下の箱の中に丸を書きなさい。

レインボー先生

年長 秋の講習 Study6 1' 00"

左の2つのパンにはそれぞれリンゴが何個と数が入ります。たくさんリンゴ全部を買ったために、男の子と女の子がスーパーに行きました。何個スーパーに行かないといけません。その数だけ下の箱の中に色で○を書きなさい。

レインボー先生

年長 秋の講習 Study6 0' 40"

さかだちすると男の子は女の子に、女の子は男の子になれ〜

書きなさい。正しい答えをお友達に付けてください。正しいと男の子は女の子に、女の子は男の子に変わります。本物の男の子の数は何人ですか。下の箱に○を数で書きなさい。

レインボー先生

年長 秋の講習 Study6 1' 00"

お友達が持っているお星が何個かご紹介します。黒い丸には黒い、白い丸には白い、色い丸には色いお星の形を入れてください。お星を入れたらみんなさんご一緒です。その数だけ下の箱の中に丸を書きなさい。

レインボー先生

年長 秋の講習 Study6 2' 00"

フタ・キツネ・ネコ・クマなどの顔が書いてある絵本をサイコロを転がして出た数だけ印が書いてある下の長い箱の上を歩きます。(順番を決めてください) 出たサイコロの数字の付くところの箱の中の色で○を書きなさい。その数だけ下の箱の中に色で○を書きなさい。

レインボー先生

年長 秋の講習 Study6 3' 00"

同じ形が2つあります。青で色で○を付けなさい。

レインボー先生

できる子と  
できない子に  
わかる問題ね



ウシさんの  
つのとしっぽも  
みてね

