

これから学習・基礎プリント



毎日コツコツコツ コツコツヤレバ ダイジョウブ



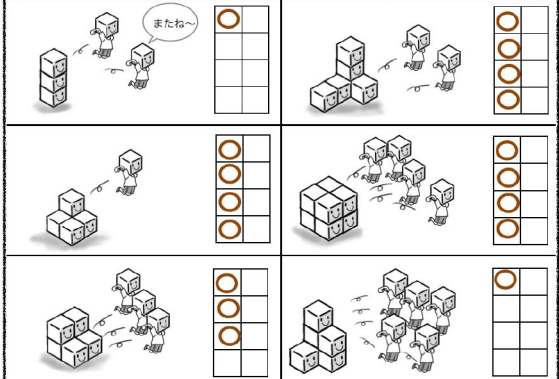
メモ

Handwriting practice lines consisting of seven horizontal lines.

なまえ

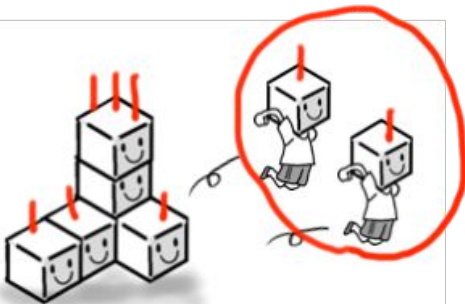
Handwriting practice grid with 12 columns and 2 rows.

これから学習・基礎プリントNo8-3 5 レインボー先生



積み木が崩れました。でも、日が落ちてまたあつたので右の積み木の数だけ作り直しました。積み木は何個残りましたか。その数だけ丸に色を塗ってください。

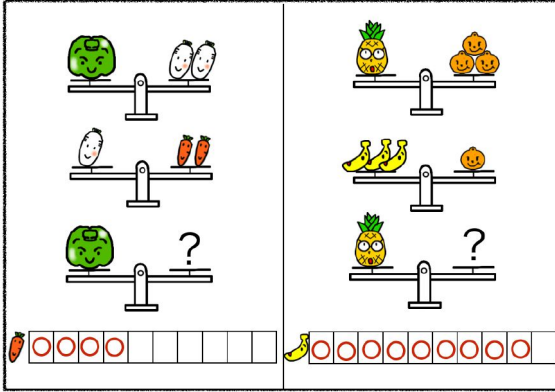
少なくなった積まれた積み木を想像できた方が良いのですが、なかなか難しいでしょう。




チェックつけます。そして右の数だけを除き数える。



これから学習・基礎プリントNo8-2 6 レインボー先生



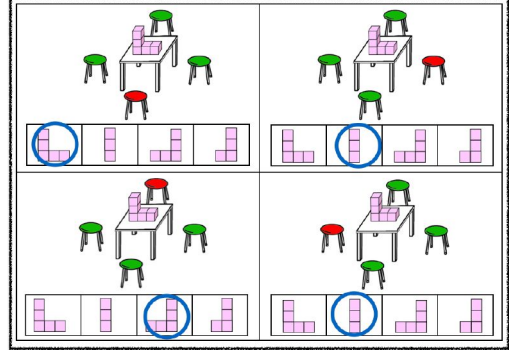
上のシーソーはつりあっています。では7のところにはニンジンやバナナはいくつあつていますか。その数だけ黄色でマス目に○をかきましょう。



つりあいのシーソーは園児泣かせの問題理解できるまで 焦らずコツコツ
シーソー問題は置き換え問題です



これから学習・基礎プリントNo8-2 7 レインボー先生



新しい椅子に座つてみたテーブルの上の椅子はどれですか。下から選んで黄色の○をつけましょう。

100円ショップで小さな椅子とテーブルが売っています。そのような小物を使って学習するのも楽しいよ～
下は100円ショップで購入したもので作った「四方からの観察」グッズ



間違つた時の訂正方法は学校によって違います。ほとんどの学校は「×(ばつ) = (横2本線) // (斜め2本線)」とても稀ですが消しゴムを使わせる学校もあります。訂正が×の学校は解答に×は使いません。数字や文字を書かせる学校はありませんが、説明会で「名前だけはかけるようにしておいてください」と宿題を与える学校もあります。名前はかけるようにしておきましょう。

これから学習・基礎プリントNo8-2 8 レインボー先生

よく聞いてください。名前が「ま」で始まる絵に○、「ば」で始まる絵に×、「さ」で始まる絵に△を罫の中に入れてください。(問題を2回行う)

これから学習・基礎プリントNo8-2 9 レインボー先生

1ばんめにお好きなカップは1ばんちいさなカップ3ばいとおなじです

2ばんめにお好きなカップは1ばんちいさなカップ2ばいとおなじです

上のお約束を覚えてトマトジュースが多く入っているのはどちらの罫の中のカップですか。多い方の下の四角に赤色の○を書きましょう。

1番小さなカップに置き換えてチェックをつけます。するとどちらが多いかわかります

ときどき見かける言語の問題
『ま』は まる (○)
『ば』は ばつ (×)
『さ』は さんかく (△)
一度やるとど〜ってこない問題

覚えておいてね。

『し』は しかく (□)
『く』は くろまる (●)
もあるからね

これから学習・基礎プリントNo8-2 10 レインボー先生

上のお約束どおり順番で書き換えましょう

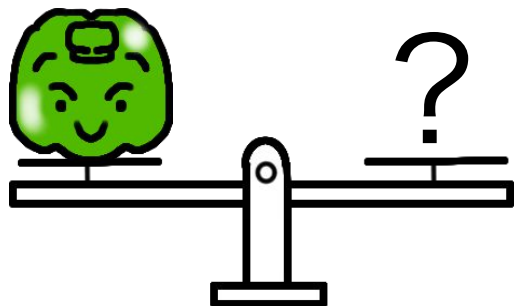
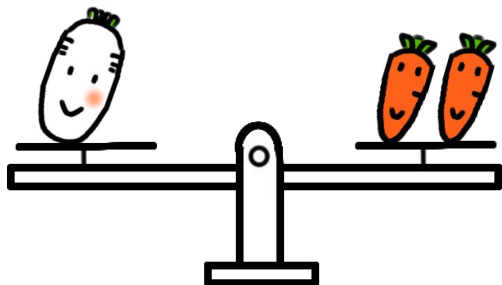

置き換えは必ず順番にやりましょう。


自分の書いたものをお手本にすると間違っただけのお手本にすることがあります。注意してね。

普通のお顔が○、ひっくり返ったお顔が×だけでも覚えると早くできるかもね




	<table border="1"><tr><td></td><td></td></tr><tr><td></td><td></td></tr><tr><td></td><td></td></tr><tr><td></td><td></td></tr></table>								
	<table border="1"><tr><td></td><td></td></tr><tr><td></td><td></td></tr><tr><td></td><td></td></tr><tr><td></td><td></td></tr></table>								
	<table border="1"><tr><td></td><td></td></tr><tr><td></td><td></td></tr><tr><td></td><td></td></tr><tr><td></td><td></td></tr></table>								
	<table border="1"><tr><td></td><td></td></tr><tr><td></td><td></td></tr><tr><td></td><td></td></tr><tr><td></td><td></td></tr></table>								
	<table border="1"><tr><td></td><td></td></tr><tr><td></td><td></td></tr><tr><td></td><td></td></tr><tr><td></td><td></td></tr></table>								
	<table border="1"><tr><td></td><td></td></tr><tr><td></td><td></td></tr><tr><td></td><td></td></tr><tr><td></td><td></td></tr></table>								


積み木達が遊んでいました。でも、日が暮れてきたので右の積み木の数だけ家に帰りました。積み木は何個残りましたか。その数だけ箱に茶色で○を書きましょう。









--	--	--	--	--	--	--	--	--	--	--	--	--	--	--	--	--	--









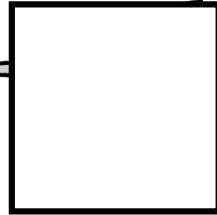
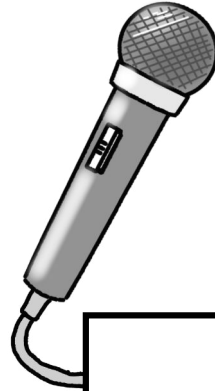



--	--	--	--	--	--	--	--	--	--	--	--	--	--	--	--	--	--

上のシーソーはつりあっています。では？のところにはニンジンやバナナはいくつ乗っていますか。その数だけ赤色でマス目に○をかきましょう。


									
<table border="1" style="width: 100%; border-collapse: collapse;"> <tr> <td style="text-align: center;"></td> <td style="text-align: center;"></td> <td style="text-align: center;"></td> <td style="text-align: center;"></td> </tr> </table>					<table border="1" style="width: 100%; border-collapse: collapse;"> <tr> <td style="text-align: center;"></td> <td style="text-align: center;"></td> <td style="text-align: center;"></td> <td style="text-align: center;"></td> </tr> </table>				
									
<table border="1" style="width: 100%; border-collapse: collapse;"> <tr> <td style="text-align: center;"></td> <td style="text-align: center;"></td> <td style="text-align: center;"></td> <td style="text-align: center;"></td> </tr> </table>					<table border="1" style="width: 100%; border-collapse: collapse;"> <tr> <td style="text-align: center;"></td> <td style="text-align: center;"></td> <td style="text-align: center;"></td> <td style="text-align: center;"></td> </tr> </table>				

赤い椅子に座ってみたテーブルの上の積み木はどれですか。下から選んで青色の○をつけましょう。



よく聞いてくださね。 名前が「ま」で始まる絵に○、「ば」で始まる絵に×、「さ」で始まる絵に△を箱の中に赤色でかきましょう。(問題を2回言う)


1ばんおおきなカップは
1ばんちいさなカップ3ばいと
おなじです




→







2ばんめにおおきなカップは
1ばんちいさなカップ2ばいと
おなじです







→



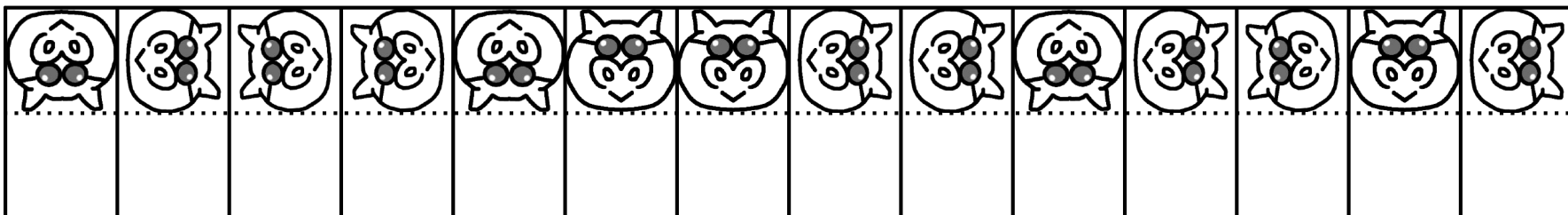
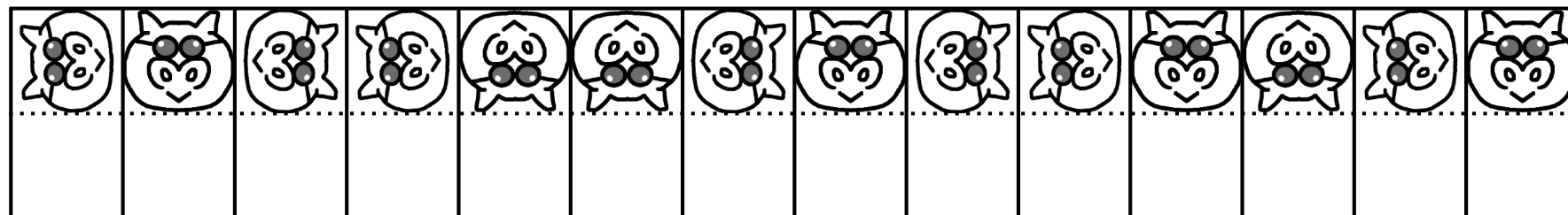


	
---	---

	
---	---

	
---	---

	
--	---

上のお約束を考えてトマトジュースが多く入っているのはどちらの箱の中のカップですか。多い方の下の四角に赤色の○を書きましょう。



上のお約束どおり鉛筆で置き換えましょう