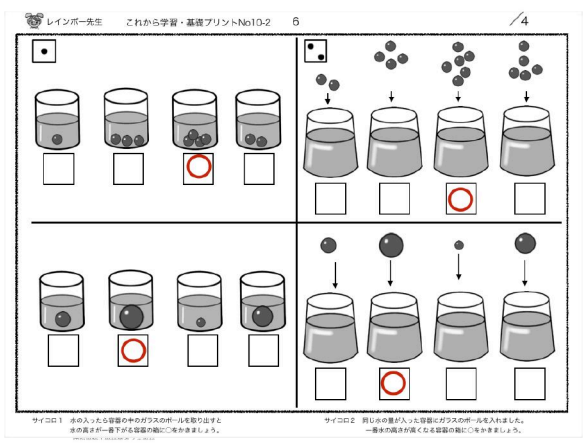
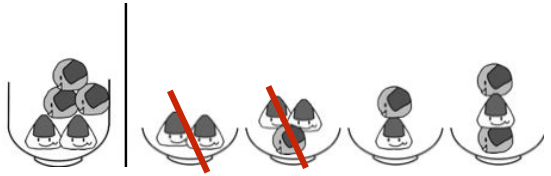


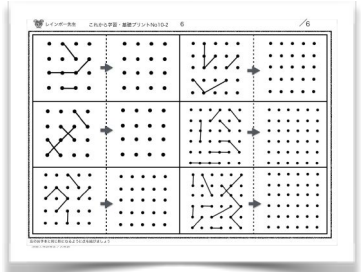
2種類3種類のものの数調べは
どれでも良いので1種類だけ注目
し、おかしいお皿を削除し絞り込んでいきます。



お父さんがお風呂からあがると
お湯が少ないでしょう。
天下一品のこってりラーメン
なんか、麺食べたらずープなくなるよ～
『スープは何処へ！！』ゴックン



ダイエット中のお母さん
「しらたき」ラーメン作ると
いいよ。美味しいしハマる！
痩せる！でも、何事も過ぎないように。



「解答ないのですか？」
「え～っ！え～最初から答えは
付いていま～す」

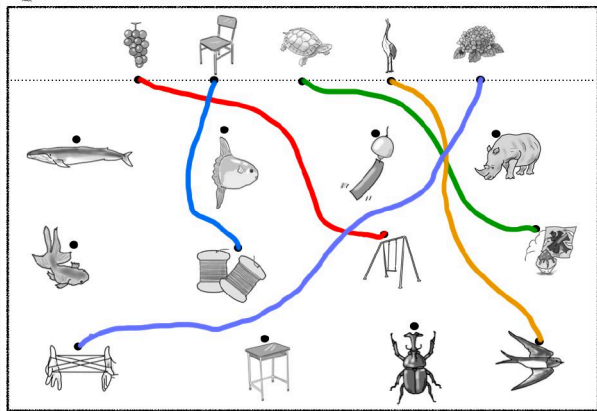
ダメね

ダメね

ダメね

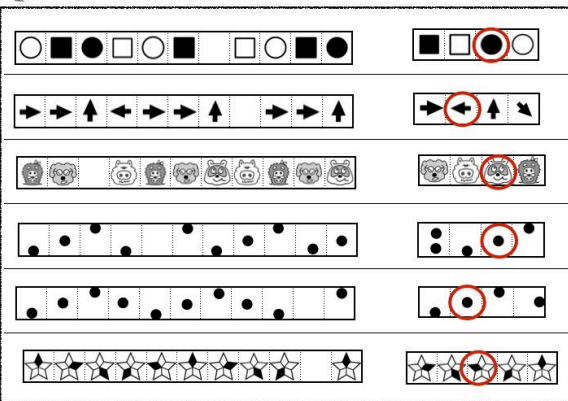
間違った時の訂正方法は学校によって違います。ほとんどの学校は「×(ばつ) = (横2本線) // (斜め2本線)」とても稀ですが消しゴムを使わせる学校もあります。訂正が×の学校は解答に×は使いません。数字や文字を書かせる学校はありませんが、説明会で「名前だけはかけるようにしておいてください」と宿題を与える学校もあります。名前はかけるようにしておきましょう。

レインボー先生 これから学習・基礎プリントNo10-2 8 /5



上の絵はしみの言葉を同じものを下から見つけて点と点を通う色のマーベンスンル結びます。ただし関係がない絵に当たらないようにしましょう。
静岡県小学校等多くの学校

レインボー先生 これから学習・基礎プリントNo10-2 9 /6



目や鼻があるまぶら顔で思っています。選んでいるところは目の目の能や鼻は入りますか、見つけて○をつけてみましょう。
静岡県小学校等多くの学校

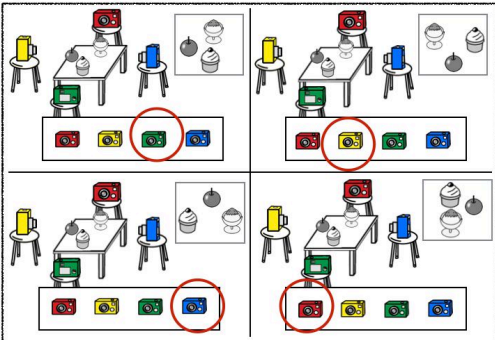
系列完成は慣れれば難しい問題ではありません。
難しいのは知識が必要な系列完成です。
「季節」「動物の種類」などの系列完成です



問題としては定番ですが形式的には少ない例です。色や線のひき方は色々です。でも、薄い色は使わない方がいいでしょう。よく出来るお子さんは「この色は見えにくい」など普通に大人なみに考えます。「先生がなんでもいって言ったもん」それも間違いではありません。
結果や相手のことを考えることは高度な感性。



レインボー先生 これから学習・基礎プリントNo10-2 10 /4



テーブルの上のものをカメラで撮影しました。写真が右のように写ったのはどのカメラで撮影したものでか、下の長方形の中にあるカメラに○をつけてみましょう。
静岡県小学校等多くの学校

「淑徳小学校」の過去問としていますがよく見かける四方からの観察問題です。が、カメラで撮影は面白いですね。どこの過去問か忘れましたが、「カメラ！ 今風問題」と少し笑いました。





左の数にするには右のどのお皿とどのお皿を選ぶと良いですか。○をつけましょう。

サイコロ1 水の入った容器の中のガラスのボールを取り出すと 水の高さが一番下がる容器の箱に○をかきましょう。

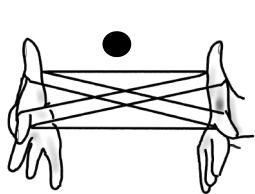
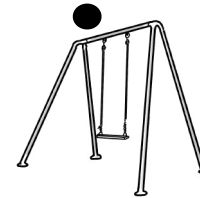
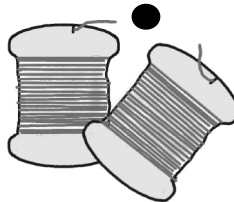


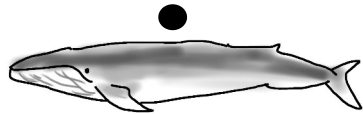

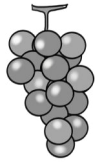
昭和学院小学校等多くの学校

サイコロ2 同じ水の量が入った容器にガラスのボールを入れました。一番水の高さが高くなる容器の箱に○をかきましょう。

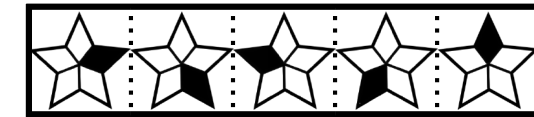
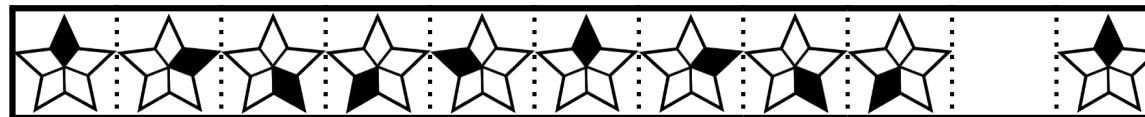
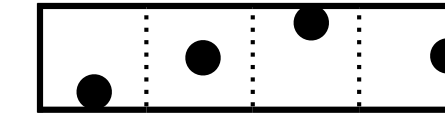
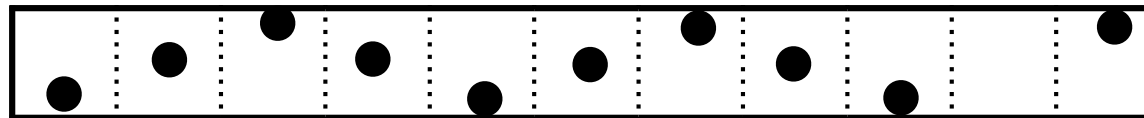
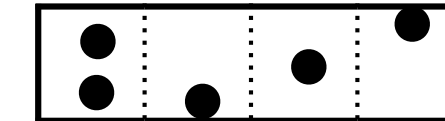
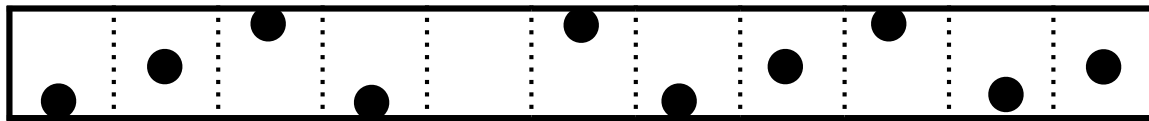


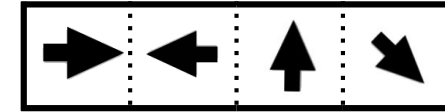
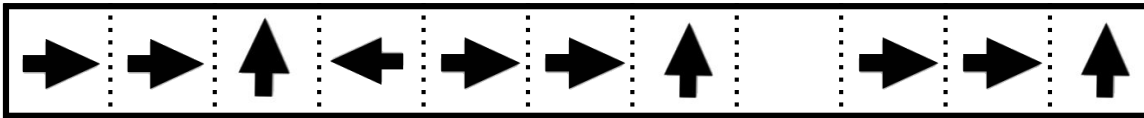
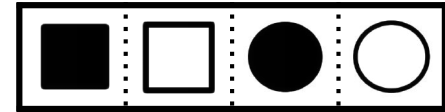



左のお手本と同じ形になるように点を結びましょう

成蹊小学校等多くの学校



上の絵のはじめの言葉が同じものを下から見つけて点と点を違う色のクーピーペンシルで結びましょう。ただし関係がない絵に当たらないようにしましょう。



形や絵がある決まり事で並んでいます。空いているところには右のどの絵や形は入りますか。見つけて○をつけましょう。

The puzzles are as follows:

- Top-Left:** Camera on tripod is red. Photo shows a cupcake, an apple, and a bowl of shaved ice.
- Top-Right:** Camera on tripod is red. Photo shows a bowl of shaved ice, a cupcake, and an apple.
- Bottom-Left:** Camera on tripod is red. Photo shows a cupcake, an apple, and a bowl of shaved ice.
- Bottom-Right:** Camera on tripod is red. Photo shows a cupcake, a bowl of shaved ice, and an apple.

テーブルの上のものをカメラで撮影しました。写真が右上のように写ったのはどのカメラで撮影したのでしょうか。下の長四角の中にあるカメラに○をつけましょう。