



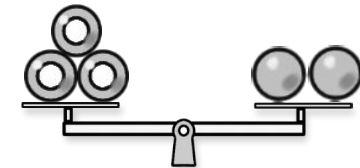
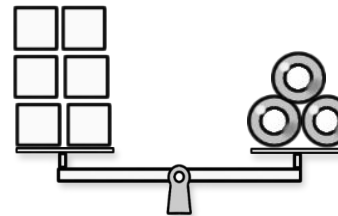
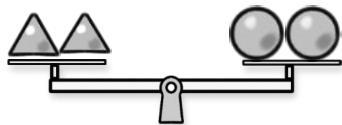
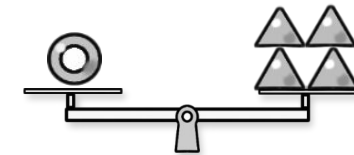
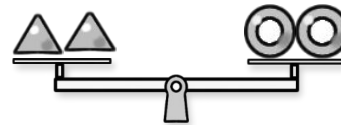
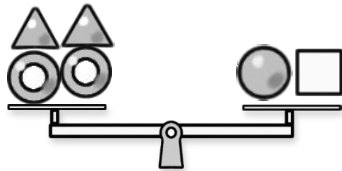
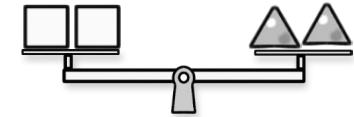
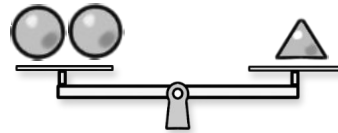
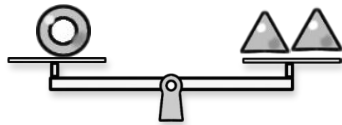
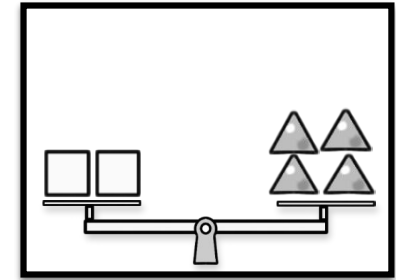
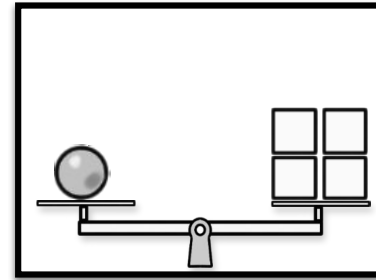
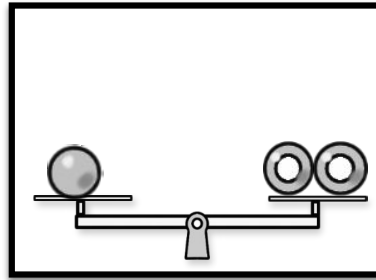
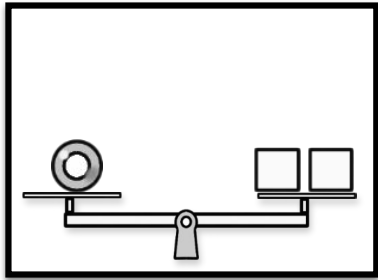
レインボー先生

早稲田実業学校初等部 2017過去問








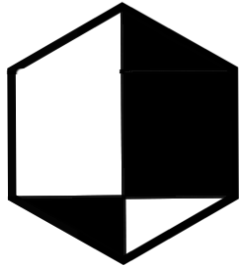
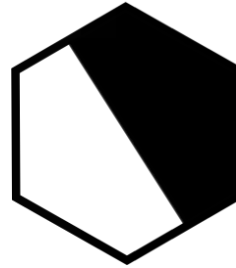

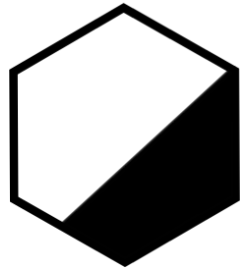
この過去問は学力アップの為、問題量や内容を少しかえている類似問題です。
尚、情報不足から記載していない問題もあります。



過去問に挑戦
絞った学習方法は的が小さくなり
当たりません。
いろんな学校の問題に挑戦すると
学力がアップ!




上の四角の中のシーソーは釣り合っている状態です。このようなお約束のとき、下のシーソーの中で正しいシーソー（釣り合ってる）はどれですか。赤色で○をつけましょう。



rainbow

rainbow


白いところと黒いところの広さが違うものを見つけて青色で○をつけましょう。

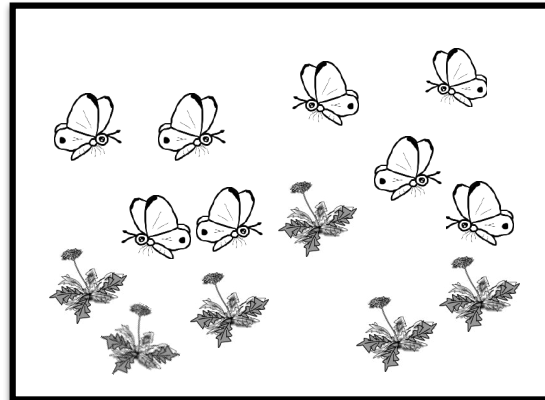


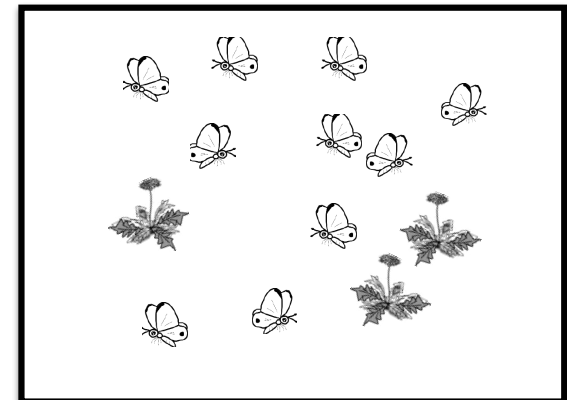
rainbow

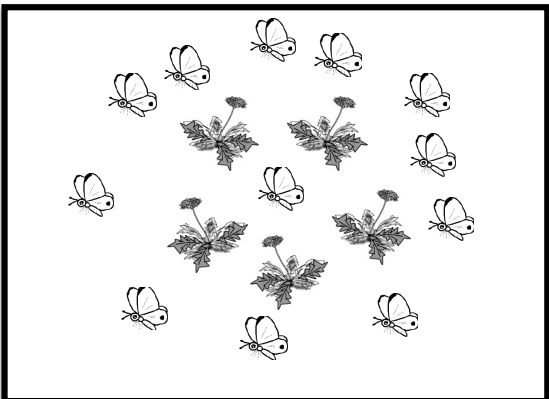
rainbow


白星のトンネルを通ると○の数が3個増えます。黒星のトンネルを通ると○の数が2個減ります。では、下のトンネルを通ると○の数はどうなりますか。マス目に赤色で○をかきましょう。






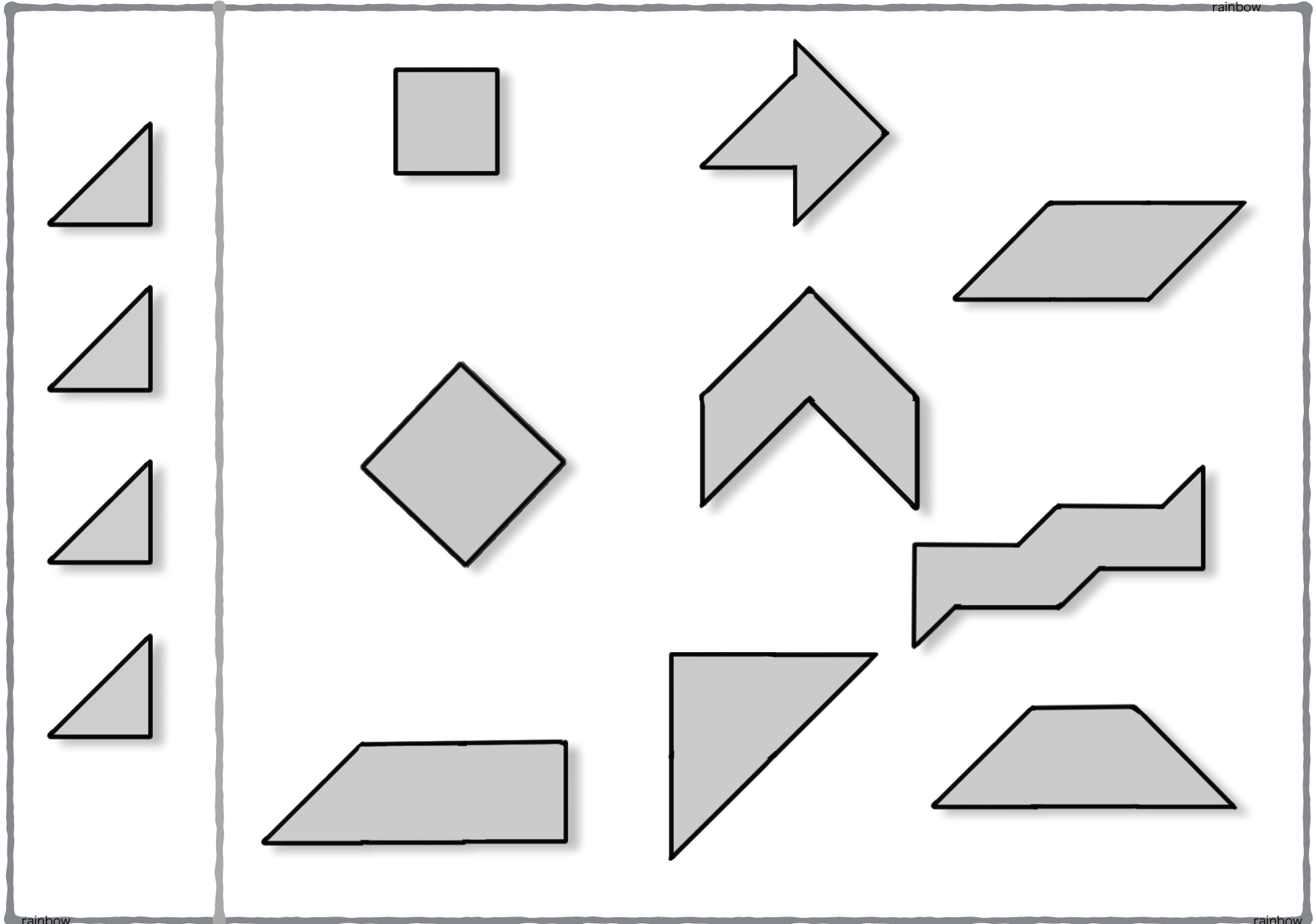








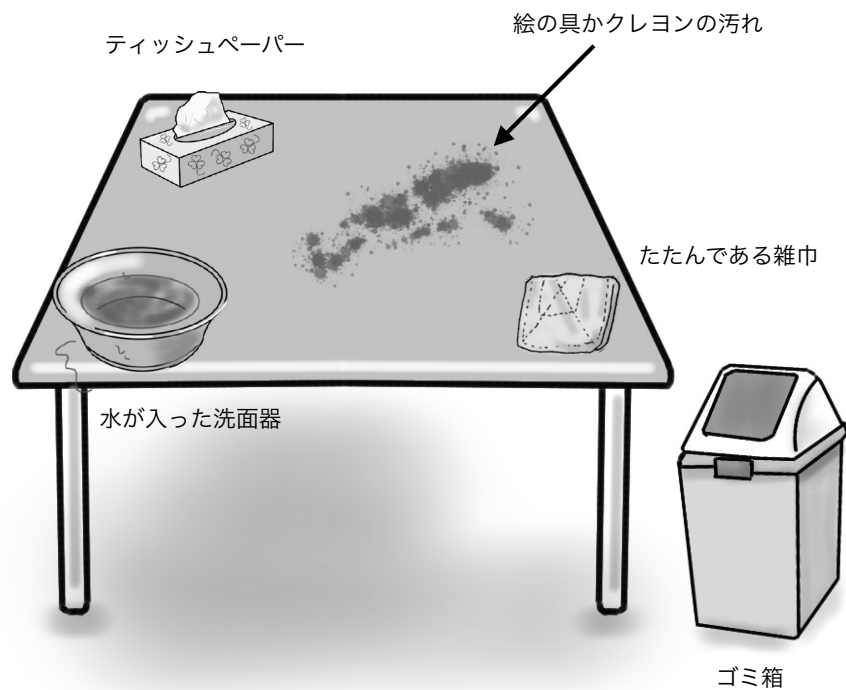
チョウチョがタンポポの花に1匹ずつとまります。とまることができなかったチョウチョは何匹ですか。その数だけ下のマス目に青色で○をかきましょう。



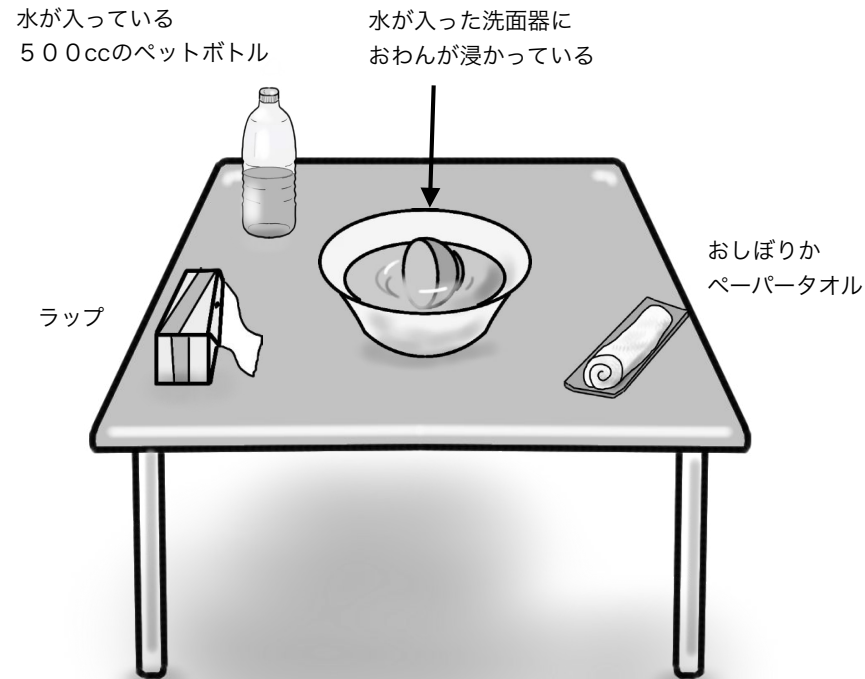
rainbow

rainbow

左の三角のパズル4枚でできる形を見つけて青色の○をつけましょう。




「机が汚れているので雑巾でふきましょう。ふいたら雑巾をすすぎ、しぼってたたみ、もとの所に置いてください。必要ならティッシュペーパーを使ってください」



「おわんを取り出し、ふきましょう。ふいたおわんにペットボトルの水を入れ、ラップでふたをしましょう」

エプロン（たたんである）

お箸と
お弁当箱



豆

ハンカチ

「エプロンをつけて、ひもを体の前でちょう結びをしましょう。お皿（コップもあり）の豆をお箸でお弁当箱に移してからハンカチでお弁当箱を包みましょう。終わったらエプロンを脱いでたたんでください」
*ひもを後ろで結ぶグループもあり

ズボン（長ズボンもあり）



巾着袋


Tシャツ

裏返しになった靴下

「明日遠足です。置いてあるものをたたんで巾着袋にきれいに入れ、ひもをちょう結びにしましょう」


大小紙風船

モール




ビニール袋

紙風船を2つふくらませましょう。小さな紙風船はそのままビニール袋に入れ、口をモールでとめましょう。大きな紙風船はやさしくつぶしてたたみましょう。



プラスチックの
コップ3個



水が入ったペットボトル
ペットボトル500CC

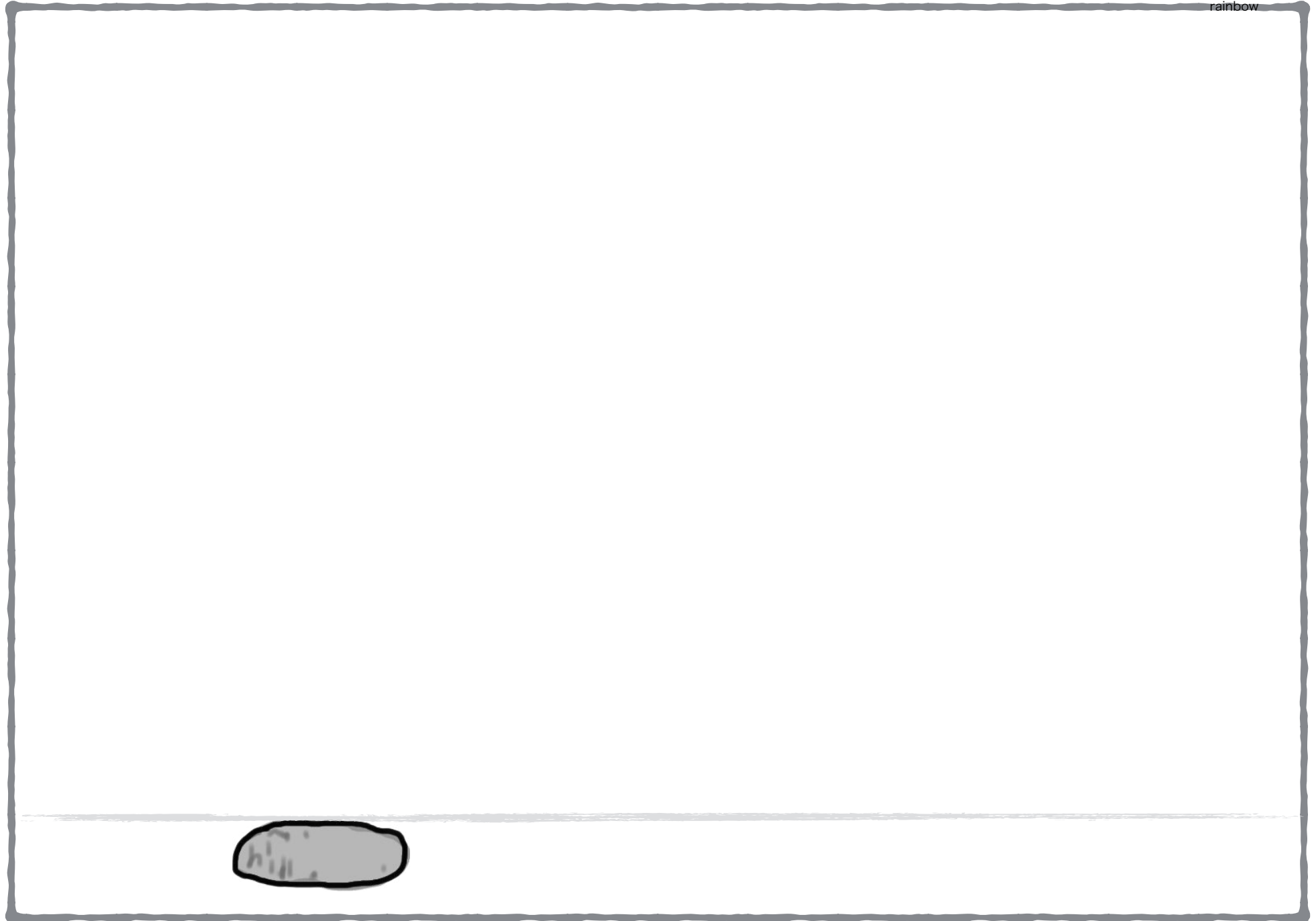
トレイ

おしぼり

ストロー3本

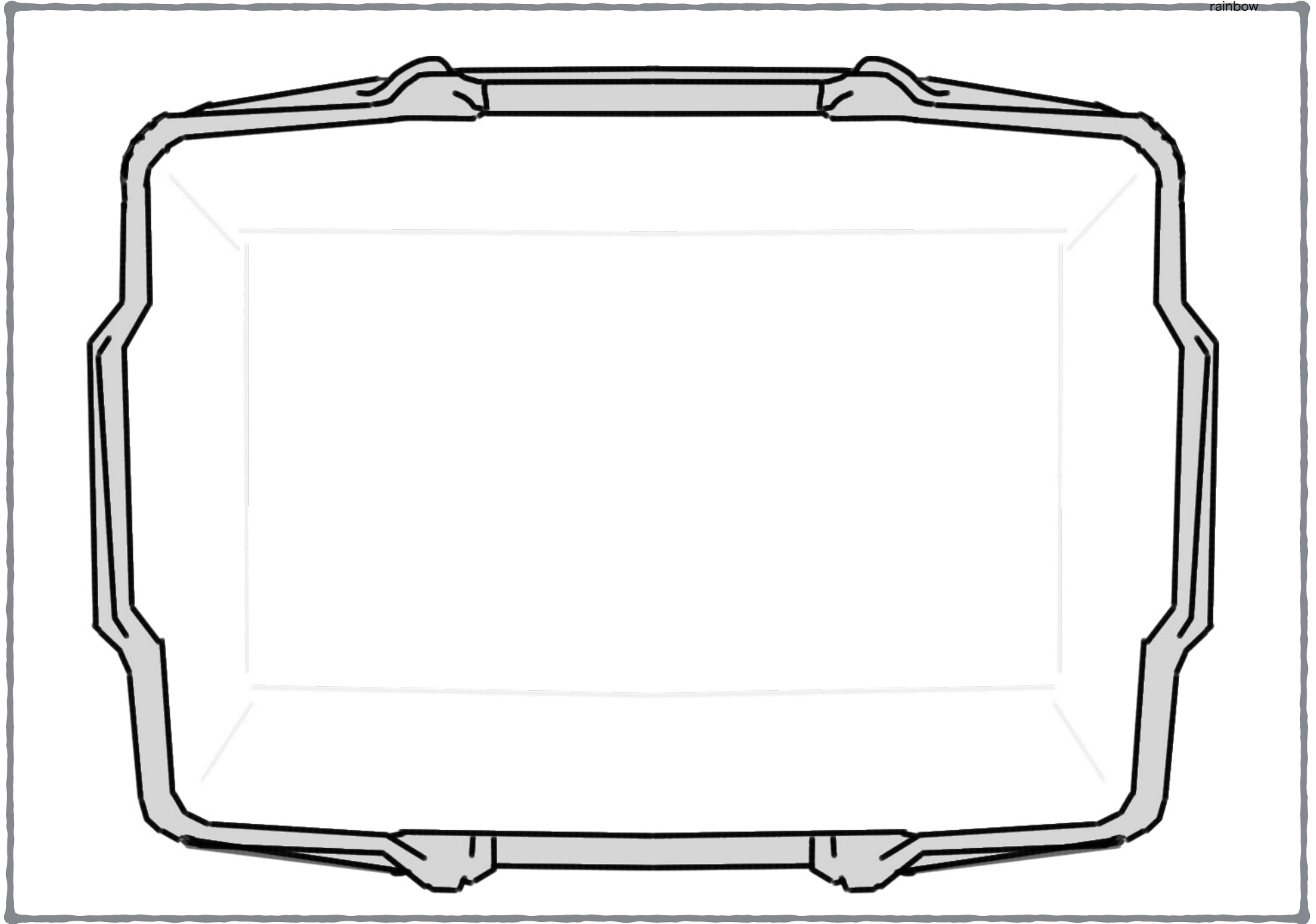
「3個のコップに同じ量の水を入れてください。そのコップにストローをさし、トレイに乗せて後ろの机まで運びましょう。こぼれた水はおしぼりで拭きましょう」





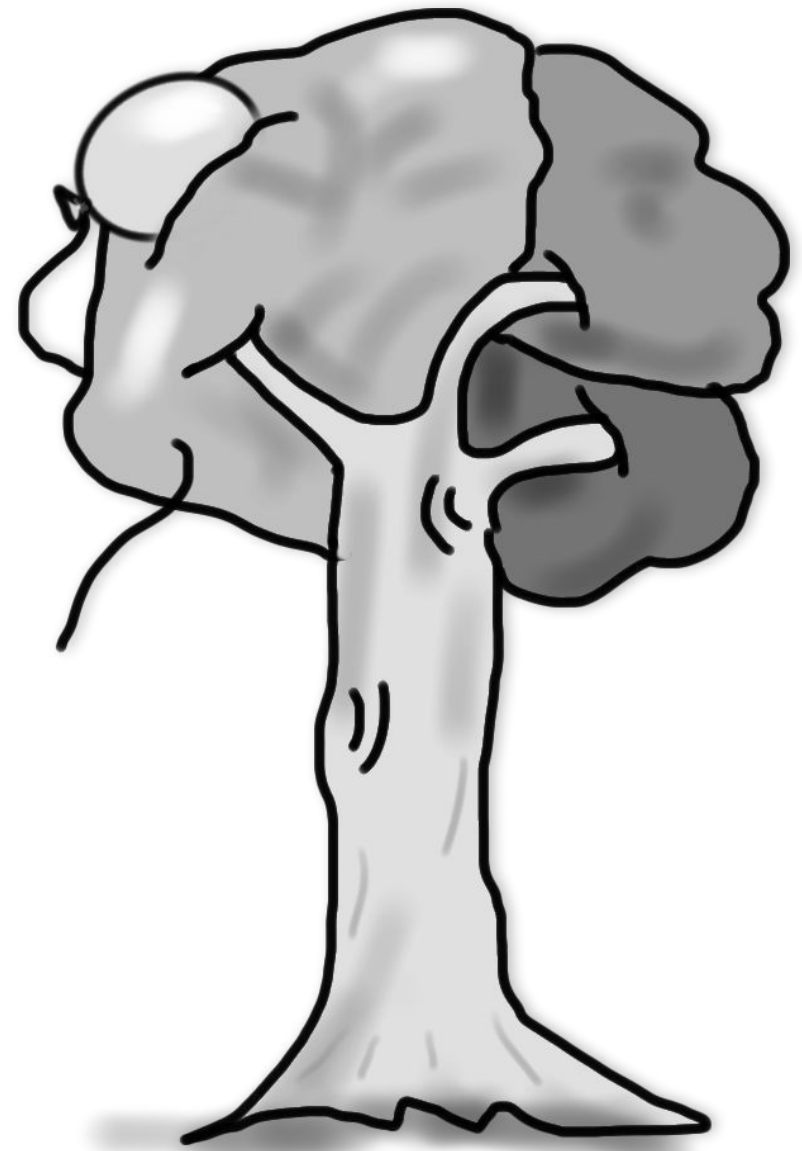
女の子がボールを深い穴の中に落としてしまいました。あなたならどのようにしてボールを取りますか。その様子を描きましょう（クレヨン）

*描いている途中に「何を描いていますか」など質問されます



お母さんが風邪をひいて寝込んでしまいました。女の子がお母さんのためにスーパーにお買い物に行きました。あなたなら何を買って帰りますか。描きましょう。（クレヨン）

*描いている途中に「何を描いていますか」など質問されます



木に風船が引っかかってしまいました。どうしたら取れるか考えてその様子を描きましょう。（クレヨン）

*描いている途中に「何を描いていますか」など質問されます



お父さんとお母さんとキャンプに行って焚き火をしました。お父さんとお母さんがいない間に焚き火の炎が大きくなりすぎました。あなたならどうしますか。その様子を描きましょう。（クレヨン）

15 *描いている途中に「何を描いていますか」など質問されます

早稲田実業学校初等部2017過去問 (重さくらべ)

上の四角の中のシーソーは釣り合っている状態です。このようにお馴染みのとき、下のシーソーの中で正しいシーソー (釣り合っている) はどれですか。黄色で○をつけましょう。

3

早稲田実業学校初等部2017過去問 (広さ比べ)

白いところ大きいところの広さが違うものを黄色で○をつけましょう。

3

早稲田実業学校初等部2017過去問 (数量マジックボックス)

右側のトンネルを通る車の数が左側と等しくなります。左側のトンネルを通る車の数は何個ありますか。では、下のトンネルを通る車の数はどうなりますか。マス目にある○で書きましょう。

5

早稲田実業学校初等部2017過去問 (数量)

チョウチョがタンポポの目に○印すつてあります。とまることのできたチョウチョは何匹ですか。その数だけ下のマス目に黄色で○をかきましょう。

3

早稲田実業学校初等部2017過去問 (数量)

みんのが持っているメダルを数えます。左側の黄色のところにいくつと下のメダルの数が合います。ごみんのが持っているメダルの数を数えて、下の黄色のところに○をかきましょう。

7

早稲田実業学校初等部2017過去問 (図形)

左の三角形の2と4枚でできる形を見つけ黄色の○をつけましょう。

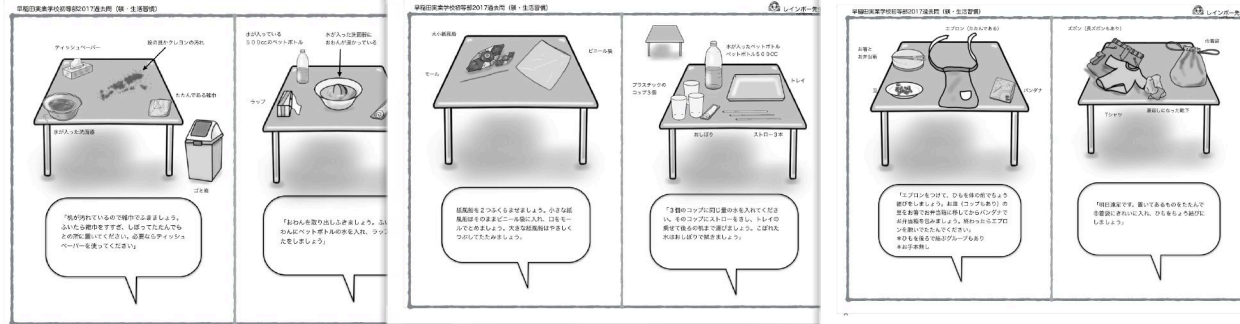
3

早稲田実業学校初等部2017過去問 (図形・思考)

白いところにあるものに黄色の○をかきましょう。

3






しっかりと話しを聞いて行動ね。でも、最低限のことはできていないと話しが聞けても行動できません。

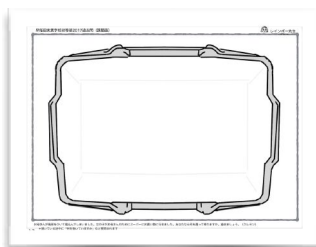
*雑巾がけ・ちょう結び・モールどめ・輪ゴムかけ・衣服の着脱・衣服の整理などなどなど、出来るようにして受験することはお受験の常識



頑張ってね！




私なら水を汲んできて穴に入れるか立水栓を描きホースで水を入れている絵を描きます。ボールだから浮いてきます。

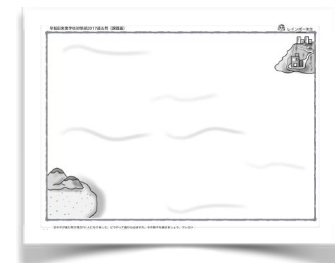


お母さんのためにと質問されていますが、買い物に行くこと自体がお母さんのためなのでなんでもいいと思います。インスタントラーメンでもいいかもお母さんのためにインスタントは変ですが「料理ができないので自分たちで作れるものを買ってきました」あるでしょう！あとは*薬*氷*お野菜*卵*お弁当などでもいいかも。

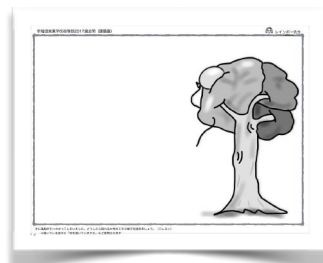
描いた絵の質問答えられたらいいですね。



危ないので逃げる様子でもいいです。お父さんお母さん、大人の人を呼んでいる様子でもいいし水を掛ける絵でもいいかも想像性の課題なので面白いところではゾウに水をかけてもらっている絵は最高！「キャンプ場が動物園の隣です」みたいにね。



私ならイルカに乗って帰る様子かなイカダに乗ってカモメに引っぱってもらう絵もいいかも。なんでもなんでもOKでも、描ける技術とお話できる説明力があるよね～



私なら猫に取ってきてと風船を指差してお願いしている絵を描きます。

これ以外にお話の記憶問題・モールを使った製作・行動観察・運動等の考査がありました。

あくまでもいちびりレインボー先生の発想ねでも、子供たちに笑われながらも楽しく面白く指導していた頃を思い出します！！楽しかったな～。



レインボー先生