



レインボー先生

千葉大学教育学部附属小学校 2016過去問

過去問に挑戦
絞った学習方法は的が小さくなり
当たりません。
いろんな学校の問題に挑戦すると
学力がアップ!



けんじ君は近くに住む同じ小学校のくるみちゃんの家に「一緒に公園に遊びに行こう」と誘いに行きました。くるみちゃんはちょうどピアノの練習が終わった時でした。「いいわよ。お母さん、けんじ君と公園に言ってきまーす」とくるみちゃんはお母さんに言いました。「遅くなったらダメですよ」とお母さんは答えました。

2人は手をつないでスキップしながら楽しく公園に行きました。

***公園に行っている時の様子の絵に○をつけましょう。**

***くるみちゃんは何の練習が終えたところでしたか。**

その絵に○をつけましょう。

公園に着くと2人は直ぐに入り口の近くにあるの小山の形の滑り台で遊びました。次は大きな木の下にあるお砂場で遊びました。最後は一番奥にある鉄棒で遊びました。鉄棒で遊んでいると大きなアゲハチョウが目の前をユラユラと飛んで行きました。2人は遊ぶのをやめて追いかけました。

***遊んだ公園の絵に○をつけましょう。**

「麦わら帽子をかぶってきたらよかったー。麦わら帽子でつかまえることができたかもしれない。残念」とけんじ君は言いました。「そろそろ 家に帰らないと」とくるみちゃんと言うと、けんじ君も「そうだね。帰ろう」と2人は行きと違う道で帰りました。途中ひまわりがたくさん咲いているお庭のお家がありました。「もう、枯れているね」とけんじ君と言うと、家の中から「ひまわりの種、持って帰る？」とお家のおばさんが声をかけました。2人は喜んで種をたくさん頂きました。2人はそれぞれのお家に帰ると今日あったことをお母さんにお話しました。「ひまわりの種、いつ植えたらいいのかなあ」とけんじ君と言うと、「ちょうど 夏休みのお勉強にして調べたらいいわね」とお母さんは言いました。


***追いかけた虫に○をつけましょう。**

***けんじ君は何かをしてきたらよかったと思いましたか。**

関係がある絵に○をつけましょう。


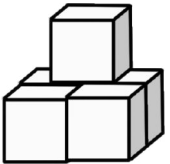
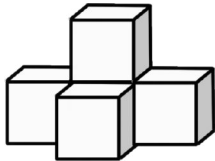
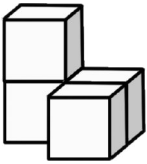

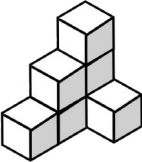
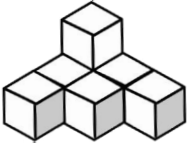
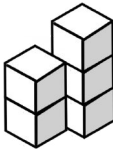
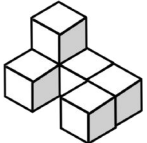

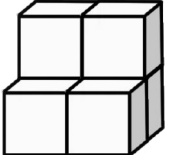
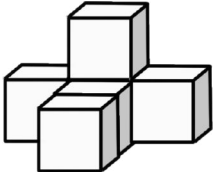
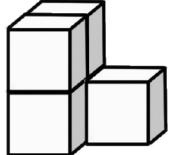

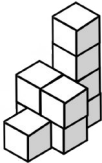
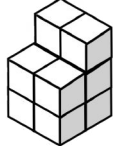
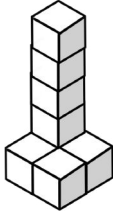
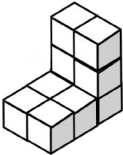

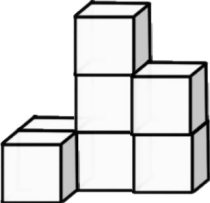
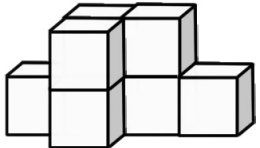
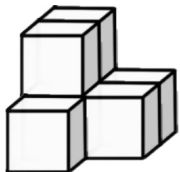

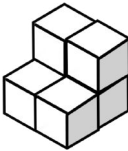

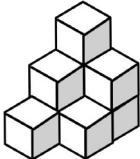
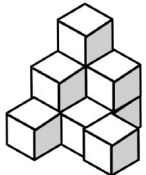

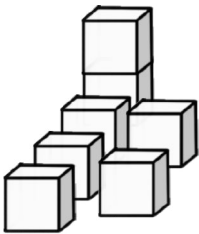
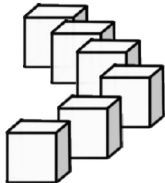
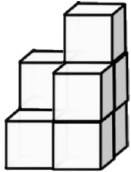

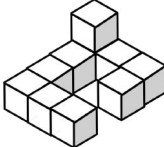
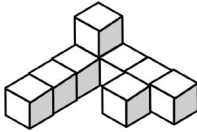
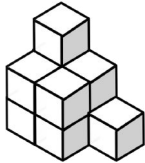
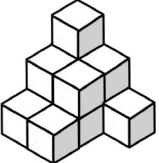
***下の3つの段のうち、2人はしたことが正しい順番に並**

んでいる段に○をつけましょう。







4 紙をまっすぐ直線に切る時に便利な道具に○をつけましょう。

スープをお皿に注ぐ道具に○をつけましょう。

5 左のボールと同じ数の積み木に○をつけましょう。



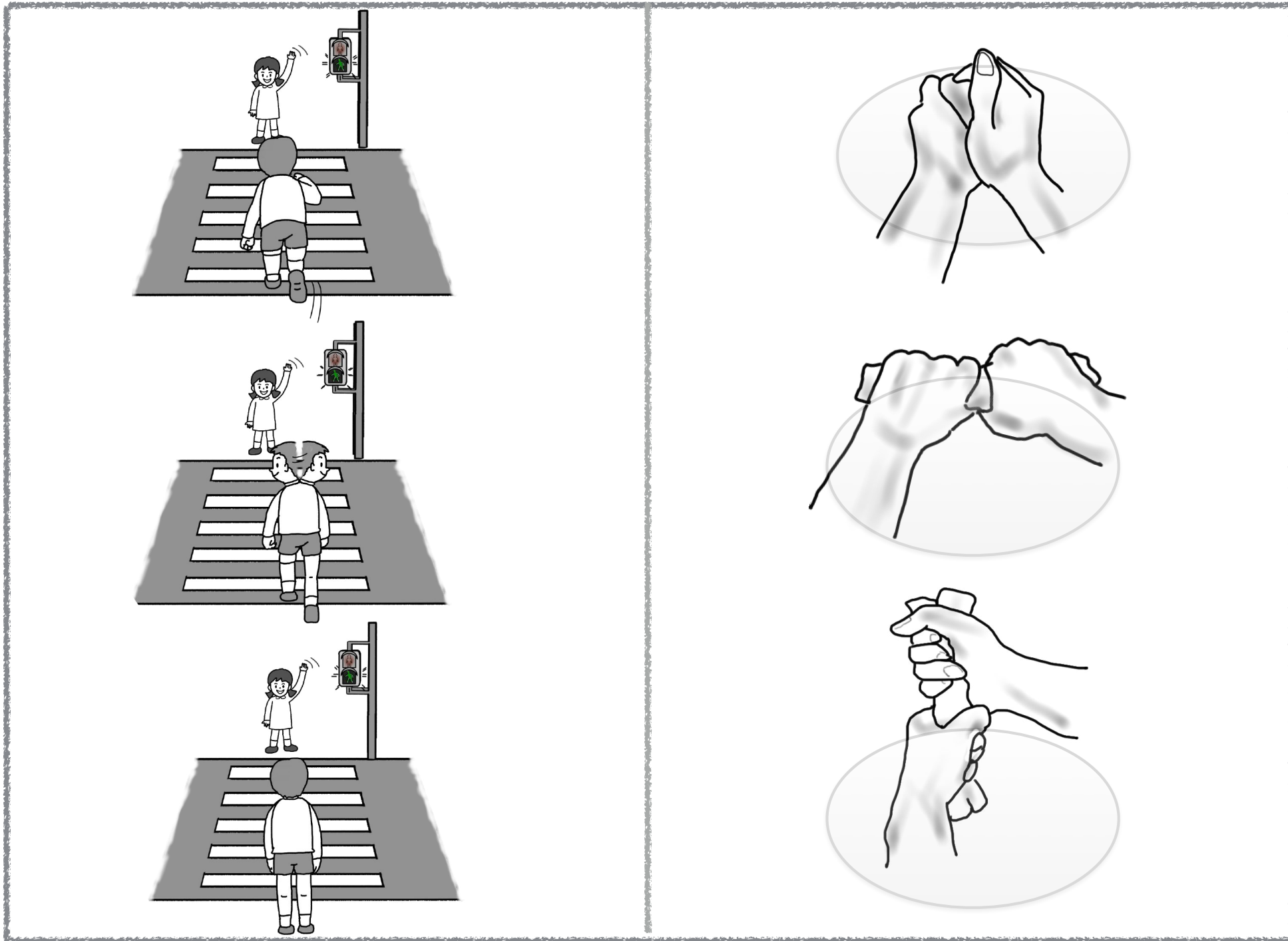
寒い時季に見かける花に○をつけましょう。

ユリ
スイセン
ヒヤシンス

スマレ
シクラメン
チューリップ

サザンカ
ヒマワリ
アサガオ

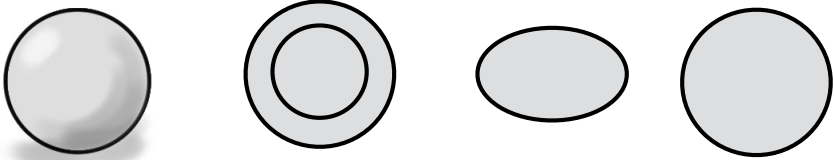
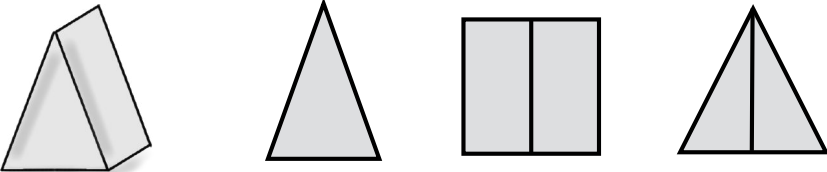
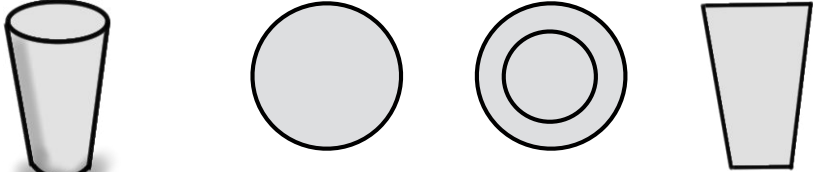
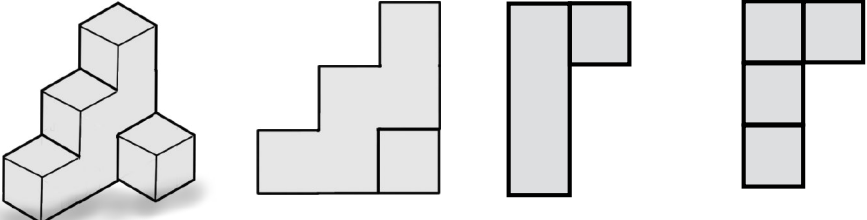
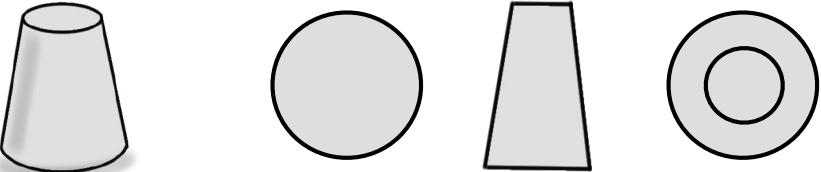
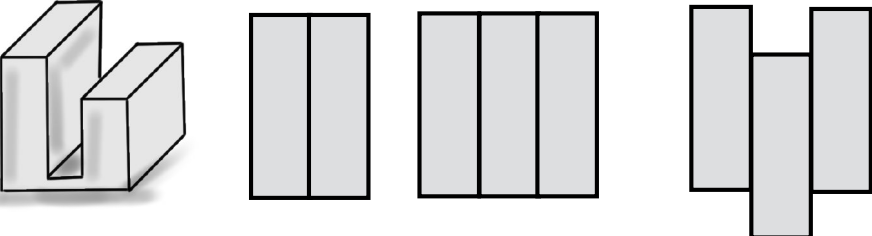
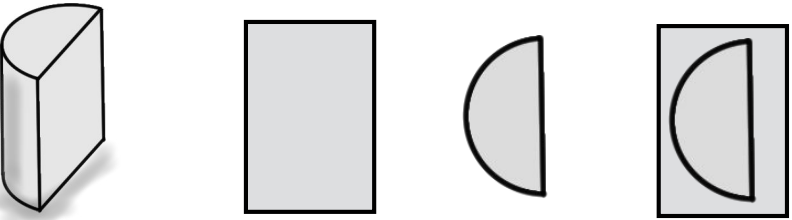
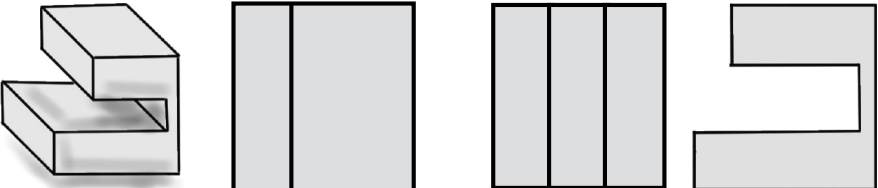




とても危ない男の子はどの絵の男の子ですか。○をつけましょう。

正しい雑巾の絞り方に○をつけましょう。



8 左の形を上から見るとどう見えますか。○をつけましょう。

千葉大学教育学部附属小学校2016過去問 (1) 図の認識問題

3 レインボー先生

千葉大学教育学部附属小学校2016過去問 (2) 図

4 縦をマークで直線に切る時に便利な道具に○をつけましょう。 スプーンをお皿に比で道具に○をつけましょう。 レインボー先生

千葉大学教育学部附属小学校2016過去問 (3) 図

5 左のボールと同じ数の積み木に○をつけましょう。 レインボー先生

千葉大学教育学部附属小学校2016過去問 (4) 図の認識問題

6 暑い時期に見られる花に○をつけましょう。
 ユリ スミレ サザンカ
 スイセン シクラメン ヒヤシサ
 ヒヤシサ チューリップ アサギソウ
 レインボー先生

千葉大学教育学部附属小学校2016過去問 (5) 図

7 すべて右に歩きたい時は右の歩道の子ですが、○をつけましょう。 正しい握手の取り方に○をつけましょう。 レインボー先生

千葉大学教育学部附属小学校2016過去問 (6) 図 (上)

8 右の図のように正方形の半分は正方形、○をつけましょう。 レインボー先生

千葉大学教育学部附属小学校2016過去問 (7) 図 (たみ図形)

9 左側の図の置き方と同じ置き方をしてください。 矢印の方向にペタッと重ねるようになります。 ○をつけましょう。 レインボー先生

正しい雑巾の絞り方

何故 縦？

目的は水分（水）をできるだけ取り除くことです。
 縦に絞る握り方は竹刀・バットと同じです。
 そして、手首だけで絞りません。
 肘も使います。
 気合いを入れて「えい！」みたいな感じですね。