

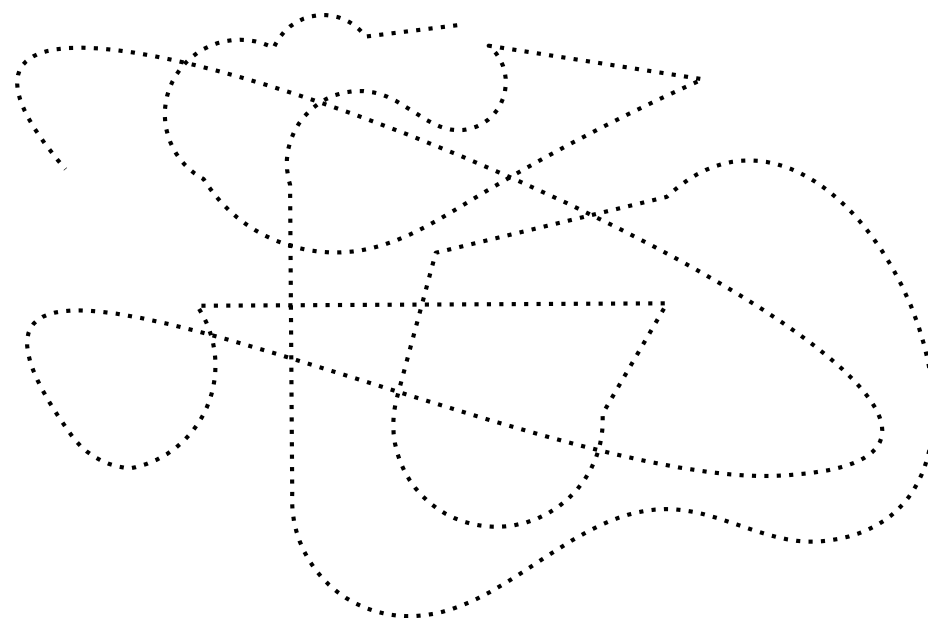



レインボー先生

# 大阪教育大学附属天王寺小学校 2018過去問

この過去問は学力アップの為、問題量や内容を少しかえている類似問題です。  
尚、情報不足から記載していない問題もあります。







過去問に挑戦  
絞った学習方法は的が小さくなり  
当たりません。  
いろんな学校の問題に挑戦すると  
学力がアップ！



rainbow

rainbow



rainbow


rainbow

rainbow

4 左の問題 左のお手本のように点線をなぞったり塗ったり鉛筆でしましょう。

右の問題 赤色の点線は赤色で、青色の点線は青色で、黒色の点線は鉛筆でなぞりましょう。

rainbow



左1段目の問題 お母さんは悲しいドラマをいつもめそめそしながら見ます。  
ちょうど合う絵に○をつけましょう。





左2段目の問題 お母さんはテストの点が悪かったのでふくれっ面です。  
ちょうど合う絵に○をつけましょう。

左3段目の問題 お母さんは鳥の巣箱をノラ猫にいたずらされてかんかんです。  
ちょうど合う絵に○をつけましょう。

左4段目の問題 お母さんは突然のプレゼントで目が点になりました。  
ちょうど合う絵に○をつけましょう。

左5段目の問題 お母さんは久しぶりの旅行で顔がゆるみっぱなしです。  
ちょうど合う絵に○をつけましょう。

rainbow



右1段目の問題 けんちゃんはかけっこに負けてしょんぼりです。  
ちょうど合う絵に○をつけましょう。



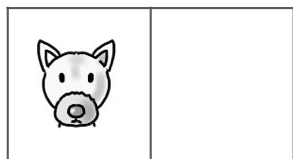
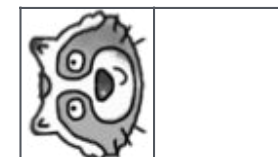
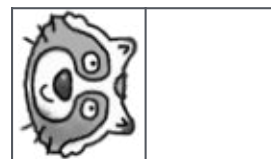


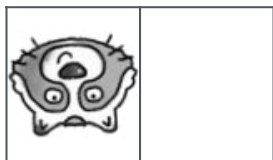
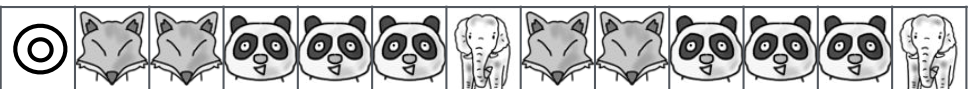
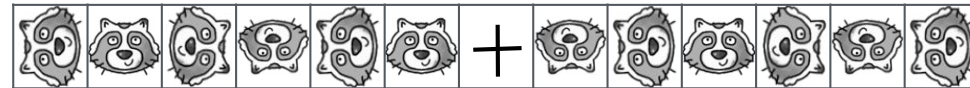
右2段目の問題 けんちゃんはいつも遅いお友達が速く走って驚きました。  
ちょうど合う絵に○をつけましょう。

右3段目の問題 けんちゃんはたけちゃんにかけっこで負けてくやしいです。  
ちょうど合う絵に○をつけましょう。

右4段目の問題 けんちゃんは意地悪なお友達が話しかけてきたのでそっぽを向きました。  
ちょうど合う絵に○をつけましょう。

右5段目の問題 けんちゃんは紅組が勝ったのでほくほく顔です。  
ちょうど合う絵に○をつけましょう。

rainbow



rainbow

rainbow

		○	○	○	○	○	○	○	○	○	○	○	○
		○	○	○	○	○	○	○	○	○	○	○	○

		○	○	○	○	○	○	○	○	○	○	○	○
		○	○	○	○	○	○	○	○	○	○	○	○

		○	○	○	○	○	○	○	○	○	○	○	○
		○	○	○	○	○	○	○	○	○	○	○	○

		○	○	○	○	○	○	○	○	○	○	○	○
		○	○	○	○	○	○	○	○	○	○	○	○

		○	○	○	○	○	○	○	○	○	○	○	○
		○	○	○	○	○	○	○	○	○	○	○	○

		○	○	○	○	○	○	○	○	○	○	○	○
		○	○	○	○	○	○	○	○	○	○	○	○

		○	○	○	○	○	○	○	○	○	○	○	○
		○	○	○	○	○	○	○	○	○	○	○	○

		○	○	○	○	○	○	○	○	○	○	○	○
		○	○	○	○	○	○	○	○	○	○	○	○



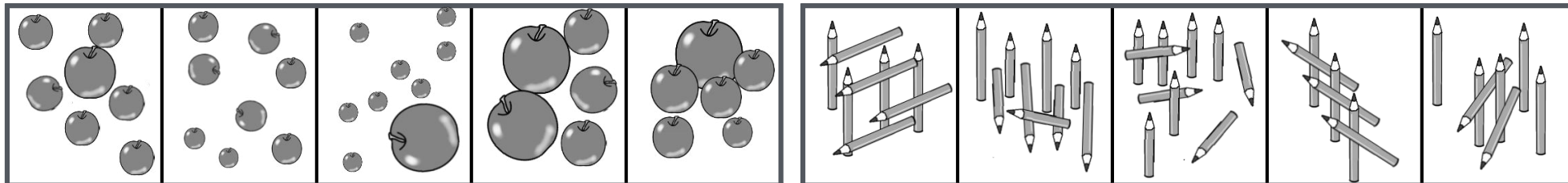

		○	○	○	○	○	○	○	○	○	○	○	○
		○	○	○	○	○	○	○	○	○	○	○	○

		○	○	○	○	○	○	○	○	○	○	○	○
		○	○	○	○	○	○	○	○	○	○	○	○

rainbow

7 男の子と女の子がジャンケンをして、グーで勝つと1つ進み、チョキで勝つと2つ進み、パーで勝つと3つ進みます。あいこは進めません。ただし、1度も勝たなかった時は1つ進むことができます。ジャンケンが終わると男の子、女の子それぞれどこまで進みますか。その場所にある○を黒く塗りましょう。

rainbow








rainbow

8 並んでいる絵の中で1番数が多いものつを見つけて○をつけましょう。

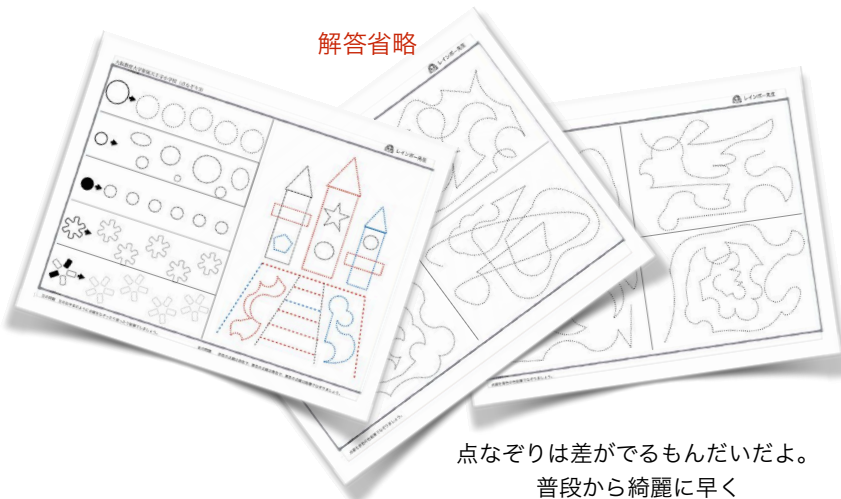


rainbow

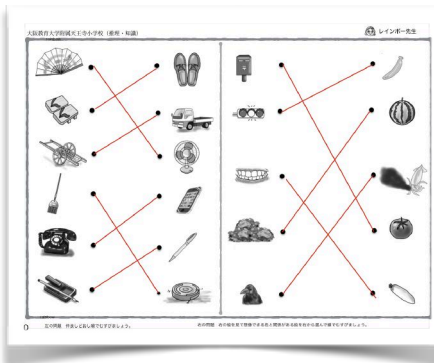


rainbow

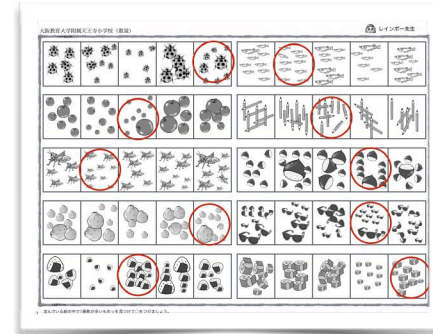
解答省略



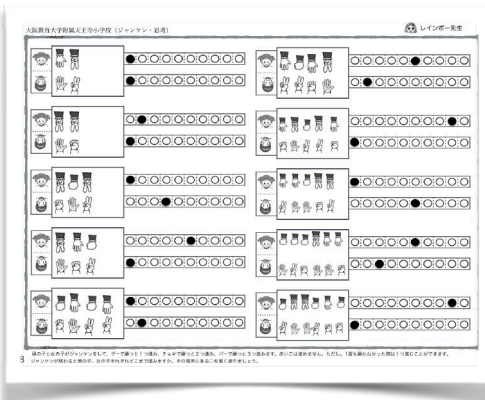
点なぞりは差がでるもんだだよ。  
普段から綺麗に早く




詳細はわかりませんが、  
仲良し問題が出題されました。



数の多少の問題  
絵の大きさが変わると  
直感では解けません。  
しっかりと数えましょう。



問いかげの詳細はわかりませんが  
進んだところにある○を塗りつぶす  
なのに、進んだところまで全部塗るとダメね



系列完成の問題  
少しいアレンジしました。



詳細はわかりませんが、難しいですね。  
くやしいと我慢する子もいるし、めそめそ泣く子もいます。



他にもお話の記憶問題は毎年出題（長文）されます。  
模写や点むすびの問題は出題率が高いです。  
普段から、丁寧に早く、正確に！