





レインボー先生

大阪教育大学附属天王寺小学校 2017過去問

この過去問は学力アップの為、問題量や内容を少しかえている類似問題です。
尚、情報不足から記載していない問題もあります。





過去問に挑戦
絞った学習方法は的が小さくなり
当たりません。
いろんな学校の問題に挑戦すると
学力がアップ!





決まり事


どの動物も同じ道を2回通ることなく、
1番近い道を進んでいきます。


- 

ネコさんは自分が好きな食べ物を拾ってライオンさんのところに行きました。
ネコさんが拾った数だけ点戦をなぞりましょう。
- 

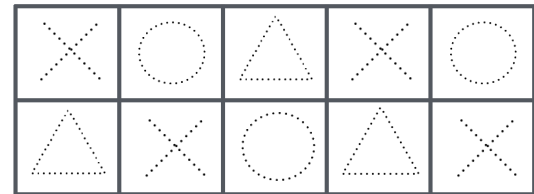
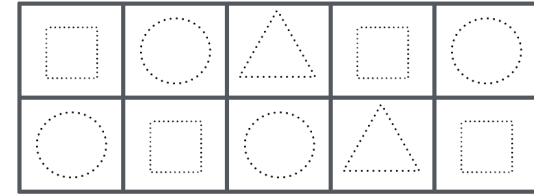



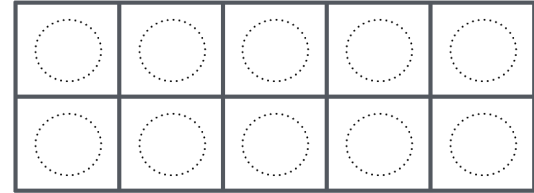

リスさんは自分が好きな食べ物を拾ってウマさんのところに行きました。
リスさんが拾った数だけ点線をなぞりましょう。
- 

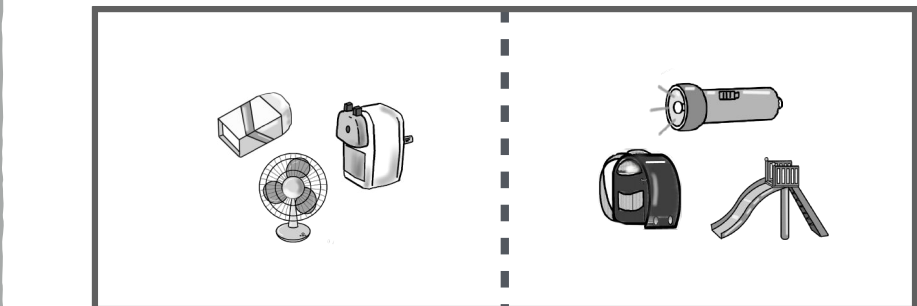
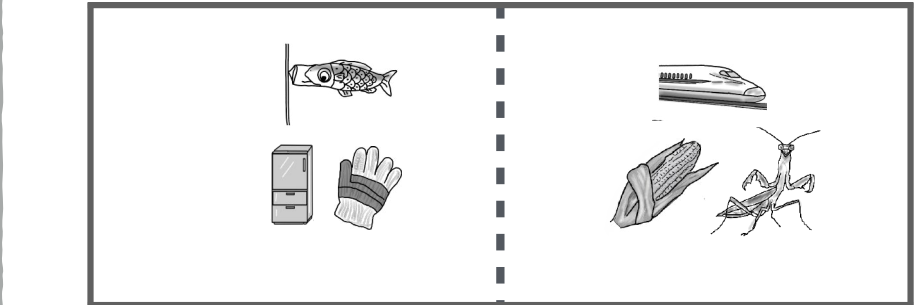
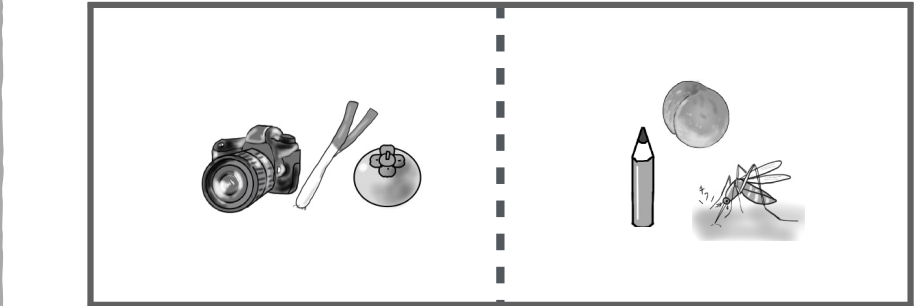

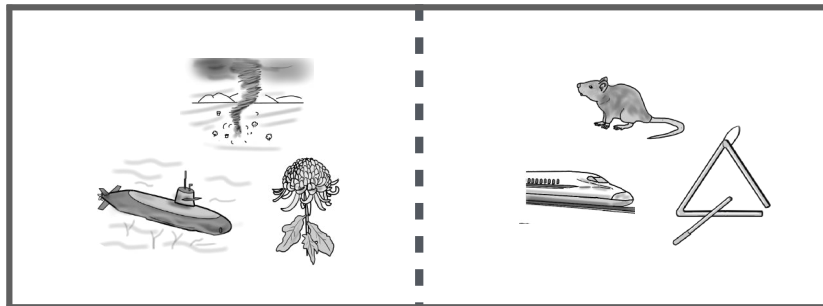
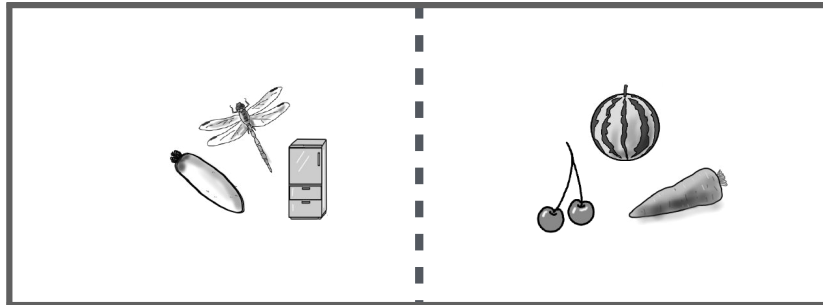
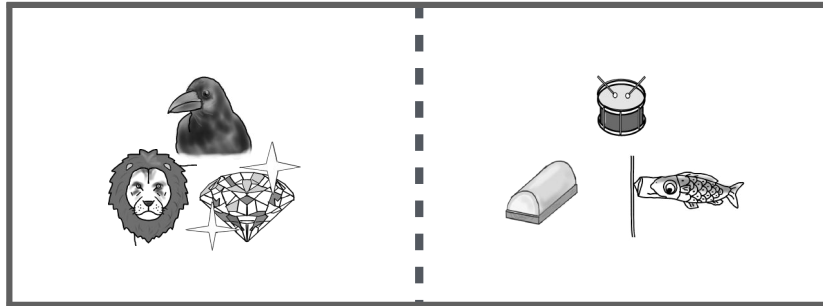
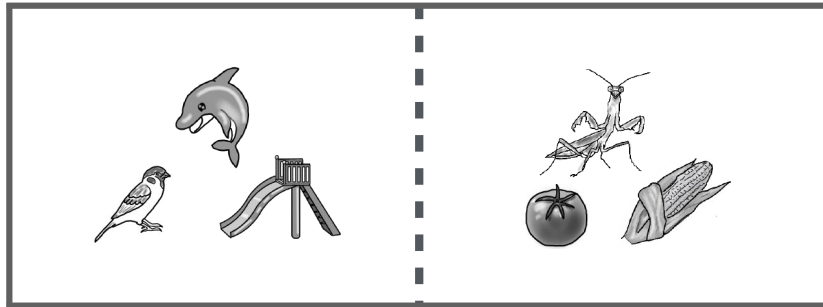
ウマさんは自分が好きな食べ物を拾ってライオンさんのところに行きました。
ウマさんが拾った数だけ点線をなぞりましょう。
- 

ライオンさんはリスさんの好きな食べ物だけを拾ってリスさんのところに行きました。
ライオンさんが拾った数だけ点線をなぞりましょう。
- 

ネコさんはウマさんの大好きなものを拾ってウマさんのところに行きました。
ネコさんが拾った数だけ転戦をなぞりましょう。
- 

ネコさん、リスさん、ウマさんは自分の好きなものを拾ってライオンさんのところに行きました。
3匹が拾った数だけ転戦をなぞりましょう。



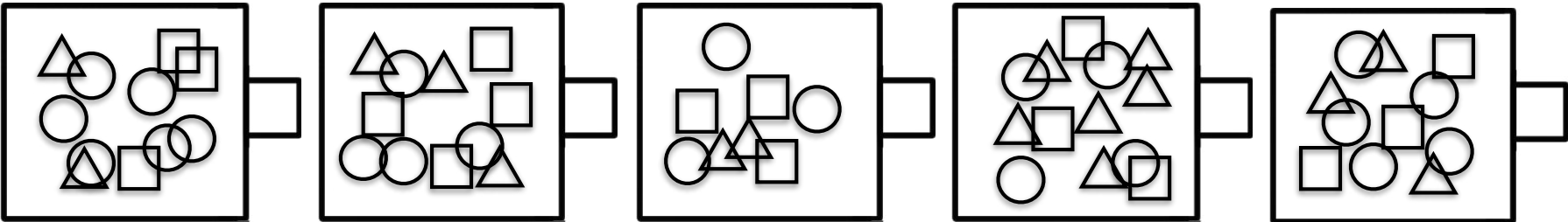
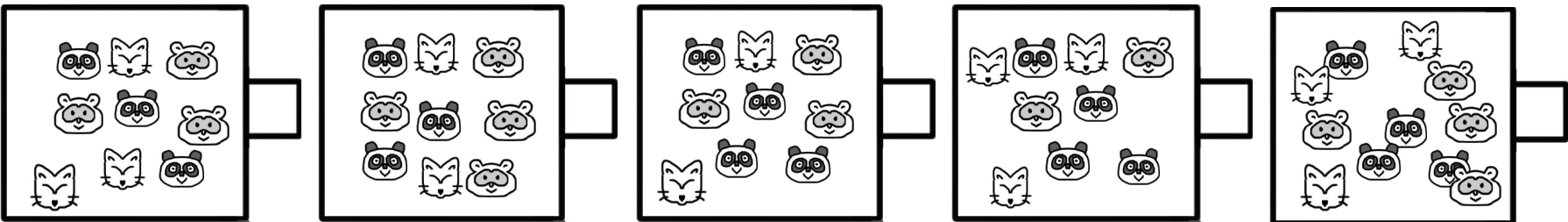
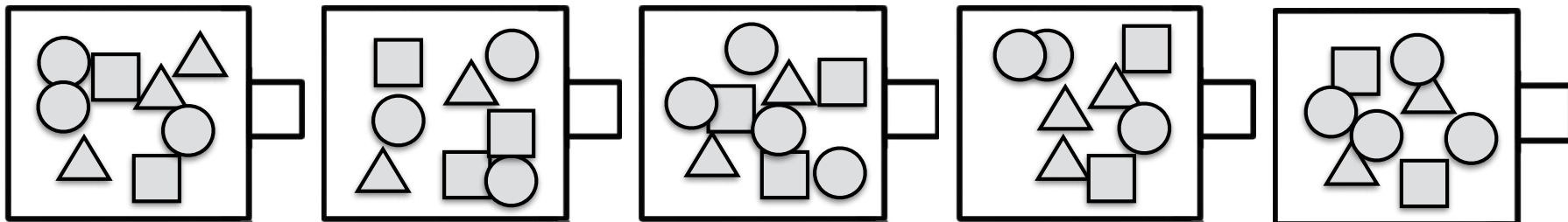
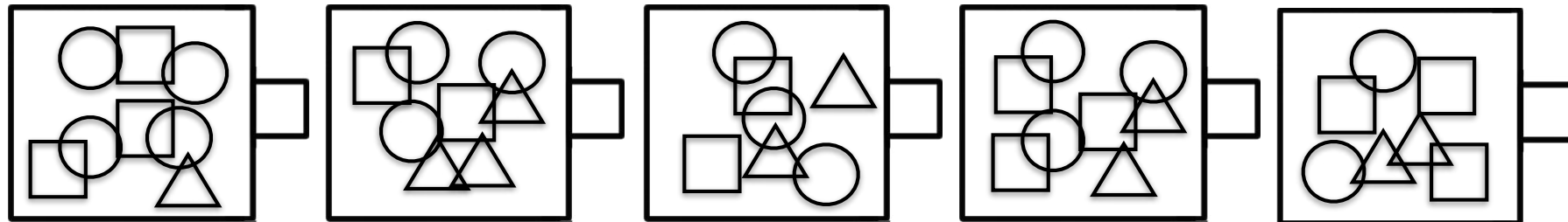


rainbow

rainbow

サイコロ1 左と右にある3つずつの絵を見て名前の数が一番多いものがあるのはどちらですか。ある方の絵3つを青色で囲みましょう。多い名前の数が同じ場合は点線の上に○をかきましょう。

4 サイコロ2 左と右にある3つずつの絵を見て名前の数が一番少ないものがあるのはどちらですか。ある方の絵3つを赤色で囲みましょう。少ない名前の数が同じ場合は点線の上に○をかきましょう。



- 1段目 ○が3つ、△が2つ、□が3つあるものを見つけて右の箱に○をかきましょう。
- 2段目 △が2つ、□が2つ、○が4つあるものを見つけて右の箱に○をかきましょう。
- 3段目 タヌキが3匹、パンダが4匹、キツネが2匹あるものを見つけて右の箱に○をかきましょう。
- 4段目 ○が2番目に多いものを見つけて右の箱に○をかきましょう。


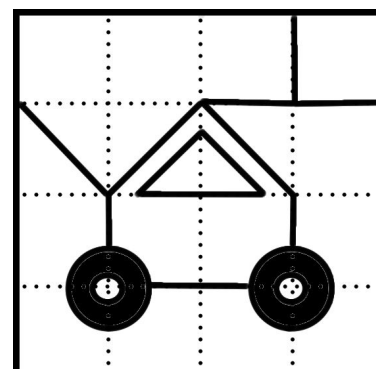

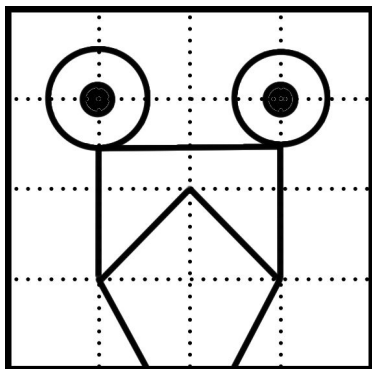

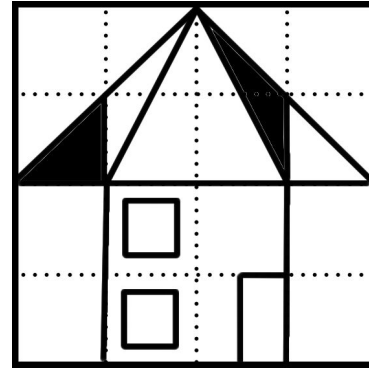

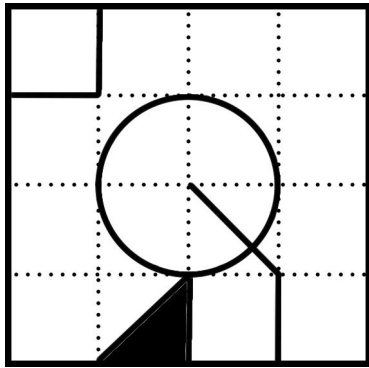
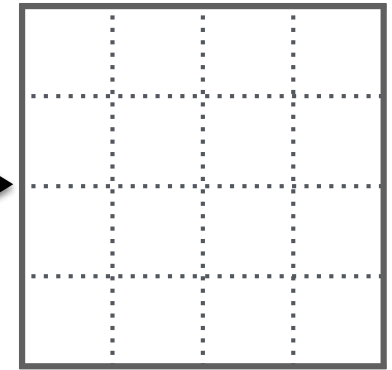
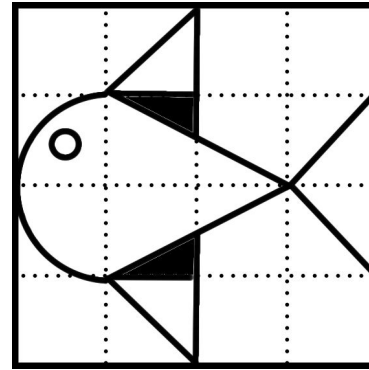

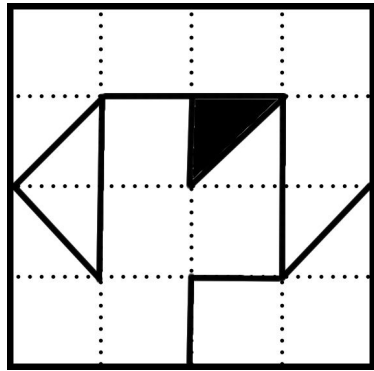


赤青鉛筆使用

rainbow

rainbow


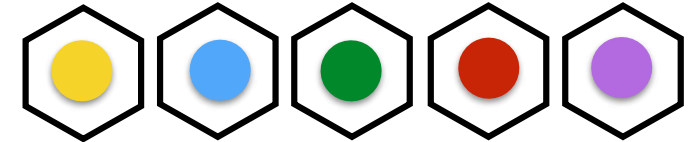


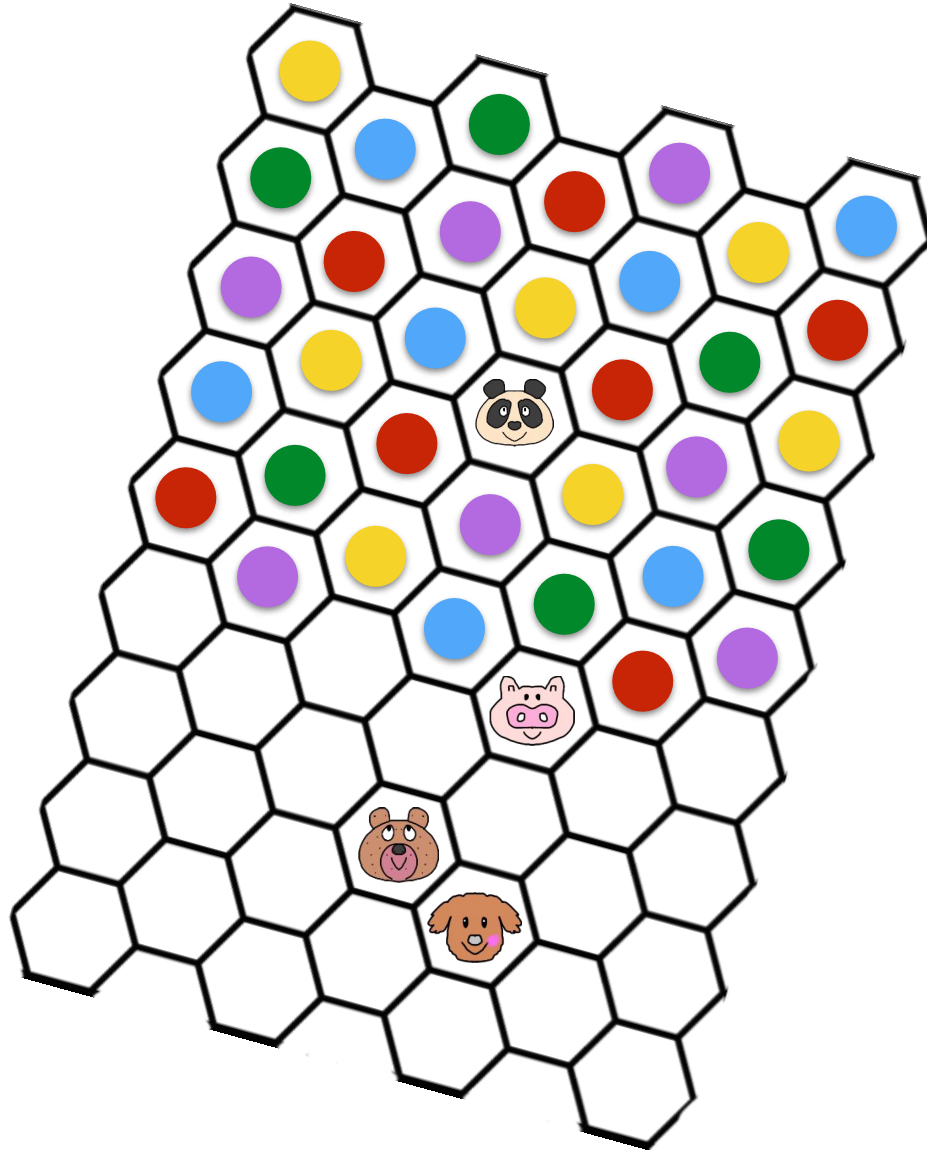
左のお手本と同じになるように点線をなぞったり中を塗ったりしましょう。



rainbow

rainbow

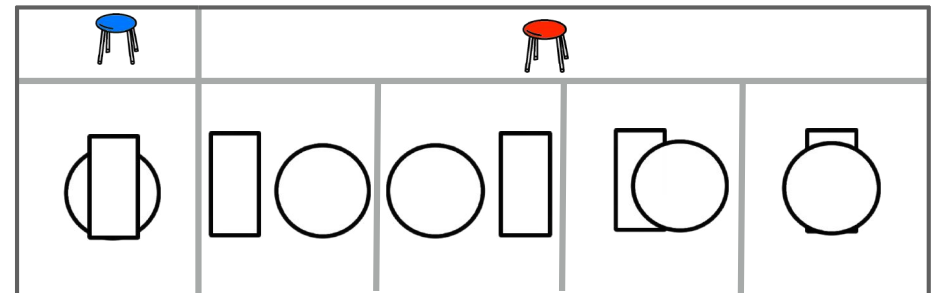
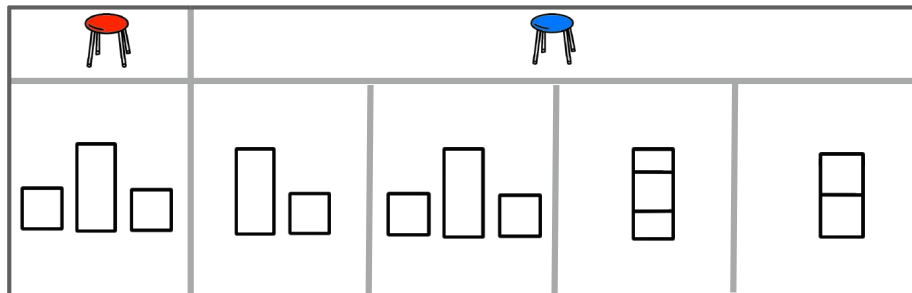
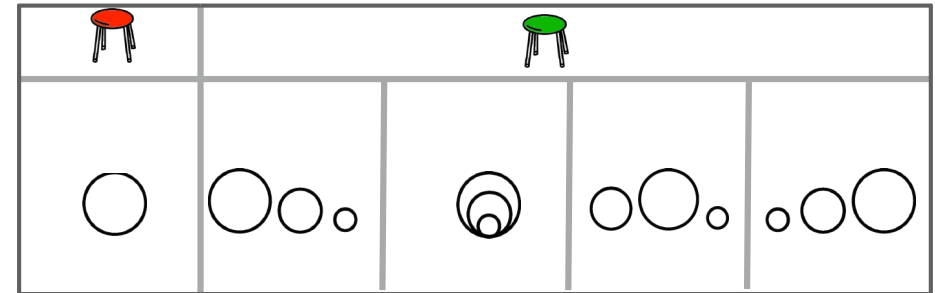

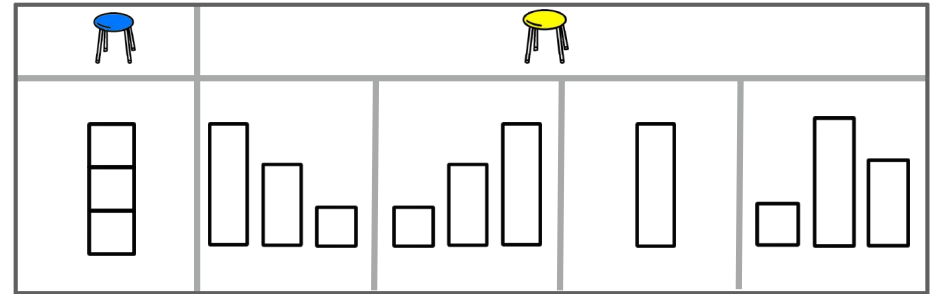
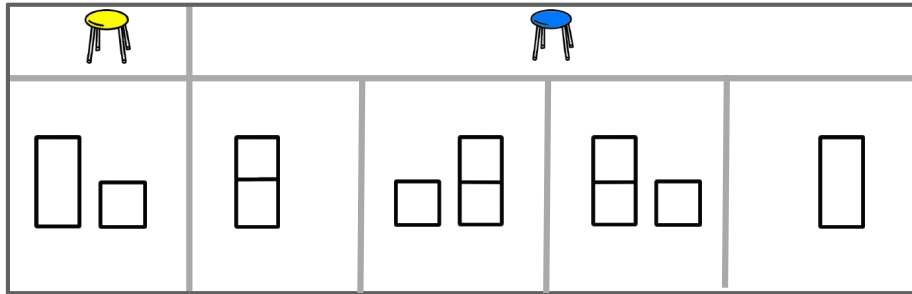

左のお手本と同じになるように点線をなぞったり、線を引いたり、中を塗ったりしましょう。



rainbow

rainbow


上の色はある決まり事で並んでいます。動物さんのところは何色ですか。考えて○をつけましょう。




rainbow

rainbow

上のテーブルに積み木やボールを置きました。左端の色の椅子から見えた形が下にかいてあります。では、その形を右の色の椅子に座って見たらどのように見えますか。○をつけましょう。



あいちゃんとお父さんとお母さんは食事をしながら楽しくお話しています。絵をしっかりと覚えましょう。30秒



左の1段目 お父さんの好きなスポーツは何ですか。○をつけましょう。


左の2段目 あいこちゃんはもうすぐ楽しみな学校行事があります。何の学校行事ですか。関係がある絵に○をつけましょう。

左の3段目 お父さんのお仕事は何だと思いますか。関係がある絵に○をつけましょう。

右の1段目 お母さんはどこに買い物に行きましたか。○をつけましょう。

右の2段目 お父さんは食事の後何をしようと思っていますか。○をつけましょう。

右の3段目 みんなは何を食べながらお話していますか。○をつけましょう。



- 1 ここは不思議な国です。右にある信号機の丸を左から黄色、緑色、紫色で綺麗にはみ出さないように塗りましょう。
- 2 ソフトクリームを家の屋根を赤色で、帽子の家の屋根を茶色で、魚の家の屋根をピンク色で綺麗にはみ出さないように塗りましょう。
- 3 タイヤを2つずつ使い、不思議な見たことがない果物や野菜の形をしたくるまを黒のサインペンで描きましょう。違うくるまにしてくださいね。

大阪教育大学附属池田小学校2017過去問（条件課題）

鉛筆使用のプリントも見やすいように
赤色にしています

大阪教育大学附属池田小学校2017過去問（言語）

問題1 同じ色にする3つの絵を見てその色の絵が一つあるものを選びなさい。あるものが3つで選べない。正しい色の絵が同じ種類の絵の上にだけあってもいい。

問題2 同じ色にする3つの絵を見てその色の絵が一つあるものを選びなさい。あるものが3つで選べない。正しい色の絵が同じ種類の絵の上にだけあってもいい。

この問題は赤青鉛筆使用↑



大阪教育大学附属池田小学校2017過去問（読み取り）

問題1 ①から④、①②③④の順番でひらがなを並べよう。

問題2 ①から④、①②③④の順番でひらがなを並べよう。

問題3 ①から④、①②③④の順番でひらがなを並べよう。

問題4 ①から④、①②③④の順番でひらがなを並べよう。

大阪教育大学附属池田小学校2017過去問（漢字）

解答省略

大阪教育大学附属池田小学校2017過去問（図形）

解答省略

大阪教育大学附属池田小学校2017過去問（系列問題）

問題1 ①から④、①②③④の順番でひらがなを並べよう。

大阪教育大学附属池田小学校2017過去問（図形からの観察）

大阪教育大学附属池田小学校2017過去問（絵の記憶解悟問題）

問題1 問題2 問題3 問題4

他に、お話の記憶問題が
出題されました。

大阪教育大学附属池田小学校2017過去問（読み取り）

参考例

