



レインボー先生

大阪教育大学附属池田小学校 2018過去問

この過去問は学力アップの為、問題量や内容を少しかえている類似問題です。
尚、情報不足から記載していない問題もあります。



過去問に挑戦
絞った学習方法は的が小さくなり
当たりません。
いろんな学校の問題に挑戦すると
学力がアップ!

rainbow

プリントは裏返しにしてお話を聞きましょう。

タヌキさんは夏休みに遊びに来るキツネさんの為に家のお庭にユリの球根を植えることにしました。そのことをタヌキさんの隣に住むネコさんに伝えるとネコさんも「私も家のお庭をきれいにしたいわ」と、タヌキさんと球根が売ってあるお花屋さんに行くことにしました。お花屋さんがあるのかわからないのでネコさんのお母さんに尋ねました。「そうね、歩いて15分ぐらいかかるわよ。スーパーマーケットの隣にあるわよ。簡単な地図を描くので持って行きなさい」と教えてくれました。タヌキさんとキツネさんはすぐに出かけました。途中の道のあちこちにタンポポが咲いています。2匹はタンポポの花をたくさん集めて可愛い花束を2つ作りました。「お母さん喜ぶかな、お土産に持って帰ろう」とタヌキさんは言いました。2匹はタンポポに夢中になりお花屋さんに行くのを忘れるとこでした。スーパーマーケットに着きました。大きなスーパーマーケットなのでどこにお花屋さんがあるのかわかりません。「スーパーマーケットの隣とお母さんは言っていたよね」とネコさんはお母さんに描いてもらった地図を開きました。地図にはスーパーマーケットの絵と噴水の絵が描いてありました。「ちょうどここだわ。ほら噴水があるよね」地図には噴水のところからお花屋さんまで赤色の線が引いてありました。それを見ながら2匹は歩きました。ここから左に歩くとスーパーマーケットの角にポストが描いてありました。そのポストの前の広場につながる道が3本書いてあり消防署の隣にあるお店まで線が引いてありました。「あ、あれだわ」2匹は無事にお花屋さんにとどり着きました。

タヌキさんはユリの球根を8個買いました。ネコさんはユリではなくヒマワリとアサガオの種の入った袋を2つ買いました。お花屋さんのクマのお兄さんが2人が持っているタンポポの花束を見て「タンポポ、きれいだね。でもタンポポは自然のままがいいんだよ。綿毛になって飛んでいくのがいいんだよね。たくさん買ってくれたので かわいいバケツをプレゼントしよう。これに入れて帰りなさい」クマのお兄さんはピンクと緑色のバケツをくれました。タヌキさんは緑色、ネコさんはピンク色を選びました。2匹はお礼を言うように嬉しくてバケツを手に、家に帰りました。「どんな色の花が咲くかなあ。楽しみね」さっそく2匹は自分の家のお庭の花壇に植えました。

白サイコロ1の問題 ネコさんのお母さんが渡してくれた地図に○をつけましょう。

サイコロ2の問題 このお話の季節はいつですか。ちょうどいい絵に○をつけましょう。

1枚めぐりましょう

白サイコロ3の問題 左に並んだ花の中でタヌキさんが買った球根のお花の四角に○をかきましよう。左の花の蕾を見つけて線でむすびましよう。

白サイコロ4の問題 タヌキさんが買ったものに○をつけましよう。


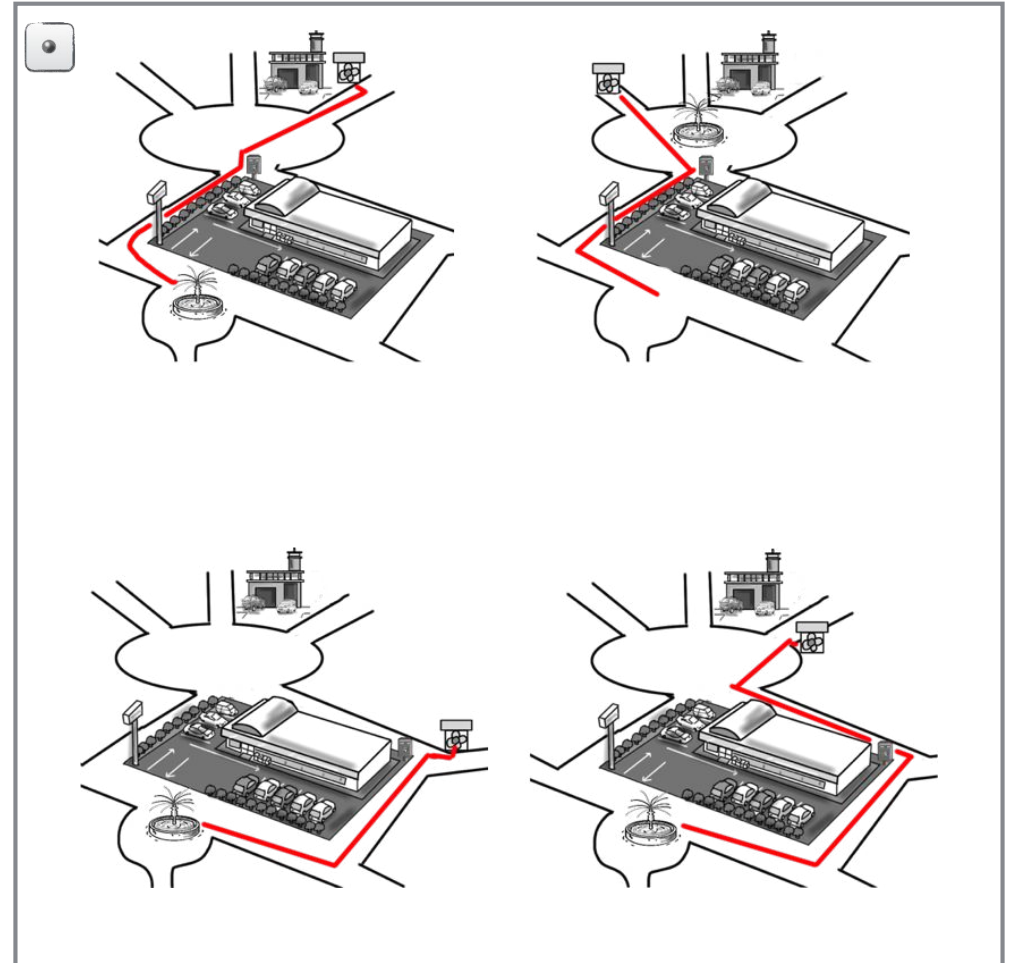
白サイコロ5の問題 ネコさんが買ったものに○をつけましよう。

白サイコロ6の問題 お花屋さんでもらったバケツに○をつけましよう。




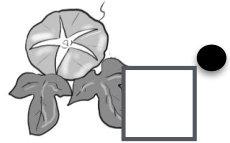

黒サイコロ1の問題 2匹が花束を作ったお花の葉っぱに○をつけましよう。

黒サイコロ2の問題 種や球根を植えるとき、使わない道具2つを選んで○をつけましよう。

rainbow



rainbow



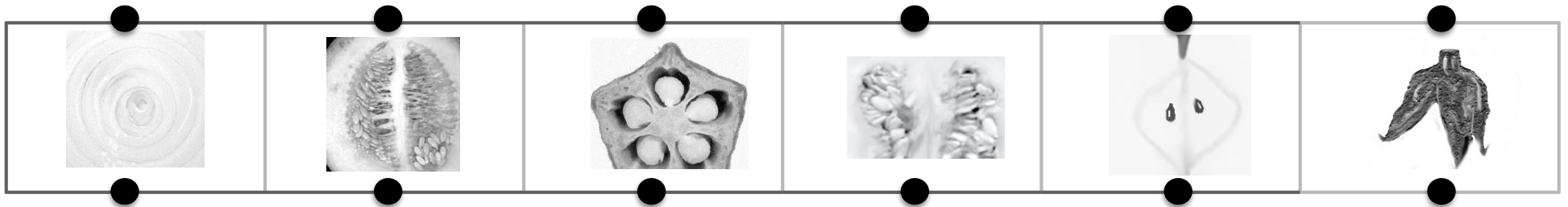

rainbow

rainbow

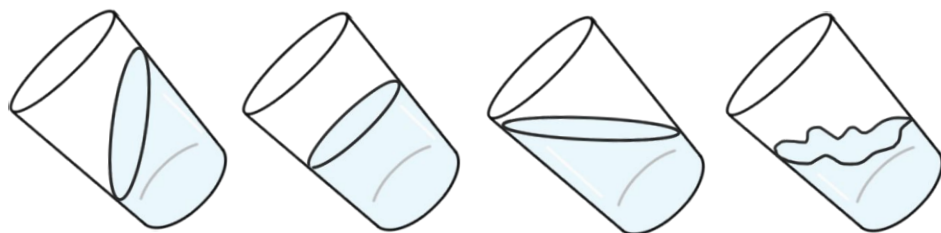




おてほん

rainbow

rainbow



rainbow



左1段目の問題。水の入ったコップに氷を入れました。正しい絵に○をつましよう。

左2段目の問題。水の入ったコップに油（黄色のところ）を入れました。正しい絵に○をつましよう。

左3段目の問題。水の入ったコップを静かに倒してそのままにしました。正しい絵に○をつましよう。

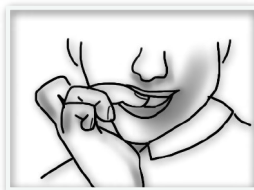
右1段目の問題。お風呂の中にコップ沈め水を入れたあと絵のように静かに持ち上げました。正しい絵に○をつましよう。

右2段目の問題。コップに水が入るところまで静かに少しずついれました。どこまではいりましたか。正しい絵に○をつましよう。


右3段目の問題。静かな波がない池に小石を投げ込みました。波はどのようにできますか。正しい絵に○をつましよう。

































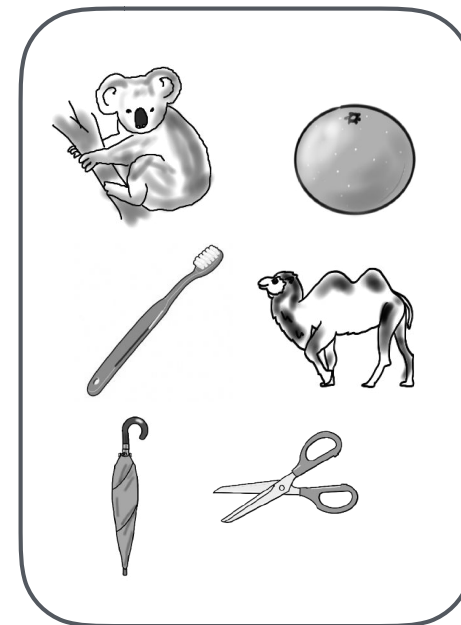
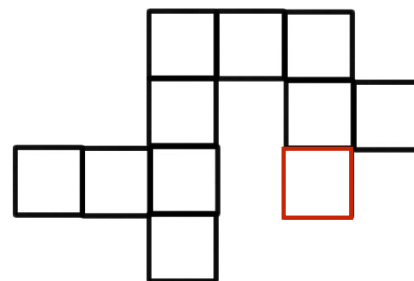

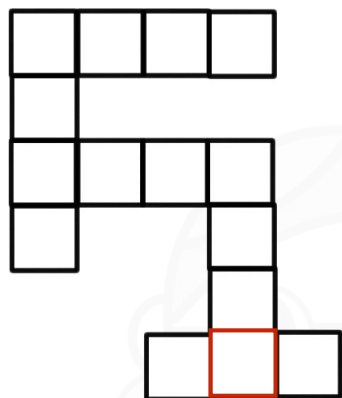















<http://www.ee-ko.com/puri3825irup/coffee4368/douga/ikeda2018douga1.gif>



<http://www.ee-ko.com/puri3825irup/coffee4368/douga/ikeda2018douga3.gif>



<http://www.ee-ko.com/puri3825irup/coffee4368/douga/ikeda2018douga2.gif>



<http://www.ee-ko.com/puri3825irup/coffee4368/douga/ikeda2018douga4.gif>



9 山小屋の右に集まった者たちが順番に山小屋に入ります。全部入ると何匹か山小屋から左に出てしまいました。山小屋には何匹はっていますか。その数だけマス目に○をかきましょう。(映像あり)

しまうま
いたけのこ
け
きりん

はさみ
ぶら
こあら
みかさ
かさ
ん

大阪教育大学附属池田小学校 (言語) レインボー先生

名前をはめ込んだとき、1つだけ使わない絵があります。その絵を見つけて○をつけてみましょう。全てはめ込んだとき、赤色の四角の中に入っている丸の絵の4つの絵のどれかが多くなります。見つけて○をつけてみましょう。

いちご
り
と
かとりせんこう
ん
たんす

り・ん・ご

