

レインボー先生

# 森村学園初等部 2018過去問


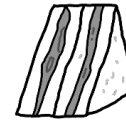

この過去問は学力アップの為、問題量や内容を少しかえている類似問題です。  
尚、情報不足から記載していない問題もあります。




過去問に挑戦  
絞った学習方法は的が小さくなり  
当たりません。  
いろんな学校の問題に挑戦すると  
学力がアップ!

rainbow

よしお君はお父さん、妹と水族館にタクシーで行きました。水族館に着いて初めて見たのはペンギンです。ペンギンは全部で6匹、先頭は飼育係のお姉さんです。お姉さんの後ろを並んでよちよち歩いてよしお君達を出迎えです。次に見たのはウミガメです。気持ち良さそうに水槽の中を泳いでいました。お昼になったのでお母さんが作ってくれた真四角のサンドイッチをみんなで美味しく食べました。食べた後にタコを見に行きました。妹は初めて見るタコを気持ち悪がっていました。次はサメを見に行きました。サメのたくさんの歯がついている骨の標本が置いてあり妹は怖がりました。最後はイルカのショーを見ました。お友達からイルカのショーを見るときは水槽の1番前にレインコートを着て座ると楽しいことを聞いていました。よしお君だけレインコートを着て1番前に座りました。お父さんと妹は後ろの方の席で見ました。4頭のイルカが丸いガラス張りの水槽の中で、吊るしてある輪をジャンプしてぐったり水玉模様のボールを鼻の上に置いて立った泳ぎます。イルカの後に大きなシャチが出てきて勢よく泳ぎだしました。突然大きくジャンプしました。客席のお客さんはあっという間にずぶ濡れです。よしお君はレインコートを着ていましたが、ずぶ濡れになり半泣きです。お父さんと妹はそれを見て大きな声で笑いました。



1 段目の問題 水族館に何に乗って行きましたか。○をつけましょう。




2 段目の問題 水族館に着いたとき出迎えた動物と同じ仲間の絵に○をつけましょう。




3 段目の問題 お弁当のサンドイッチに○をつけましょう



5 段目の問題 左から動物を見た順番どおりに並んでいる絵の箱に○をつけましょう。



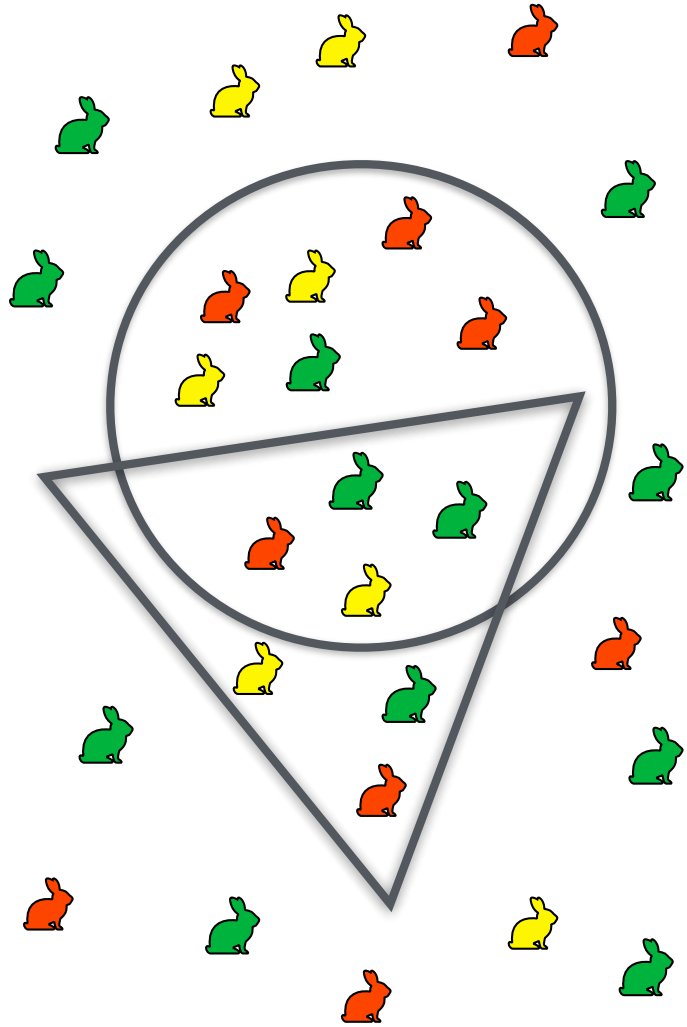
rainbow



- りんごの問題    丸の中の★と四角の中の☆の数を合わせるといくつになりますか。その数だけ○をかきましょう。
- みかんの問題    四角の中の☆と★の数はいくつ違いますか。その数だけ○をかきましょう。
- すいかの問題    丸の中の★と☆の数を合わせるといくつになりますか。その数だけ○をかきましょう。
- メロンの問題    四角の中の☆と丸の中の☆の数のちがいはいくつですか。その数だけ○をかきましょう。
- バナナの問題    丸と四角の中に入っていない☆と★を1つずつセットにすると何セットできますか。その数だけ○をかきましょう。




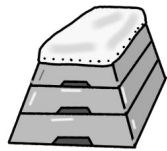
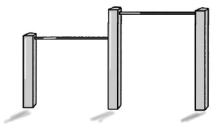
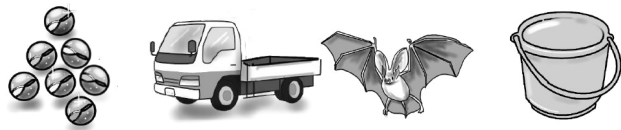


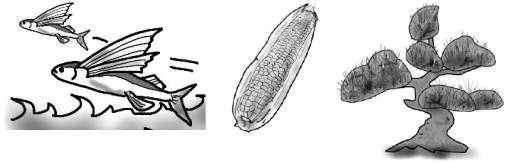
rainbow



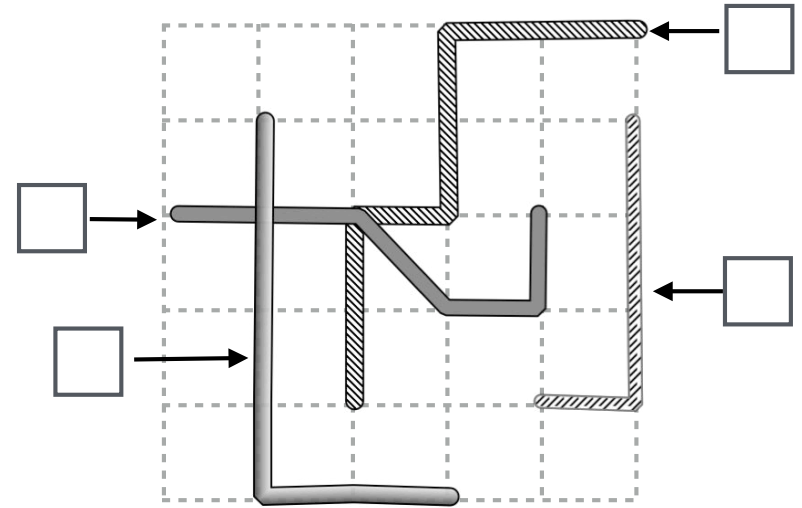
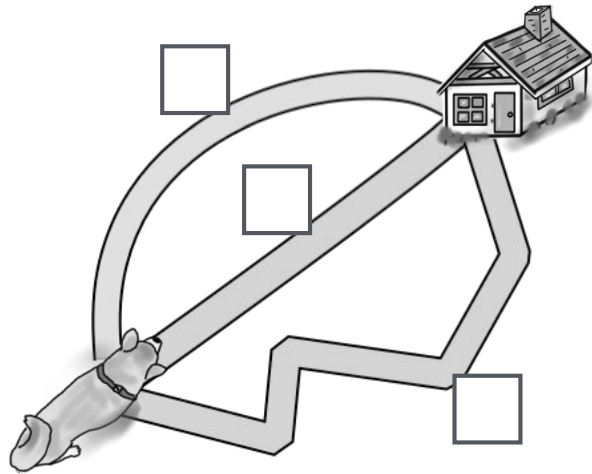
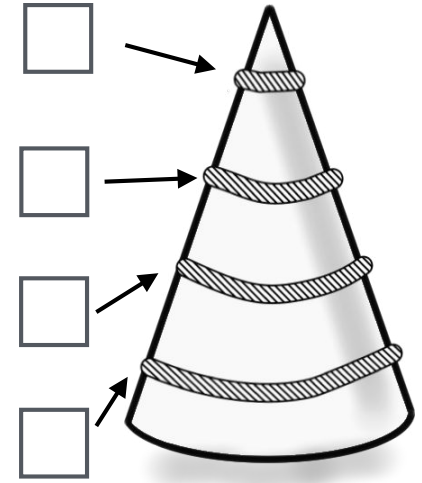
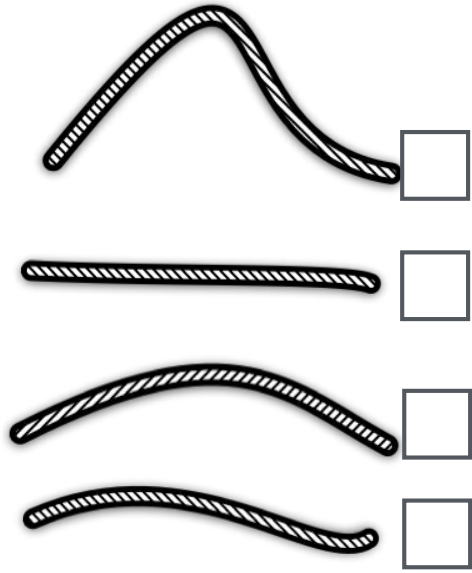
- りんごの問題    丸の中のウサギの数だけ○をかきましょう。
- バナナの問題    三角の中の緑のウサギの数だけ○をかきましょう。
- すいかの問題    丸と三角が重なっているところのウサギの数だけ○をかきましょう。
- メロンの問題    三角の中にいる黄色のウサギの数と丸の中にいる黄色のウサギの数の違いだけ○をかきましょう。
- みかんの問題    丸と三角の外にいる赤色のウサギと緑色のウサギを1匹ずつセットにすると何セットできますか。そこに数だけ○をかきましょう。

rainbow



rainbow

5 上の絵の最初の言葉 (音) を合わせてできるものを下から見つけて○をつけましょう。

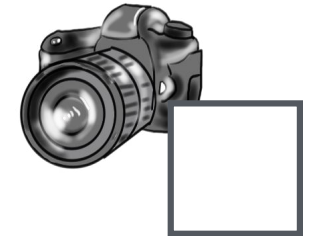
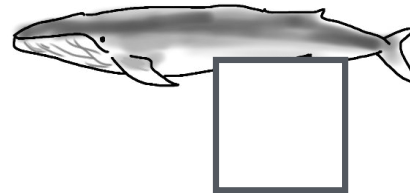


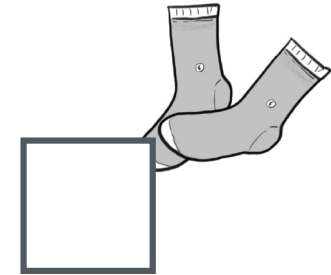
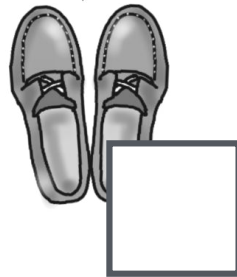

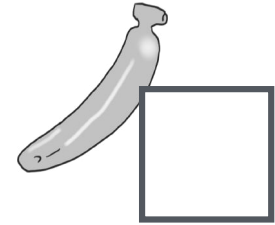




左上の問題 1番長いロープの箱に○を1番短いロープの箱に△をかきましょう。

左下の問題 イヌが家に帰るのに2番目に早く家に着く道の箱に○をつけましょう。

右上の問題 カラーコーンに巻いてあるロープの中で2番目に長いものに○を1番短いものに△を箱にかきましょう。

右下の問題 2番目に長いロープに○を1番短いロープに△を箱にかきましょう。¥



1 台、2 台と数えるものの箱に○をかきましょう。


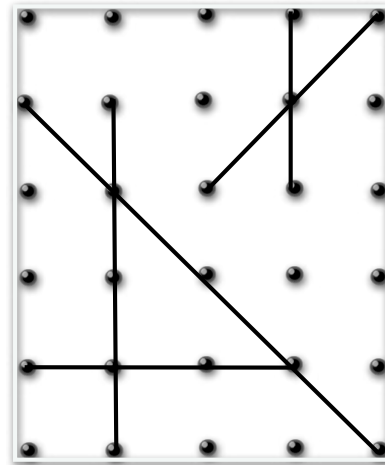

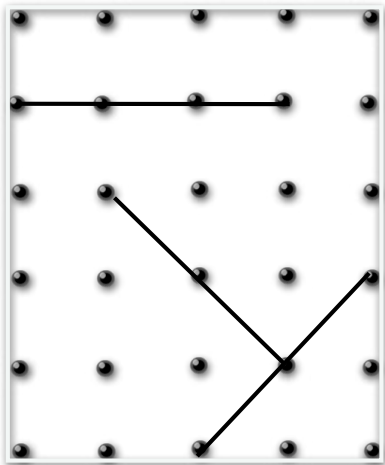

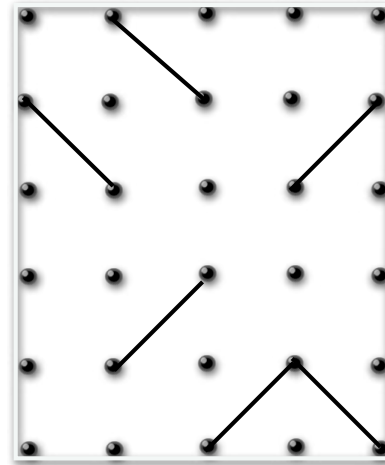

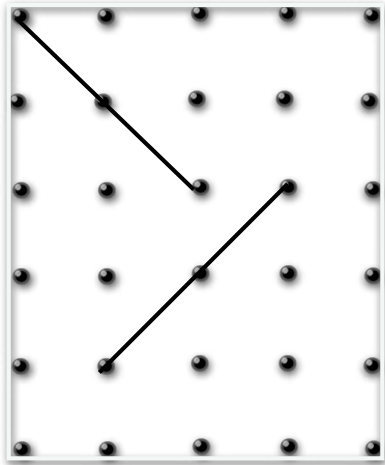
1 本、2 本と数えるものの箱に●をかきましょう。

1 頭、2 頭と数えるものの箱に×をかきましょう。

1 足、2 足と数えるものの箱に◎をかきましょう。

1 枚、2 枚と数えるものの箱に△をかきましょう。



rainbow

