



レインボー先生

晃華学園小学校 2012過去問



みんなで過去問に挑戦
絞った学習方法は的が小さくなり
当たりません。
いろんな学校の問題に挑戦すると
学力がアップ！

お話の記憶-1



ゆうかちゃんがお母さんに「お醤油が切れたわ、お買い物に行つて来てくれる」と頼まれて出かけました。お隣の家の前を通りかかると家の中に最近生まれたばかりの赤ちゃんをおばさんがあやしているのが見えました。公園の中を通るとベンチに足を組んだめがねのおじさんが新聞を横に置いて携帯電話を触つて座っていました。公園を出て直ぐに右に曲がるとお姉ちゃんが通う小学校があります。その隣のお店でお買い物をして帰りました。


イチゴ ゆうかちゃんは何を買いに行きましたか。○をつけましょう。

リンゴ お隣の様子に○をつけましょう。

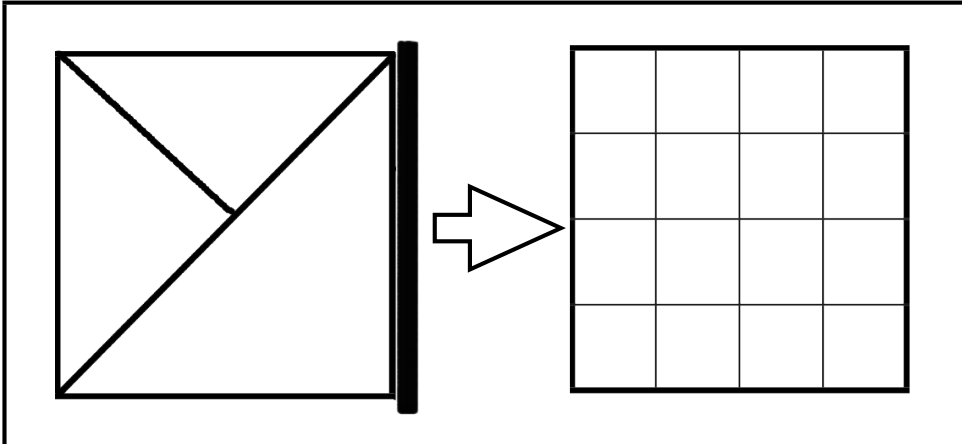
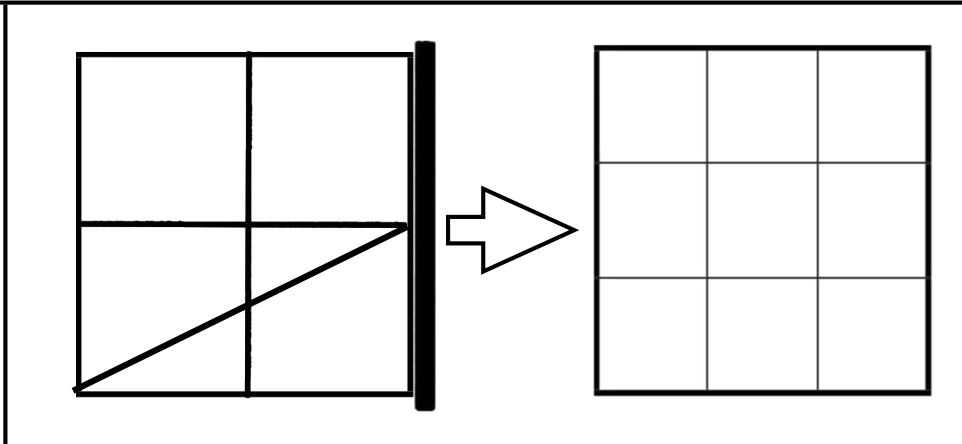
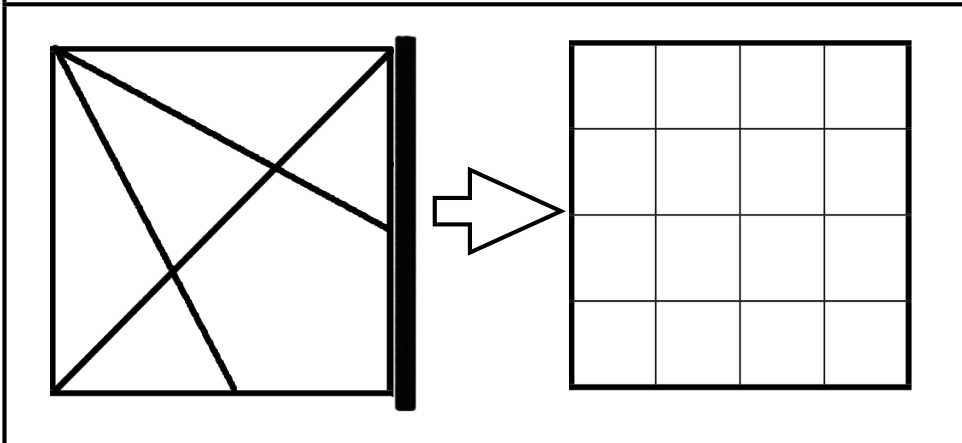
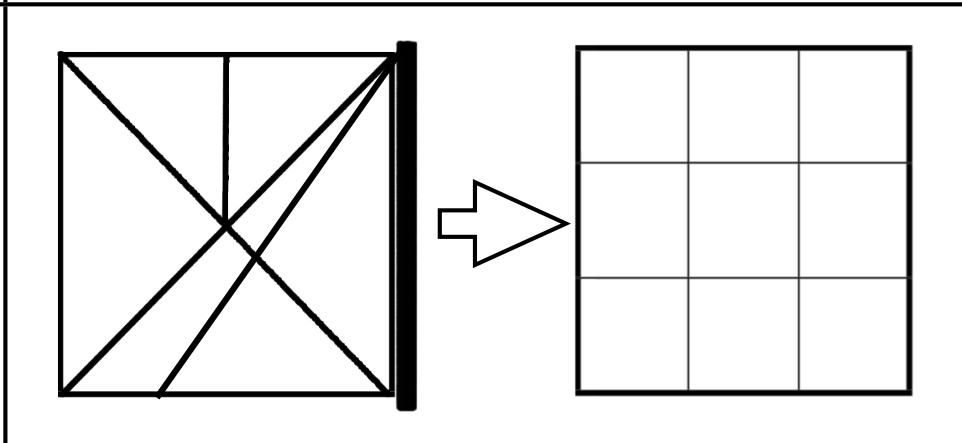
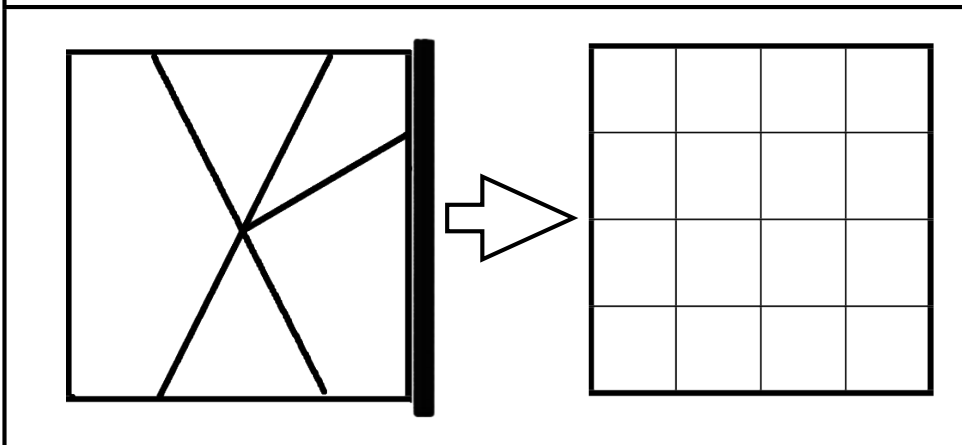
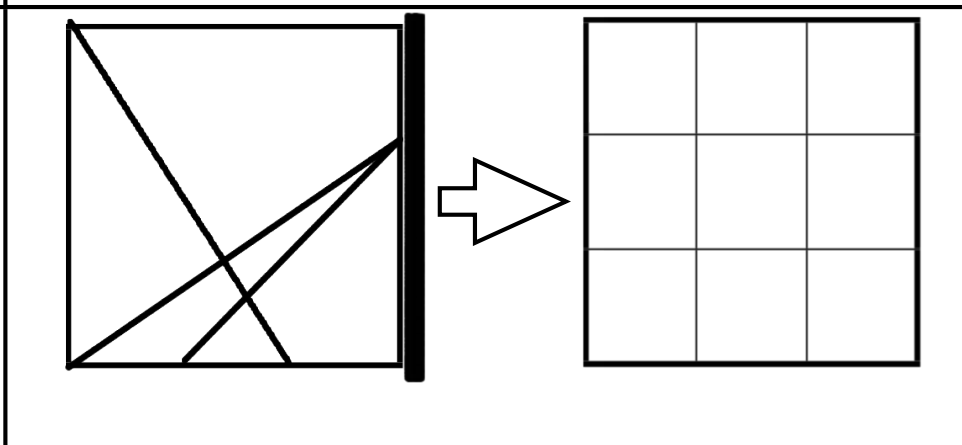
バナナ ベンチに座っていた人に○をつけましょう。

パイナップル ゆうかちゃんに○をつけましょう。

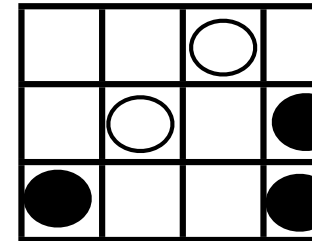
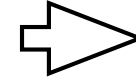
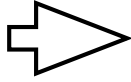


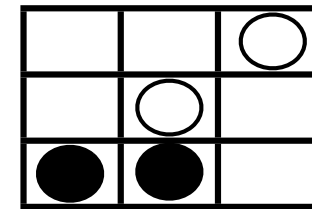
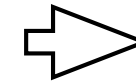
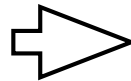

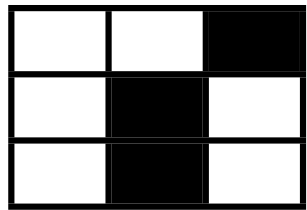
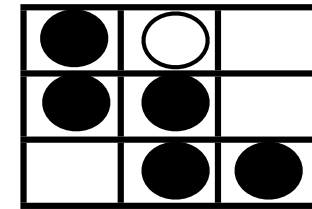
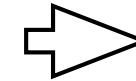
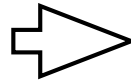


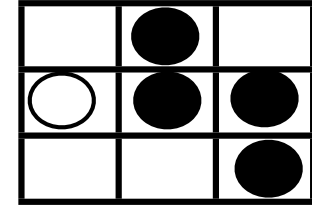
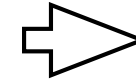
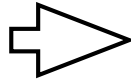

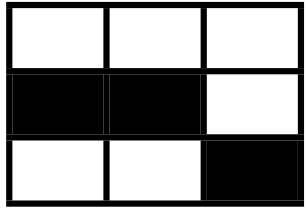
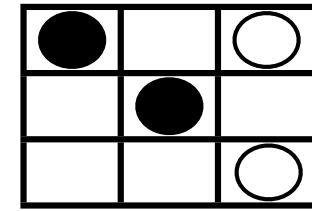
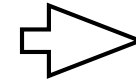
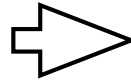
















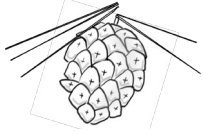



















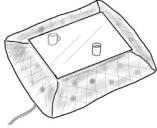
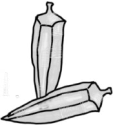


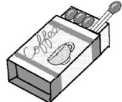
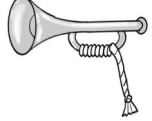



たけし君はお友達のしょうた君と一緒に遊ぶ約束をしました。「明日晴れだったら野原で虫を取りに行こうね。でも雨だったらいっしょに虫の本を見ようね」次の日たけし君は言いました。「ごんねんだったね」 *しょうた君と遊んだ時のたけし君に○をつけましょう。

左端の形の黒い太い線の上に鏡を置きました。鏡に映った様子を矢印の右に書きましょう。(この問題だけ消しゴム可でした)



左の形2枚をそのまま重ねて魔法使いの持つ袋に入れると*黒い所と黒い所が重なると白になります。*白い所と白い所が重なるとそのままです。*黒い所と白い所が重なると黒になります。では、黒に変わった所には●を白に変わった所には○を右の箱に書きましょう。

箱の中の絵全部でしりとりができます。右下の口の中の絵がしりとりの最後にくる絵です。では最初にくる絵はどの絵ですか、○をつけなさい。

晃華学園小学校2012 お話の記憶-1

ゆうちゃんがお母さんに「お醤油が切れたわ、お買い物に行って来てくれる」と頼まれて出かけました。お隣の家の通りかめと家の間に最近またたけの中のお母ちゃんをおぼろんなかみしているのが見えました。公園の中を走るベンチに足を取られたおじさんが新聞を頼いで携帯電話を持って帰っていました。公園を出て行くに右に虫が見えるとお母ちゃんの通う小学校があります。その隣のお店でお買い物をして帰りました。

イタゴ ゆうちゃんは何を買って行きましたか、○をつけましょう。
リンゴ お隣のの様子に○をつけましょう。
バナナ ベンチに落ちていた人に○をつけましょう。
パイナップル ゆうちゃんに○をつけましょう。

レインボー先生

晃華学園小学校2012 お話の記憶-2

たけし君はお友達のような君と一緒に遊ぶ約束をしました。明日雨になったら野原で虫を撮りに行こうね、でも雨だったらいっしょに虫の本を見ようね、次の日たけし君は言いました。「おねえんだったね。」もしょうたけし君と遊ぶ日たけし君に○をつけましょう。

レインボー先生

晃華学園小学校2012 図形（鏡）

左側の形の真い大きい鏡の上に鏡を置きまし、鏡に映った様子を先印の右に書きましよう。（この問題だけ消しゴム可でした）

レインボー先生

解答を見やすくするため赤にしています。
丁寧さと正確さも大切です。（消しゴム使用可）

晃華学園小学校2012 推理思考（マジックパック）

レインボー先生

左の型之数をそのまま魔法使いの持ち袋に入れると●黒い所と黒い所が重なるも白になります。●白い所と白い所が重なるも黒になります。●黒い所と白い所が重なるも黒になります。では、黒に変わった所を●●白に変わった所を○を右の箱に書きましよう。

一番上の問題で説明をして下さい。

晃華学園小学校2012 言語（しりとり）

レインボー先生

箱の中の絵全部でしりとりができます。右下の□の中の絵がしりとり前の絵になります。では最初の絵はどの絵ですか、○をつけましよう。