















レインボー先生



城星学園小学校 2015過去問



みんなで過去問に挑戦
絞った学習方法は的が小さくなり
当たりません。
いろんな学校の問題に挑戦すると
学力がアップ！

(リンゴ) ゾウは「僕は世界で一番大きくて重いぞ」と威張って歩いていると、サイが「海に住むクジラの方がもっと大きよ」と笑いました。ゾウは疑ってカバに聞きました。「あのね、ゾウさんやクジラさんよりもっと大きな恐竜という生き物がいたそうだよ」と教えてくれました。
では、恐竜という生き物を教えてくれた動物に○をつけましょう。


(ミカン) クマが夜、森の中を歩いているとリスと出会いました。「クマさんあのね、さっき森の奥で光るキノコを見つけたよ」「リスさんあのね、僕はリスさんが住むのにちょうどいい穴があいた木を見つけたよ」
では、リスが森で見つけたものに○をつけましょう。

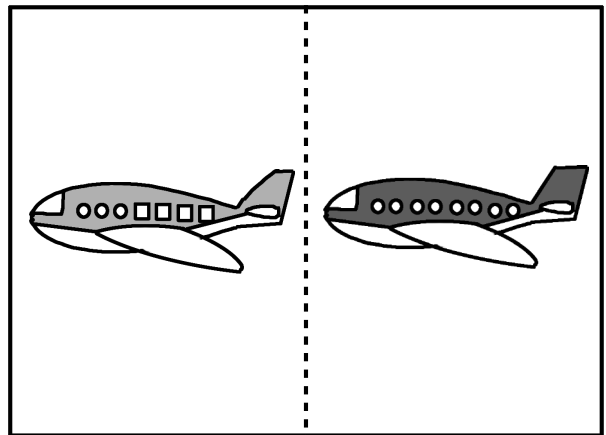
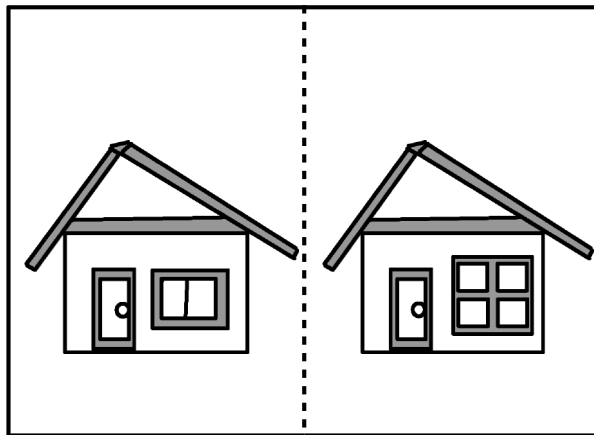
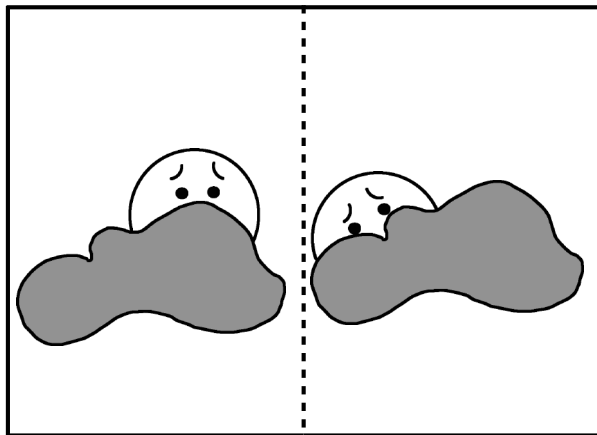
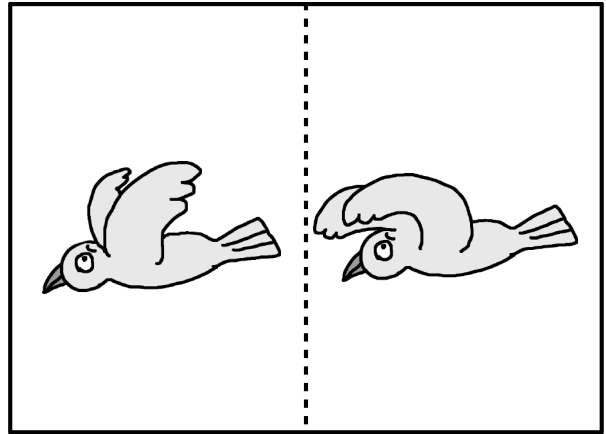




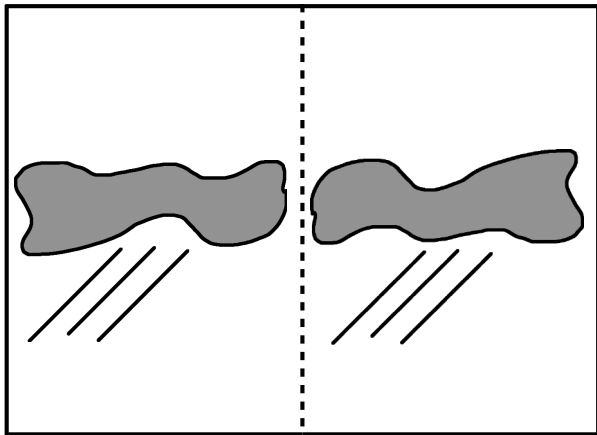
(イチゴ) 愛ちゃんは家族5人で遊園地に行きました。みんなでメリーゴーランド・観覧車・お猿の電車・コーヒークップ・ジットコースターと続けて乗りましたが、愛ちゃんはジットコースターだけ怖いので乗りませんでした。
では、愛ちゃんが乗った乗り物の数と同じ絵に○をつけましょう。

(バナナ) けんいち君は裏山の頂上まで網と虫かごを持って出かけました。行きにカブトムシとクワガタムシとカマキリとを捕まえました。帰りはアゲハチョウとクワガタムシとトノサマバッタを捕まえました。
では、行きも帰りも捕まえた虫に○をつけましょう。

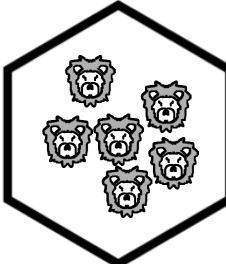

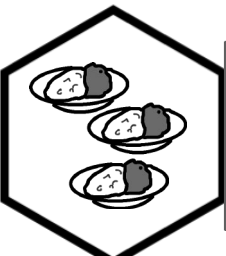
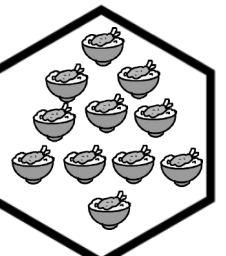
(メロン) リスは冬越しのため毎日忙しくドングリを集めています。「たくさん集まったかい？僕の集めたクリ3個とドングリ6個と交換しようよ」とクマがやってきて言いました。「だめだよ。せっかく集めたんだもん」とリスが断ると、「それじゃクリ4個とドングリ6個ならどう」とクマが言うと「だめだめ」とリスは首を横に振りました。「それじゃ、クリ5個とドングリ6個はどう？」とクマが言うと「いいよ。交換しよう」とリスが言いました。
では、一番最初にクマはクリ何個とドングリ何個を交換しようと言いましたかその絵に○をつけましょう。

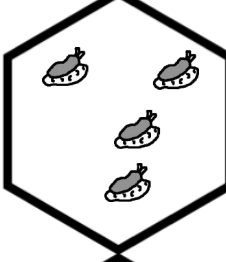
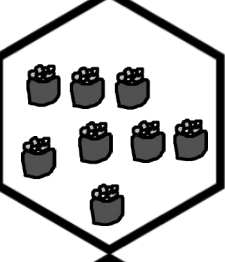
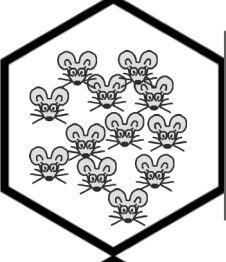
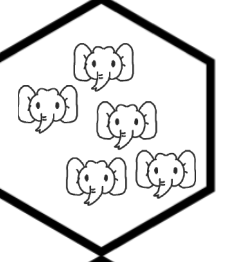
(スイカ) タヌキさんはキツネさんより背が高いですが、走るの遅いです。キツネはブタさんより背が高いですが、走るの遅いです。
では、1番せが高い動物に○を1番走ることが速い動物に×をつけましょう。

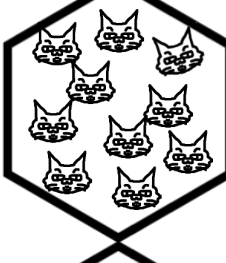


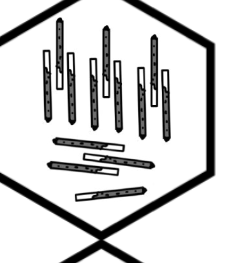


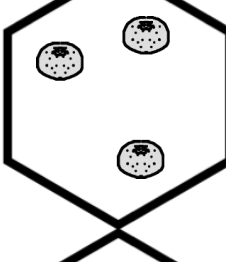





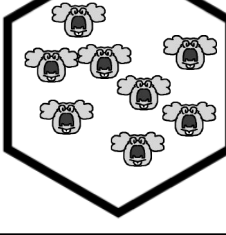

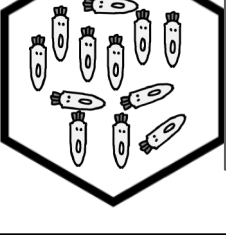

今覚えた絵に○をつけましょう。

	<table border="1" style="width: 100%; height: 100%; border-collapse: collapse;"><tr><td style="width: 20%;"></td><td style="width: 20%;"></td><td style="width: 20%;"></td><td style="width: 20%;"></td><td style="width: 20%;"></td></tr><tr><td colspan="5" style="text-align: center;">-----</td></tr><tr><td style="width: 20%;"></td><td style="width: 20%;"></td><td style="width: 20%;"></td><td style="width: 20%;"></td><td style="width: 20%;"></td></tr></table>						-----												<table border="1" style="width: 100%; height: 100%; border-collapse: collapse;"><tr><td style="width: 20%;"></td><td style="width: 20%;"></td><td style="width: 20%;"></td><td style="width: 20%;"></td><td style="width: 20%;"></td></tr><tr><td colspan="5" style="text-align: center;">-----</td></tr><tr><td style="width: 20%;"></td><td style="width: 20%;"></td><td style="width: 20%;"></td><td style="width: 20%;"></td><td style="width: 20%;"></td></tr></table>						-----										

	<table border="1" style="width: 100%; height: 100%; border-collapse: collapse;"><tr><td style="width: 20%;"></td><td style="width: 20%;"></td><td style="width: 20%;"></td><td style="width: 20%;"></td><td style="width: 20%;"></td></tr><tr><td colspan="5" style="text-align: center;">-----</td></tr><tr><td style="width: 20%;"></td><td style="width: 20%;"></td><td style="width: 20%;"></td><td style="width: 20%;"></td><td style="width: 20%;"></td></tr></table>						-----												<table border="1" style="width: 100%; height: 100%; border-collapse: collapse;"><tr><td style="width: 20%;"></td><td style="width: 20%;"></td><td style="width: 20%;"></td><td style="width: 20%;"></td><td style="width: 20%;"></td></tr><tr><td colspan="5" style="text-align: center;">-----</td></tr><tr><td style="width: 20%;"></td><td style="width: 20%;"></td><td style="width: 20%;"></td><td style="width: 20%;"></td><td style="width: 20%;"></td></tr></table>						-----										











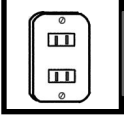

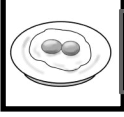










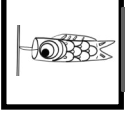



	<table border="1" style="width: 100%; height: 100%; border-collapse: collapse;"><tr><td style="width: 20%;"></td><td style="width: 20%;"></td><td style="width: 20%;"></td><td style="width: 20%;"></td><td style="width: 20%;"></td></tr><tr><td colspan="5" style="text-align: center;">-----</td></tr><tr><td style="width: 20%;"></td><td style="width: 20%;"></td><td style="width: 20%;"></td><td style="width: 20%;"></td><td style="width: 20%;"></td></tr></table>						-----												<table border="1" style="width: 100%; height: 100%; border-collapse: collapse;"><tr><td style="width: 20%;"></td><td style="width: 20%;"></td><td style="width: 20%;"></td><td style="width: 20%;"></td><td style="width: 20%;"></td></tr><tr><td colspan="5" style="text-align: center;">-----</td></tr><tr><td style="width: 20%;"></td><td style="width: 20%;"></td><td style="width: 20%;"></td><td style="width: 20%;"></td><td style="width: 20%;"></td></tr></table>						-----										

	<table border="1" style="width: 100%; height: 100%; border-collapse: collapse;"><tr><td style="width: 20%;"></td><td style="width: 20%;"></td><td style="width: 20%;"></td><td style="width: 20%;"></td><td style="width: 20%;"></td></tr><tr><td colspan="5" style="text-align: center;">-----</td></tr><tr><td style="width: 20%;"></td><td style="width: 20%;"></td><td style="width: 20%;"></td><td style="width: 20%;"></td><td style="width: 20%;"></td></tr></table>						-----												<table border="1" style="width: 100%; height: 100%; border-collapse: collapse;"><tr><td style="width: 20%;"></td><td style="width: 20%;"></td><td style="width: 20%;"></td><td style="width: 20%;"></td><td style="width: 20%;"></td></tr><tr><td colspan="5" style="text-align: center;">-----</td></tr><tr><td style="width: 20%;"></td><td style="width: 20%;"></td><td style="width: 20%;"></td><td style="width: 20%;"></td><td style="width: 20%;"></td></tr></table>						-----										

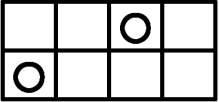
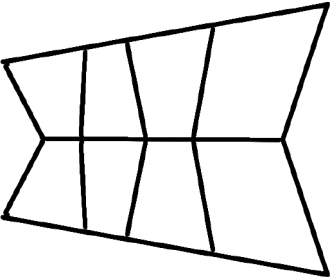
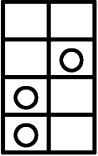
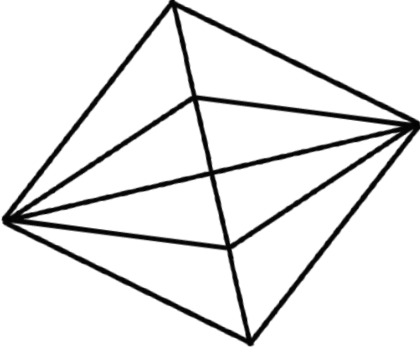
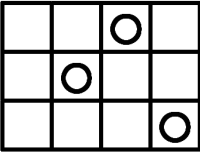

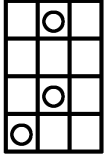
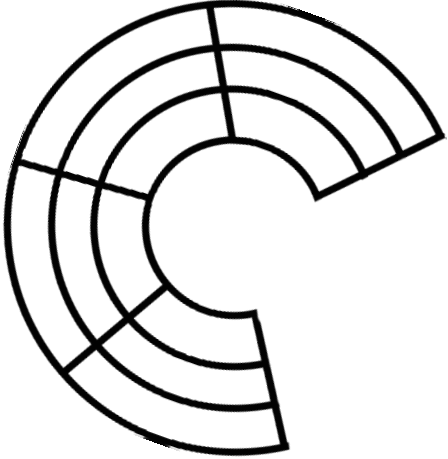
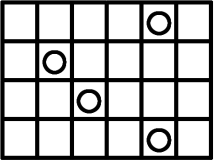
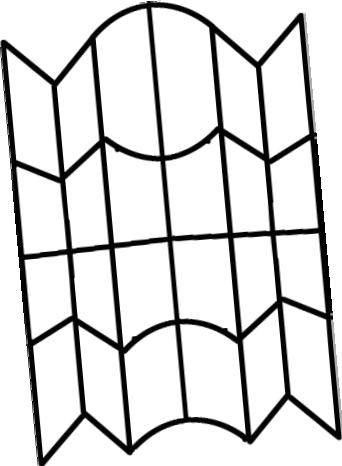
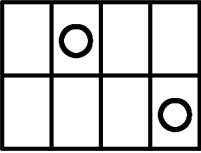
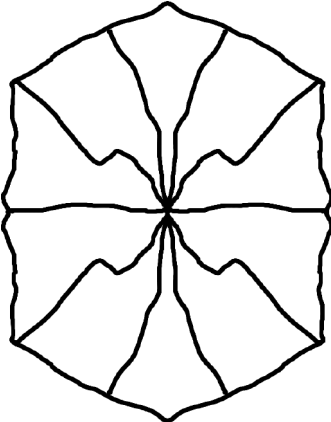
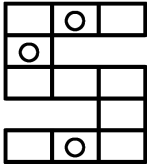

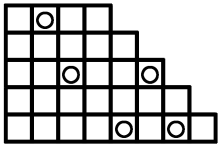
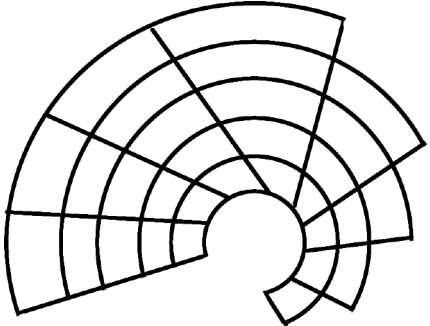
	<table border="1" style="width: 100%; height: 100%; border-collapse: collapse;"><tr><td style="width: 20%;"></td><td style="width: 20%;"></td><td style="width: 20%;"></td><td style="width: 20%;"></td><td style="width: 20%;"></td></tr><tr><td colspan="5" style="text-align: center;">-----</td></tr><tr><td style="width: 20%;"></td><td style="width: 20%;"></td><td style="width: 20%;"></td><td style="width: 20%;"></td><td style="width: 20%;"></td></tr></table>						-----												<table border="1" style="width: 100%; height: 100%; border-collapse: collapse;"><tr><td style="width: 20%;"></td><td style="width: 20%;"></td><td style="width: 20%;"></td><td style="width: 20%;"></td><td style="width: 20%;"></td></tr><tr><td colspan="5" style="text-align: center;">-----</td></tr><tr><td style="width: 20%;"></td><td style="width: 20%;"></td><td style="width: 20%;"></td><td style="width: 20%;"></td><td style="width: 20%;"></td></tr></table>						-----										

左と右の絵の数を調べて少ない方の数にいくつ増やすと多い方と同じになりますか。その数だけ真ん中の箱に○を書きましょう。

左上のお約束を見ましょう。コップにいろいろな形の石を入れると水の量がお約束のように増えます。では左はしのように石を入れると水はどのように増えますか。右から正しいものを見つけて○をつけましょう。

		
 _____ ☆	 _____ ☆	 _____ ☆
*  _____ ☆	 _____ ☆	 _____ ☆
 _____ ☆	 _____ ☆	 _____ ☆
 _____ ☆	 _____ ☆	 _____ ☆
 _____ ☆	 _____ ☆	 _____ ☆
 _____ ☆	 _____ ☆	 _____ ☆
 _____ ☆	 _____ ☆	 _____ ☆
 _____ ☆	*  _____ ☆	 _____ ☆

リンゴの問題です。左の名前の中に「き」が出てくるまで、右の箱に○を書きましょう。もしその言葉がない場合は右端の星印に○をつけましょう。ただし、その言葉が1個だけではない場合は最初の所まで書きましょう。
 ミカンの問題です。左の名前の中に「せ」が出てくるまで、右の箱に○を書きましょう。もしその言葉がない場合は右端の星印に○をつけましょう。だし、その言葉が1個だけではない場合は最初の所まで書きましょう。
 イチゴの問題です。左の名前の中に「り」が出てくるまで、右の箱に○を書きましょう。もしその言葉がない場合は右端の星印に○をつけましょう。だし、その言葉が1個だけではない場合は最初の所まで書きましょう。

上の形が下のような形になりました。○はどこにきますか。正しい場所に○を書きましょう。

城星学園小学校2015過去問 (お話の記憶)

聞いてお話します。聞いてお話を思い出しましょう。

(リンゴ) ソウは「僕は昔で一番大きくて強い」と威嚇して歩いていたら、サイが「前に歩いている方がもっと大きい」と笑いました。ソウは驚いてかたに聞き直しました。「あのね、ゾウさんやクマさんよりずっと大きな動物という生き物があるんだよ」と教えてくれました。では、恐竜もいる生き物がある動物に○をつけましょう。

(メロン) タマが靴、森の中を歩いているとリスと出会いました。「ワタシは、さっきの森で変なキノコを拾ったよ」「ワタシは、あのね、おは、ワタシが住むのちろろいびきでいた木を見つけたよ」では、リスが床で見たおはに○をつけましょう。

(イサナ) 変ちゃんはお友達5人で遊園地に行きました。みんなでメリーゴーランド、観覧車、お遊園の車、ヨーヨーゲーム、ジェットコースターと遊びました。変ちゃんはお友達5人とジェットコースターだけ別ののりこで遊んでました。では、変ちゃんがお友達5人と遊んだ遊具に○をつけましょう。

(コオロギ) けんいおは虫の園の園主で園を大切に育てて居ます。たくさん集まったコオロギの卵の卵をタマとトウと交換しようよと、トウがやってくるので「だめだよ、せっかく集めたんだし」とトウが断ると、「それじゃあトウと交換しようよ」とトウが言うので「だめだよ」とトウは首を振りました。「それじゃあ、タマと交換しようよ」とトウが言うので「だめだよ」とトウは断りました。では、トウと交換しようよとトウが言う動物に○をつけましょう。

(スイカ) タマはスイカを5人で遊園地に行きました。みんなでメリーゴーランド、観覧車、お遊園の車、ヨーヨーゲーム、ジェットコースターと遊びました。変ちゃんはお友達5人とジェットコースターだけ別ののりこで遊んでました。では、変ちゃんがお友達5人と遊んだ遊具に○をつけましょう。

2 レインボー先生

城星学園小学校2015過去問 (絵の記憶解答)

今見た絵に○をつけましょう。

4 レインボー先生

城星学園小学校2015過去問 (数数 足りない数)

左と右の数の数を比べて少ない方の数にいくつ増やしたら多い方と同じになりますか。その数をけいけんの中に○を書きましょう。

6 レインボー先生

城星学園小学校2015過去問 (比較 置き換え名画)

お話を思い出しましょう。お話を思い出して絵の置き換えをしましょう。お話を思い出して絵の置き換えをしましょう。お話を思い出して絵の置き換えをしましょう。

6 レインボー先生

城星学園小学校2015過去問 (言語)

6 レインボー先生

城星学園小学校2015過去問 (数数)

上の絵の下の絵に○を書きましょう。

6 レインボー先生