

レインボー先生

雙葉小学校 2018過去問

この過去問は学力アップの為、問題量や内容を少しかえている類似問題です。
尚、情報不足から記載していない問題もあります。

筆記用具
青のフェルトペン
訂正方法
M ギザギザ線
出題方法
お話の記憶のみ音声
その他は口頭



過去問に挑戦
絞った学習方法は的が小さくなり
当たりません。
いろんな学校の問題に挑戦すると
学力がアップ!

今日は動物の森の運動会です。広場はイチヨウの葉っぱがじゅうたんのよう広がってとても綺麗です。冬はすぐ近くに来ています。外国からやって来た4羽のカモメの親子がちょうどイチヨウの木のでっぺんに止まりました。カモメの子供が「疲れたからここで休憩して運動会を見ようよ」と言いました。「そうだね。みんなで応援しよう」とカモメのお父さんは言いました。下ではちょうどタヌキさんチームとウサギさんチームの玉入れ競技です。ほとんど同じだけカゴに玉が入りました。でも、みんなで数えるとウサギさんチームが3個違いで勝ちました。次は駆けっこです。キツネさんとネズミさんとクマさんとシカさんです。「よーい、ドン」一斉に走り出しました。シカさんがだんぜん速く、みんなは1番と信じていましたが、シカさんの背中に乗っていたネズミさんが最後の最後にゴールまじかで飛び降り1等になりました。途中転んだキツネさんが最後のゴールとなりましたが、みんなは拍手しました。最後はみんなでダンスです。曲は森の小鳥たちが歌います。小鳥の中の青い鳥がカモメの親子を見つけました。青い鳥は「カモメさんは僕たちの森の生き物ではないけれど、入れてあげようよ」と曲の指揮をするフクロウさんに尋ねました。その話を聞いていた森の動物達はみんなでイチヨウのでっぺんを見て手招きしました。突然の参加のカモメの親子は感激をし、「来年の運動会の日にはもっとたくさんの仲間を連れて必ず来ます」と挨拶をしました。動物達のダンスと歌声は夕焼けの空に響き渡りました。

イチゴの問題 このお話の季節がわかる木の葉っぱに○をつけましょう。

バナナの問題 カモメに○をつけましょう。


リンゴの問題 カモメの親子は何羽でしたか。その数だけ○をかきましょう。


ブドウの問題 玉入れで勝ったのはどのチームですか。○をつけましょう。

トマトの問題 駆けっこで1等になった動物に○最後になった動物にxをつけましょう。


ミカンの問題 カモメさんを見つけた鳥に○をつけましょう。

カキの問題 曲の指揮をする生き物に○をつけましょう。






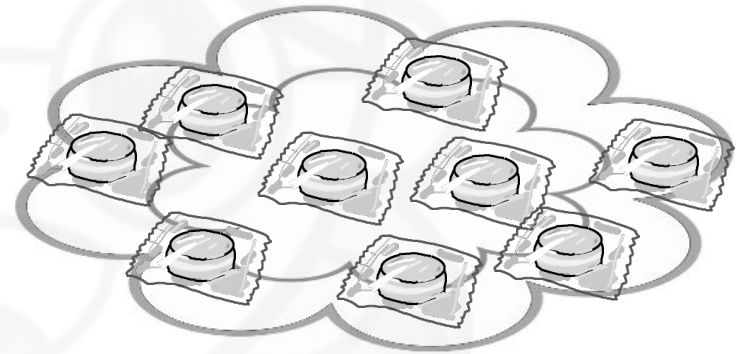
Blank rounded rectangular box for writing the answer to the first problem.



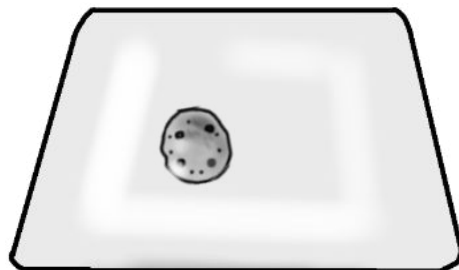
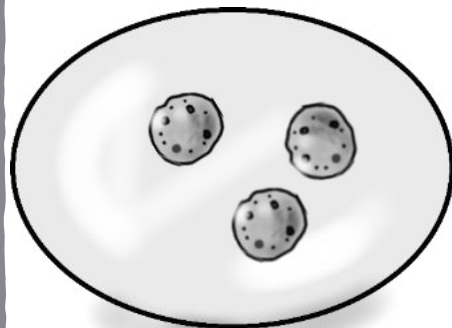
Blank rounded rectangular box for writing the answer to the second problem.




Blank rounded rectangular box for writing the answer to the third problem.



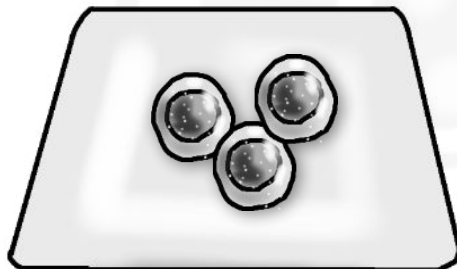
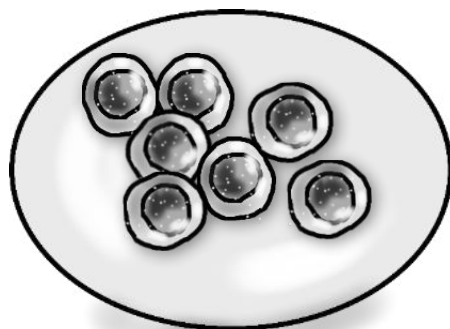
Blank rounded rectangular box for writing the answer to the fourth problem.



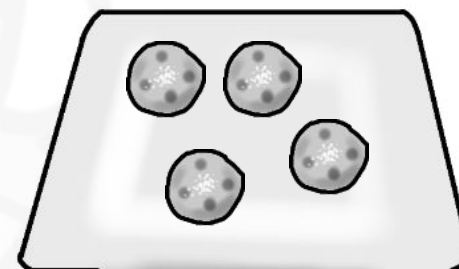
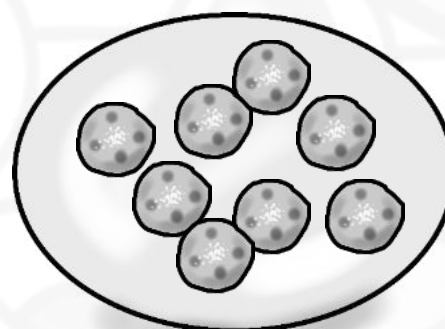
Blank box for writing the number of cookies moved.



Blank box for writing the number of cookies moved.







Blank box for writing the number of cookies moved.




Blank box for writing the number of cookies moved.

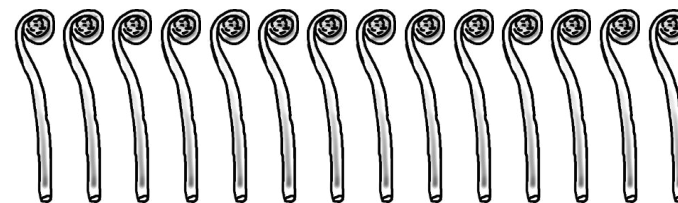
4 丸いお皿から四角いお皿にクッキーを幾つ移すと同じ数になりますか。その数だけ下の箱に○をかきましょう。




5 お皿のイチゴをお兄さんが弟より2個多く分けます。お兄さんのイチゴは何個になりますか。その数だけ下の箱に○をかきましょう。



Empty rounded rectangular box for writing the answer to the apple problem.



Empty rounded rectangular box for writing the answer to the pineapple problem.



Empty rounded rectangular box for writing the answer to the cookie problem.



Empty rounded rectangular box for writing the answer to the banana problem.

リンゴの問題 飴をお父さんが3個、お母さんが2個、僕が2個袋にいれました。飴は何個余りますか。その数だけ下の箱に○をかきましょう。


ミカンの問題 シイタケをお母さんが4個お父さんが2個僕があ3個袋に入れました。シイタケは何個余りますか。その数だけ下の箱に○をかきましょう。

パイナップルの問題 ゼンマイをお父さんが4本、お母さんが5本、僕は1本採って袋に入れました。ゼンマイは何本残っていますか。その数だけ下の箱に○をかきましょう。

バナナの問題 おにぎりをお父さんは2個、お母さんも2個、お姉さんは1個、僕は3個食べました。余ったおにぎりは何個ですか。その数だけ下の箱に○をかきましょう。







タヌキさん達が「だるまさんが転んだ」で遊んでいます。


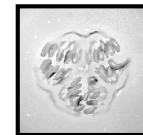
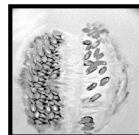

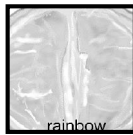
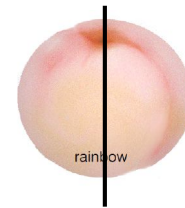
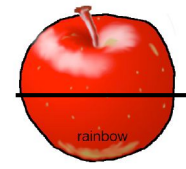
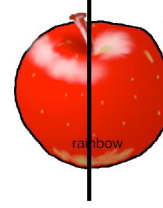
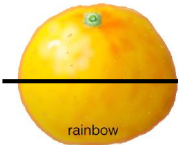


*ポン太は鬼から見て後ろから4番目にいます。ポン太に○をつけましょう。


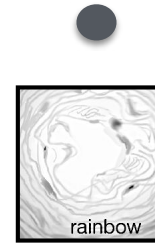
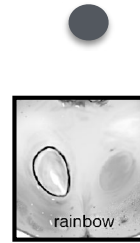
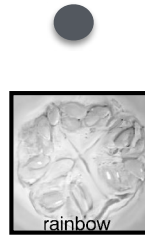
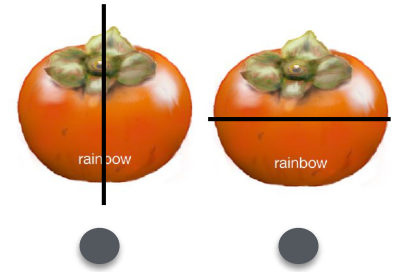
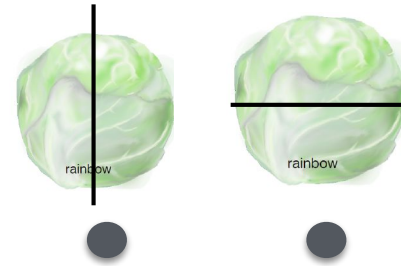
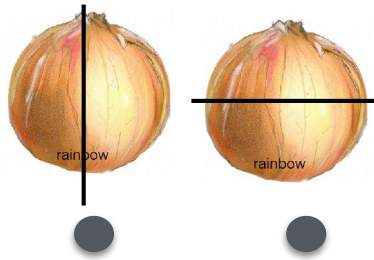
*左手だけをあげて止まっている女の子のタヌキさんに△をつけましょう。

*木になっているドングリの数から落ちてきているドングリの数の違いは幾つですか。右のドングリの四角に○をかきましょう。

*頭にお花をつけているタヌキさんは女の子です。では、男の子と女の子の数の違いは幾つですか。右のお花の四角に○をかきましょう。





rainbow





rainbow

10 上の果物左は縦に右は横に切りました。中の様子は下のどれですか線をひきましょう。



11 ライオンさん、ブタさん、ニワトリさんは矢印の通りにマス目を進むと、どこにたどり着きますか、線を引き最後のマス目にそれぞれの記号をかきましょう。
どのパンダさんがコインまでたどり着きますか。そのパンダさんの下の四角に○をかきましょう。

雙葉小学校 (位置の移動)

1. 動物のイラストを下のマスに移動させよう。
2. 動物のイラストを下のマスに移動させよう。
3. 動物のイラストを下のマスに移動させよう。
4. 動物のイラストを下のマスに移動させよう。
5. 動物のイラストを下のマスに移動させよう。

雙葉小学校 (位置の移動)

動物のイラストを下のマスに移動させよう。

雙葉小学校 (位置の移動)

動物のイラストを下のマスに移動させよう。

雙葉小学校 (位置の移動)

動物のイラストを下のマスに移動させよう。

雙葉小学校 (位置の移動)

動物のイラストを下のマスに移動させよう。

雙葉小学校 (位置の移動)

動物のイラストを下のマスに移動させよう。

雙葉小学校 (位置の移動)

動物のイラストを下のマスに移動させよう。

雙葉小学校 (位置の移動)

動物のイラストを下のマスに移動させよう。

雙葉小学校 (知識)

上の果物は右に切りました。中の棒は下のどれでかましますか。

雙葉小学校 (知識)

上の果物は左に切りました。中の棒は下のどれでかましますか。

