



レインボー先生


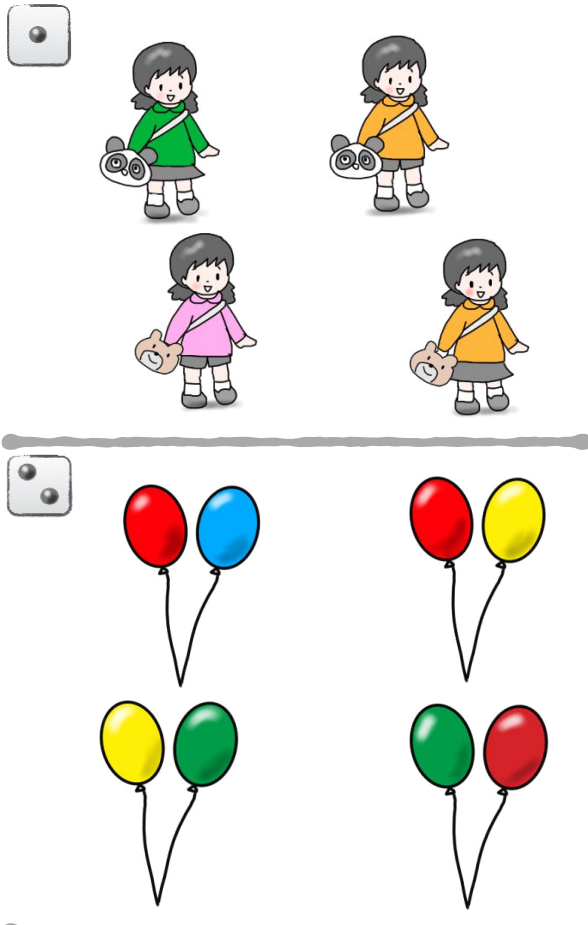
雲雀丘学園小学校 2018過去問

この過去問は学力アップの為、問題量や内容を少しかえている類似問題です。
尚、情報不足から記載していない問題もあります。



過去問に挑戦
絞った学習方法は的が小さくなり
当たりません。
いろんな学校の問題に挑戦すると
学力がアップ!

rainbow






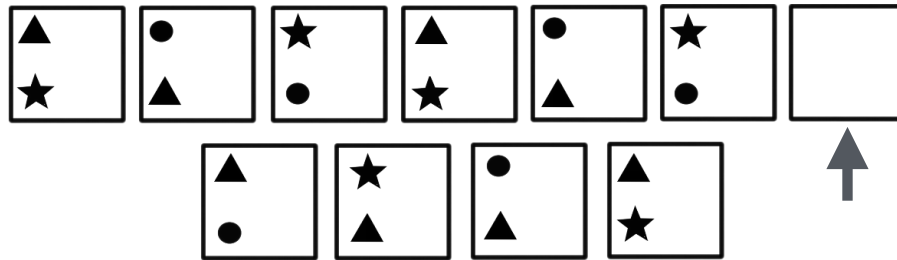




みずずちゃんは大好きなオレンジ色の服に半ズボン、クマのカバンを肩からかけておでかけです。お友達のけんいち君と公園で遊ぶ約束をしたからです。待ち合わせ場所のポストの横で待っているとけんいち君がやってきました。二人は公園に向かいました。公園の入り口にはピエロのかっこうをしたおじさんが風船を配っていました。たくさん人が集まっていたので風船はもらいませんでした。はじめにゾウさんの形の滑り台で遊びました。次はブランコに乗りました。次はロープを握って登れる小さな小山で遊びました。二人が風船のことを思い出し風船を配っているピエロのおじさんのところに行きました。ちょうど風船が2個残っていました。緑色と黄色の風船です。風船をもらってジャングルジムで遊びましたが「風船を持ったままでは危ないよ」と知らないお母さんに声をかけられました。最後は公園の出口にある鉄棒に風船をくくって鉄棒で遊びました。二人はたくさん遊んで満足です。出口からでてまた遊ぶ約束をしました。

- サイコロ1 みずずちゃんに○をつけましょう。
- サイコロ2 もらった風船に○をつけましょう。
- サイコロ3 お話に出てきた順番に線を引きましょう。


rainbow

rainbow



rainbow

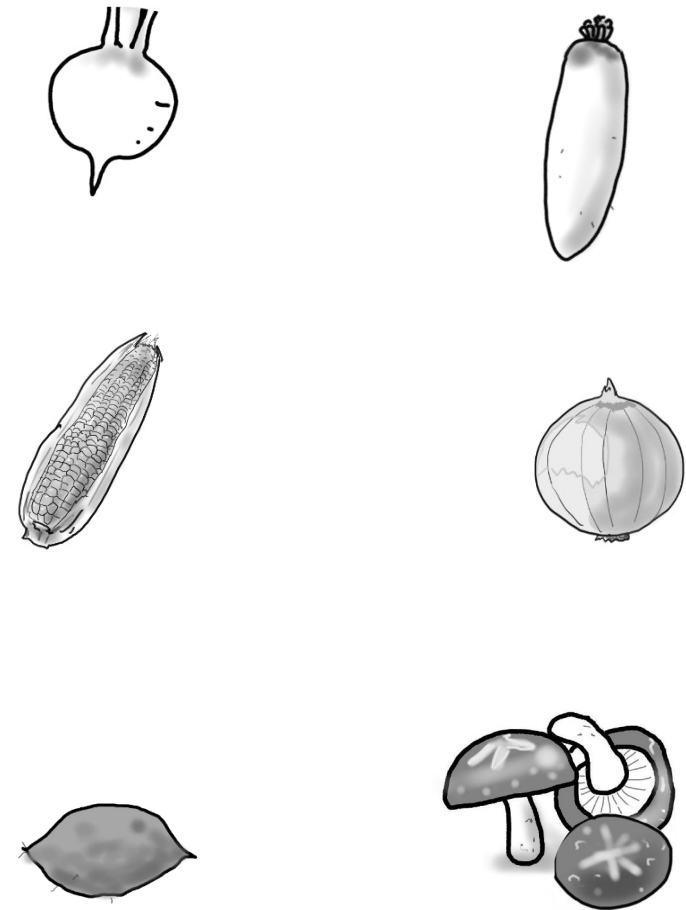
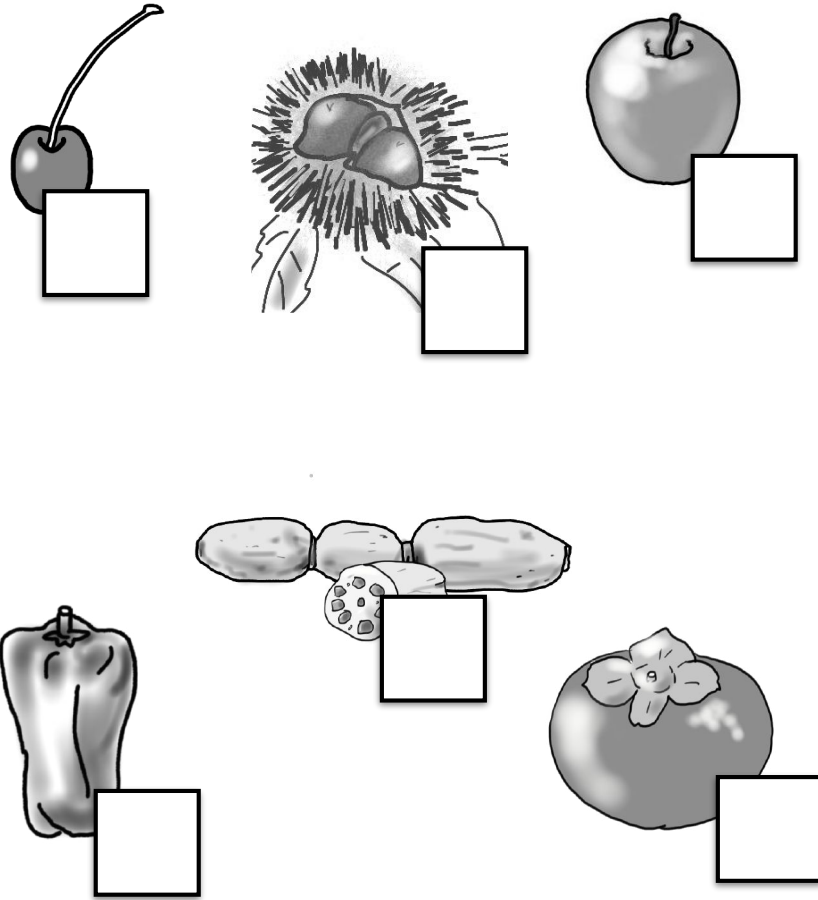
rainbow



rainbow

4 上の足跡は下のどの生き物のものですか。線でむすびましょう。

rainbow


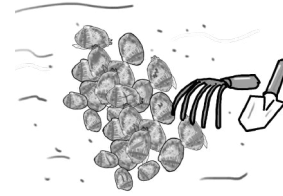

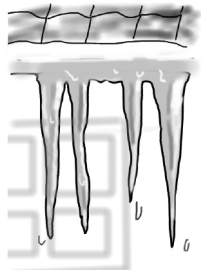


- *種がないものに○を箱の中にかきましよう。
- *この中で種が一番多いものに箱の中に△をかきましよう。
- *種が1個のものに箱の中に◎をかきましよう。
- *食べてるところが種のもの箱に●をかきましよう。



*全て土の中にある食べ物1個に○をつけましよう。

rainbow

rainbow







*ゼンマイ、ワラビ








夏と関係がある絵を4つ選ぶとするとどれですか。○をつけましょう。



秋と関係がある絵を2つ選ぶとするとどれですか。○をつけましょう。

rainbow






お手本は右の折紙を切り取って
作りました。どの形を使いましたか
教えてください



- * 1番長い色鉛筆はどれですか。
調べて教えてください。
- * 1番短い色鉛筆はどれですか。
調べて教えてください。
- * 5番目に長い色鉛筆はどれですか。
調べて教えてください。
- * ほとんど同じ長さでどちらが長いかわからない色鉛筆があれば教えてください。
- *好きな色を3本選んでください。
それはどうしてですか。教えてください。
- *嫌いな色を1本選んでください。
それはどうしてですか。教えてください。
- *左から長いもの順にケースに戻してください。



家庭にある色鉛筆（できれば長さに違いがあるよく使っている物）

雲雀丘学園小学校 (お話の記憶)

みずもちゃんは大好きなオレンジ色の服に赤いカバン、クマの帽子をかぶって出てきてくれました。お友達もみんなお揃いで遊んでいました。待ち合わせ場所のポストの前で待っているお友達を探して見ました。二人は公園の入り口で待ち合わせをしていました。お友達もみんなお揃いで遊んでいました。お友達もみんなお揃いで遊んでいました。お友達もみんなお揃いで遊んでいました。

サイコロ1 みずもちゃんに○をつけます。
サイコロ2 お友達を探して○をつけます。
サイコロ3 お話に出てきた順番に線を引きましょう。

雲雀丘学園小学校 (系列の図)

4 上はある決まりのことで遊んでいます。矢印の前後の欄には下の4つの中どれが入りますが、○をつけます。

雲雀丘学園小学校 (知識)

5 上の動物は下のどの生き物のものですか。線でもすびましょう。

雲雀丘学園小学校 (知識)

6

- *標がないものに○の標の枠をかきまします。
- *おなかで食べられるものに△の標をかきまします。
- *標がないものにも△の標をかきまします。
- *食べられないものの標(●)をかきまします。

*全ての中にある食べ物1個に○をつけます。

雲雀丘学園小学校 (知識)

7

裏と関係がある絵を4つ選ぶとどれですか。○をつけます。

表と関係がある絵を2つ選ぶとどれですか。○をつけます。

雲雀丘学園小学校 (知識)

7 1. 1枚ずつお話を聞いてカードに書き取ります。書いておきます。

雲雀丘学園小学校 (図形と位置)

8

お友達の家を思い出して書いてください。お友達の家を思い出して書いてください。

雲雀丘学園小学校 (図形と位置)

8

- *1. 裏の絵を思い出して書いてください。裏の絵を思い出して書いてください。
- *2. 裏の絵を思い出して書いてください。裏の絵を思い出して書いてください。
- *3. 裏の絵を思い出して書いてください。裏の絵を思い出して書いてください。
- *4. 裏の絵を思い出して書いてください。裏の絵を思い出して書いてください。
- *5. 裏の絵を思い出して書いてください。裏の絵を思い出して書いてください。
- *6. 裏の絵を思い出して書いてください。裏の絵を思い出して書いてください。
- *7. 裏の絵を思い出して書いてください。裏の絵を思い出して書いてください。
- *8. 裏の絵を思い出して書いてください。裏の絵を思い出して書いてください。

解答省略



雲雀丘学園小学校 (正解) レインボー先生

5

*種がないものに○を輪の中にかきましよう。
*この中で一番多いものに○の中にかきましよう。
*種がないものに○の中にかきましよう。
*食べてできるものは○の中にかきましよう。

*全ての中にある食べ物は○をつけてましよう。

雲雀丘学園小学校 (知識) レインボー先生

7

夏と関係がある絵を4つ選ぶとするとどれですか。○をつけてましよう。

秋と関係がある絵を2つ選ぶとするとどれですか。○をつけてましよう。

鍋料理・そうめんは
年中食べることはできます。
サングラスも冬に使うこともあります。
でも4つ選ぶとするとなれば、鍋料理は冬であり
そうめんは夏 サングラスも夏

潮干狩はゴールデンウィークごろ
ツバメは3～6月ごろに巣作り
(多くの小鳥の巣作りと雛の誕生は梅雨まで)
ゼンマイ・ワラビは春の山菜採りの代表
ヒガンバナは秋のお彼岸ごろに咲きます。

栗は正しく言えば、「いが」と「中の実」を併せて「きゅう果(稔果)」という果実を成しています。
また、イガの中にある堅い実は「堅果」という果実であり、種子が発達した果実です。
みんなが食べているところ(硬皮とシブ皮をのぞいたところ)は種といえます。



雲雀丘学園小学校 (正解) レインボー先生

9

*目薬・リス・相撲・タンス・炊飯器・キツキ*つくし・シカ・かぶ
*トンボ・ボーリング・グローブ・ブタ*すし・シマウマ・松・ツバメ
*線路・ろうそく・くるみ・水鉄砲

だいこん・かぶ・たまねぎは
土の中で育つ食べ物です。でも
全部が土の中にできるわけではありません。
だいこんは霜対策で土をかぶせることもあります。