



レインボー先生

暁星小学校2017過去問


この過去問は学力アップの為、問題量や内容を少しかえている類似問題です。
尚、情報不足から記載していない問題もあります。


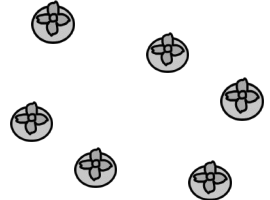



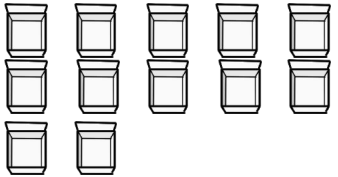


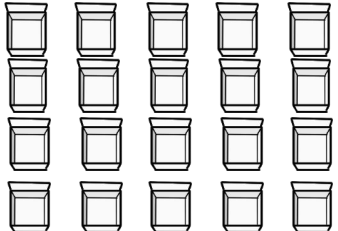



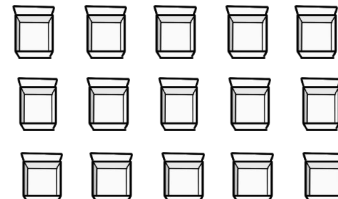











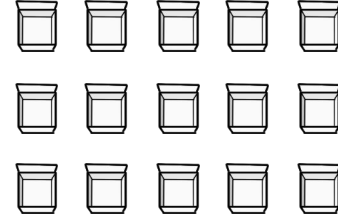


過去問に挑戦
絞った学習方法は的が小さくなり
当たりません。
いろんな学校の問題に挑戦すると
学力がアップ！

のぼる君は昨日からウキウキです。なぜなら、今日は水族館にお父さんとお母さんとおばあちゃんの3人で行くからです。あいにく、小雨が降っていますが、水族館は建物なので心配いりません。「お父さん、新しくやって来たジンベイザメってどんなサメなの？」と、のぼる君が尋ねると「あまりお父さんも知らないんだ。でも、とても大きくておとなしいサメだそうだよ」と答えました。水族館までは家から地下鉄で行けます。水族館に着くとたくさんの人がもう来ていました。最初はイルカのショーを見に行きました。イルカは輪をくぐったりジャンプしたりと人気者です。イルカは芸を終わるたびにイカやイワシを口に入れてもらって嬉しそうです。ペンギンは大きな水槽の中をまるでお空を飛んでいるかのようにスイスイととても速く泳いでびっくりしました。おばあちゃんは少し疲れたので色々なクラゲがいる水槽が並ぶクラゲ館に行き、イスに座って待つことにしました。のぼる君は水族館で1番大きな水槽のある部屋に行きました。あまりに大きな水槽で、のぼる君はびっくりしました。「あっジンベイザメが来た」と隣にいた小さな女の子が大きな声で言いました。その方向を見ると、大きな大きな口をして少しペタンコ頭のジンベイザメが近くに泳いで来ました「お母さん、ジンベイザメってお家にあるスリッパみたい」と言うと、お母さんは笑いながら「確かに似てるわね」と言いました。お昼になったので、おばあちゃんのところに行くとおばあちゃんはどうと眠っているようです。「お昼にしましょうか」とお母さんが言うと「暗いところでクラゲが光っていて、夢のような世界だったわ。つい、寝てしまったわ」とおばあちゃんは言いました。みんなでレストランに行きました。お父さんとお母さんはおうどん、のぼる君はハンバーガー、おばあちゃんはざるそばを注文しました。美味しく食べた後、カメやとても深いところに住んでいる変わった魚を見ました。「そろそろ帰るとするか」とお父さんが言いました。水族館の出口でお姉さんにウミガメの帽子をもらいました。のぼる君は少し恥ずかしいけれど、お家までかぶって帰りました。

- 1段目 今日の天気はどうか。○をつけましょう。
- 2段目 水族館には何で行きましたか。○をつけましょう。
- 3段目 イルカは芸をするたびに何をもらっていましたか。○をつけましょう。
- 4段目 ジンベイザメに○をつけましょう。
- 5段目 のぼる君はジンベイザメは何に似ていると思いましたか。
○をつけましょう。
- 6段目 おばあちゃんは何を食べましたか。○をつけましょう。
- 7段目 のぼる君は出口で何をもらいましたか。○をつけましょう。








				
				
				
				
				

rainbow

rainbow

カボチャは2個ずつカキは3個ずつ箱に入れます。箱はいくつ必要ですか。下から選んで○をつけましょう。





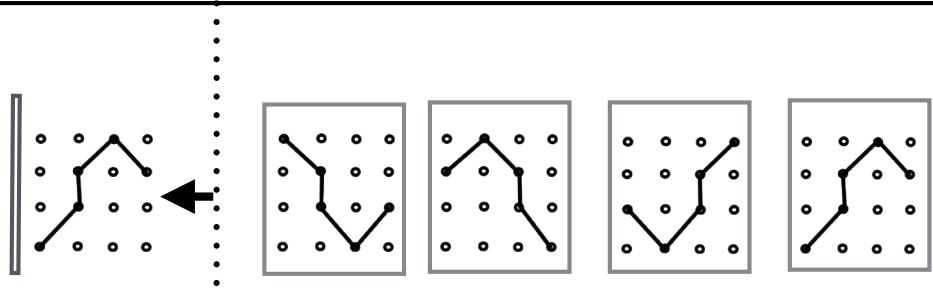
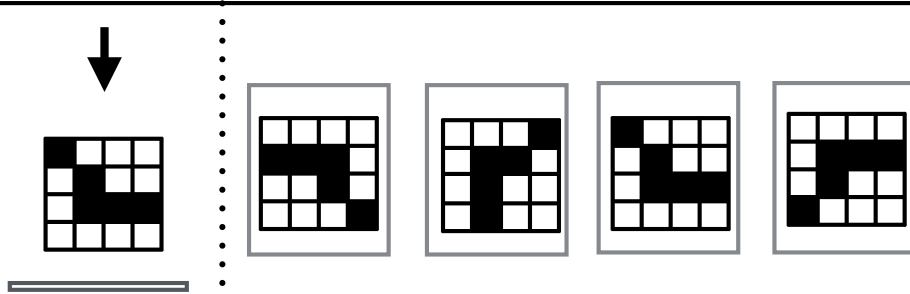
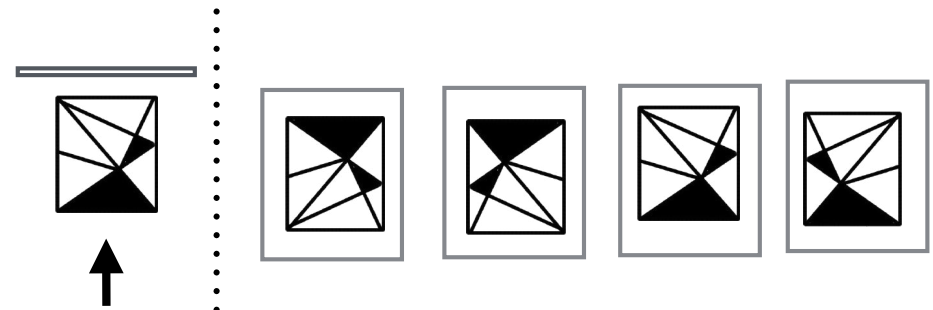
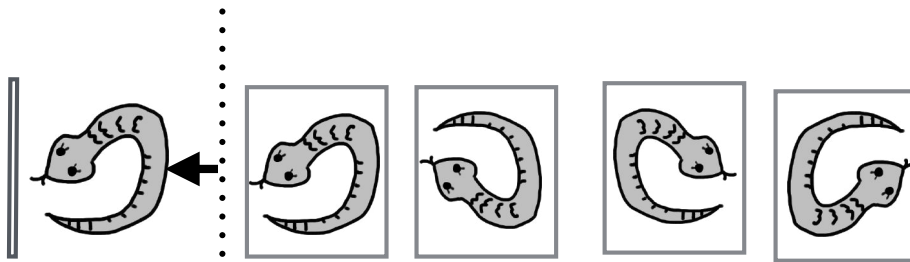
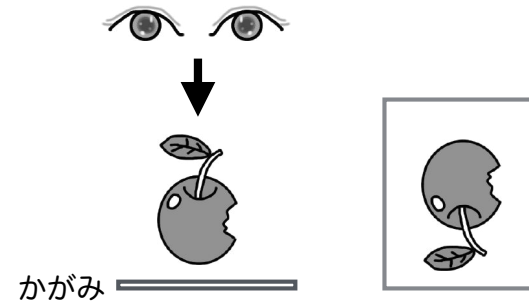
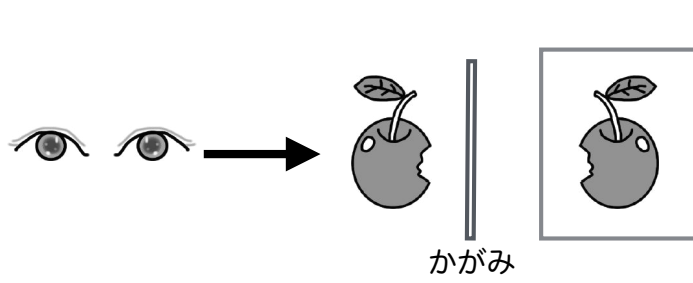
おにぎりとおひつきの数はいくつ違いますか。その数だけおにぎりの横の箱に○をかきましょう。

貝の数だけおひつきの横の箱に○をかきましょう。

ドーナツとおにぎりの数はいくつ違いますか。その数だけドーナツの横の箱に○をかきましょう。

ドーナツと貝を合わせた数はおにぎりの数よりいくつ多いですか。その数だけ貝の横の箱に○をかきましょう。

左のシーソーを見て、一番重いものに○を一番軽いものに△をつけましょう。印は右の絵につけましょう。



rainbow

rainbow

















































上のお手本の絵を見ましょう。左のリンゴを鏡に映します。鏡は白い棒が鏡です。映ったものを矢印の方から見ると右のように見えました。では、下の左の絵を鏡に映しました。矢印の方から鏡を見るとどのように映っていますか。○をつけましょう。



rainbow


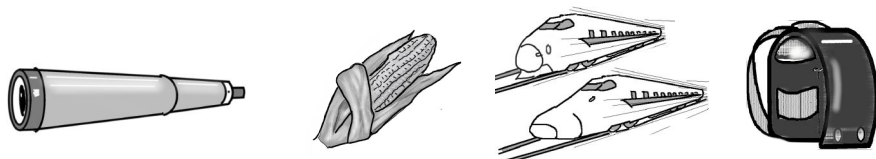




rainbow

覚えましょう。（20秒）（実際の問題はお寿司ではありません。ピザまたはケーキだったようです）

- サイコロ1 同じものが3つ乗っていたお寿司に○をつけましょう。
- サイコロ2 同じものが2つ乗っていたお寿司に○をつけましょう。
- サイコロ3 台（下駄）の右下にあったお寿司に○をつけましょう。

- サイコロ4 乗っていなかったお寿司に○をつけましょう。
- サイコロ5 お寿司の右に置いてあったものと、使っている箸置きに○をつけましょう。



左1段目 しりとりをするとき言ったら負けてしまうものに○をつけましょう。

左2段目 名前が4つの音できているものに○をつけましょう。

左3段目 名前の音の数が1番少ないものに○をつけましょう。






左4段目 台所と関係がないもの1つに○をつけましょう。

右1段目 正しい雑巾の折り方に○をつけましょう。

右2段目 「花咲か爺さん」と「桃太郎」のどちらにも出てくるものに○をつけましょう。

右3段目 1匹2匹と数えるものに○をつけましょう。

右4段目 ほうれん草1束(たば)はどれですか。○をつけましょう。

左1段目 イヌさんはネコさんより走るのが遅いです。タヌキさんはイヌさんより走るのが遅いです。1番遅い動物に○をつけましょう。


左2段目 ネコさんはタヌキさんより背が高いです。イヌさんネコさんより背が高いです。1番背が低い動物に○をつけましょう。

左3段目 お父さんとお母さんとよしおくんは釣りに行きました。お父さんはアジを2匹、イワシを2匹。お母さんはイワシを4匹。よしおくんはイワシを1匹アジを4匹釣りました。1番たくさん釣ったのは誰ですか。○をつけましょう。

右1段目 メロンはスイカより軽く、カボチャより重いです。1番軽いものに○をつけましょう。

右2段目 1番真ん中のメロンに○右から数えて3番目のメロンに△をつけましょう。

右3段目 ○△□を2回続けてかきましょう。



* 緑色のクーピーペンシルで○の中に少しずつ小さな○をかきましょう。
(グループによって色が違う)

* 1 番外側の線と1つ内側の線を塗りましょう。

* 塗り終わった後、1 番外側の線をハサミで切りましょう。




○を内側にかいていく。
子どもによって○の数が
違いが出ると想像される

1 番外側とその次の(1つ内
側) 線の間を塗る



1 番外側の線をハサミで切る

器用さ丁寧さなど
出来上がりに差が出る
なかなか良い問題ですね



暁星小学校2017過去問 (お絵の描画)

1問目 動物の絵をそれぞれ1つずつ選び、○をつけてください。

2問目 果物の絵をそれぞれ1つずつ選び、○をつけてください。

3問目 いろいろな乗り物の絵をそれぞれ1つずつ選び、○をつけてください。

4問目 シジミの絵をそれぞれ1つずつ選び、○をつけてください。

5問目 動物の絵をそれぞれ1つずつ選び、○をつけてください。

6問目 いろいろな乗り物の絵をそれぞれ1つずつ選び、○をつけてください。

7問目 動物の絵をそれぞれ1つずつ選び、○をつけてください。

暁星小学校2017過去問 (数数)

お絵の描画の答えがそれぞれ3問ずつ書かれた紙を、お絵の描画の紙の下に貼ってください。

暁星小学校2017過去問 (数数・数数数数)

お絵の描画の答えがそれぞれ3問ずつ書かれた紙を、お絵の描画の紙の下に貼ってください。

暁星小学校2017過去問 (数数比べ)

お絵の描画の答えがそれぞれ3問ずつ書かれた紙を、お絵の描画の紙の下に貼ってください。

暁星小学校2017過去問 (数)

お絵の描画の答えがそれぞれ3問ずつ書かれた紙を、お絵の描画の紙の下に貼ってください。

暁星小学校2017過去問 (数数)

お絵の描画の答えがそれぞれ3問ずつ書かれた紙を、お絵の描画の紙の下に貼ってください。

暁星小学校2017過去問 (数数)

お絵の描画の答えがそれぞれ3問ずつ書かれた紙を、お絵の描画の紙の下に貼ってください。

クジラ 1頭 鶏 1羽 ぞう 1頭
 りす 1匹

 うさぎは? 1羽 と1匹
 昔 獣を食べたらいけない時代にうさぎ
 をこっそり食べていました。鳥肉と思わ
 せるように。
 犬は?
 1匹 1頭。どちらでもいいの
 ですが抱っこできそうな犬は匹
 がかい犬は頭かな。

暁星小学校2017過去問 (数数比べ)

お絵の描画の答えがそれぞれ3問ずつ書かれた紙を、お絵の描画の紙の下に貼ってください。

解答省略