



40秒
各1点
7点



1分
各1点
3点

- 1 左の観覧車が右のように回転しました。動物達はどこに乗っていましたか。その印を書きなさい。
- 2 白いトンネルを通るとリンゴ1個無くなります。黒いトンネルを通るとリンゴ1個増えます。では犬君が持っているリンゴ全部がなくなるのはどのトンネルを通ったときですか。そのトンネルの箱に○を書きなさい。



2つのサイコロを使ってスゴロクゲームをします。

ネコさんはネコさんの顔が書いてある所から
★印の所まで進みました。
サイコロの目は4でした。
もうひとつのサイコロの目は幾つでしょうか？
その数だけ○を鉛筆で書きなさい。



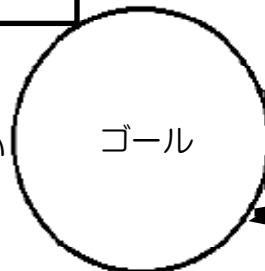
3点

カメさんは絵が書いてある所にいます。
次にサイコロをふったらちょうどゴールしました。
いくつといくつのサイコロの目がでたでしょうか。
その2つのサイコロの目の数を上と下の箱の中に○を書きなさい。



4点




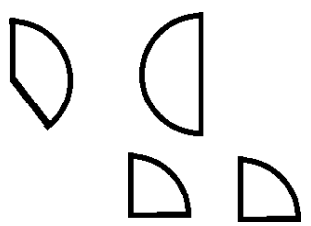

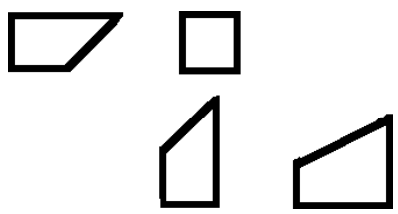







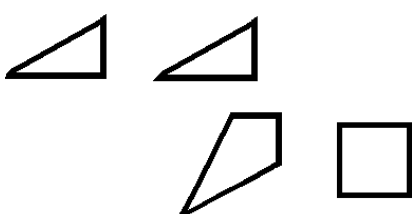

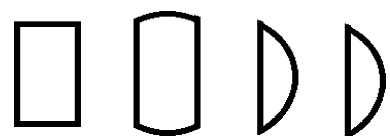

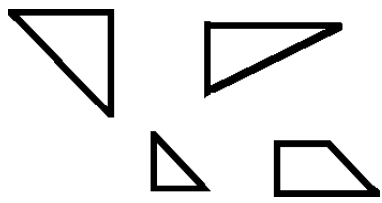





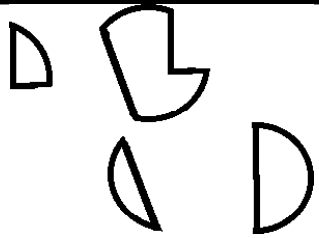

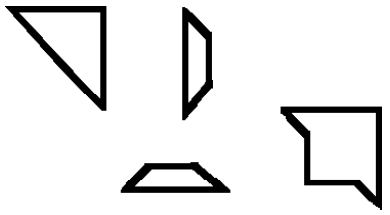

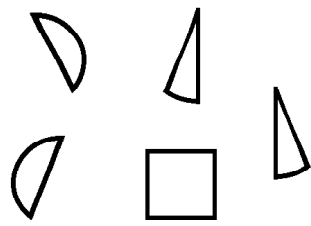
* 合わせた数が8になれば正解



3点



- * 土の中に育ち食べる所が根っ子のものはどれですか？1つ見つけて×を付けなさい。
- * 包丁で細かく切っているうちに、涙が出てくることのあるものはどれですか？△を付けなさい。
- * 種が入っているものはどれですか？○を付けなさい。

2個の輪ゴムをつなぐ



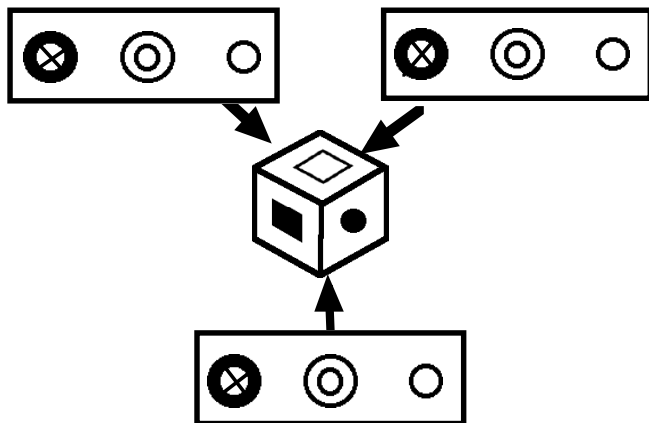
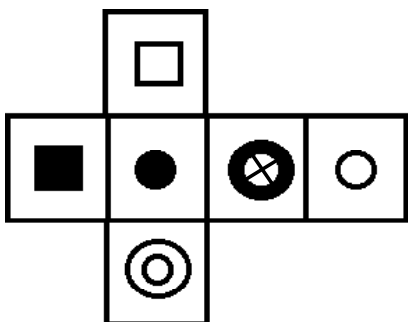
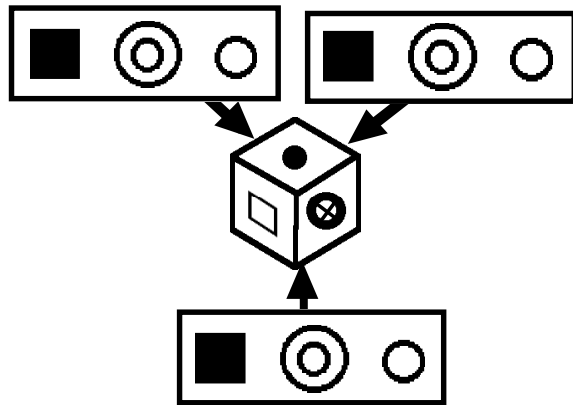
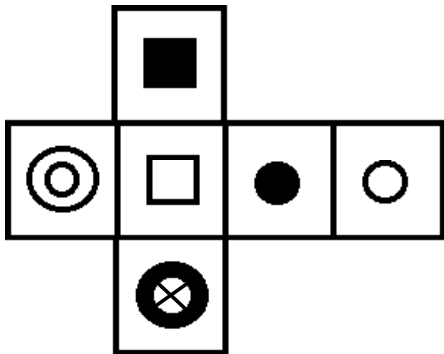
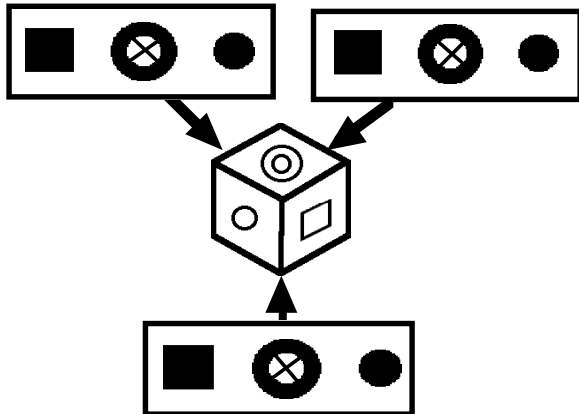
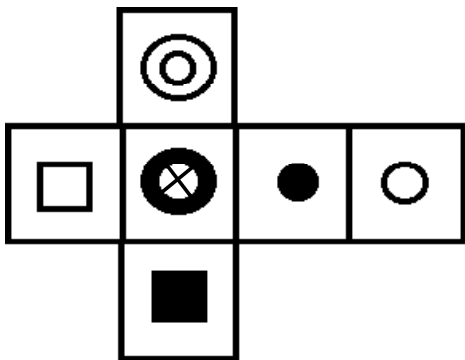
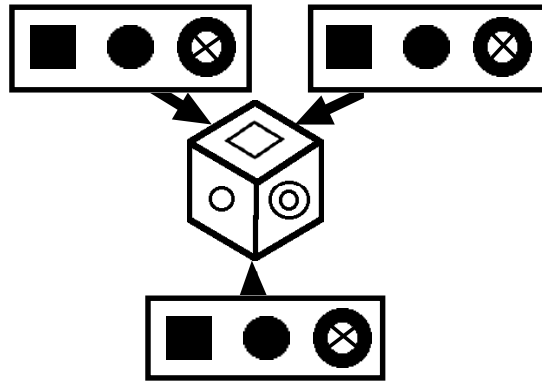
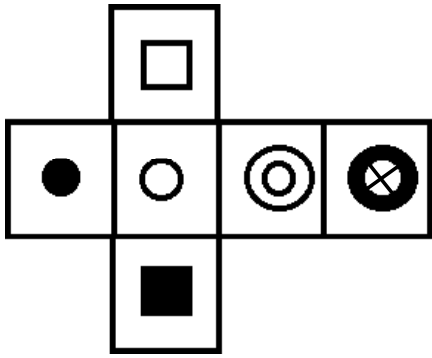
早く出来きる

出来ない
手伝っても出来ない


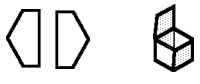





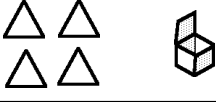





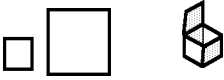




















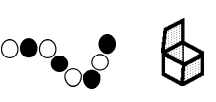
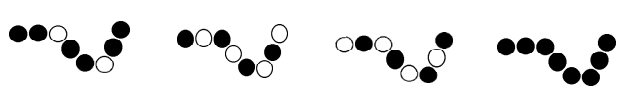









*左の形を作るのに使わない形を1つ見つけて○を付けなさい。2分

*2個の輪ゴムをつなぐ。30秒

2分




左ぼ形はサイコロの箱を開いたものです。それでは→の所は
どのような印がくるでしょうか。3つの中から選んで○を付けなさい。

左はしのを魔法の箱に入れると右のようになり変りました。ではその魔法で真ん中の物（説明あり）をその箱に入れるとどのようになりますか。○を付けなさい。2分30秒

運動「縄跳び」



合格！！

同じ場所でピョンピョンと姿勢もよく20回前後跳ぶことができる。



もう少し！

もう少し綺麗に（姿勢よく）跳べるようにしましょう



どうにか5回～10回跳べる
まだまだ がんばれ！
跳べたとは言えません
早急に練習！



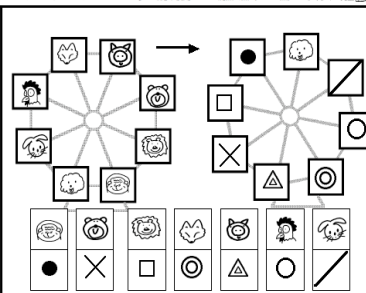
このままではいけません。
入試まで
早急に練習しましょう。

さあ入試目前！ 縄跳び・ボールつき・スキップ・ケンパ・かけっこ・平均台・ボール投げなどなどなど学力はペーパーだけではありません。

年長チェックテスト 解答P19~P24

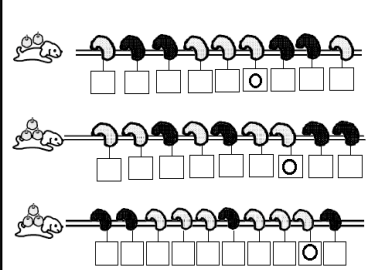
年長チェックテスト 19 すべて鉛筆使用 満点10点(点) レインボー先生

40秒 各1点 7点



1 左の動物車が右のように回転しました。動物車はどどこにまわっていましたか、その印を書きなさい。

2 白いトンネルを通るとリンゴが落ちてきます。黒いトンネルを通るとリンゴが落ちてきます。では大粒のリンゴが落ちてくるのはどのトンネルを通ったときですか、そのトンネルの輪に○を書きなさい。



年長チェックテスト 20 すべて鉛筆使用 満点10点(点) レインボー先生

スタート

2つのサイコロを使ってスコロクゲームをします。

ゴール

ネコさんはスコロクゲームの表が書いてある所から
 *の印の所まで歩きました。
 サイコロの目は4でした。
 もうひとつのサイコロの目の目は何でしたか？
 その数字の○を鉛筆で書きなさい。

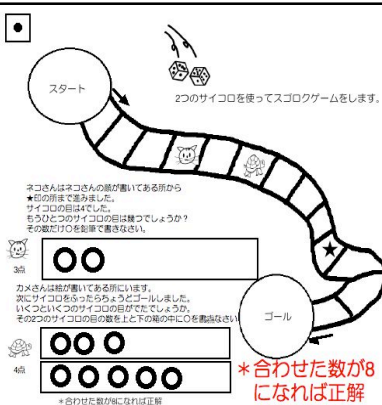
3点

カメさんは橋が書いてある所にいます。
 家にサイコロを投じたところまでゴールしました。
 いくつといくつのサイコロの目がでたでしょうか？
 その数字の○を鉛筆で書きなさい。


4点

*合わせて数が8になれば正解

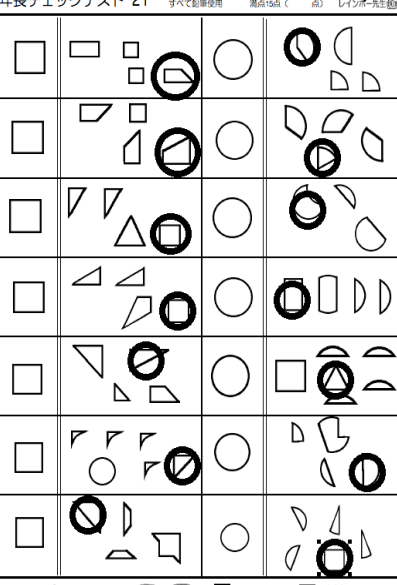
3点



*その中に持ち食べる野菜が写っているものはどれですか？1つつけて×を付けなさい。
 *目当てがくちくちしているうちに、家まで行くことが出来るものはどれですか？△を付けなさい。
 *色が入っているものはどれですか？○を付けなさい。



年長チェックテスト 21 すべて鉛筆使用 満点10点(点) レインボー先生

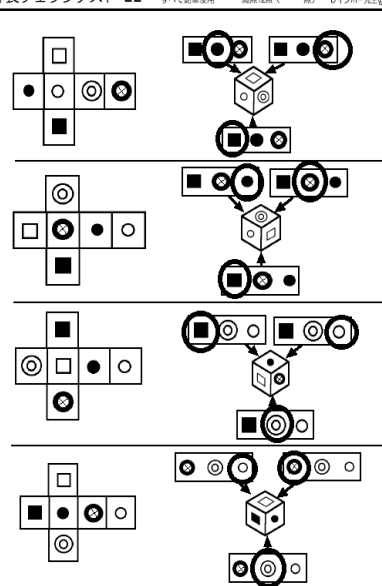


2個の輪ゴムをつなぐ

*左の形を作るのに使わないものを1つつけて○を付けなさい。2点


*2個の輪ゴムをつなぐ。3点

年長チェックテスト 22 すべて鉛筆使用 満点12点(点) レインボー先生



お宝箱はサイコロの輪を回したものです。それでは一つの形はどのようになるでしょうか。3つの中から選んで○を付けなさい。

年長チェックテスト 23 すべて鉛筆使用 満点15点(点) レインボー先生



お宝箱の物を魔法の輪に入れると右のように変わりました。ではその魔法で買入中の物(指輪あり)をその輪に入れることのようになりますか。○を付けなさい。2点 3点

年長チェックテスト 24 レインボー先生

運動「縄跳び」

合格！！

同じ場所でもよんぴんと姿勢もよく20回前後跳ぶことができる。

もう少し！
 もう少し練習に(姿勢よく)跳べるようにしよう

どうにか5回~10回跳べるはまだ「がんばれ！」
 大人とは言えませんが早急に練習

このままではいけません。
 入試まで早急に練習しよう。

さあ入試目前！ 縄跳び・ボールつき・スキップ・ケンパ・かけっこ・平地台・ボール投げなどなど学力はペーパーだけではありません。