

4～6歳対象

# 分野別毎日プリント

## No6-4 週目

メモ

-----

-----

-----

-----

-----

-----

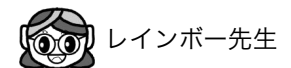
-----

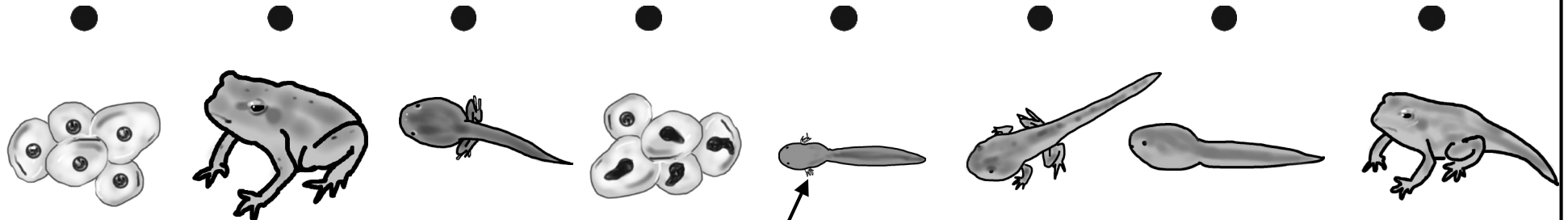
-----

-----



1週間かけて毎日コツコツ 反復コツコツ コツコツやればダイジョウブ





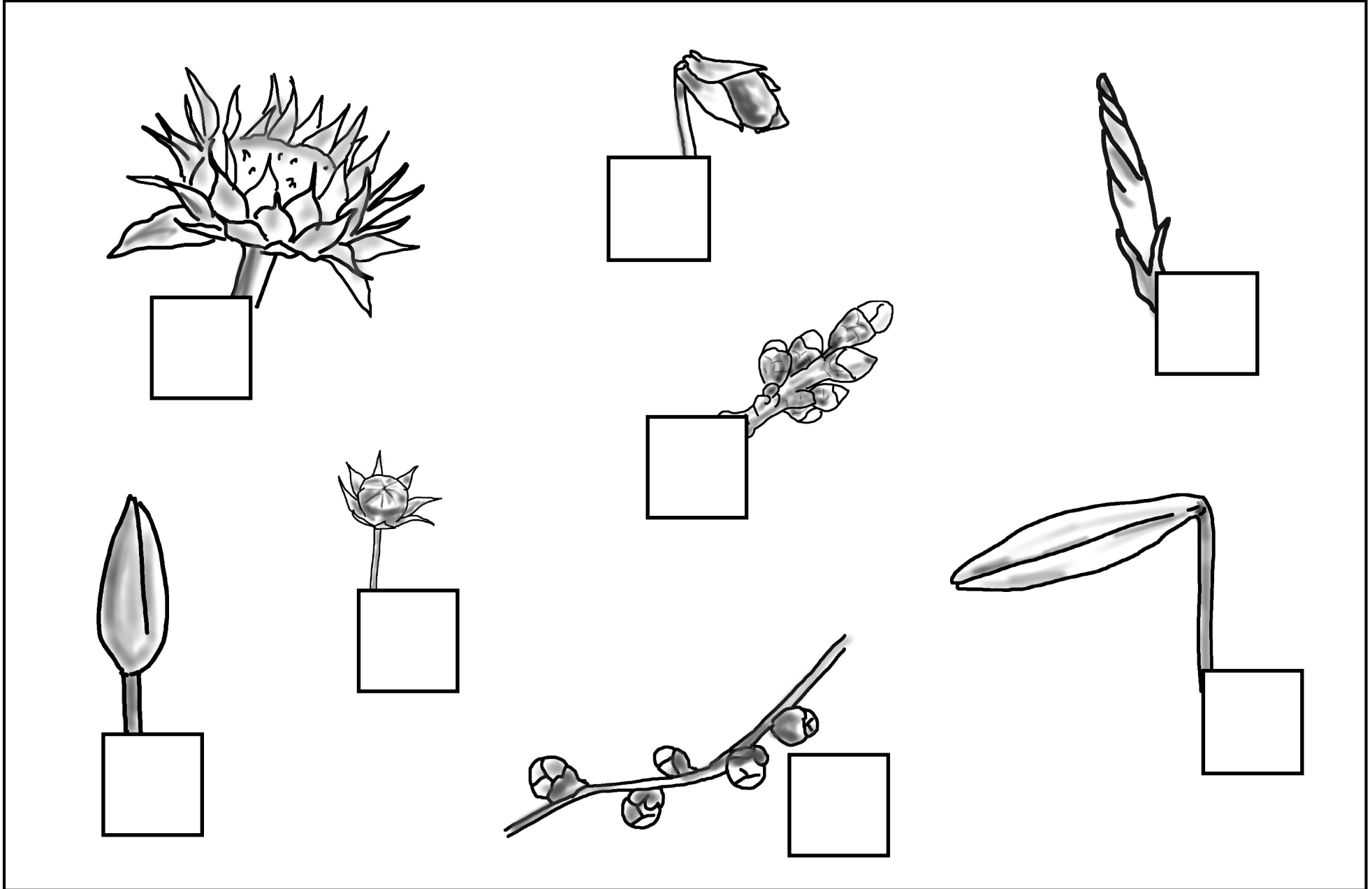
これはあしではないよ～  
ずかんで しらべてね (えら)



カエルの成長です。上の四角の中の数と順番に線で結びましょう



知っているかなウーパールーパー (メキシコサラマンダー)  
の「えら」のように最初はオタマジャクシも「えら」が見えているんだよ



アサガオの花のつぼみに赤色の○を書きなさい。

チューリップの花のつぼみに赤色の○を書きなさい。

スミレの花のつぼみに青色の△を書きなさい。

ウメの花のつぼみに赤色の×を書きなさい。


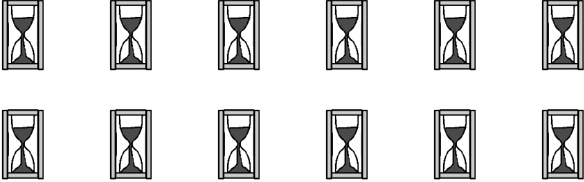

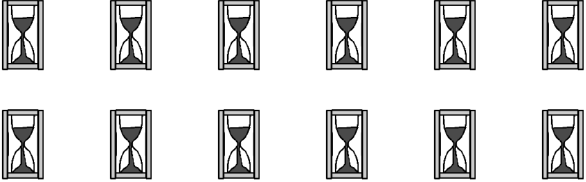

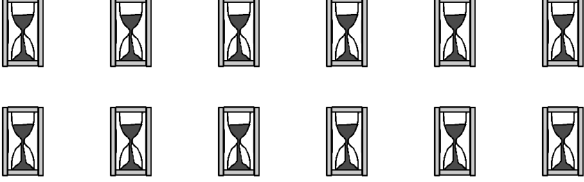



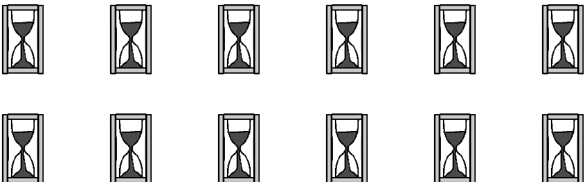



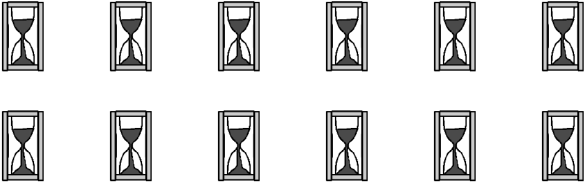

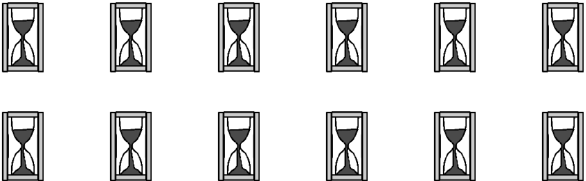
ユリの花のつぼみに青色の○を書きなさい。

ヒマワリの花のつぼみに青色の○を書きなさい。

コスモスの花のつぼみに赤色で△を書きなさい。

サクラの花のつぼみに青色の×を書きなさい。

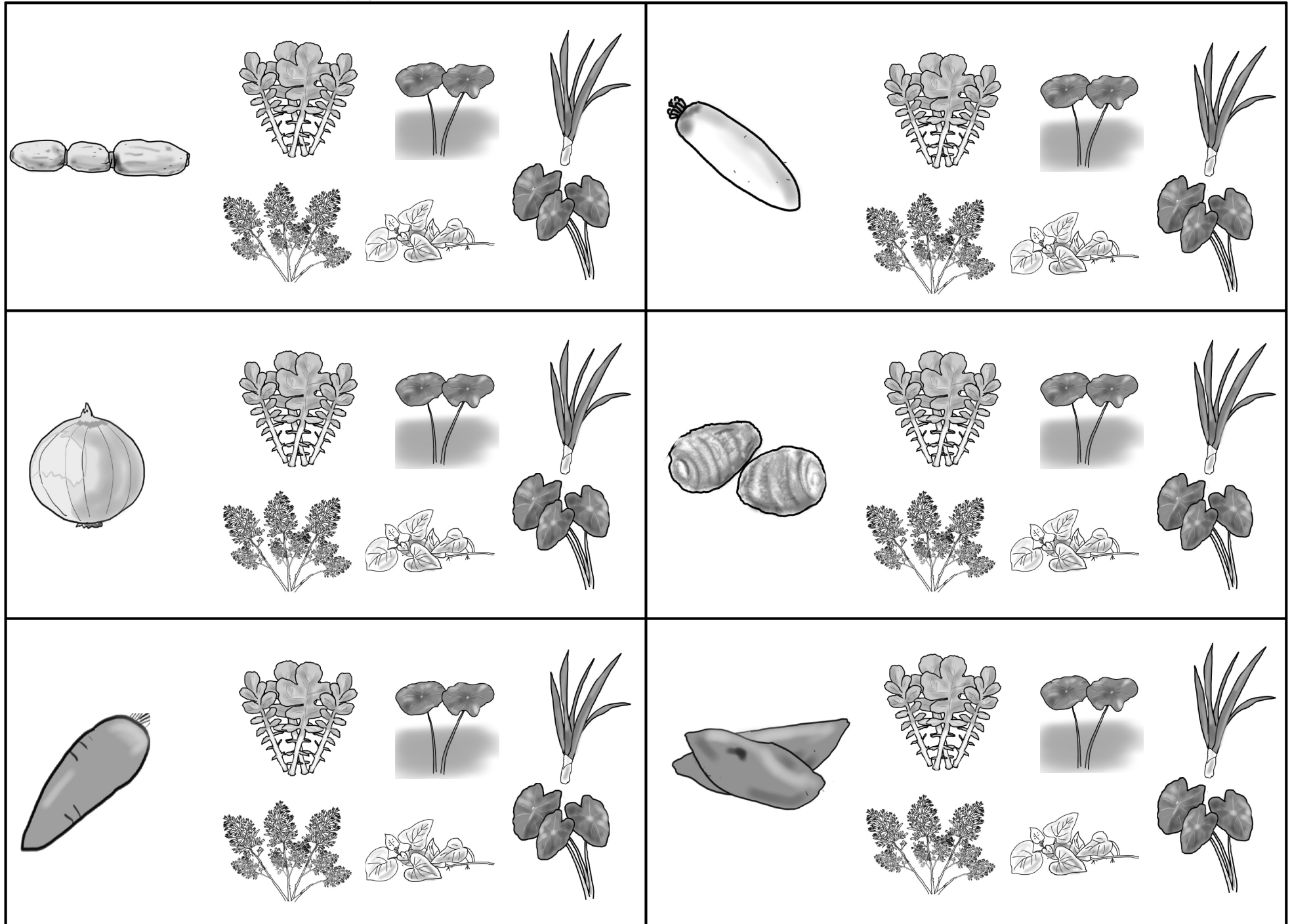


左の時計の針は何時をさしていますか。その数だけ右の砂時計に○をつけましょう。







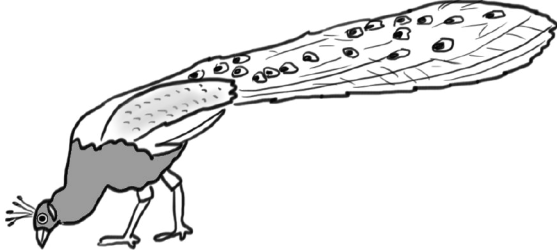









簡単に出来る子とまったく出来ない子にわかる過去に出題された問題です。





左端の食べ物と関係がある絵に○をつけましょう。



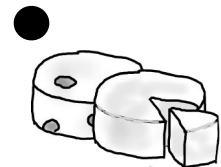
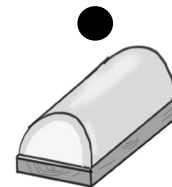
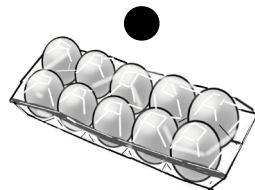
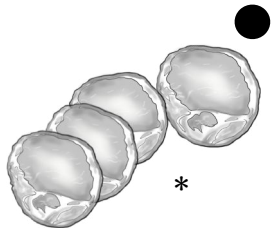




			
			
			
			

コオロギ

オシドリ

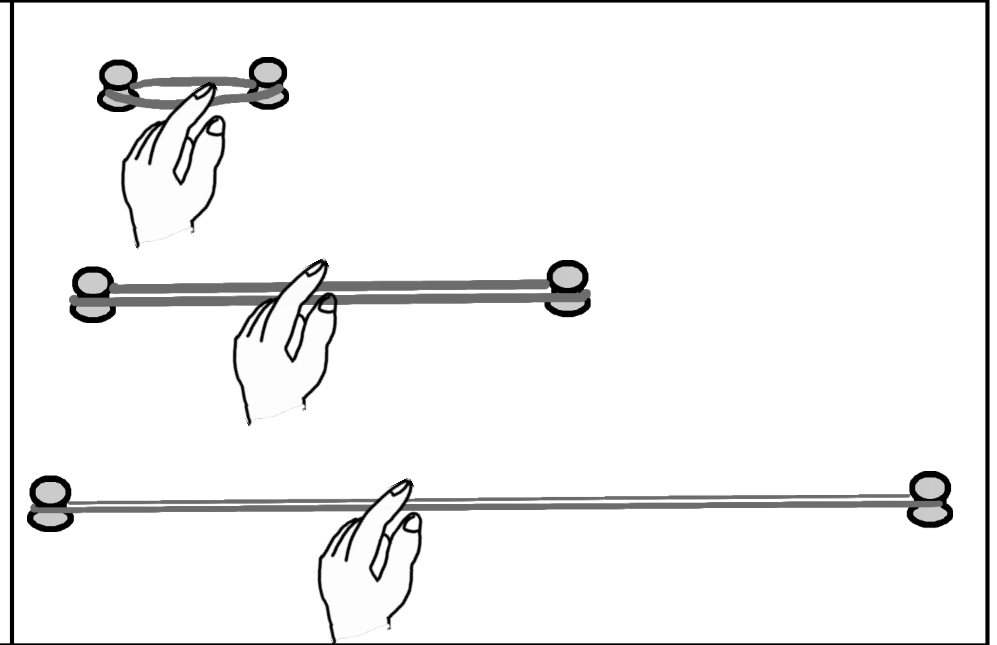

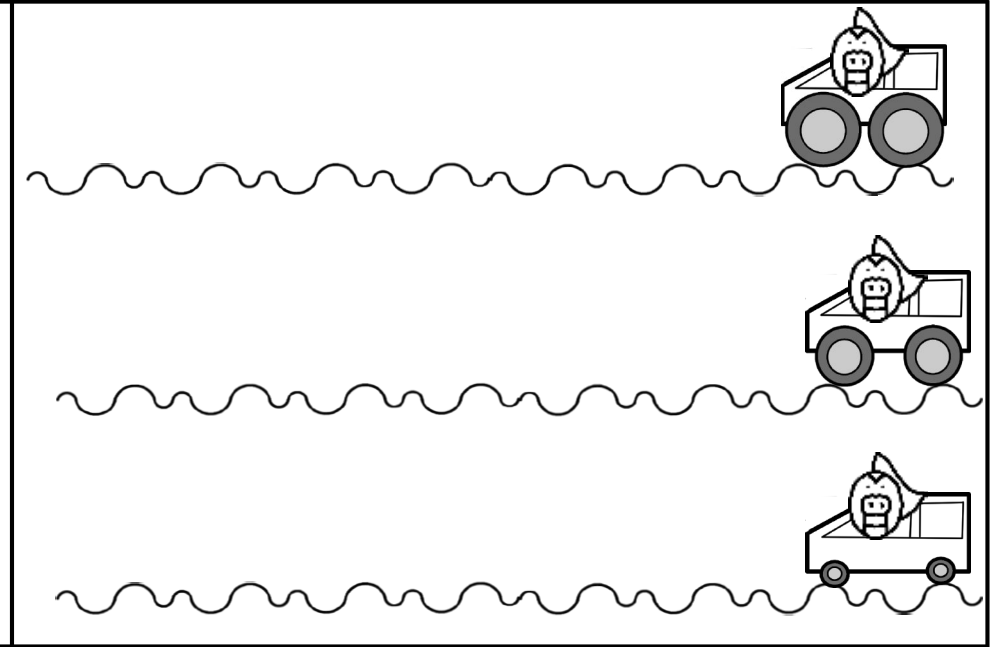
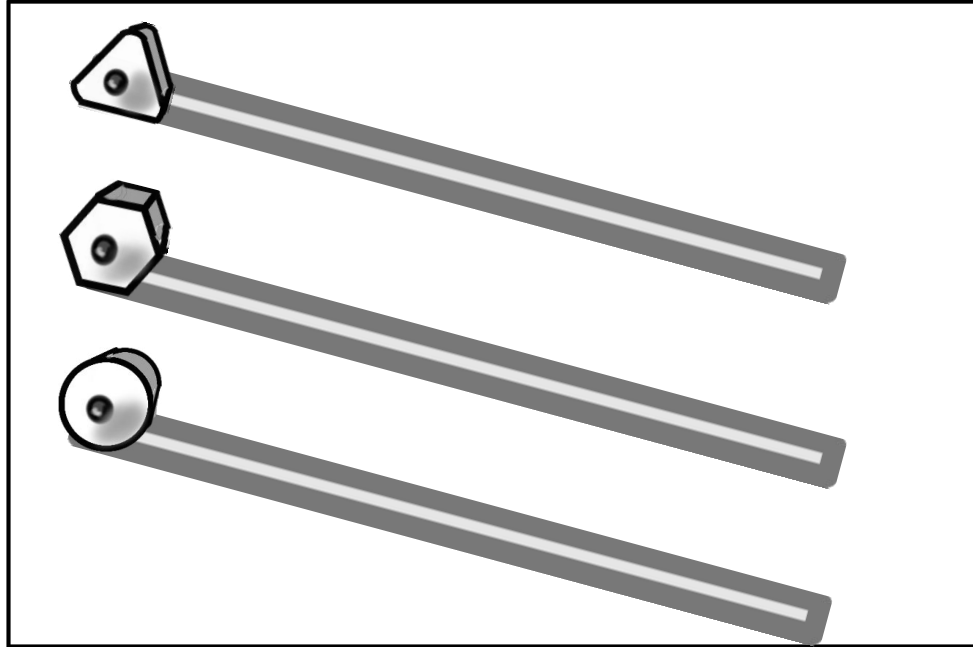
卵や赤ちゃんを産むほうの絵に○をつけましょう。

コオロギの問題わかるかな～実際に出題されました。



上の生き物と関係があるものを下から選んで線でむすびましょう。

\*ハム たらこ



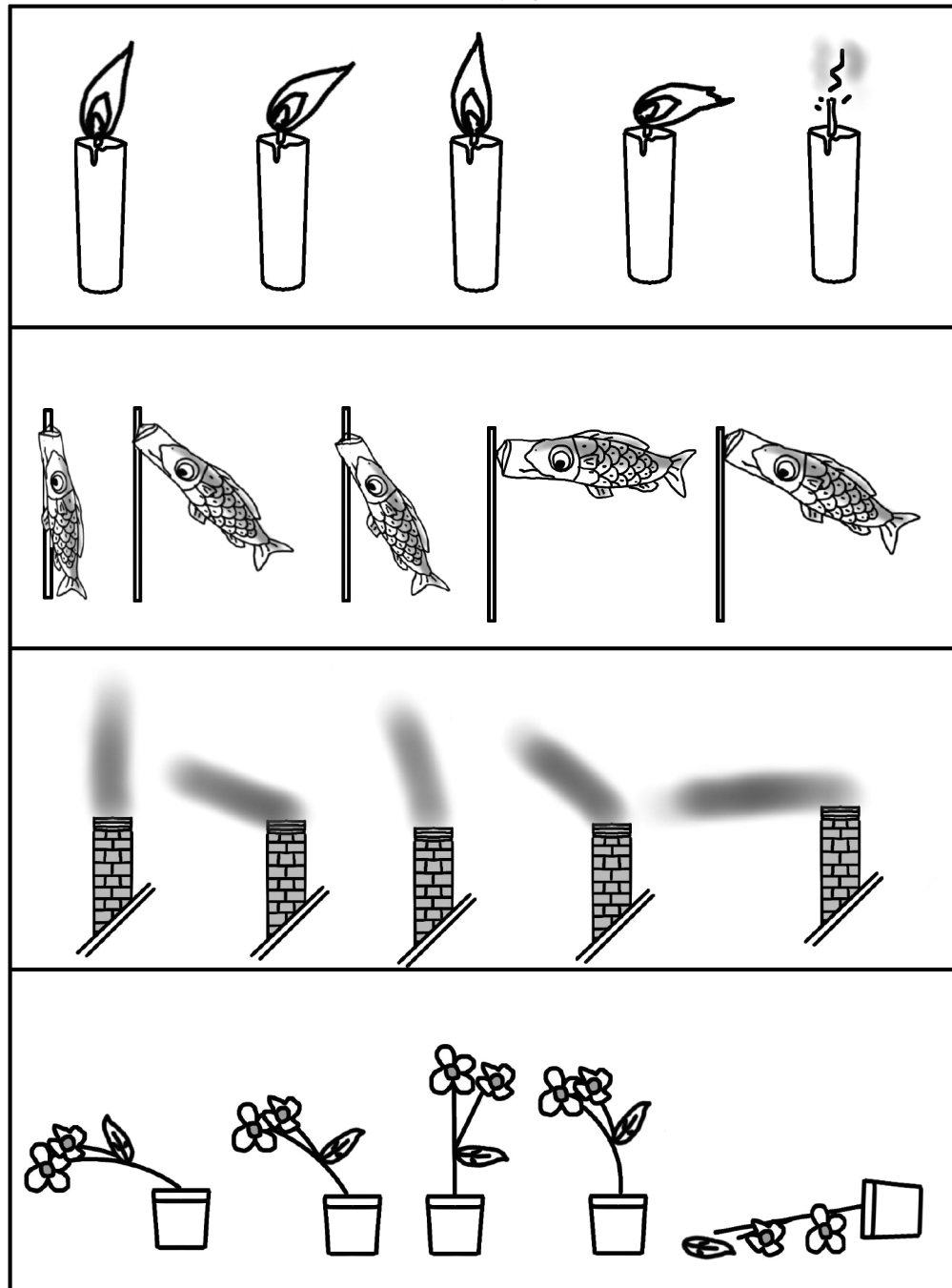
左上 一番転がりにくい鉛筆に○を一番転がる鉛筆に△をつけましょう。

左下 一番倒れそうなコップに○をつけましょう。


右上 3台の自動車の中で、でこぼこ道をじょうずに走ることができる自動車1台に○をつけましょう。走ることが出来ないと思われる自動車1台に△をつけましょう。

右下 ゆるく止めた輪ゴム・引っ張って止めた輪ゴム・切れそうぐらい引っ張って止めた輪ゴムを指で弾きました。一番高い音で鳴る輪ゴムに○をつけましょう。

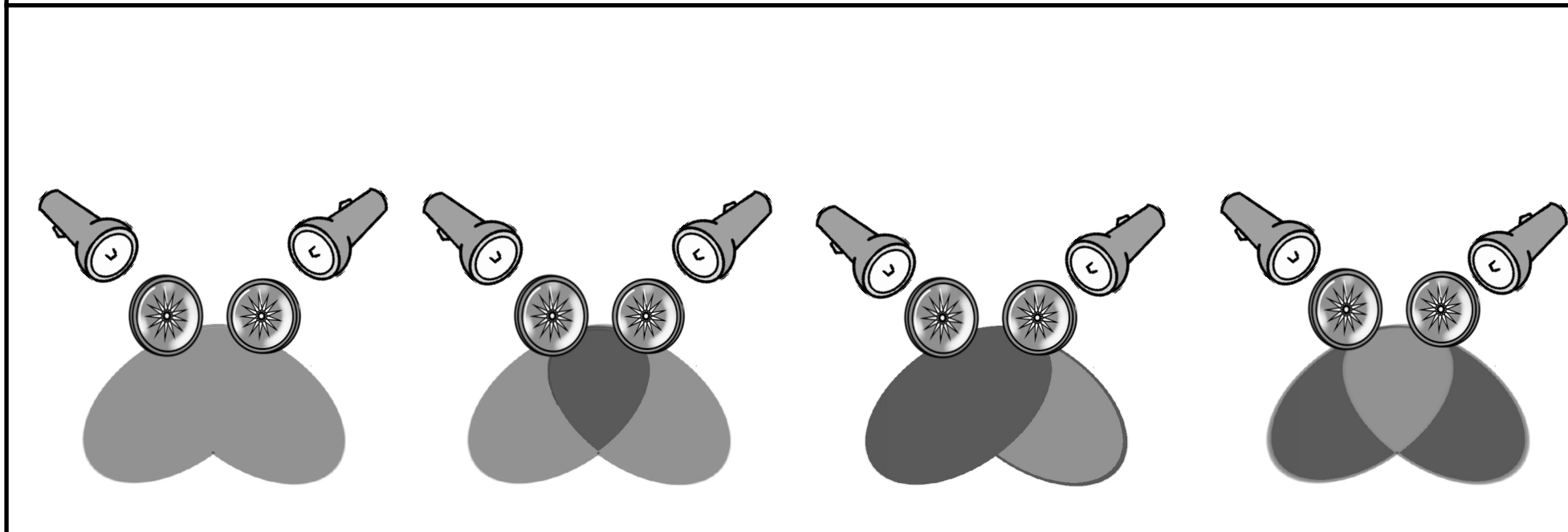
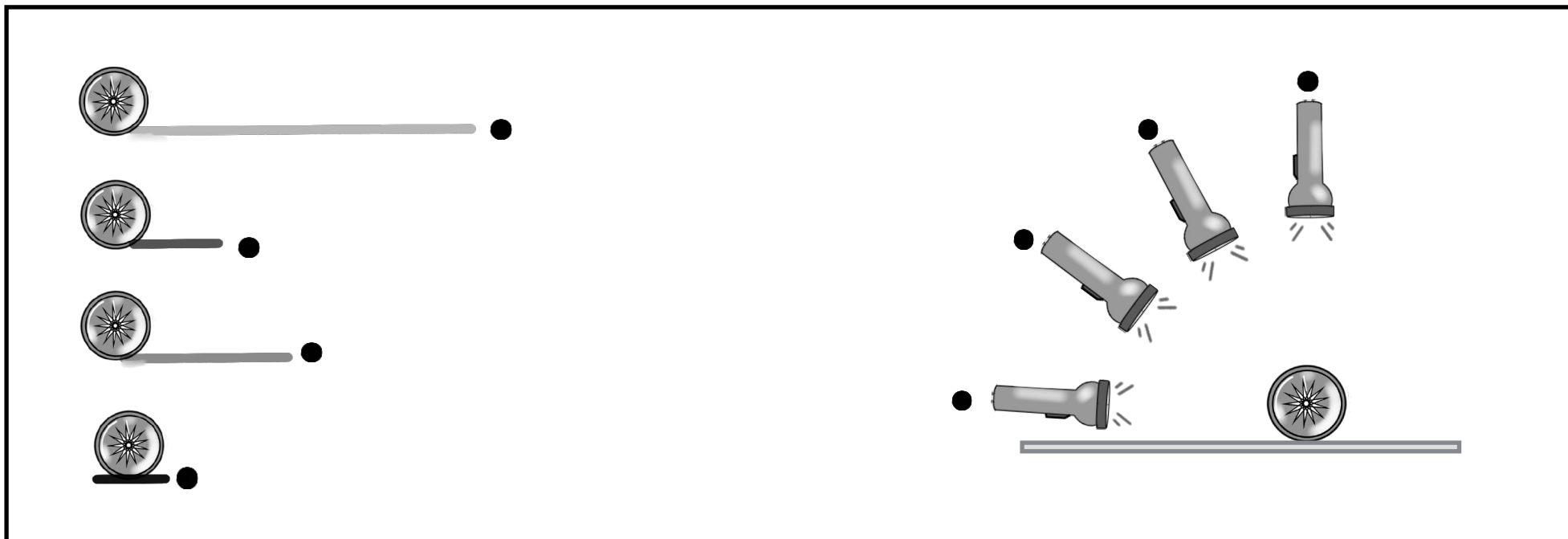




左の問題 1番風が強い絵に○を3番目に強い風に△をつけましょう。



右の問題 ローソクと同じ風向きの絵に○をつけましょう。



上の問題 コインをテーブルに立てて懐中電灯で照らして影を作りました。どの懐中電灯の位置がどの影でしょうか。線でむすびましょう。

下の問題 並べて立てた2枚のコインを絵のように斜め後ろから2つの懐中電灯で照らして影を作りました。正しいものに○をつけましょう。

分野別毎日プリント (知識・常識2) No6-4 解答

分野別毎日プリント (知識・常識2) No6-4 page 1

これはあてはまらぬ〜  
ずかんでも しんぐでも (んじ)

カエルの成体です。上の色あいの卵と順番に結びましょう

卵っているかな? パーローバ (オアシコサランダー)  
の「赤色」の卵はオアシコサランダーの「赤色」の卵に結びます。

分野別毎日プリント (知識・常識2) No6-4 page 2

アサギの葉のつぼみに黄色のものをまき、  
ツメの葉のつぼみに黄色のものをまき、  
コスモスの葉のつぼみに黄色のものをまき、

チュウリップの葉のつぼみに黄色のものをまき、  
ユリの花のつぼみに黄色のものをまき、  
リリクの花のつぼみに黄色のものをまき、

スミレの花のつぼみに黄色のものをまき、  
ヒマワリの花のつぼみに黄色のものをまき、

分野別毎日プリント (知識・常識2) No6-4 page 3

左の時計は時刻をさして、その時刻の時刻表に○をつけましょう。

右の時計は時刻をさして、その時刻の時刻表に○をつけましょう。

分野別毎日プリント (知識・常識2) No6-4 page 4

左の動物は食べ物の種類をさして、その動物の食べ物の種類に○をつけましょう。

分野別毎日プリント (知識・常識2) No6-4 page 5

鶏や牛や人を産むほらうの動物に○をつけましょう。

オンドリ

分野別毎日プリント (知識・常識2) No6-4 page 6

上の動物は食べ物の種類をさして、その動物の食べ物の種類に○をつけましょう。

＊ハム、たまご

分野別毎日プリント (知識・常識2) No6-4 page 7

左: 一音がたたく音が聞こえるものに○をつけましょう。  
右: 3つの音の中で、でこぼことした音が聞こえるものに○をつけましょう。

左下: 一音がたたく音が聞こえるものに○をつけましょう。

右下: 一音がたたく音が聞こえるものに○をつけましょう。

分野別毎日プリント (知識・常識2) No6-4 page 8

左の音: 一音がたたく音が聞こえるものに○をつけましょう。

右の音: ロックを叩く音が聞こえるものに○をつけましょう。

分野別毎日プリント (知識・常識2) No6-4 page 9

上の音: ロックを叩く音が聞こえるものに○をつけましょう。

下の音: ロックを叩く音が聞こえるものに○をつけましょう。

色指定がない物は見やすいように赤色を使っております

