

4～6歳対象

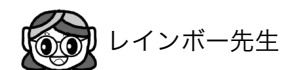
分野別毎日プリント

No 5 - 4 週目













メモ



1週間かけて毎日コツコツ 反復コツコツ コツコツやればダイジョウブ





上の絵はどのお友達が見たものでしょうか。そのお友達のお顔に○をつけましょう。



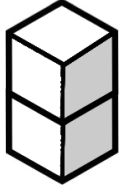
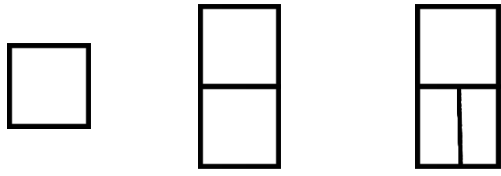
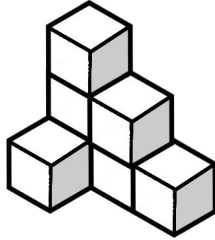
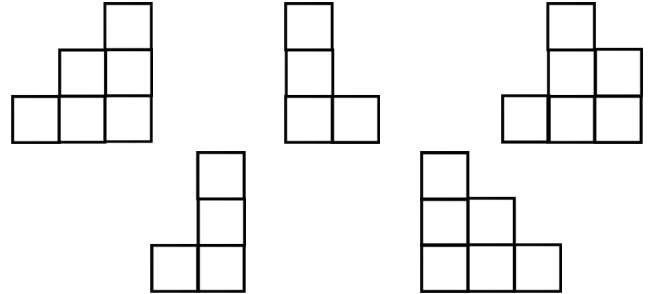
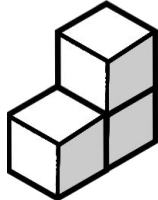
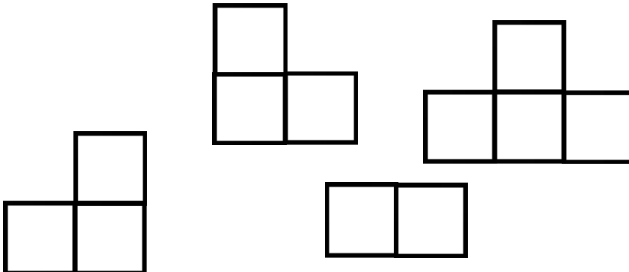
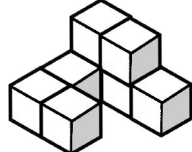
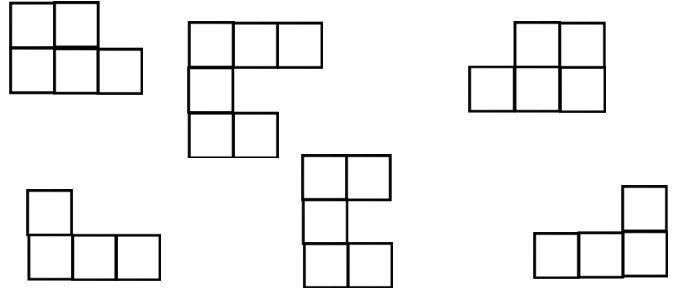

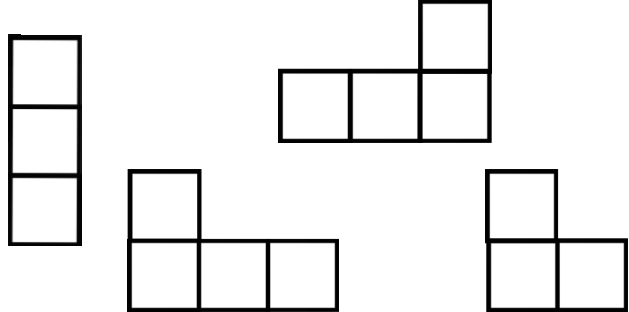
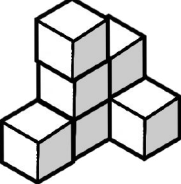
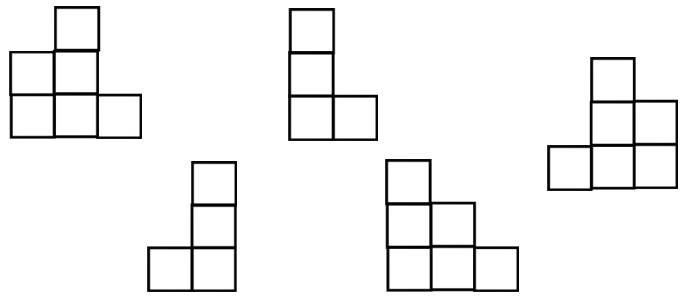
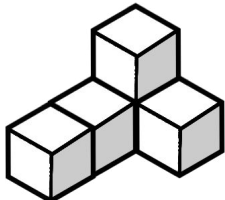
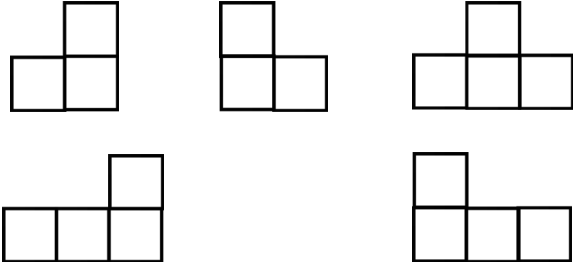
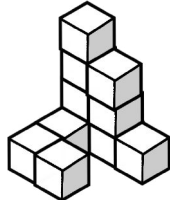
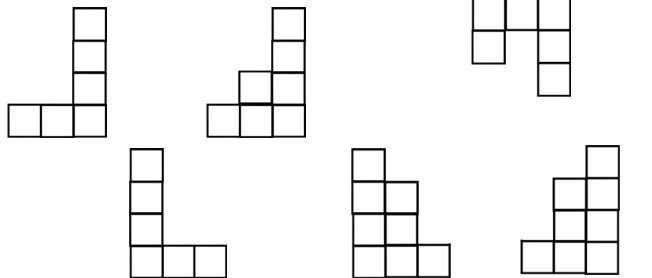
上の絵はどのお友達が見たものでしょうか。そのお友達のお顔に○をつけましょう。



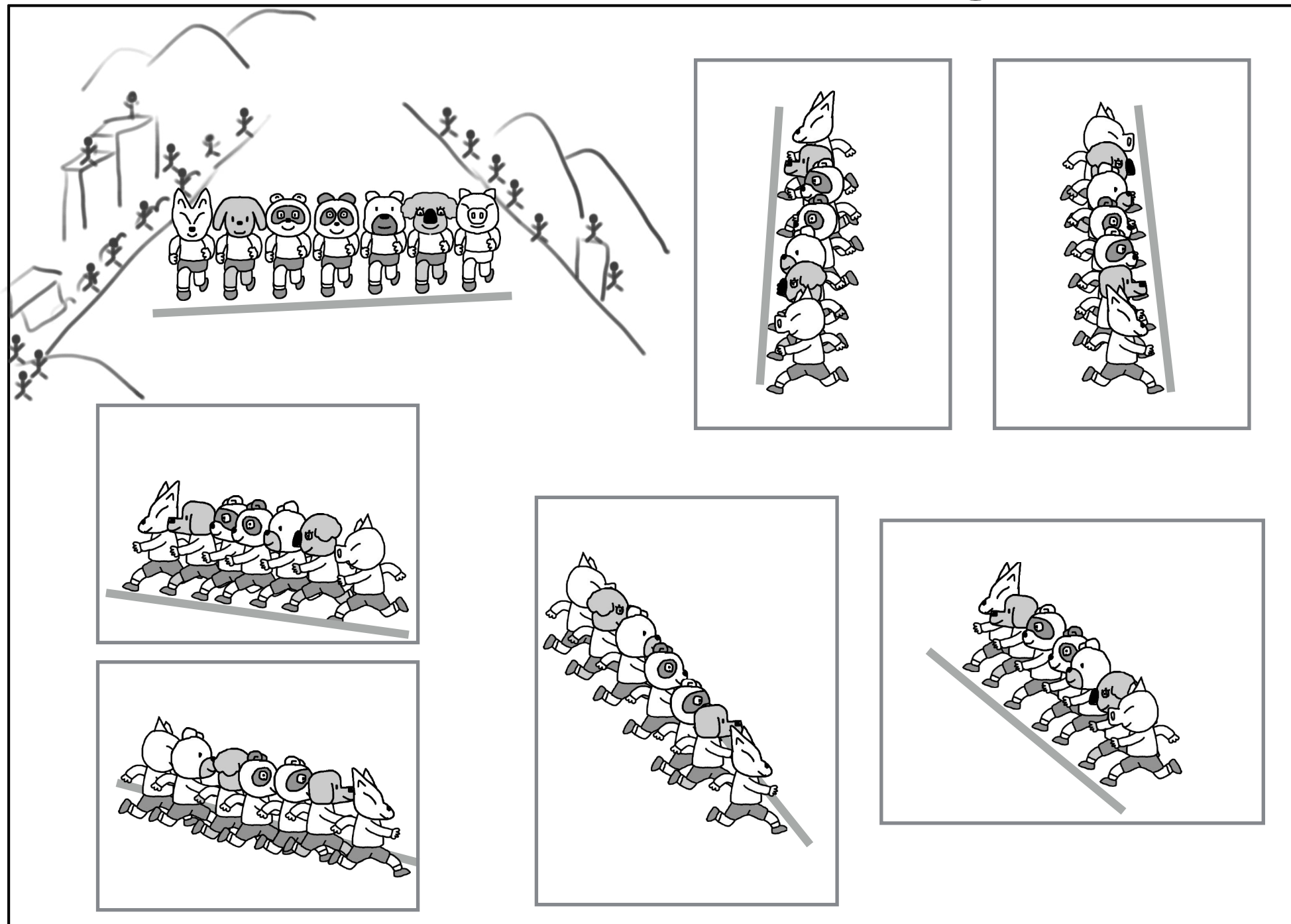
The central illustration shows four animals (a cat, a dog, a wolf, and a turtle) sitting around a round table. On the table is a 3D structure made of blocks. Four arrows point outwards from the table to four rectangular boxes. Each box contains a 2D grid of blocks representing a different perspective of the 3D structure. The top box shows the structure from the top-down perspective. The bottom box shows the structure from the bottom-up perspective. The left box shows the structure from the left side. The right box shows the structure from the right side.

上の絵はどのお友達が見たものでしょうか。そのお友達のお顔に○をつけましょう。

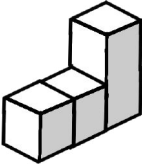
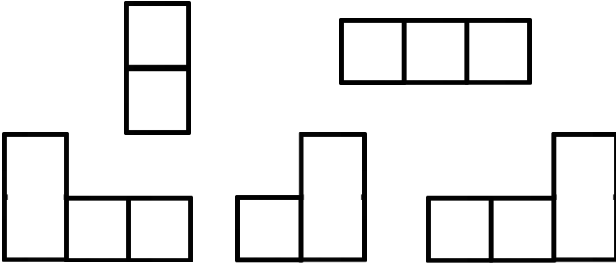
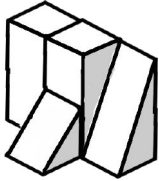
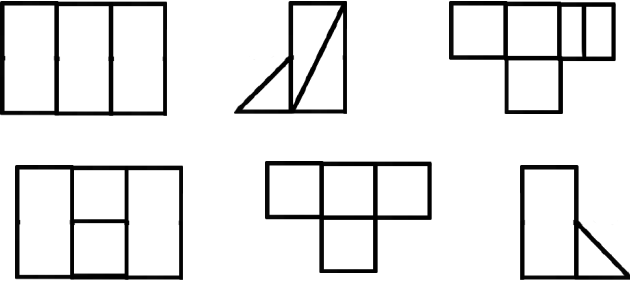
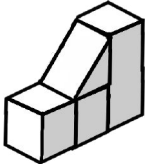
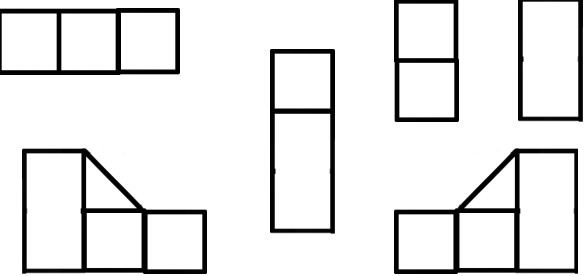
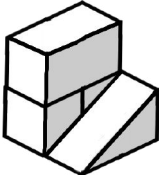
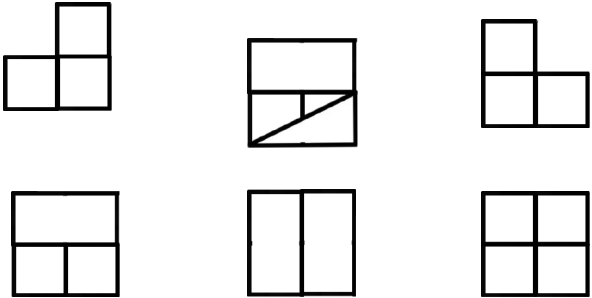
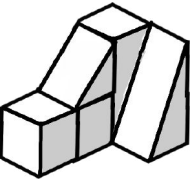
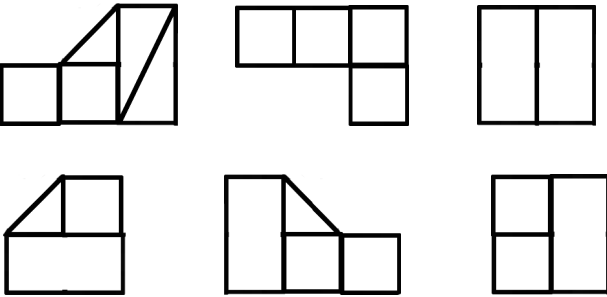
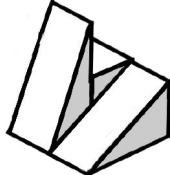
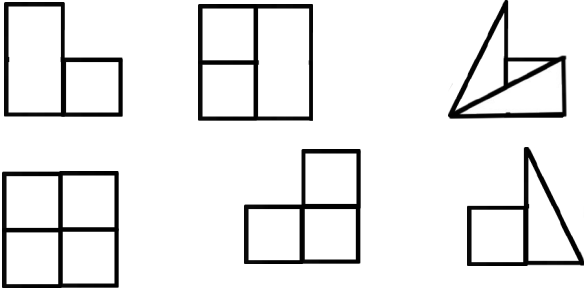
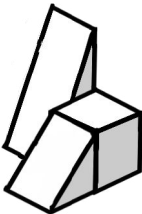
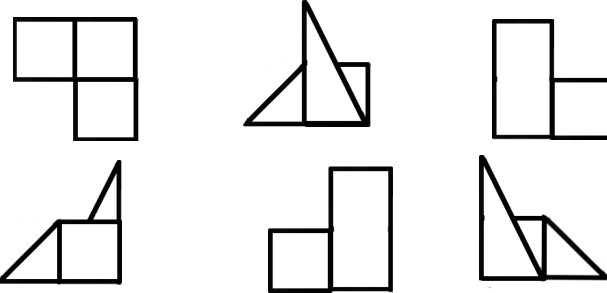
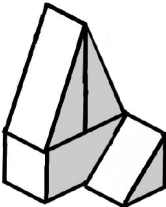
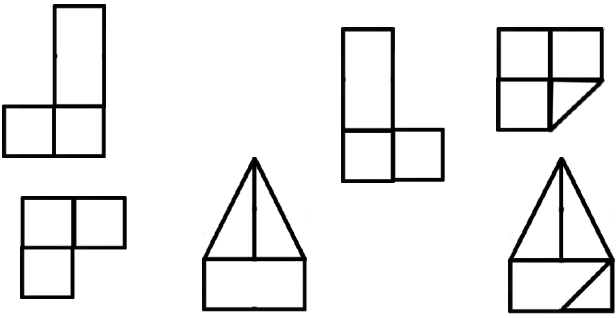



左の積み木をいろいろな方向から見ました。1つだけ見えないものがあります。見つけて○をつけましょう。



左上の絵は動物たちのかけっこのスタートの様子です。応援に駆けつけた人達が見えています。並んだ順番が おかしな写真が1枚あります。見つけて○をつけましょう。

左の積み木をいろいろな方向から見ました。1つだけ見えないものがあります。見つけて○をつけましょう。

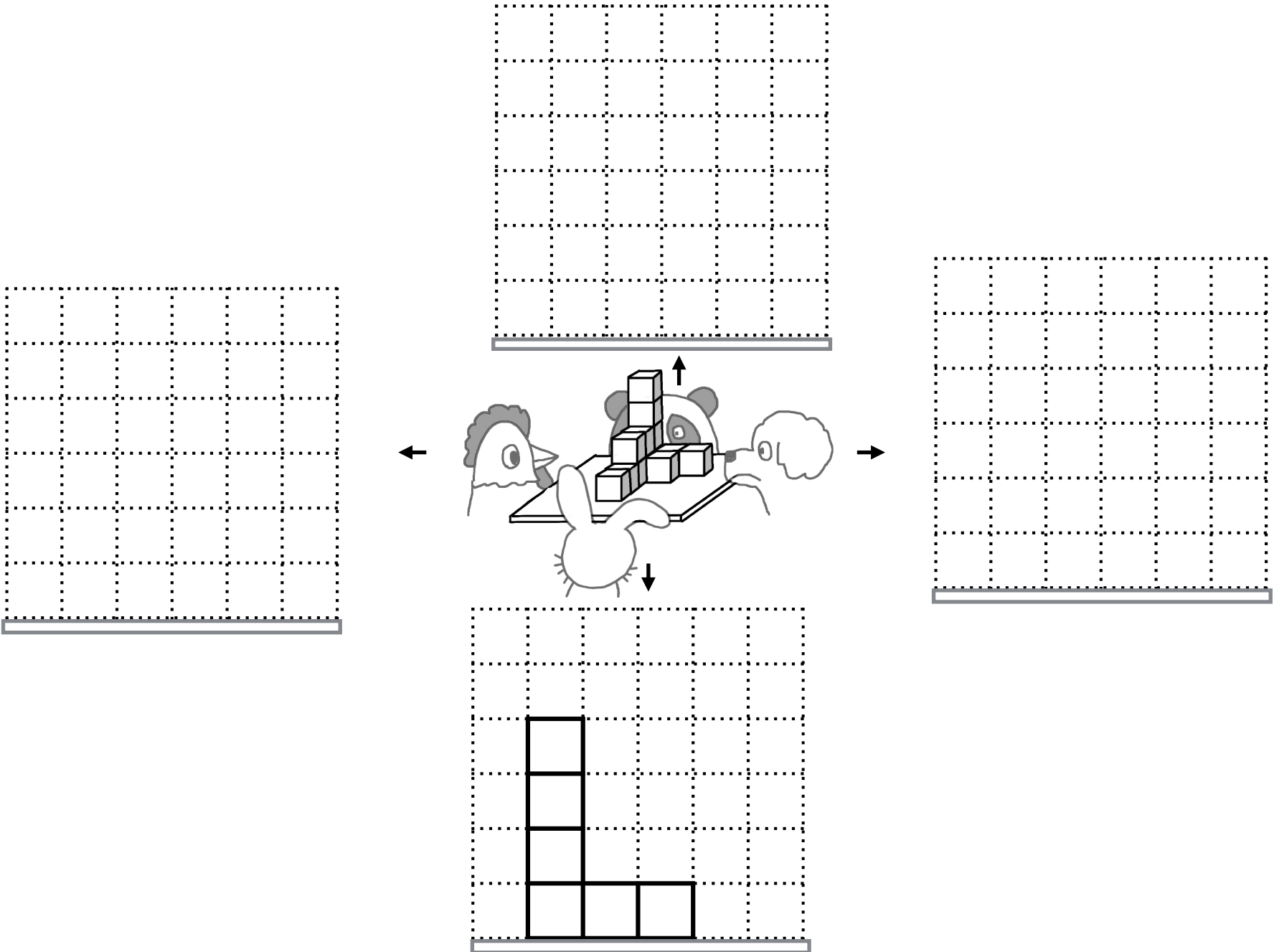


上の絵はどのお友達が見たものでしょうか。そのお友達のお顔に○をつけましょう。



<table border="1"> <tr> <td></td> <td></td> </tr> <tr> <td></td> <td></td> </tr> </table>					<table border="1"> <tr> <td></td> <td></td> </tr> <tr> <td></td> <td></td> </tr> </table>					<table border="1"> <tr> <td></td> <td></td> </tr> <tr> <td></td> <td></td> </tr> </table>					<table border="1"> <tr> <td></td> <td></td> </tr> <tr> <td></td> <td></td> </tr> </table>				
<table border="1"> <tr> <td></td> <td></td> </tr> <tr> <td></td> <td></td> </tr> </table>					<table border="1"> <tr> <td></td> <td></td> </tr> <tr> <td></td> <td></td> </tr> </table>					<table border="1"> <tr> <td></td> <td></td> </tr> <tr> <td></td> <td></td> </tr> </table>					<table border="1"> <tr> <td></td> <td></td> </tr> <tr> <td></td> <td></td> </tr> </table>				

ブタおじさんには机の上に置いてあるあ紙に描かれてある絵はどのように見えていますか。その絵に○をつけましょう。



The central illustration shows a rabbit, a chick, and a bear looking at a stack of blocks on a table. Four arrows point from the stack to four dotted grids: top, bottom, left, and right. The bottom grid shows the block stack from below.

お友達はそれぞれ積み木がどのように見えますか。お手本のウサギさんのように点線のマス目をなぞりましょう。

分野別毎日プリント（四方からの観察）No5-4 解答

分野別毎日プリント（四方からの観察）No5-4 page1 レインボー先生 難易度★★

上の絵はどれが真実か見てください。赤い丸は真実の絵にチェックしましょう。

分野別毎日プリント（四方からの観察）No5-4 page2 レインボー先生 難易度★★

上の絵はどれが真実か見てください。赤い丸は真実の絵にチェックしましょう。

分野別毎日プリント（四方からの観察）No5-4 page3 レインボー先生 難易度★★★

上の絵はどれが真実か見てください。赤い丸は真実の絵にチェックしましょう。

分野別毎日プリント（四方からの観察）No5-4 page4 レインボー先生 難易度★★★★

上の絵はどれが真実か見てください。1つだけ見えないものがあります。見つけてチェックしましょう。

分野別毎日プリント（四方からの観察）No5-4 page5 レインボー先生 難易度★★

上の絵は動物たちの持っているスタンプの様子です。反転に写った人達がいます。赤い丸は動物が 赤いスタンプが 赤いスタンプが 赤いスタンプが 赤いスタンプが 赤いスタンプが 赤いスタンプが 赤いスタンプが 赤いスタンプが 赤いスタンプが

分野別毎日プリント（四方からの観察）No5-4 page6 レインボー先生 難易度★★★★

赤い丸は真実か見えないものから見ました。1つだけ見えないものがあります。見つけてチェックしましょう。

分野別毎日プリント（四方からの観察）No5-4 page7 レインボー先生 難易度★★★★

上の絵はどれが真実か見てください。赤い丸は真実の絵にチェックしましょう。

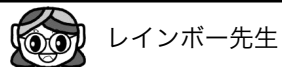
分野別毎日プリント（四方からの観察）No5-4 page8 レインボー先生 難易度★★★★

赤い丸は真実か見えないものから見ました。1つだけ見えないものがあります。見つけてチェックしましょう。

分野別毎日プリント（四方からの観察）No5-4 page9 レインボー先生 難易度★★★★

赤い丸は真実か見えないものから見ました。1つだけ見えないものがあります。見つけてチェックしましょう。

色指定がない物は見やすいように赤色を使っております



レインボー先生