

4～6歳対象

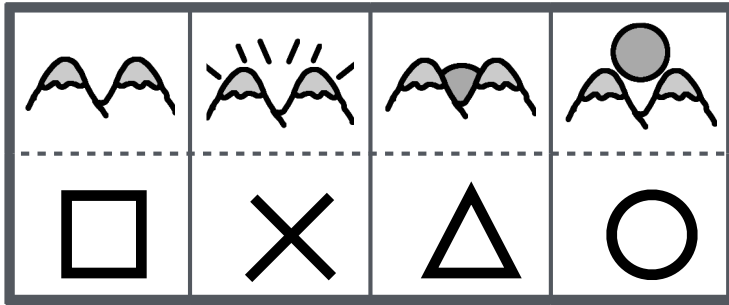
分野別毎日プリント

No 6 - 1 週目

メモ

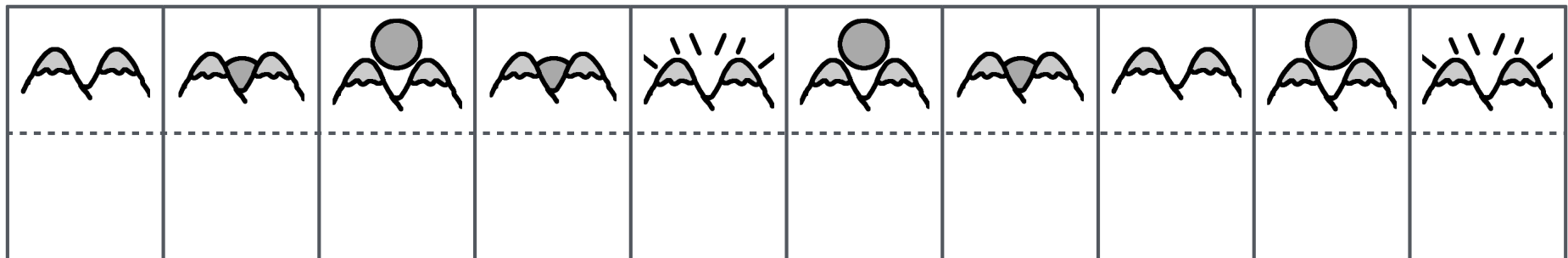
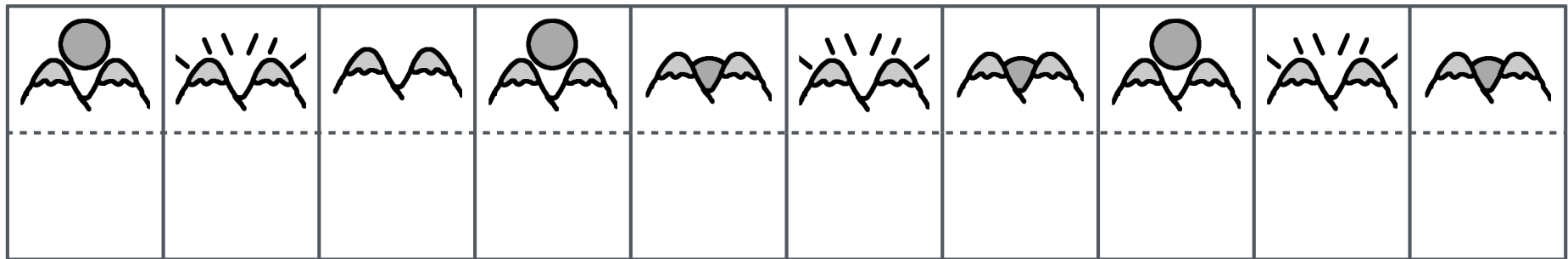
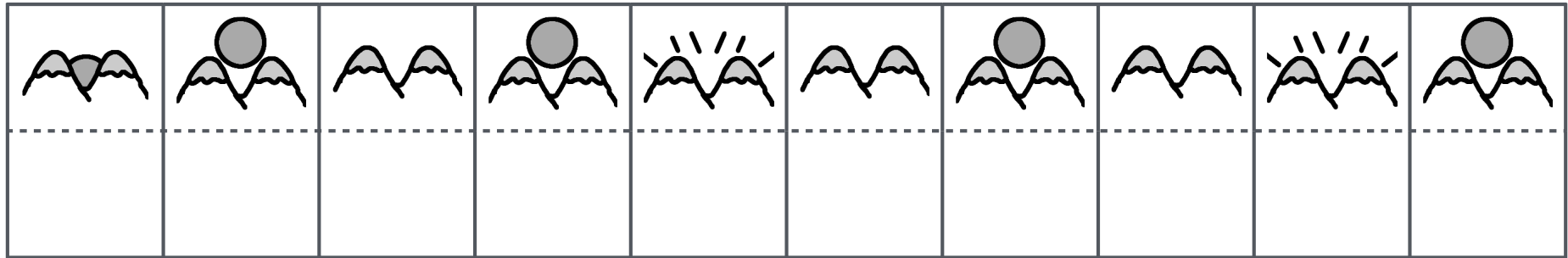


1週間かけて毎日コツコツ 反復コツコツ コツコツやればダイジョウブ








きれいに
はやく
せいかくにね
タイムは2分を目安にどこまで
置き換えることができるかを
見てください

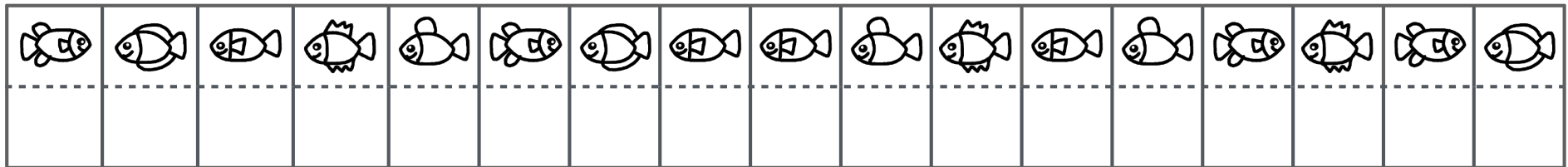
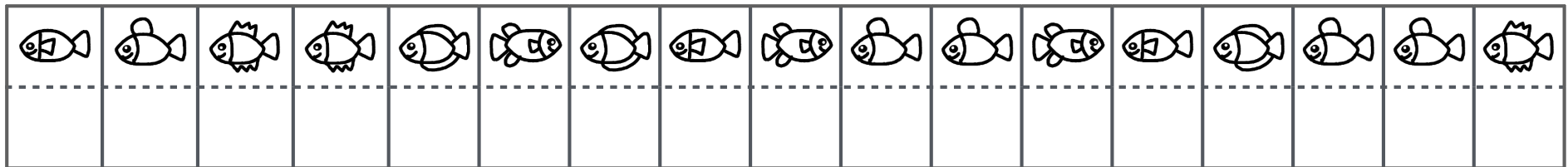
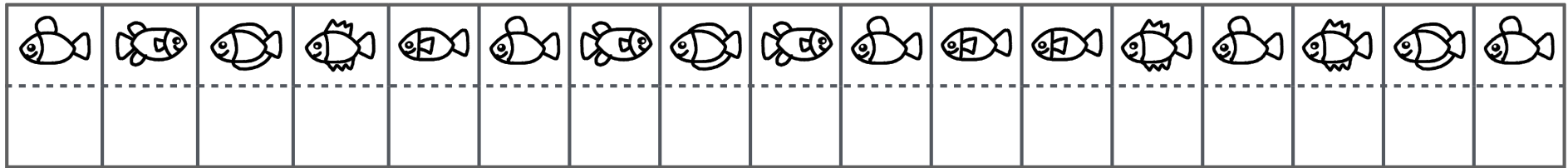
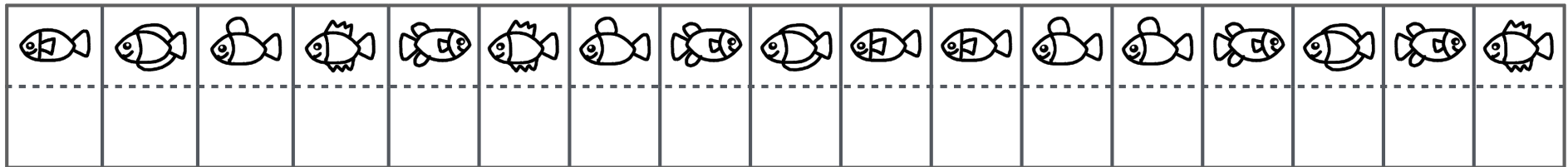
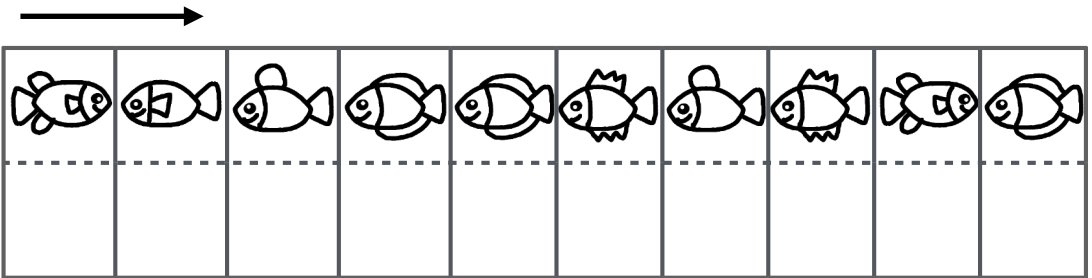

じゅんばんに
かかないといけません




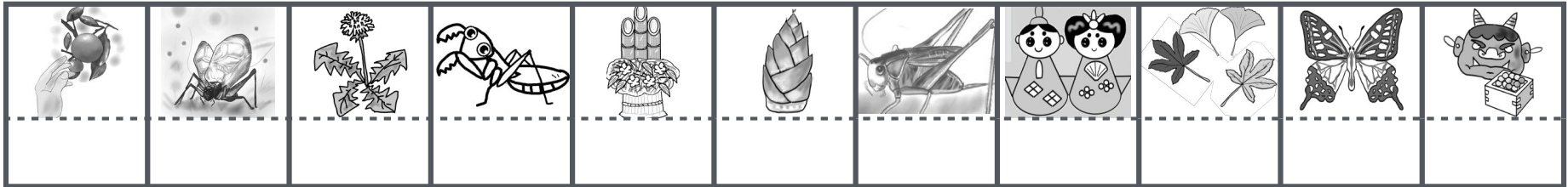
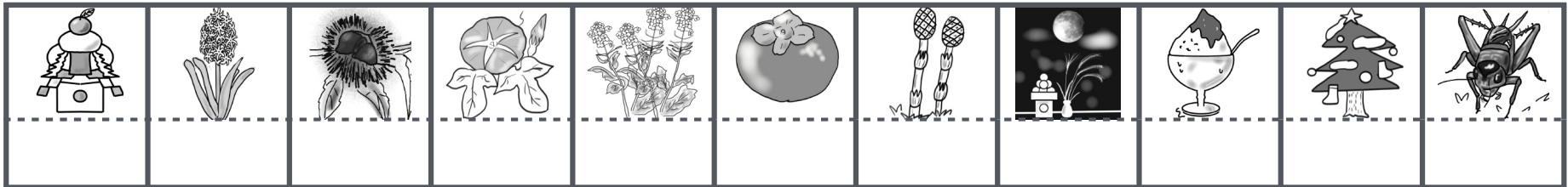

上のお手本どおりに印を書きましょう。



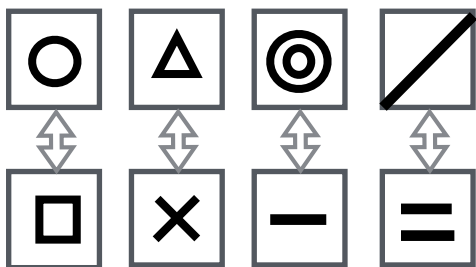
上のお手本どおりに印を書きましょう。



上のお手本どおりに印を書きましょう。

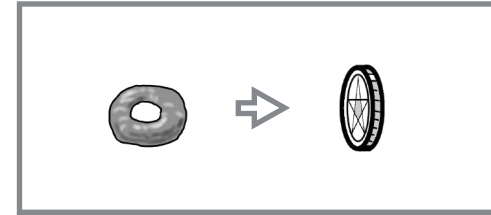
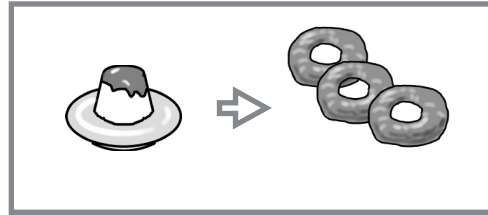
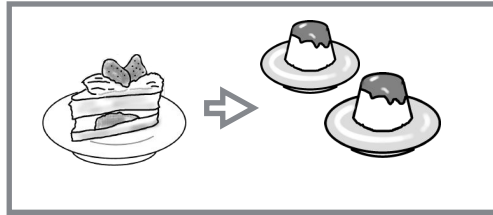



上のお手本どおりに印を書きましょう。





△	○	◎	○	—	△	=	×	▧	□	—	○	◎	△	□
⇕	⇕	⇕	⇕	⇕	⇕	⇕	⇕	⇕	⇕	⇕	⇕	⇕	⇕	⇕
□	□	□	□	□	□	□	□	□	□	□	□	□	□	□
×	△	○	◎	=	□	▧	×	—	□	=	△	—	◎	○
⇕	⇕	⇕	⇕	⇕	⇕	⇕	⇕	⇕	⇕	⇕	⇕	⇕	⇕	⇕
□	□	□	□	□	□	□	□	□	□	□	□	□	□	□
□	×	—	△	▧	=	×	○	△	=	○	□	◎	—	▧
⇕	⇕	⇕	⇕	⇕	⇕	⇕	⇕	⇕	⇕	⇕	⇕	⇕	⇕	⇕
□	□	□	□	□	□	□	□	□	□	□	□	□	□	□


上のお手本はカードです。カードの裏表の印が書いてあります。そのお手本を見てそれぞれのカードの裏の印を書きましょう。





					





					

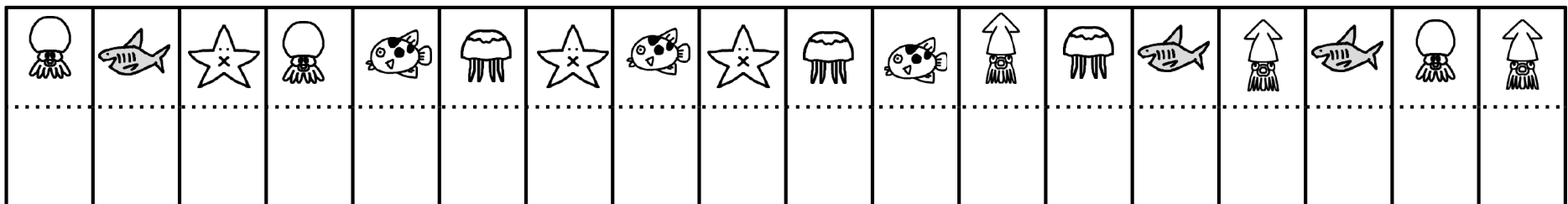
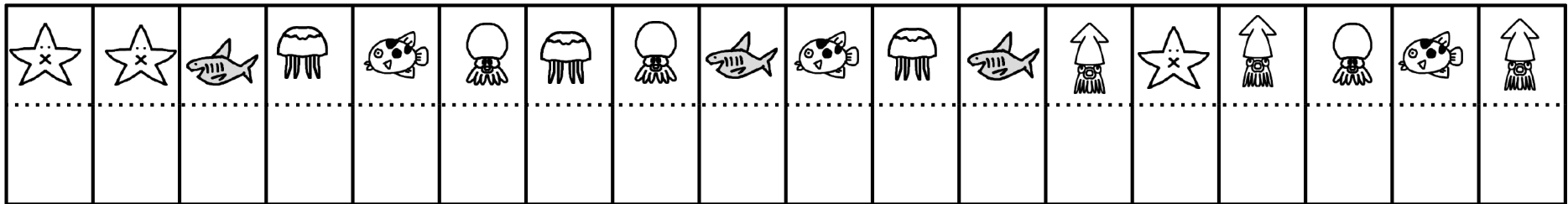
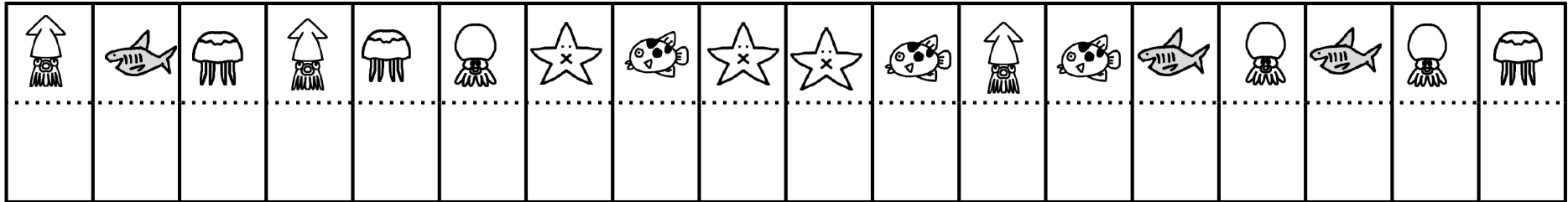


					

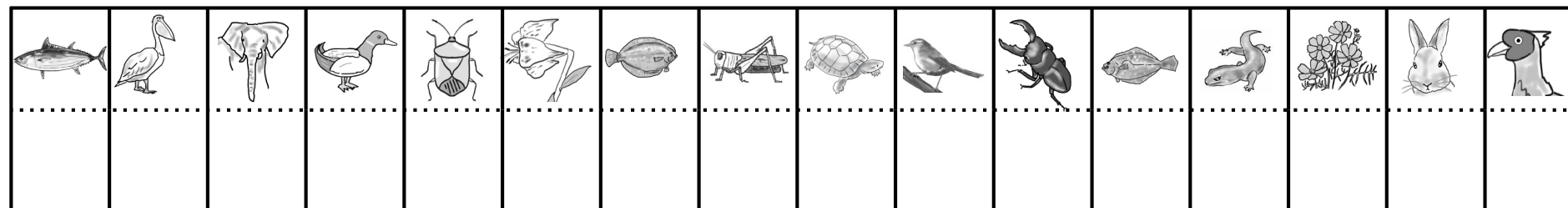
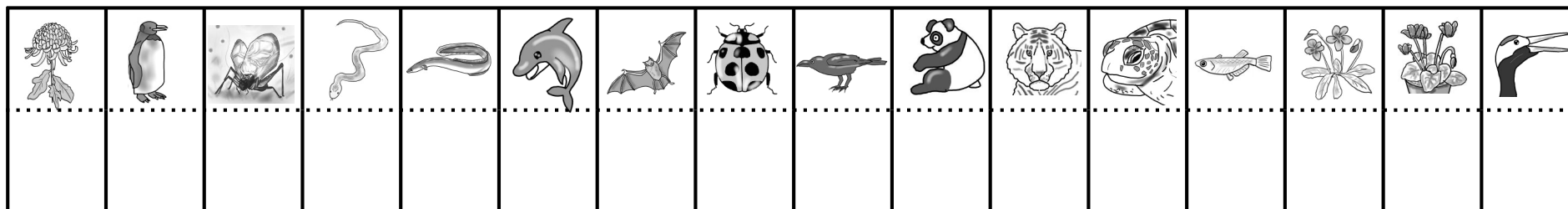
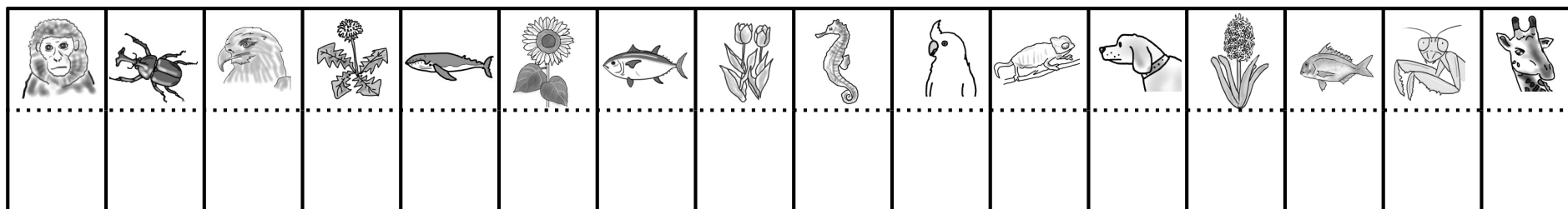

ケーキ1個はプリン2個と交換できます。プリン1個はドーナツ2個と交換できます。ドーナツ1個はコイン1枚と交換できます。ではマス目の上の食べ物はコイン何枚で交換できますか。そのコインの枚数だけマス目に○を書きましょう。



上のお手本どおりに印を書きましょう。



上のお手本どおりに印を書きましょう。



上のお手本どおりに印を書きましょう。

分野別毎日プリント（置き換え・交換）No6-1 解答1

分野別毎日プリント（置き換え・交換）No6-1 page1

レインボー先生 難易度★

きれいに
はやく
せいかくにね
タイムは2分を目安にここまで
置き換えることができるかを
見てください

じゅんばんに
かかないといけません

△	○	□	○	×	□	○	□	×	○
○	×	□	○	△	×	△	○	×	△
□	△	○	△	×	○	△	□	○	×

上のお手本どおりに印を書きましょう。

分野別毎日プリント（置き換え・交換）No6-1 page12

レインボー先生 難易度★★★

○	△	×	□	△	○	×	△	□	×	△	○	×	△	□	×	△	○	×	△
□	×	○	△	×	□	△	○	○	×	□	△	×	○	○	×	□	△	×	○
△	□	○	×	□	△	×	△	□	○	○	×	□	△	×	○	○	×	□	△
×	×	□	○	△	□	△	○	□	×	□	△	×	○	□	×	□	△	×	○

上のお手本どおりに印を書きましょう。

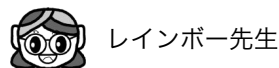
分野別毎日プリント（置き換え・交換）No6-1 page3

レインボー先生 難易度★★★★

○	△	×	□	+	○	△	×	□	+	○	△	×	□	+	○	△	×	□	+
□	△	○	×	+	×	○	+	△	□	□	○	○	+	△	+	×	○	×	△
○	+	△	×	□	○	+	△	+	○	□	□	×	○	×	△	○	×	△	○
□	○	×	×	△	+	△	□	+	○	○	+	□	△	○	○	×	△	○	×
+	△	□	×	○	+	△	□	□	○	×	□	○	+	×	+	△	+	△	+

上のお手本どおりに印を書きましょう。

色指定がない物は見やすいように赤色を使っております



分野別毎日プリント (置き換え・交換) No6-1 解答2

上のお手本どおりに印を書きましょう。

上のお手本はカードです。カードの裏表の印が書いてあります。そのお手本を見てそれぞれのカードの裏の印を書きましょう。

ケーキ1個はプリン2個と交換できます。プリン1個はドーナツ2個と交換できます。ドーナツ1個はコイン1枚と交換できます。ではマス目上の食べ物はコイン何枚で交換できますか。そのコインの枚数だけマス目に○を書きましょう。

色指定がない物は見やすいように赤色を使っております



レインボー先生

上のお手本どおりに印を書きましょう。

上のお手本どおりに印を書きましょう。

上のお手本どおりに印を書きましょう。