

4～6歳対象

分野別毎日プリント

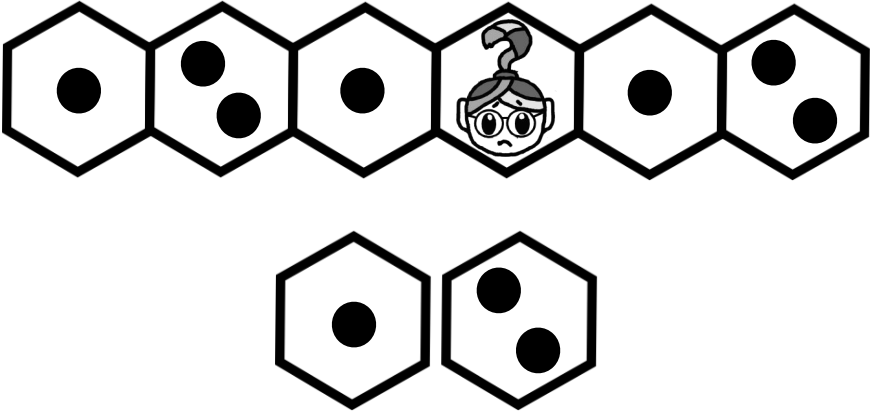


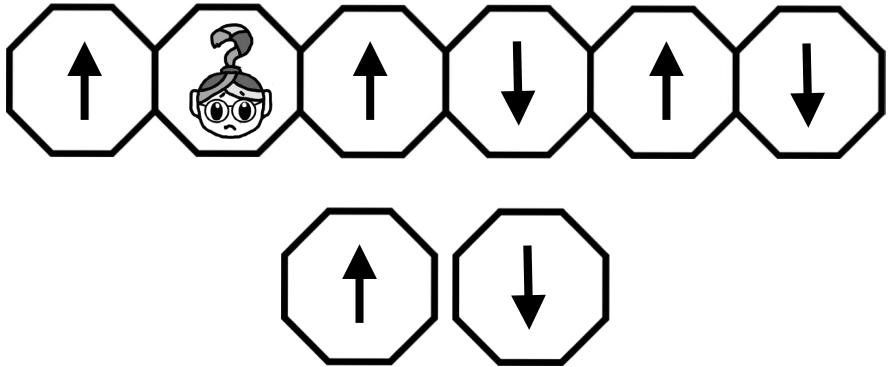
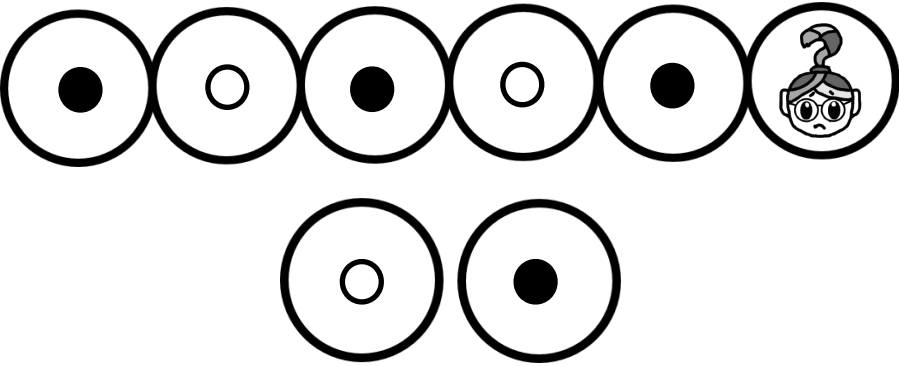

No1-4週目

メモ




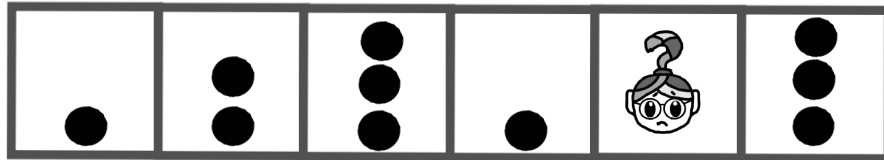

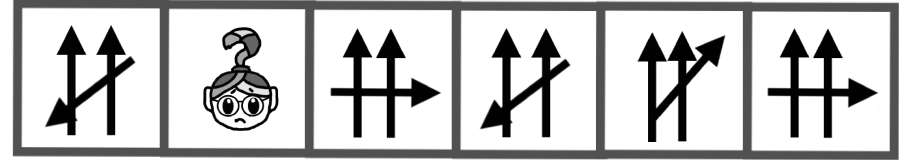



1週間かけて毎日コツコツ 反復コツコツ コツコツやればダイジョウブ

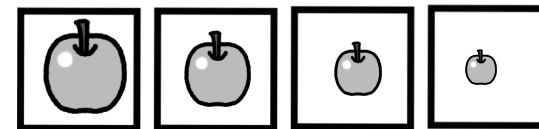
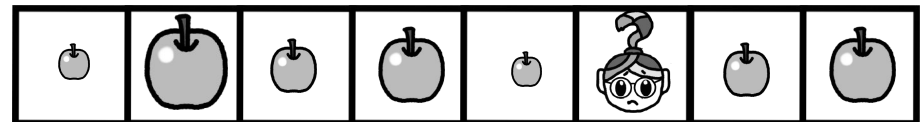
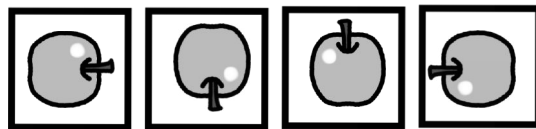
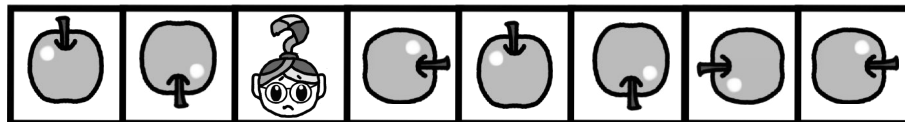
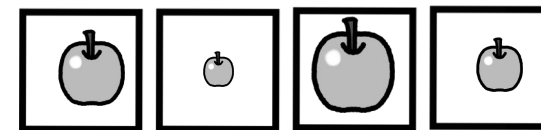

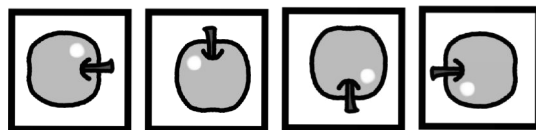

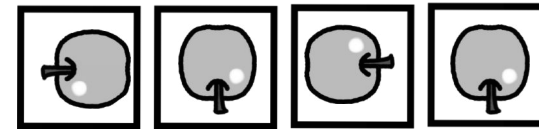
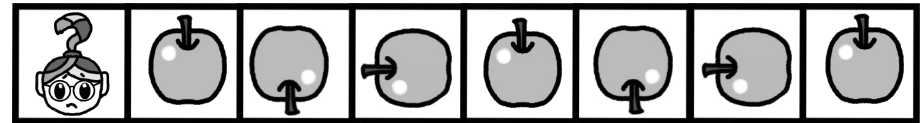
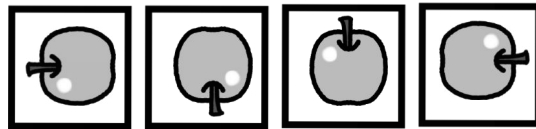
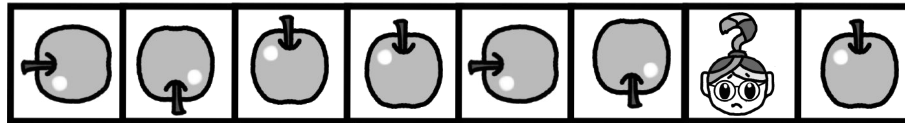


レインボー先生のところにくる形は何でしょうか。下から見つけてその形に赤色で○をつけましょう。



レインボー先生のところにくる形は何でしょうか。下から見つけてその形に赤色で○をつけましょう。




レインボー先生のところにくる形は何でしょうか。下から見つけてその形に赤色で○をつけましょう。



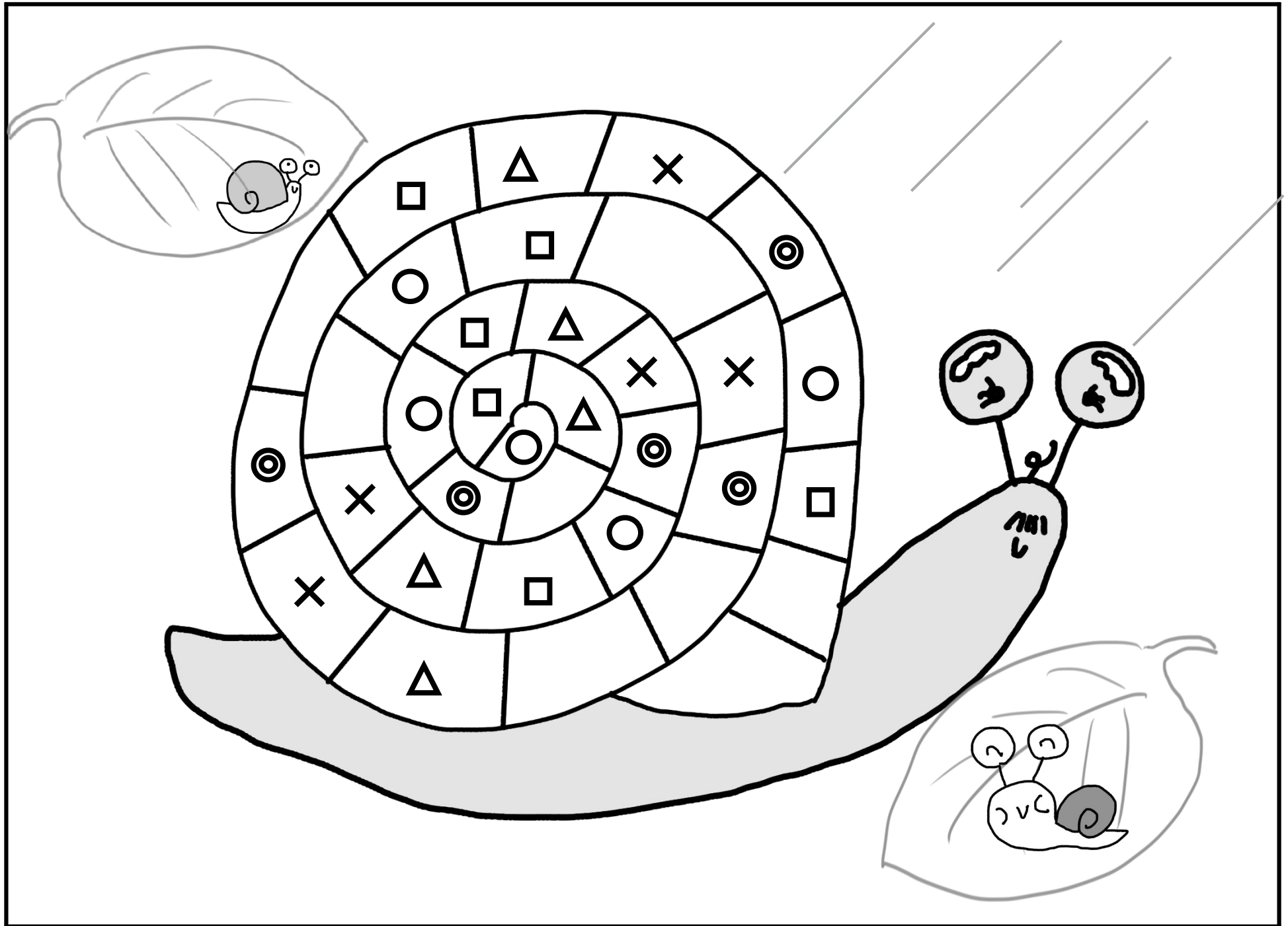
レインボー先生のところにくる形は何でしょう。右から見つけてその形に赤色で○をつけましょう。



レインボー先生のところにくる形は何でしょう。右から見つけてその形に赤色で○をつけましょう。



矢印の空いている所にはどんな形がきますか。青色で書きましょう。

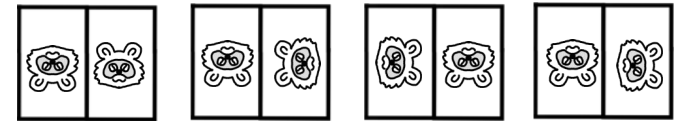

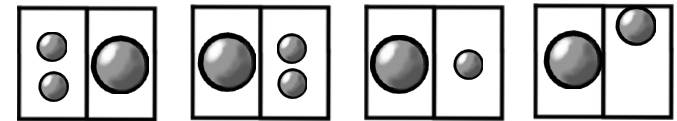
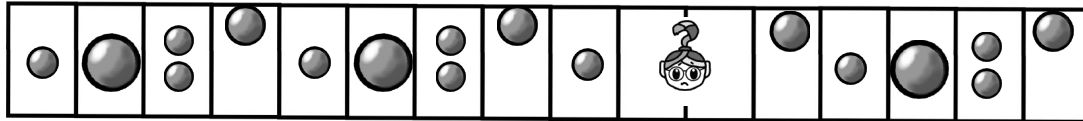




空いている所にはどんな形がきますか。赤色で書きましょう。




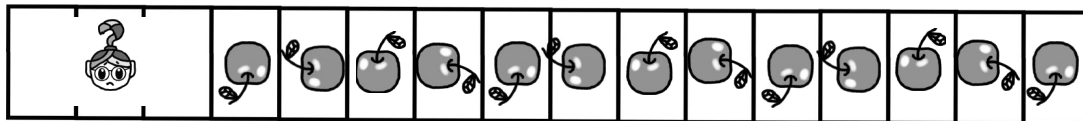


△	□	●	×	+	○	△	□	●	×	+	○
□	●	×	+	○	△	□		×	+	○	△
●	×			△	□		×	+	○		□
×	+	○	△		●	×		○	△	□	●
+	○			●		+		△	□	●	×
○	△	□	●	×		○	△	□	●	×	+
△	□		×	+		△		●	×	+	○
	●	×		○		□		×	+	○	△
●	×	+		△	□	●	×	+	○	△	□

空いている所にはどんな形がきますか。赤色で書きましょう。



ときしおみほとときしおみほと
お

きし きみ きほ しき



レインボー先生のところにくる形は何でしょう。右から見つけてその形に赤色で○をつけましょう。



ある決まり事で並んでいます。最後はそうなるでしょうか。鉛筆で書き足しましょう。

分野別毎日プリント(はいれつかんせい) レインボー先生 難易度★★

レインボー先生のとこにいくる形は何でしょう。下から見つけてその形に赤色で○をつけてみましょう。

2

分野別毎日プリント(はいれつかんせい) レインボー先生 難易度★★

レインボー先生のとこにいくる形は何でしょう。下から見つけてその形に赤色で○をつけてみましょう。

3

分野別毎日プリント(はいれつかんせい) レインボー先生 難易度★★

レインボー先生のとこにいくる形は何でしょう。下から見つけてその形に赤色で○をつけてみましょう。

4

分野別毎日プリント(はいれつかんせい) レインボー先生 難易度★★★

レインボー先生のとこにいくる形は何でしょう。右から見つけてその形に赤色で○をつけてみましょう。

5

分野別毎日プリント(はいれつかんせい) レインボー先生 難易度★★★

レインボー先生のとこにいくる形は何でしょう。右から見つけてその形に赤色で○をつけてみましょう。

6

分野別毎日プリント(はいれつかんせい) レインボー先生 難易度★★★

レインボー先生のとこにいくる形は何でしょう。右から見つけてその形に赤色で○をつけてみましょう。

7

分野別毎日プリント(はいれつかんせい) レインボー先生 難易度★★★★

虫の体の長いところはいろいろな形があります。赤色の数字を見つけてみましょう。

8

分野別毎日プリント(はいれつかんせい) レインボー先生 難易度★★★★

空いている所にどんな形がありますか。赤色で数字を見つけてみましょう。

9

分野別毎日プリント(はいれつかんせい) レインボー先生 難易度★★★★

空いている所にどんな形がありますか。赤色で数字を見つけてみましょう。

10

分野別毎日プリント(けいれつかんせい) レインボー先生 難易度★★★★★

ときしおみほときしおみほと お

11

レインボー先生のとこにくる影は何でしょう。右から数つけてその形に赤色で書いてください。

分野別毎日プリント(けいれつかんせい) レインボー先生 難易度★★★★★

ある決まり事で並んでいます。最後はそうなるでしょうか。鉛筆で書き足しましょう。

12

分野別毎日プリント(けいれつかんせい) レインボー先生 難易度★★★★★

△	□	●	×	≠	○	△	□	●	×	≠	○
□	●	×	≠	○	△	□	×	≠	○	△	
●	×			△	□	×	≠	○		□	
×	≠	○	△		●	×		○	△	□	●
≠	○			●		≠		△	□	●	×
○	△	□	●	×		○	△	□	●	×	≠
△	□		×	≠		△		●	×	≠	○
	●	×		○		□		×	≠	○	△
●	×	≠		△	□	●	×	≠	○	△	□

10

空いている所にはどんな形がきますか。赤色で書きましょ。

斜めに並んでいることに気がつければ簡単です