

# ちょっとこれ1枚やってみてプリント

## No1







長いネーミングで  
ごめんなさい



『あの問題ちゃんと覚えているかしら？』  
一度学習しただけでは覚えていないのが幼児。  
くりかえし学習しても、覚えていないことがあるのが園児。  
気になる我が子の定着度  
食事の支度をしている時  
「ちょっと一枚やってみて～」  
定期的に  
「ちょっと一枚やってみて～」




「ちょっとこれ1枚やってみてプリントNo1」




左の絵の数と右の絵の数を合わせると全部で幾つになりますか。その数だけ右の箱の中に赤色で○を書いて下さい。



シーソーに乗っているお友達の中で、1番重たいお友達に○を1番軽いお友達に×を、下のお友達の顔に青色で付けなさい。




お饅頭が箱に綺麗に並んで入っています。ふたで隠れているお饅頭はいくつですか。その数だけ下のわくに緑色で○を書きなさい。






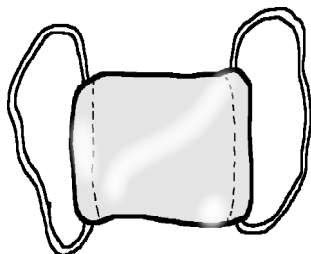



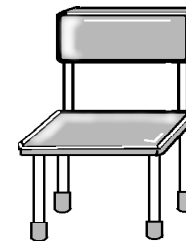
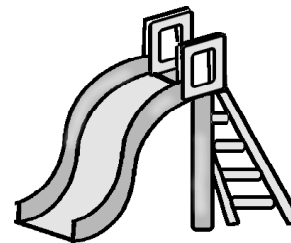
「ちょっとこれ1枚やってみてプリントNo1」

The image shows a 2x4 grid of glasses. On the left side, a cartoon cat is holding a large glass filled with juice. The top row contains four glasses with the following liquid levels: 1. A small amount of liquid at the bottom. 2. A medium amount of liquid, about halfway up. 3. A very small amount of liquid at the bottom. 4. A large amount of liquid, about three-quarters full. The bottom row contains four glasses with the following liquid levels: 1. A medium amount of liquid, about halfway up. 2. A small amount of liquid at the bottom. 3. A large amount of liquid, about three-quarters full. 4. A large amount of liquid, about three-quarters full. Each glass in the grid has a small black paw print icon centered below it.

ネコちゃんが持っているジュースを2つのコップに分けました。上のどのコップと下のどのコップになったでしょうか。鉛筆で結びましょう。



「ちょっとこれ1枚やってみてプリントNo1」







**訂正くま**

しりとりをします。『~~キク~~』から初めて全部の絵を青色で線結びをして下さい。ただし絵の上に線を引かないで下さい。











「ちょっとこれ1枚やってみてプリントNo1」



コアラくんが一番上になると、みんなから見て右にくるお友達に○を左にくるお友達に×を下の箱に緑色で書きなさい。



「ちょっとこれ1枚やってみてプリントNo1」












男の子とお城が池に映っています。ただししいのはどれでしょうか。赤の○をつけましょう。





「ちょっとこれ1枚やってみてプリントNo1」



男の子と時計が鏡に映りました。どのように映りましたか。青の○をつけましょう。





「ちょっとこれ1枚やってみてプリントNo1」

おサルがキノコ狩りをしながら道を進みます。最初から袋には3個キノコが入っています。出てきた時にはキノコは7個になっていました。どの道を歩きましたか。茶色の線を引いて下さい。後戻りはだめですよ。



# 「ちょっとこれ1枚やってみてプリント1」 解答

1

左の船の数と右の船の数を合わせると全部で同じになりますか。その数だけ右の船の中に赤色で○を書いて下さい。

2

シーソーに乗っているお友達の中で、1番重たいお友達に○を1番軽いお友達に×を、下のお友達の顔に青色で付けなさい。

3

お雛様が箱に詰めて入っています。ふたで隠れているお雛はいくつですか。その数だけ下のわくに緑色で○を書きなさい。

4

ネコちゃんが持っているジュースをわのグラスに分けました。上のどのグラスと下のどのグラスに比べても、量が同じでしょうか。

5

しろとりをします。『キタ』から始めて全部の絵を青色で線結びして下さい。ただし絵の上には線を引かないで下さい。

6

コアラくんが一番上にくると、みんなから見て右に見えるお友達に○を左に見えるお友達に×を下の箱に緑色で書きなさい。

7

男の子とお姉さんが遊んでいます。ただしいのはおどろけましょう。赤の○をつけましょう。

8

男の子と時計が顔に映りました。どのように映りましたが、青の○をつけましょう。

9

お姉さんがキノコ狩りをしながら道を歩きます。最初から真ん中までキノコが入っています。出てきた後にはキノコは7個になりました。どの道を歩きましたか。黄色の線を引いて下さい。無難りはおどろけです。