

ちょっとこれ1枚やってみてプリント

No11

『あの問題ちゃんと覚えているかしら』
気になる我が子の学習定着度
食事の支度をしている時に
「ちょっと1枚やってみて〜」
定期的に
「ちょっと1枚やってみて〜」

長いネーミングで
ごめんなさい




数の増減
特集



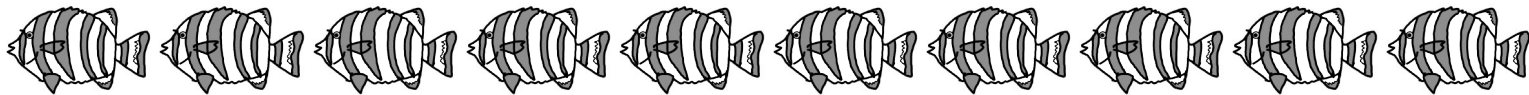
1




2



3



4



①プリンが6つ準備しましたが、スプーンが2本しかありません。幾つスプーンは足りませんかその数だけ絵に○をつけましょう。


②昨日はカボチャが2個、今日は7個できました。全部で何個カボチャはとれましたか。その数だけ絵に○をつけましょう。

③釣りに行きました。ぼくは5匹、お父さんは2匹、お母さんは3匹釣れました。全部で何匹釣れたでしょう。その数だけ絵に○をつけましょう。

④7枚あった宿題プリントがあと3枚残になりました。何枚終わりましたか。その数だけ絵に○をつけましょう。



1



3



2



4



- ① たける君はおもちゃの自動車を6台持っていましたが、お友達に2台あげました。今何台持っているでしょうか。その数だけ○を書きましょう。
- ② もえちゃんが持っているクマの縫いぐるみは3つでしたが、誕生日のプレゼントに4つもを貰いました。全部で幾つになったでしょうか。その数だけ○を書きましょう。
- ③ としお君はメダカを9匹飼っていましたが、6匹死んでしまいました。水槽には今何匹メダカはいますか。その数だけ○を書きましょう。
- ④ リスがドングリを10個を運んで巣に戻りましたが、数えると7個しかありません。何個ドングリを落としましたか。その数だけ○を書きましょう。



1




3




2




4




- ①チューリップの花が6つ咲きましたが2つ枯れてしまいました。でも今日また1つ咲きました。今幾つ咲いていますか。その数だけ○を書きましょう。
- ②けんた君はカードを4枚持っています。よしお君に3枚貰いみかちゃんに1枚あげました。けんた君のカードは何枚になりましたか。その数だけ○を書きましょう。
- ③赤ずきんちゃんはお花を8本摘みましたがオオカミに6本取られました。でもウサギさんが2本くれました。赤ずきんちゃんのお花は何本になりましたか。その数だけ○を書きましょう。
- ④カブトムシを5匹カゴに入れていましたが4匹も逃げてしまいました。でもお兄ちゃんが3匹カゴに入れてくれました。カゴの中にはカブトムシは何匹入っていますか。かの数だけ○を書きましょう。




A large empty rectangular box for writing.



A large empty rectangular box for writing.



A large empty rectangular box for writing.



A large empty rectangular box for writing.

男の子と女の子が同じ数だけお饅頭を持っています。女の子が2個男の子にあげました。
男の子と女の子のお饅頭の数違いは幾つにまりましたか。その数だけ○を書きましょう。



Illustration of a boy and a girl with 3 buns between them.

Rock-Paper-Scissors hand gestures:

- Rock vs Paper
- Paper vs Scissors
- Scissors vs Rock

Empty box with a boy's face icon for recording the result.

Illustration of a boy and a girl with 6 buns between them.

Rock-Paper-Scissors hand gestures:

- Rock vs Paper
- Paper vs Scissors
- Scissors vs Rock

Empty box with a boy's face icon for recording the result.

Illustration of a boy and a girl with 5 buns between them.

Rock-Paper-Scissors hand gestures:

- Rock vs Paper
- Rock vs Rock
- Paper vs Scissors
- Rock vs Paper

Empty box with a boy's face icon for recording the result.

Illustration of a boy and a girl with 8 buns between them.

Rock-Paper-Scissors hand gestures:

- Paper vs Paper
- Rock vs Paper
- Paper vs Scissors
- Rock vs Paper
- Rock vs Paper

Empty box with a boy's face icon for recording the result.

男の子と女の子が上のお饅頭を同じ数だけ持っています。ジャンケンで勝つと2個貰えます。負ければ2個あげないといけません。最後に男の子は何個になりましたか。その数だけ○を書きましょう。



1



3



2







4



- ① 駐車場に車が2台ありました。1台出ていきました。今ある駐車場の車のタイヤの数は全部でいくつですか。その数だけ、○を書きましょう。
- ② 駐車場に車が3台ありました。1台出ていきました。今ある駐車場の車のタイヤの数は全部でいくつですか。その数だけ、○を書きましょう。
- ③ 駐車場に車が2台ありました。1台出ていきましたがすぐに1台入ってきました。今ある駐車場の車のタイヤの数は全部でいくつですか。その数だけ、○を書きましょう。
- ④ 駐車場に車が6台ありました。4台出ていきましたがすぐに1台入ってきました。今ある駐車場の車のタイヤの数は全部でいくつですか。その数だけ、○を書きましょう。




<p>1</p>  	<p>3</p> 
<p>2</p>  	<p>4</p> 

- ①公園で男の子が2人、女の子が2人遊んでいます。そのうち1人がお家に帰りました。今公園に残っている子どもたちに、1個ずつ飴をあげるには、飴はいくつありますか。その数だけ○を書きましょう。
- ②公園で男の子が3人、女の子が2人遊んでいます。そのうち1人がお家に帰りました。今公園に残っている子どもたちに、1個ずつ飴をあげるには、飴はいくつありますか。その数だけ○を書きましょう。
- ③公園で男の子が2人、女の子が1人遊んでいます。そのうち1人がお家に帰りました。今公園に残っている子どもたちに、2個ずつ飴をあげるには、飴はいくつありますか。その数だけ○を書きましょう。
- ④公園で男の子が4人、女の子が2人遊んでいます。そのうち2人がお家に帰りました。今公園に残っている子どもたちに、2個ずつ飴をあげるには、飴はいくつありますか。その数だけ○を書きましょう。



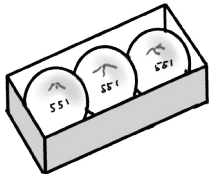
1



3



2



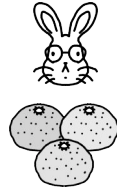

4



- ①肉まんが2個入った箱が2箱ありました。よしお君がその中の肉まんを1個食べました。残った肉まんは全部でいくつですか。その数だけ○を書きましょう。
- ②肉まんが3個入った箱が2箱ありました。よしお君がその中の肉まんを2個食べました。残った肉まんは全部でいくつですか。その数だけ○を書きましょう。
- ③肉まんが4個入った箱が2箱ありました。よしお君がその中の肉まんを3個食べました。残った肉まんは全部でいくつですか。その数だけ○を書きましょう。
- ④肉まんが6個入った箱が2箱ありました。よしお君がその中の肉まんを3個食べました。残った肉まんは全部でいくつですか。その数だけ○を書きましょう。





1



Blank rectangular box for problem 1.

3





Blank rectangular box for problem 3.

2



Blank rectangular box for problem 2.

4



Blank rectangular box for problem 4.

① クマさんとウサギさんは、同じ数のミカンを持っています。ウサギさんクマさんに2個あげましたが、クマさんは1個返してくれました。今持っているクマさんのミカンは、ウサギさんよりいくつ多いですか。その数だけ○を書きましょう。

② パンダさんとキツネさんは、同じ数のリンゴを持っています。キツネさんパンダさんに3個あげましたが、パンダさんは1個返してくれました。今持っているパンダさんのリンゴは、キツネさんよりいくつ多いですか。その数だけ○を書きましょう。

③ ウシさんとブタさんは、同じ数のバナナを持っています。ブタさんウシさんに4個あげましたが、ウシさんは2個返してくれました。今持っているウシさんのバナナは、ブタさんよりいくつ多いですか。その数だけ○を書きましょう。

④ ゾウさんとネコさんは、同じ数のイチゴを持っています。ネコさんゾウさんに5個あげましたが、ゾウさんは2個返してくれました。今持っているゾウさんのイチゴは、ネコさんよりいくつ多いですか。その数だけ○を書きましょう。



「ちょっとこれ」枚やってみてプリントNo11」解答

「ちょっとこれ」枚やってみてプリントNo11」

1 2 3 4

①プリンをもつ順番しましたが、スプーンが2本しかありません。残ったスプーンは足りますかその数だけ絵の○をつけましょう。
②おはじかボウリングが2個、今日は7個できました。全部で何個かボウリングはどれくらいしたか、その数だけ絵の○をつけましょう。
③おりに行きました。ぼくは5回、まつきさんは2回、お母さんは3回おりに行きました。全部で何回おりに行きましたか。
④7枚あったお宝ハンカチがあと5枚残っています。何枚使ったか、その数だけ絵の○をつけましょう。

レインボー先生

「ちょっとこれ」枚やってみてプリントNo11」

1 3 2 4

①おはじかボウリングの自動車を6台持っていますが、お友達に2台あげました。今も持っているでしょうか。その数だけ○を書きましょう。
②おはじかボウリングの魚が持っているタマを5つ食べたが、お友達のおしんぼにも5つ食べた。全部で何個か食べたでしょうか。その数だけ○を書きましょう。
③おはじかボウリングの女の子が持っているお宝ハンカチが5枚あります。その数だけ○を書きましょう。
④おはじかボウリングの女の子が持っているお宝ハンカチが5枚あります。その数だけ○を書きましょう。

レインボー先生

「ちょっとこれ」枚やってみてプリントNo11」

1 3 2 4

①おはじかボウリングの葉っぱが2枚ありますが、お友達に1枚あげました。今も持っているでしょうか。その数だけ○を書きましょう。
②おはじかボウリングのクローバーが持っているお宝ハンカチが5枚あります。その数だけ○を書きましょう。
③おはじかボウリングの女の子が持っているお宝ハンカチが5枚あります。その数だけ○を書きましょう。
④おはじかボウリングの女の子が持っているお宝ハンカチが5枚あります。その数だけ○を書きましょう。

レインボー先生

「ちょっとこれ」枚やってみてプリントNo11」

1 2 3 4

①おはじかボウリングの女の子が持っているお宝ハンカチが5枚あります。その数だけ○を書きましょう。
②おはじかボウリングの女の子が持っているお宝ハンカチが5枚あります。その数だけ○を書きましょう。
③おはじかボウリングの女の子が持っているお宝ハンカチが5枚あります。その数だけ○を書きましょう。
④おはじかボウリングの女の子が持っているお宝ハンカチが5枚あります。その数だけ○を書きましょう。

レインボー先生

「ちょっとこれ」枚やってみてプリントNo11」

1 2 3 4

①おはじかボウリングの女の子が持っているお宝ハンカチが5枚あります。その数だけ○を書きましょう。
②おはじかボウリングの女の子が持っているお宝ハンカチが5枚あります。その数だけ○を書きましょう。
③おはじかボウリングの女の子が持っているお宝ハンカチが5枚あります。その数だけ○を書きましょう。
④おはじかボウリングの女の子が持っているお宝ハンカチが5枚あります。その数だけ○を書きましょう。

レインボー先生

「ちょっとこれ」枚やってみてプリントNo11」

1 3 2 4

①おはじかボウリングの女の子が持っているお宝ハンカチが5枚あります。その数だけ○を書きましょう。
②おはじかボウリングの女の子が持っているお宝ハンカチが5枚あります。その数だけ○を書きましょう。
③おはじかボウリングの女の子が持っているお宝ハンカチが5枚あります。その数だけ○を書きましょう。
④おはじかボウリングの女の子が持っているお宝ハンカチが5枚あります。その数だけ○を書きましょう。

レインボー先生

「ちょっとこれ」枚やってみてプリントNo11」

1 3 2 4

①おはじかボウリングの女の子が持っているお宝ハンカチが5枚あります。その数だけ○を書きましょう。
②おはじかボウリングの女の子が持っているお宝ハンカチが5枚あります。その数だけ○を書きましょう。
③おはじかボウリングの女の子が持っているお宝ハンカチが5枚あります。その数だけ○を書きましょう。
④おはじかボウリングの女の子が持っているお宝ハンカチが5枚あります。その数だけ○を書きましょう。

レインボー先生

「ちょっとこれ」枚やってみてプリントNo11」

1 3 2 4

①おはじかボウリングの女の子が持っているお宝ハンカチが5枚あります。その数だけ○を書きましょう。
②おはじかボウリングの女の子が持っているお宝ハンカチが5枚あります。その数だけ○を書きましょう。
③おはじかボウリングの女の子が持っているお宝ハンカチが5枚あります。その数だけ○を書きましょう。
④おはじかボウリングの女の子が持っているお宝ハンカチが5枚あります。その数だけ○を書きましょう。

レインボー先生

「ちょっとこれ」枚やってみてプリントNo11」

1 3 2 4

①おはじかボウリングの女の子が持っているお宝ハンカチが5枚あります。その数だけ○を書きましょう。
②おはじかボウリングの女の子が持っているお宝ハンカチが5枚あります。その数だけ○を書きましょう。
③おはじかボウリングの女の子が持っているお宝ハンカチが5枚あります。その数だけ○を書きましょう。
④おはじかボウリングの女の子が持っているお宝ハンカチが5枚あります。その数だけ○を書きましょう。

レインボー先生